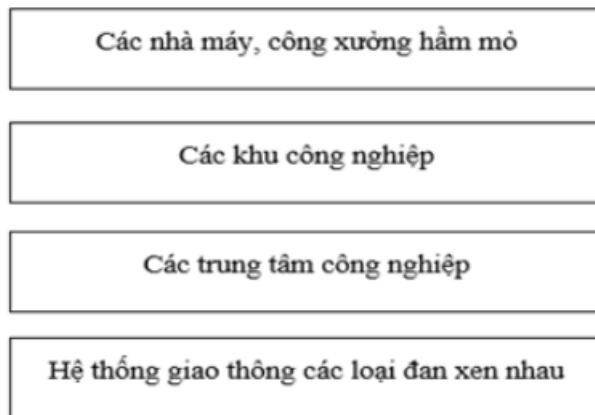


Chúng tôi xin giới thiệu đến học sinh bộ tài liệu giải sách bài tập Địa Lí 7 Bài 15: Hoạt động công nghiệp ở đới ôn hòa có đáp án và lời giải hay cho các câu hỏi trong sách bài tập môn Địa lớp 7. Hỗ trợ học sinh ôn tập, nắm chắc phương pháp giải các dạng bài tập. Nội dung chi tiết học sinh xem tại đây.

**Bài 1 trang 35 SBT Địa Lí 7**

Sử dụng các ô chữ dưới đây để lập một sơ đồ và đặt tên cho sơ đồ đó.



**Lời giải:**



**Bài 2 trang 35 SBT Địa Lí 7**

Hãy ghi chữ Đ vào ý em cho là đúng.

Công nghệ chế biến

a) Bao gồm : công nghiệp luyện kim, cơ khí, hóa chất, vật liệu xây dựng...

b) Là ngành công nghiệp có vai trò biến đổi nguyên liệu thành các sản phẩm.

**Lời giải:**

Công nghệ chế biến

- a) Bao gồm : công nghiệp luyện kim, cơ khí, hóa chất, vật liệu xây dựng... ( Đ )
- b) b) Là ngành công nghiệp có vai trò biến đổi nguyên liệu thành các sản phẩm.

**Bài 3 trang 35 SBT Địa Lí 7**

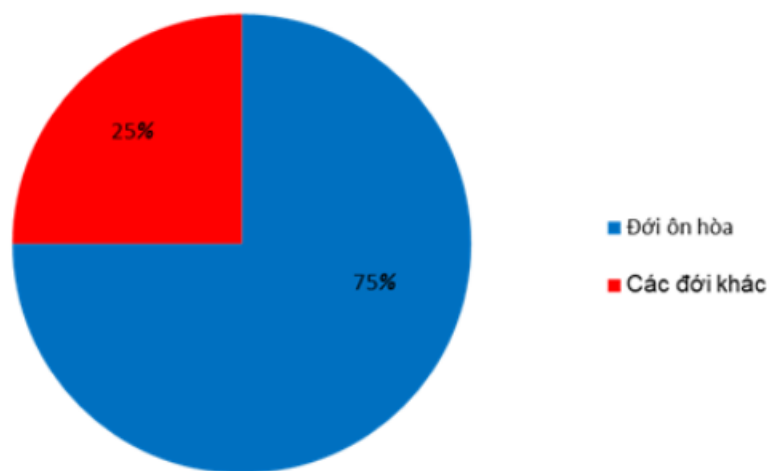
Dựa vào câu dưới đây:

“Hoạt động công nghiệp ở đới ôn hòa ngày nay đã chiếm 3/4 tổng sản phẩm công nghiệp của toàn thế giới.

- a) Hãy vẽ biểu đồ hình tròn biểu diễn tổng sản phẩm công nghiệp của đới ôn hòa so với thế giới.
- b) Kết hợp với vốn hiểu biết, nêu nhận xét về vai trò của ngành công nghiệp đới ôn hòa với toàn thế giới.

**Lời giải:**

a)

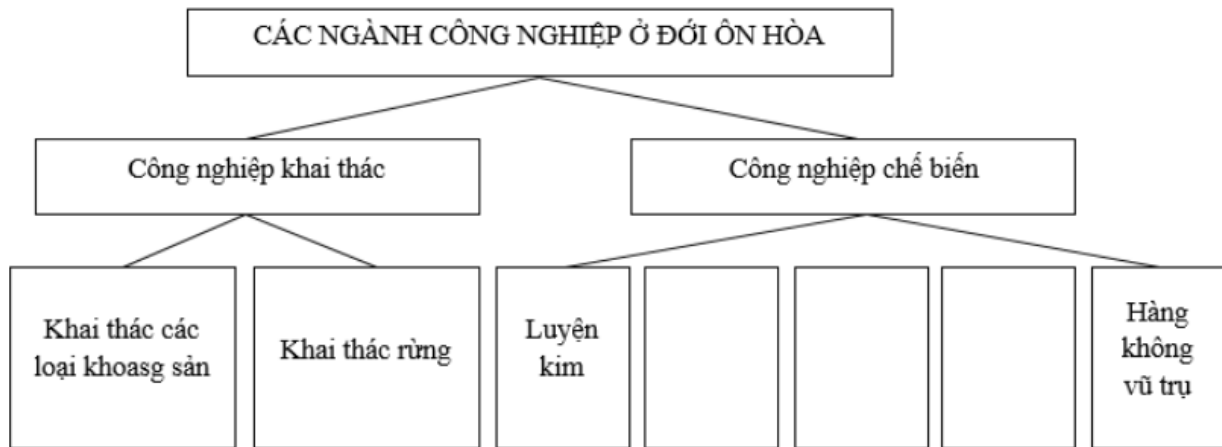


b) - Ngành công nghiệp biến đổi các nguyên liệu, nhiên liệu từ thiên nhiên để cung cấp cho các ngành công nghiệp chế biến, thị trường tiêu dùng trong nước và xuất khẩu.

- Ngành chiếm 3/4 sản phẩm công nghiệp của thế giới nên nắm giữ vai trò quan trọng, cung cấp sản phẩm cho toàn cầu, chi phối về mặt kinh tế xã hội của thế giới.
- Các nước công nghiệp hàng đầu thế giới như: Hoa Kỳ, Nhật Bản, Liên Bang Nga, Anh, Pháp, Canada,...

**Bài 4 trang 36 SBT Địa Lí 7**

Dựa vào SGK và kiến thức đã học, hãy hoàn thành sơ đồ dưới đây:



Qua sơ đồ trên, kết hợp với SGK và vốn hiểu biết, nêu nhận xét về sự phân bố của các ngành công nghiệp khai thác và các ngành công nghiệp chế biến ở đới ôn hòa.

**Lời giải:**



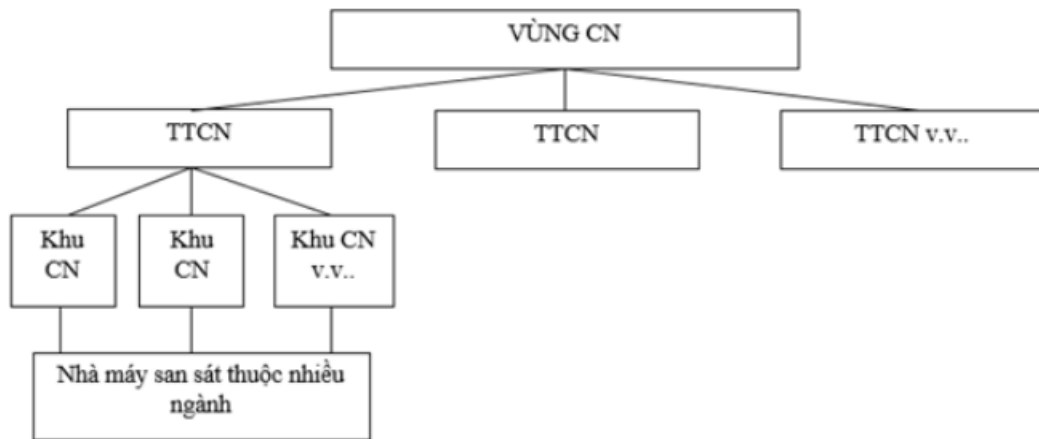
- Công nghiệp khai thác phân bố ở những vùng tập trung nhiều khoáng sản như vùng Đông Bắc Hoa Kỳ, vùng núi U-ran và Xi-bia của LB Nga hoặc vùng rừng như Phần Lan, Canada,...

- Công nghiệp chế biến là thế mạnh nổi bật và hết sức đa dạng, từ các ngành truyền thống đến các ngành hiện đại. Phần lớn nguyên liệu nhập từ đới nóng.

- Hoạt động công nghiệp ở đới ôn hòa ngày nay chiếm 3/4 tổng sản phẩm công nghiệp toàn thế giới. Các nước công nghiệp phát triển như Hoa Kỳ, Nhật Bản, Đức, LB Nga...

**Bài 5 trang 37 SBT Địa Lí 7**

Dựa vào sơ đồ dưới đây và vốn hiểu biết, hãy mô tả cảnh quan (quang cảnh) một vùng công nghiệp.



**Lời giải:**

Vùng công nghiệp bao gồm các trung tâm công nghiệp, trong các trung tâm công nghiệp bao gồm nhiều khu công nghiệp nhỏ. Thuộc các khu công nghiệp có các nhà máy san sát thuộc nhiều ngành khác nhau là công nghiệp khai thác hoặc công nghiệp chế biến.

**Bài 6 trang 37 SBT Địa Lí 7**

Dựa vào SGK, kiến thức đã học và vốn hiểu biết, hãy nêu những nguồn gây ô nhiễm môi trường ở một vùng công nghiệp.

**Lời giải:**

- Chất thải công nghiệp xả ra ngoài môi trường: rác thải, khí thải, nước thải,...
- Ý thức bảo vệ môi trường của con người.

- Các khu công nghiệp chưa có kế hoạch xử lý chất thải đúng cách để hạn chế sự ô nhiễm môi trường công nghiệp.