

Mời các bạn cùng tham khảo hướng dẫn giải bài tập SBT Địa lý Bài 16: Đô thị hóa ở đới ôn hòa lớp 7 được chúng tôi chọn lọc và giới thiệu ngay dưới đây nhằm giúp các em học sinh tiếp thu kiến thức và củng cố bài học của mình và hoàn thành thật tốt các bài kiểm tra, bài thi trong quá trình học tập môn Địa lý.

Bài 1 trang 38 SBT Địa Lí 7

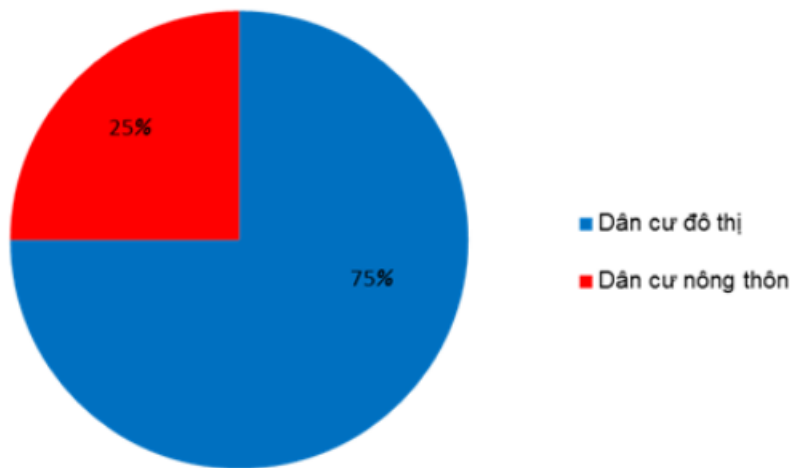
Dựa vào câu dưới đây:

“Hơn 75% dân cư đới ôn hòa sống trong các đô thị”.

- a) Vẽ biểu đồ hình tròn biểu diễn tỉ lệ dân số nông thôn của đới ôn hòa.
- b) Kết hợp với vốn hiểu biết của bản thân, em hãy nêu nhận xét về mức độ đô thị hóa ở đới ôn hòa.

Lời giải:

a) Biểu đồ thể hiện tỉ lệ dân số nông thôn của đới ôn hòa.

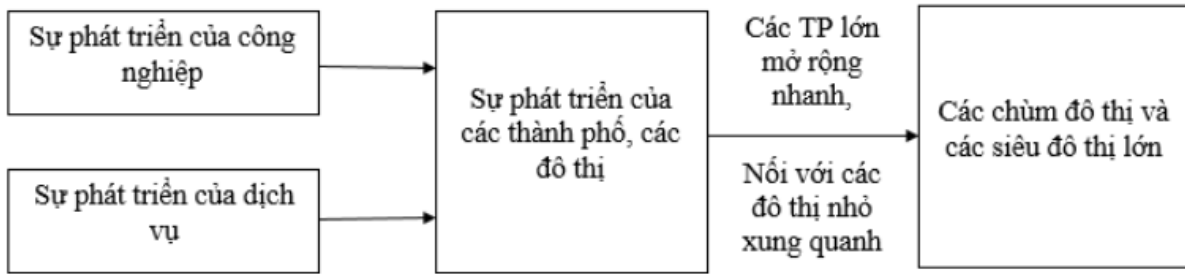


b) - Đới ôn hòa có tỉ lệ dân đô thị cao, nơi tập trung đông dân cư nhất thế giới.

- Các siêu đô thị ngày càng đông dân.
- Các đô thị phát triển theo quy hoạch, cơ sở hạ tầng hiện đại.
- Lối sống đô thị ngày càng phổ biến.

Bài 2 trang 38 SBT Địa Lí 7

Dựa vào sơ đồ dưới đây:



Hãy nêu sự hình thành các chùm đô thị và các siêu đô thị lớn ở đới ôn hòa.

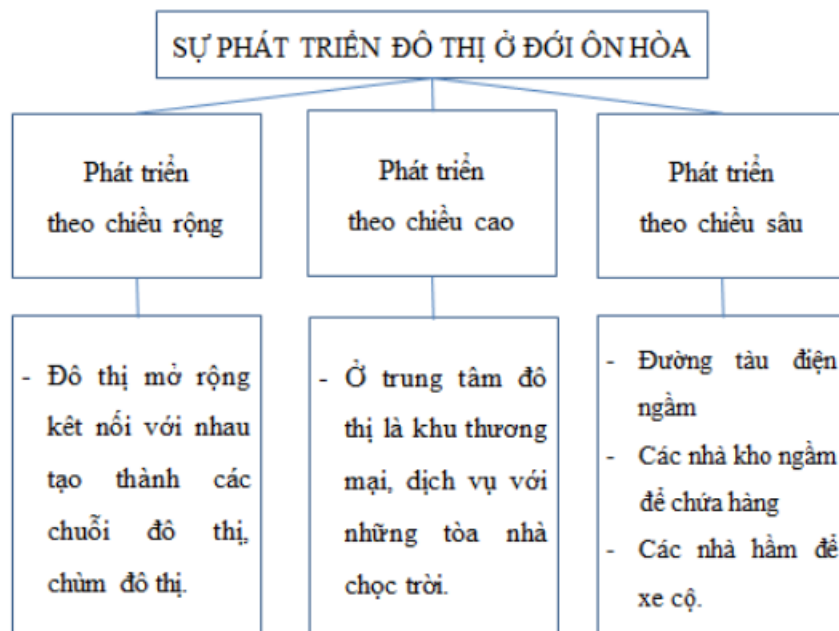
Lời giải:

Sự phát triển của công nghiệp và dịch vụ đã thúc đẩy các thành phố, các đô thị phát triển, các thành phố lớn mở rộng nhanh nối với các đô thị nhỏ xung quanh tạo ra các chùm đô thị và các siêu đô thị lớn.

Bài 3 trang 39 SBT Địa Lí 7

Hoàn thành sơ đồ dưới đây:

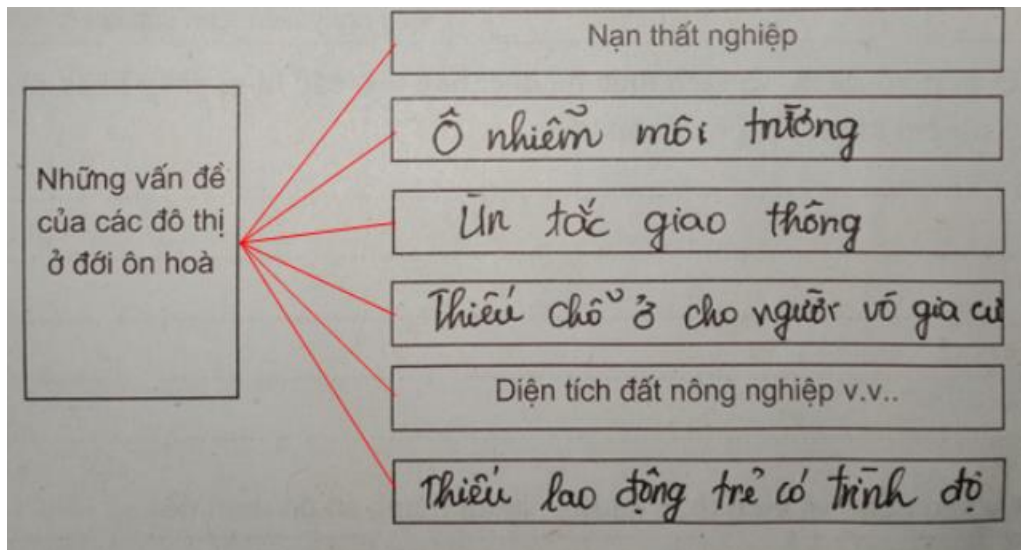
Lời giải:



Bài 4 trang 39 SBT Địa Lí 7

Em hãy nối các ô chữ và điền tiếp vào những ô còn trống để hoàn chỉnh sơ đồ sau:

Lời giải:



Bài 5 trang 39 SBT Địa Lí 7

Nêu cách giải quyết những vấn đề xã hội trong các đô thị ở đới ôn hoà.

Lời giải:

- + Quy hoạch đô thị theo quy mô lớn, rộng về chiều ngang.
- + Thu hút dân cư về các đô thị vệ tinh, thành phố nhỏ và vùng ngoại ô.
- + Xây dựng, tạo cơ sở việc làm cho dân cư.
- + Đô thị hóa nông thôn.