

Mời các bạn cùng tham khảo hướng dẫn giải bài tập SBT Địa lý Bài 25: Thế giới rộng lớn và đa dạng lớp 7 được chúng tôi chọn lọc và giới thiệu ngay dưới đây nhằm giúp các em học sinh tiếp thu kiến thức và củng cố bài học của mình và hoàn thành thật tốt các bài kiểm tra, bài thi trong quá trình học tập môn Địa lý.

**Bài 1 trang 57 SBT Địa Lí 7**

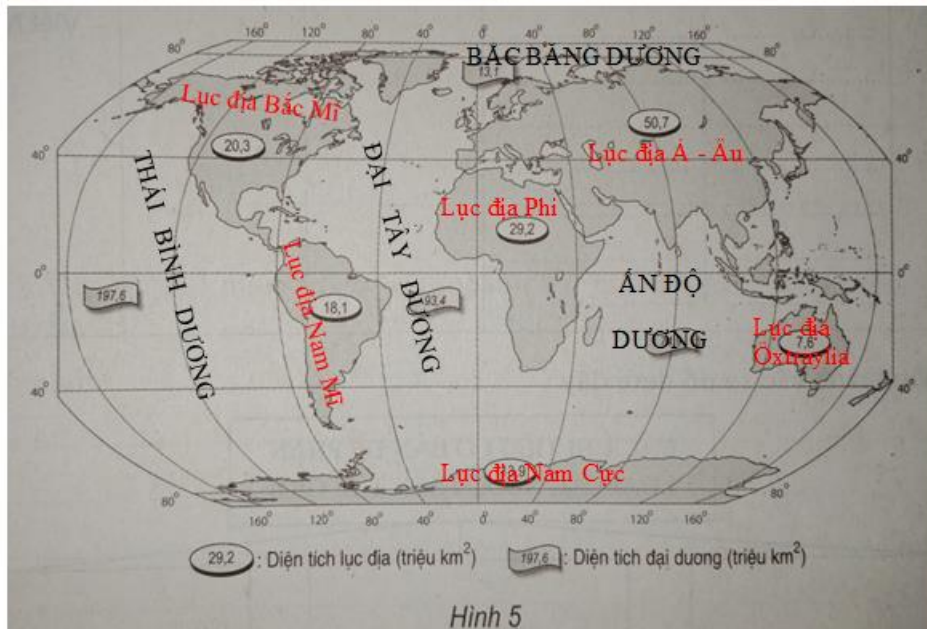
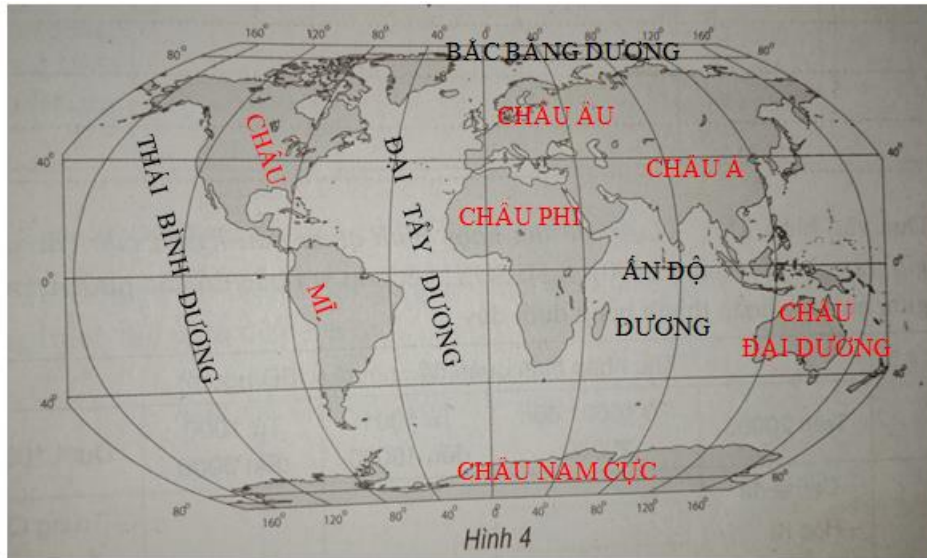
Dựa vào SGK và kiến thức đã học

Em hãy:

- a) Điền tên các lục địa vào hình 5.
- b) Điền tên các châu lục vào hình 4.
- c) Điền tên các đại dương vào cả hai hình (4 và 5).
- d) Nêu sự khác nhau giữa lục địa và châu lục.

**Lời giải:**

a) b) c)



d) - Lục địa là khối đất nổi rộng hàng triệu kilomet vuông, có biển và đại dương bao quanh. Sự phân chia lục địa mang ý nghĩa về mặt tự nhiên là chính. Trên thế giới có 6 lục địa: lục địa Á – Âu, lục địa Phi, lục địa Bắc Mỹ, lục địa Nam Mỹ, lục địa Ôxtraylia và lục địa Nam Cực và bốn đại dương bao quanh là Thái Bình Dương, Đại Tây Dương, Ấn Độ Dương và Bắc Băng Dương.

- Châu lục bao gồm lục địa và các đảo, quần đảo chung quanh. Sự phân chia này chủ yếu mang ý nghĩa về lịch sử, kinh tế, chính trị. Trên thế giới có 6 châu lục: châu Á, châu Âu, châu Phi, châu Mỹ, châu Đại Dương và châu Nam Cực.

**Bài 2 trang 58 SBT Địa Lí 7**

Dựa vào hình 25.1 – Lược đồ thu nhập bình quân đầu người của các quốc gia trên thế giới (năm 2000) tr. 80 SGK, kết hợp với bản đồ các nước trên thế giới, em hãy hoàn thành bảng dưới đây:

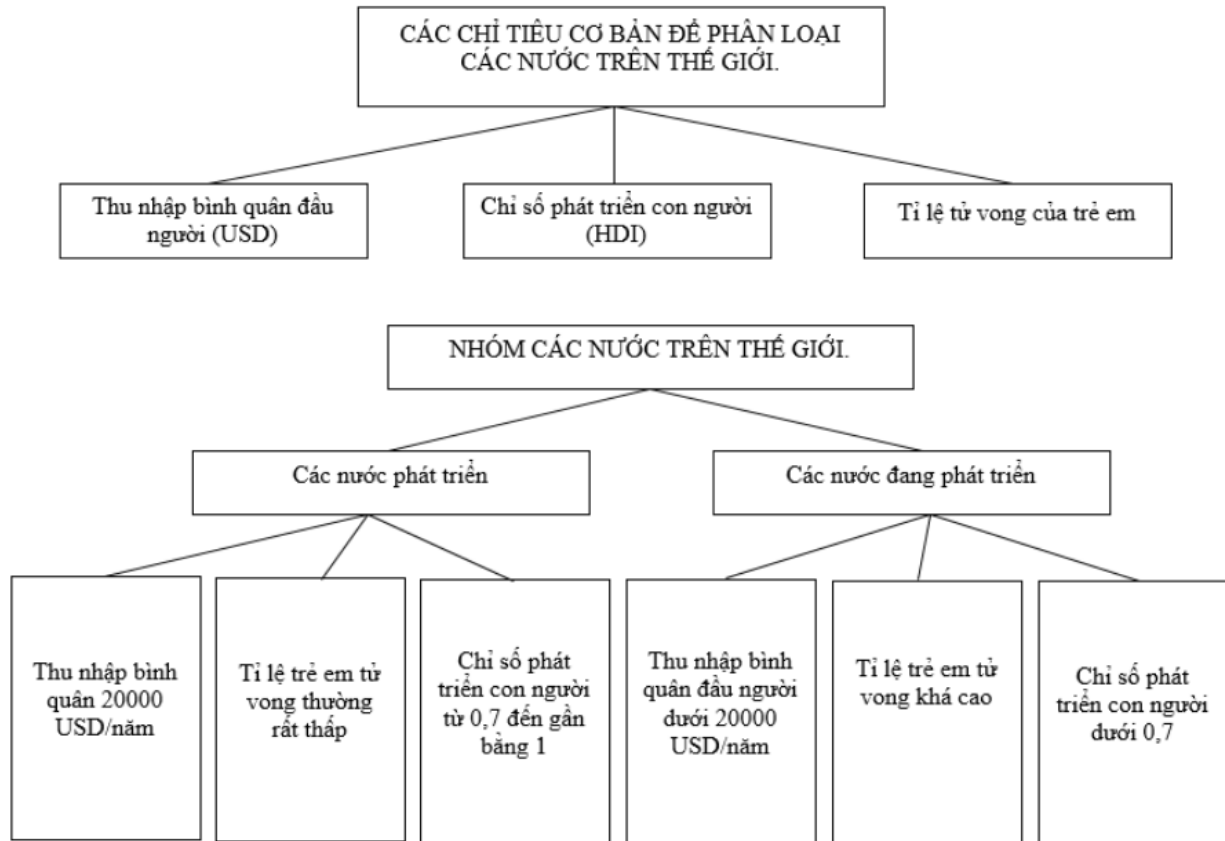
**Lời giải:**

	Thu nhập bình quân đầu người (USD/người)				
	Trên 20000	Từ 10001 đến 20000	Từ 5001 đến 10000	Từ 1000 đến 5000	Dưới 1000
Tên các quốc gia	- Ca-na-da - Hoa Kỳ - Australia - New Zealand - Na uy - Thụy Điển - Anh	- Ý - Bồ Đào Nha - Tây Ban Nha	-Me-hi-co - U-ru-guay - Vê-nê-xu-ê-la - Li-bi	- Liên Bang Nga - Nam Phi - Bra-xin	- Trung Quốc - Ấn Độ - Việt Nam - Thái Lan - Lào - Cam-pu-chia - Ma-đa-ga-xca - Ni-giê

**Bài 3 trang 58 SBT Địa Lí 7**

Hoàn thành các sơ đồ dưới đây:

**Lời giải:**



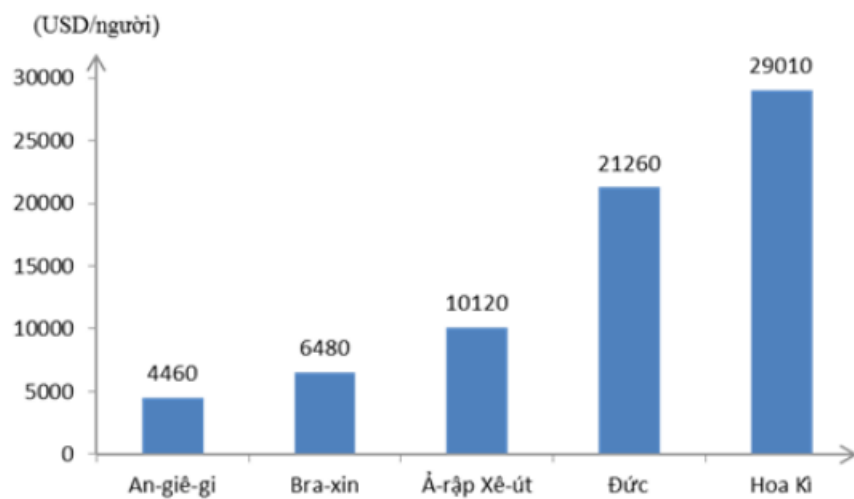
**Bài 4 trang 59 SBT Địa Lí 7**

Căn cứ vào bảng thống kê ở bài tập 2, trang 81 SGK:

- a) Vẽ biểu đồ biểu diễn thu nhập bình quân đầu người của các nước trong bảng (theo thứ tự từ thấp lên cao).
- b) Sắp xếp các nước trong bảng thành hai nhóm nước: phát triển và đang phát triển.

**Lời giải:**

a)



b) - Nhóm các nước phát triển: Hoa Kỳ, Đức, Ả-rập xê-út.

- Nhóm các nước đang phát triển: An-giê-ri và Bra-xin.