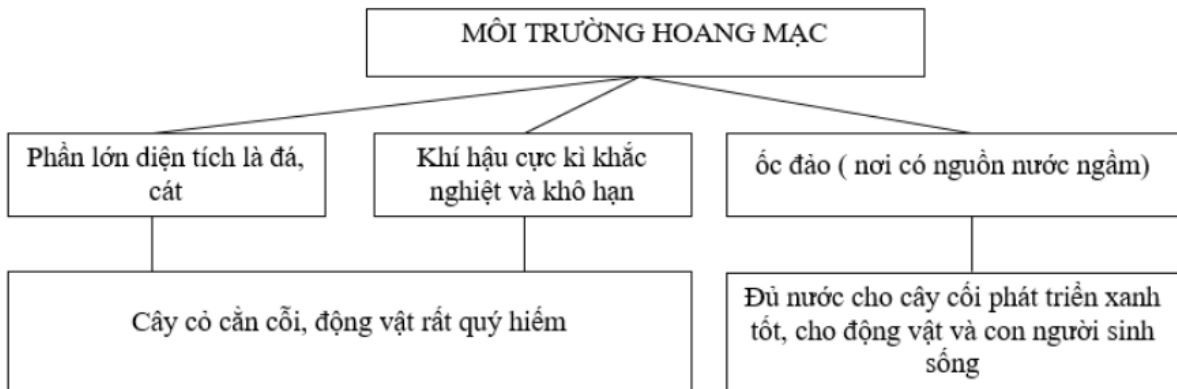


Chúng tôi xin giới thiệu đến học sinh bộ tài liệu giải sách bài tập Địa Lí 7 Bài 20: Hoạt động kinh tế của con người ở hoang mạc có đáp án và lời giải hay cho các câu hỏi trong sách bài tập môn Địa lớp 7. Hỗ trợ học sinh ôn tập, nắm chắc phương pháp giải các dạng bài tập. Nội dung chi tiết học sinh xem tại đây.

Bài 1 trang 48 SBT Địa Lí 7

Dựa vào sơ đồ dưới đây:



Kết hợp quan sát hình 20.1 và hình 20.2 tr. 64 SGK, hãy mô tả sơ lược quang cảnh môi trường hoang mạc.

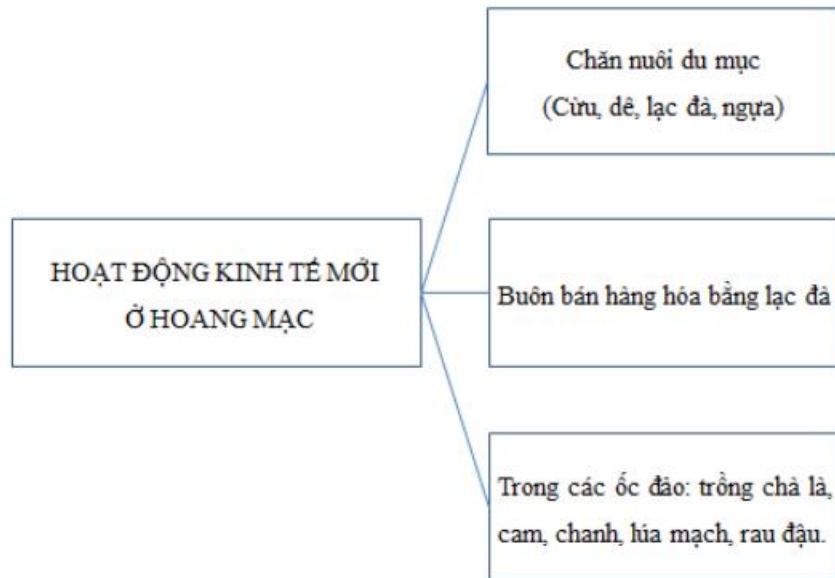
Lời giải:

Môi trường hoang mạc có phần lớn diện tích là đá và cát bao phủ. Khí hậu cực kì khắc nghiệt và khô hạn. Cây cỏ cằn cỗi nên động vật rất hiếm. Sinh vật chỉ có thể phát triển được ở trong các ốc đảo nơi có nguồn nước ngầm mới đủ nước cho cây cối phát triển xanh tốt, cho động vật và con người sinh sống.

Bài 2 trang 48 SBT Địa Lí 7

Với các ô chữ bên phải, hãy lập một sơ đồ và đặt tên cho sơ đồ này.

Lời giải:

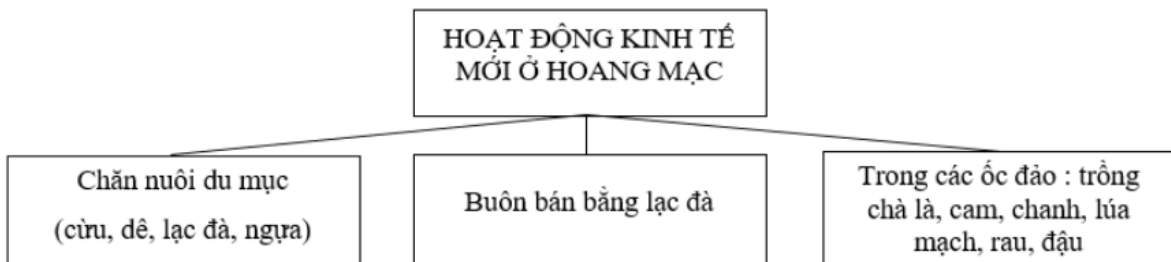


Bài 3 trang 49 SBT Địa Lí 7

Dựa vào SGK, hoàn thành sơ đồ sau:

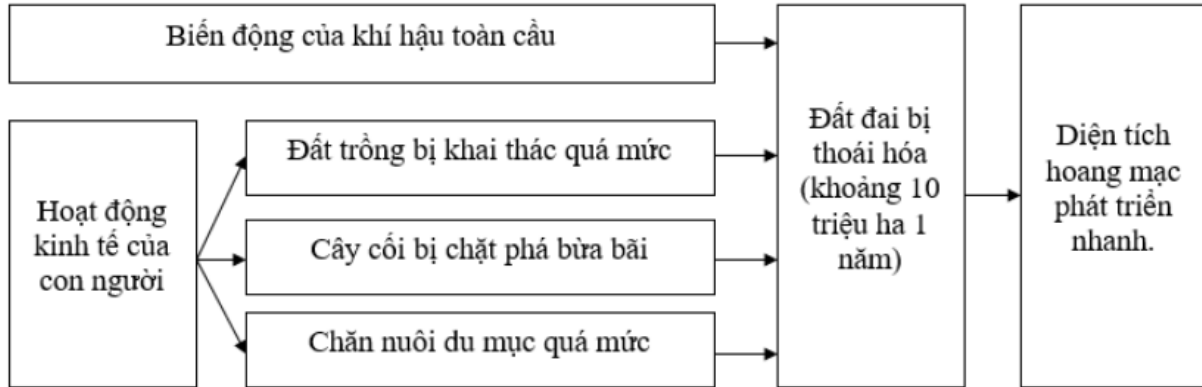


Lời giải:



Bài 4 trang 49 SBT Địa Lí 7

Qua sơ đồ dưới đây:



Em hãy trả lời câu hỏi: Tại sao diện tích hoang mạc trên thế giới đang ngày càng mở rộng?

Lời giải:

Biến đổi khí hậu toàn cầu và hoạt động kinh tế của con người như khai thác quá mức đất trồng, chặt phá rừng bừa bãi, chăn nuôi du mục quá mức đã làm cho đất đai bị thoái hóa, tạo điều kiện cho diện tích hoang mạc phát triển nhanh.

Bài 5 trang 49 SBT Địa Lí 7

Quan sát hình 20.3 và 20.6 trang 65, 66 SGK, kết hợp vốn hiểu biết, hãy nêu những biện pháp để cải tạo hoang mạc và ngăn chặn quá trình hoang mạc hóa.

Lời giải:

- Đưa nước vào hoang mạc bằng giếng khoan hoặc kênh đào.
- Trồng cây gây rừng chống cát bay cát chảy, cải tạo khí hậu.