

Chúng tôi xin giới thiệu đến học sinh bộ tài liệu giải sách bài tập Địa Lí 7 Bài 26: Thiên nhiên châu Phi có đáp án và lời giải hay cho các câu hỏi trong sách bài tập môn Địa lớp 7. Hỗ trợ học sinh ôn tập, nắm chắc phương pháp giải các dạng bài tập. Nội dung chi tiết học sinh xem tại đây.

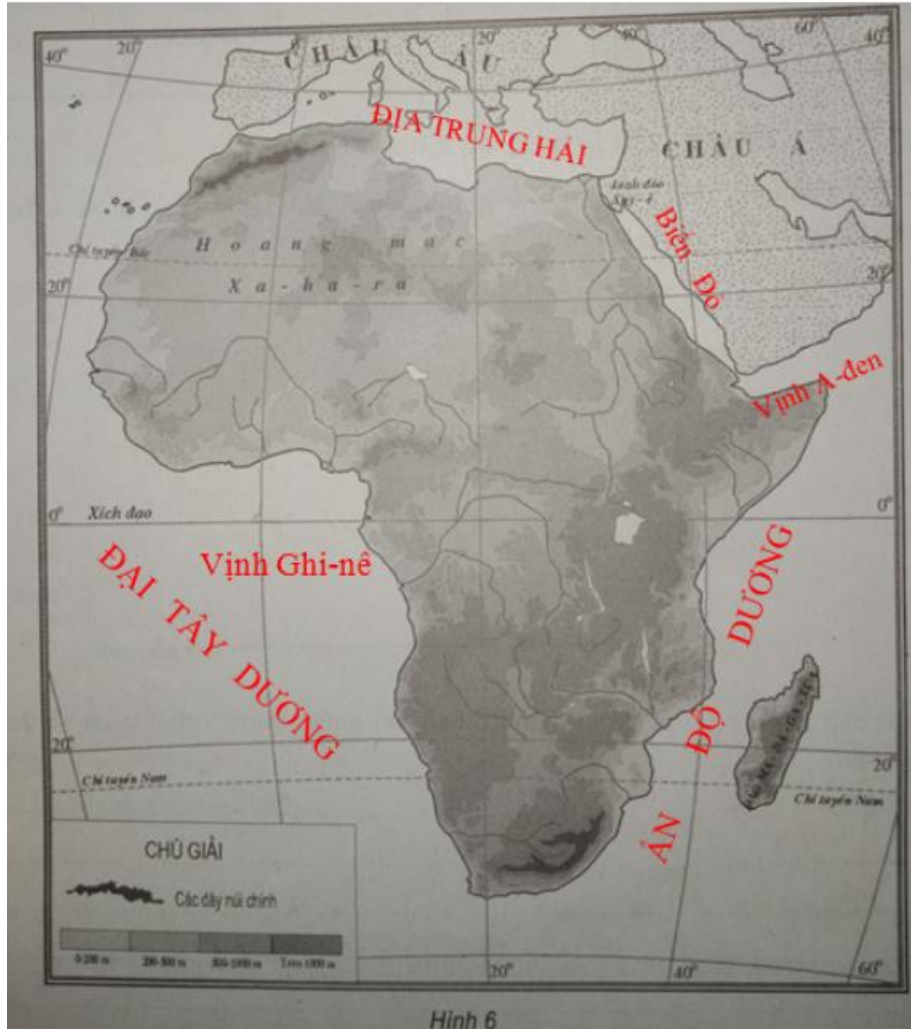
Bài 1 trang 60 SBT Địa Lí 7

Dựa vào hình 26.1, tr. 83 trong SGK:

Em hãy:

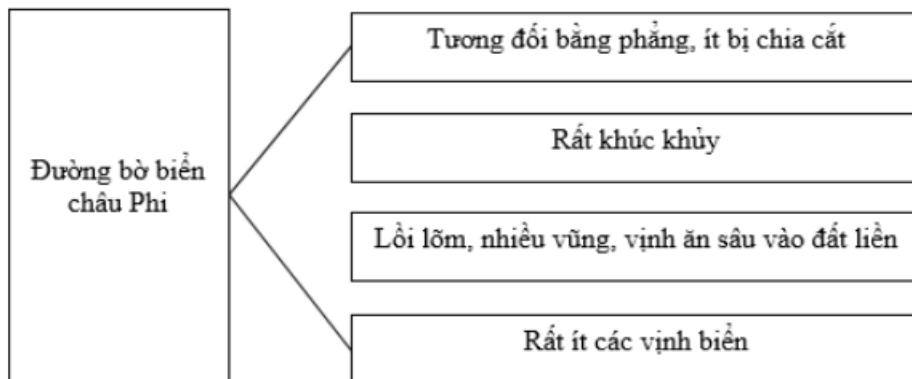
- a) Ghi lên lược đồ những biển và đại dương tiếp giáp với châu Phi.
- b) Chọn một trong những cụm từ sau: kéo dài theo hướng đông – tây, kéo dài theo hướng bắc – nam, hình khối để mô tả hình dạng châu Phi.
- c) Nối ô chữ ở bên trái với những ô chữ thích hợp ở bên phải:

Lời giải:



b) Châu Phi có dạng: hình khối.

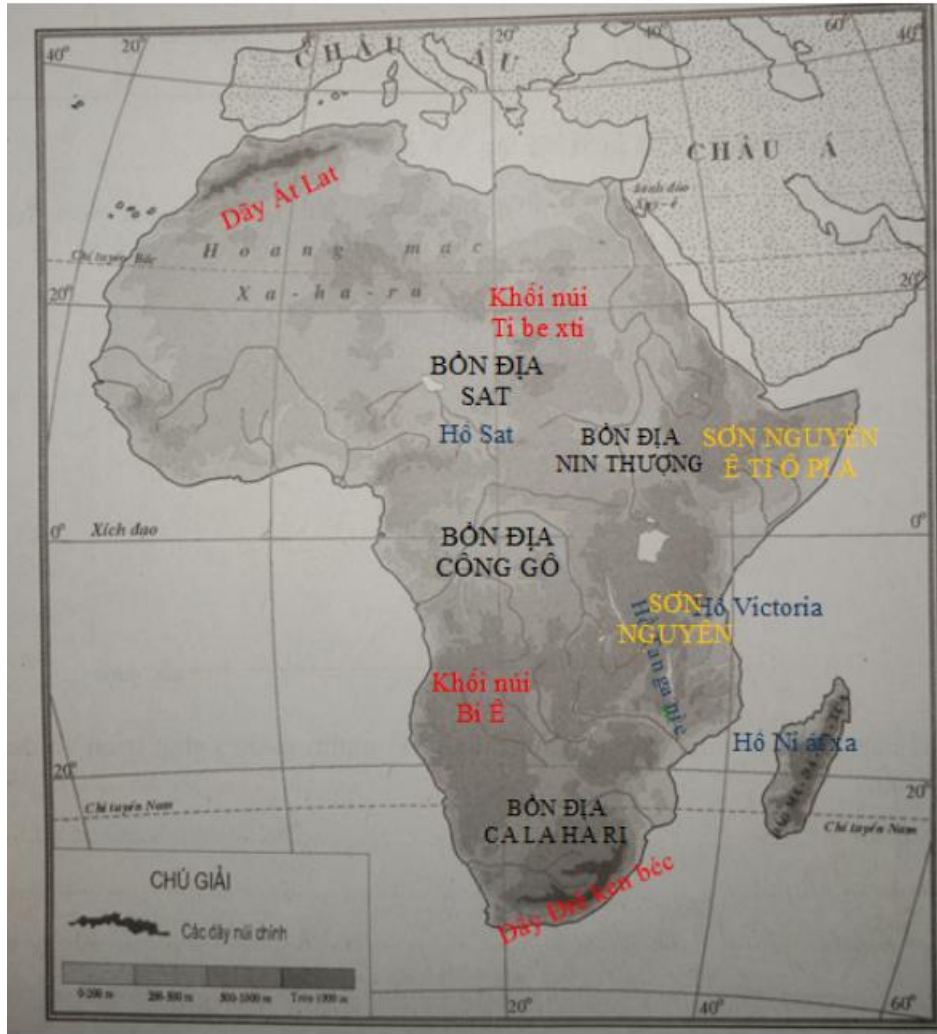
c)



Bài 2 trang 61 SBT Địa Lí 7

Ghi trên hình 6 tên các con sông lớn; các khối núi, các dãy núi lớn; các bồn địa, các sơn nguyên; các hồ lớn ở châu Phi.

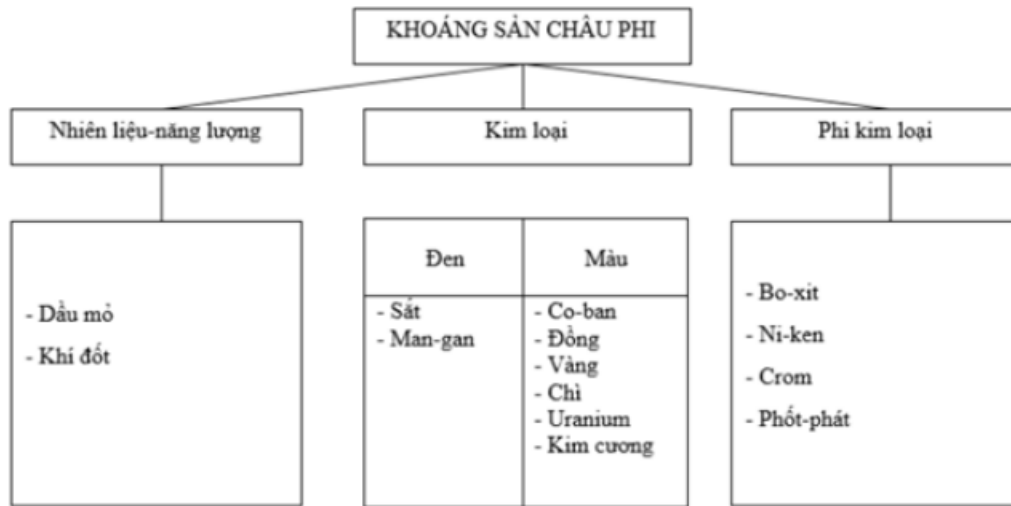
Lời giải:



Bài 3 trang 61 SBT Địa Lí 7

Hoàn thành sơ đồ sau:

Lời giải:



Bài 4 trang 62 SBT Địa Lí 7

Nêu những thuận lợi và khó khăn của địa hình châu Phi đối với sản xuất nông nghiệp.

Lời giải:

- Thuận lợi: Địa hình đan xen giữa cao nguyên và bồn địa thuận lợi cho phát triển cơ cấu nông nghiệp đa dạng, trồng được nhiều loại cây và nuôi được nhiều loại con vật.
- Khó khăn: Phần phía đông địa hình bị nâng lên mạnh, nền đá bị nứt vỡ và đổ sụp tạo thành nhiều thung lũng sâu, nhiều hồ hẹp và dài. Địa hình xung quanh rìa lục địa cao và thấp dần vào trong ngăn chặn ảnh hưởng của biển vào đất liền khiến cho khí hậu khắc nghiệt gây khó khăn cho phát triển nông nghiệp.