

Nội dung bài viết

1. [Câu 1 trang 73 Vở bài tập Khoa học 5](#)
2. [Câu 2 trang 73 Vở bài tập Khoa học 5](#)
3. [Câu 3 trang 74 Vở bài tập Khoa học 5](#)
4. [Câu 4 trang 75 Vở bài tập Khoa học 5](#)

Câu 1 trang 73 Vở bài tập Khoa học 5

Khoanh vào chữ cái trước câu trả lời đúng.

Vật nào dưới đây hoạt động được nhờ sử dụng năng lượng gió?





- a. Quạt máy.
- b. Thuyền buồm.
- c. Tua-bin của nhà máy thủy điện.
- d. Pin mặt trời.

Trả lời:


Chọn b.

Câu 2 trang 73 Vở bài tập Khoa học 5

Đánh dấu × vào dưới hình có phương tiện, máy móc sử dụng năng lượng nước chảy.

	
<input type="checkbox"/>	<input type="checkbox"/>
	
<input type="checkbox"/>	<input type="checkbox"/>

Trả lời:



Câu 3 trang 74 vở bài tập Khoa học 5

Viết chữ Đ vào trước ý kiến đúng, chữ S trước ý kiến sai.

- Khi làm nhà, cần phải tính đến việc sử dụng năng lượng gió tự nhiên cho tòa nhà.
- Người ta không thể tạo ra dòng điện từ năng lượng gió.
- Từ năng lượng nước chảy người ta có thể tạo ra dòng điện.
- Người ta có thể sử dụng năng lượng nước chảy để làm sạch vật bị bẩn.

Trả lời:

- Đ** Khi làm nhà, cần phải tính đến việc sử dụng năng lượng gió tự nhiên cho tòa nhà.
- S** Người ta không thể tạo ra dòng điện từ năng lượng gió.
- Đ** Từ năng lượng nước chảy người ta có thể tạo ra dòng điện.

Đ Người ta có thể sử dụng năng lượng nước chảy để làm sạch vật bị bẩn.

Câu 4 trang 75 vở bài tập Khoa học 5

Hãy nêu ba ví dụ về việc sử dụng năng lượng gió của con người.

Trả lời:

Ví dụ về việc sử dụng năng lượng gió của con người:

- Căng buồm cho tàu thuyền chạy nhanh hơn.
- Quạt thóc.
- Thả diều, chơi chong chóng