

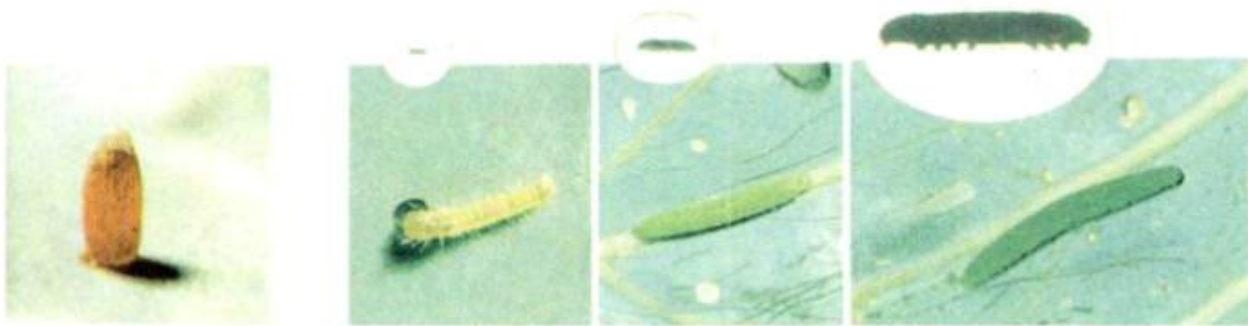
Nội dung bài viết

1. [Câu 1 trang 95 Vở bài tập Khoa học 5](#)
2. [Câu 2 trang 95 Vở bài tập Khoa học 5](#)
3. [Câu 3 trang 96 Vở bài tập Khoa học 5](#)
4. [Câu 4 trang 96 Vở bài tập Khoa học 5](#)

### ***Câu 1 trang 95 Vở bài tập Khoa học 5***


Chọn các chú thích cho trước trong khung để điền vào chỗ .... dưới mỗi hình cho phù hợp.

**bướm; trứng, sâu (ấu trùng); nhộng**

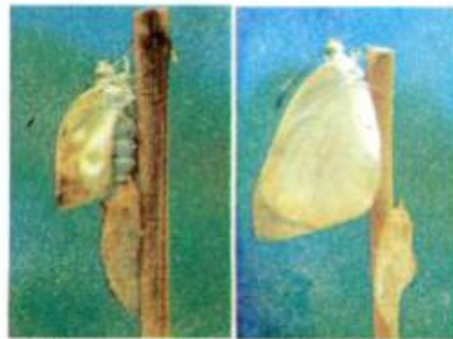


.....

.....

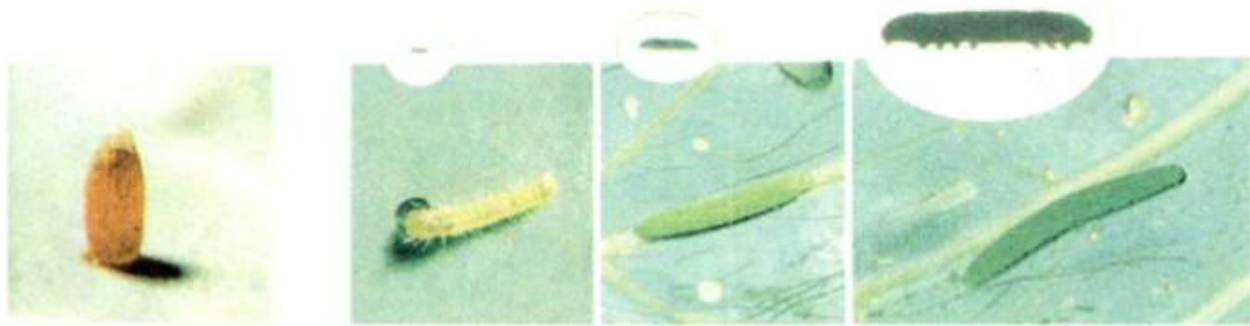


.....




.....

Trả lời:

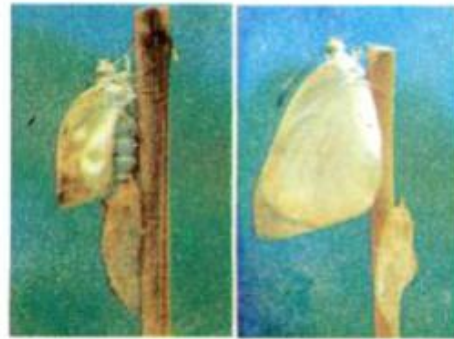


Trứng

Sâu



Nhộng



Bướm

***Câu 2 trang 95 vở bài tập Khoa học 5***

Khoanh vào chữ cái trước câu trả lời đúng.

Ở giai đoạn nào của quá trình phát triển, bướm cải gây thiệt hại nhất?

- a. Trứng.
- b. Sâu.
- c. Nhộng.
- d. Bướm.

Trả lời:

Chọn b.

***Câu 3 trang 96 vở bài tập Khoa học 5***

Khoanh vào chữ cái trước câu trả lời đúng nhất.

3.1. Để giảm thiệt hại cho hoa màu do côn trùng gây ra, trong trồng trọt người ta thường áp dụng biện pháp nào?

- a. Phun thuốc trừ sâu.
- b. Bắt bướm.
- c. Diệt bướm.
- d. Thực hiện tất cả các việc trên.

3.2. Để tiêu diệt ruồi và gián người ta thường sử dụng biện pháp nào?

- a. Giữ vệ sinh môi trường xung quanh nhà ở, chuồng trại chăn nuôi.
- b. Giữ vệ sinh nhà ở, nhà bếp, nhà vệ sinh,...
- c. Phun thuốc diệt ruồi và gián.
- d. Thực hiện tất cả các việc trên.

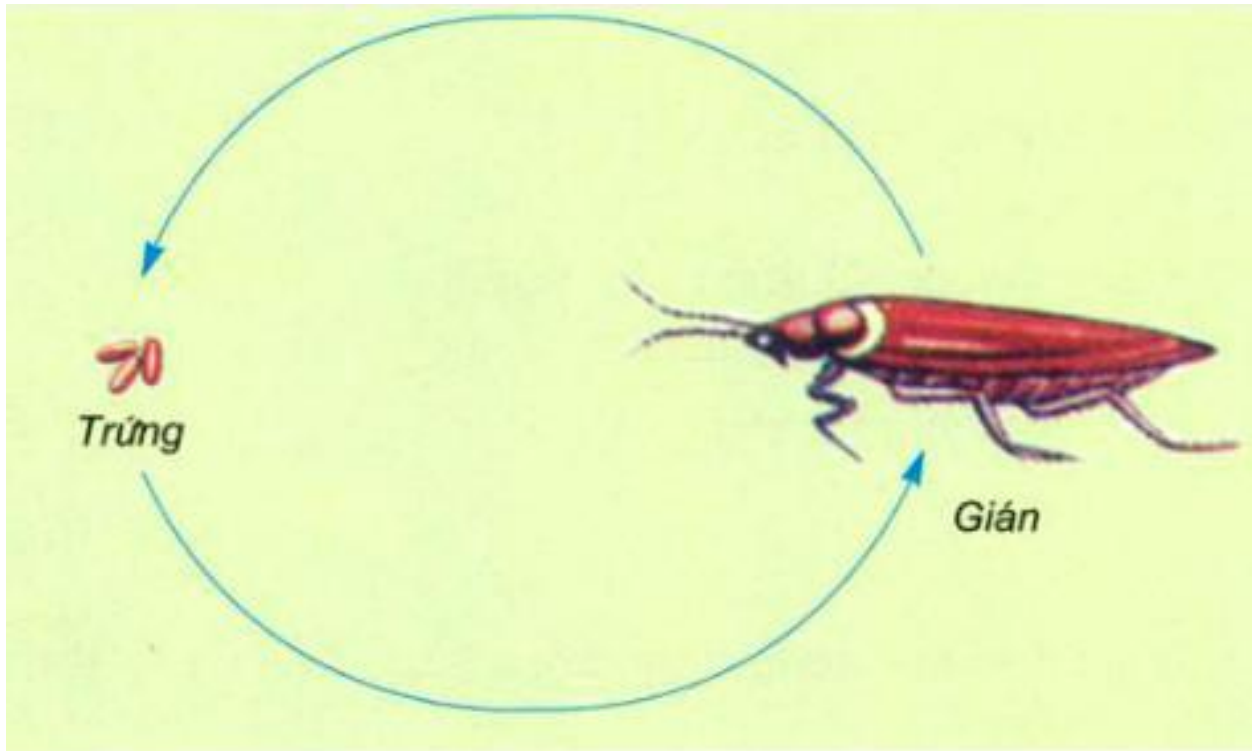
Trả lời:

**Câu hỏi 3.1 3.2**

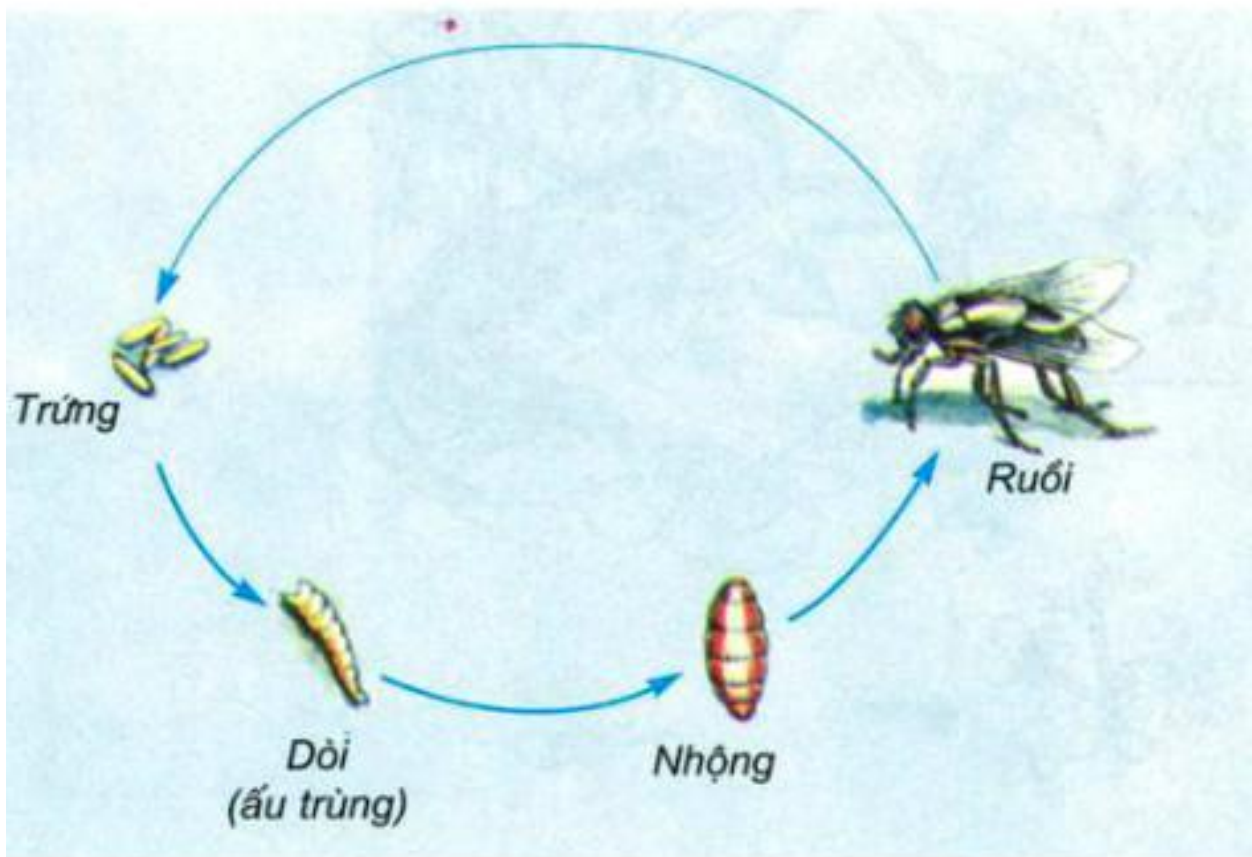
**Đáp án d d**

***Câu 4 trang 96 vở bài tập Khoa học 5***

Quan sát các hình 6, 7 trang 115 SGK và hoàn thành bảng sau:



⑥



⑦

	So sánh chu trình sinh sản	
	Giống nhau	Khác nhau
Ru ồi		
Gián		

**Trả lời:**

	So sánh chu trình sinh sản	
	Giống nhau	Khác nhau
Ru ồi	Đẻ trứng	Trứng nở ra dòi (ấu trùng). Dòi hóa nhộng. Nhộng nở ra ru ồi.
Gián		Trứng nở thành gián con mà không qua các giai đoạn trung gian.