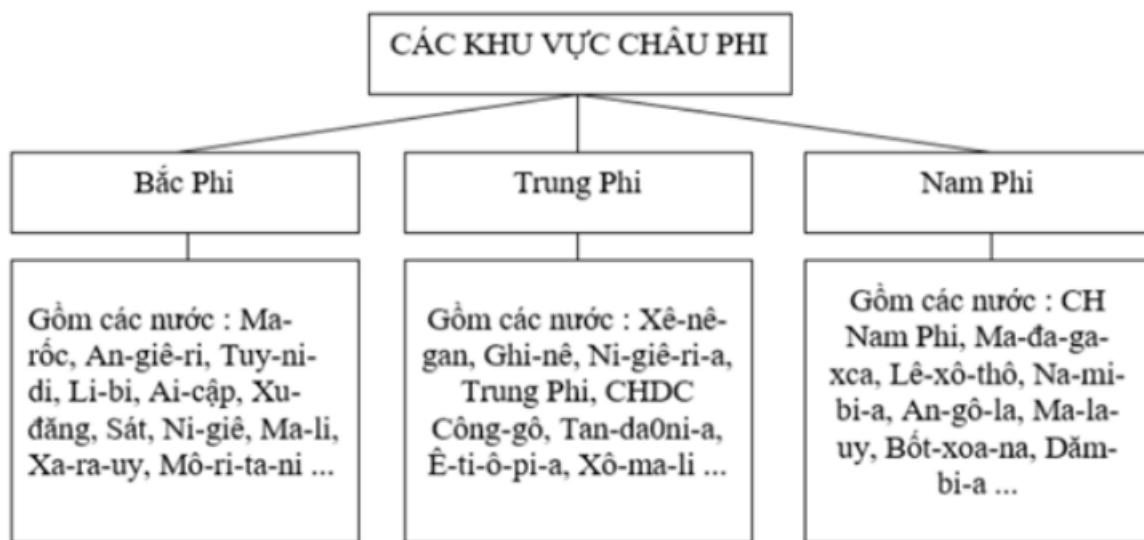


Mời các bạn cùng tham khảo hướng dẫn giải bài tập SBT Địa lý Bài 32: Thực hành: Tìm hiểu địa phương lớp 7 được chúng tôi chọn lọc và giới thiệu ngay dưới đây nhằm giúp các em học sinh tiếp thu kiến thức và củng cố bài học của mình và hoàn thành thật tốt các bài kiểm tra, bài thi trong quá trình học tập môn Địa lý.

Bài 1 trang 73 SBT Địa Lí 7

Dựa vào lược đồ ba khu vực châu Phi, hình 32.1, tr. 100 SGK, hãy hoàn thành sơ đồ dưới đây:

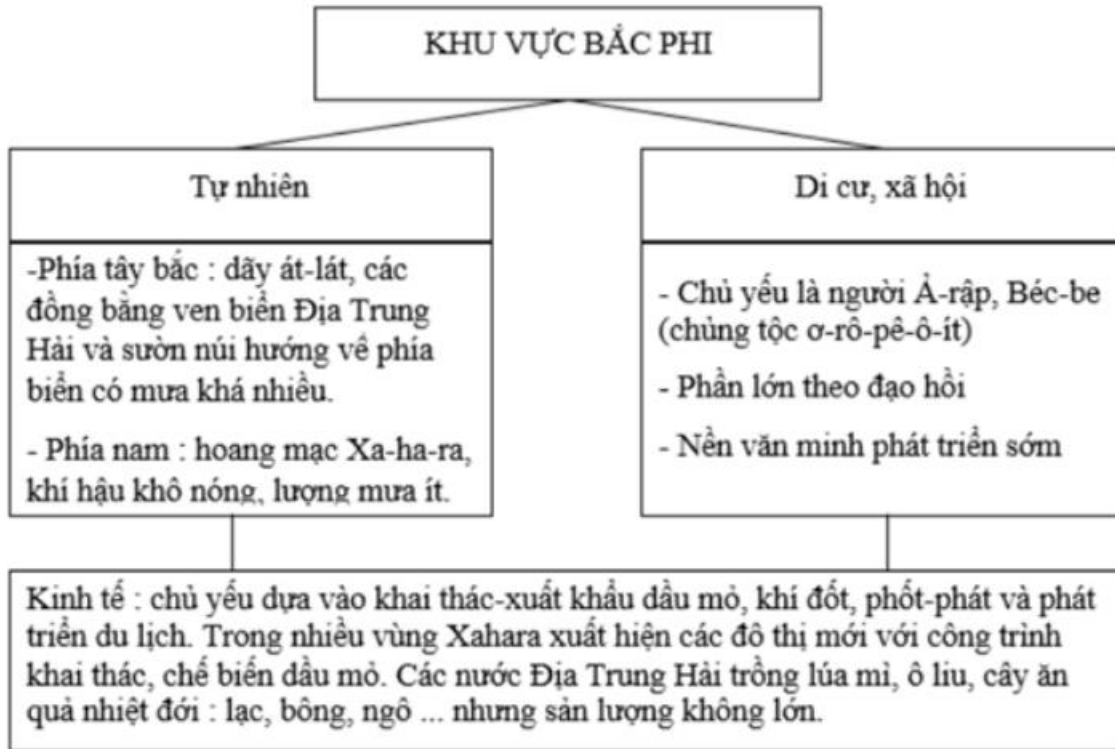
Lời giải:



Bài 2 trang 74 SBT Địa Lí 7

Hoàn thành sơ đồ dưới đây:

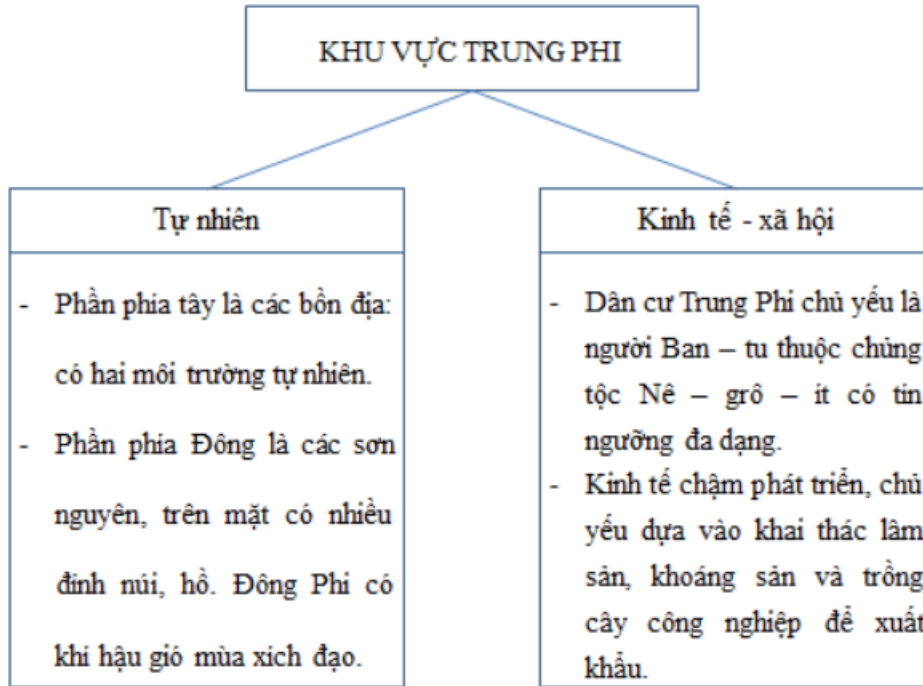
Lời giải:



Bài 3 trang 74 SBT Địa Lí 7

Em hãy lập một sơ đồ về khu vực Trung Phi, trong đó nêu được những đặc điểm khái quát nổi bật về tự nhiên, dân cư, xã hội và kinh tế.

Lời giải:



Bài 4 trang 75 SBT Địa Lí 7

Dựa vào sơ đồ ở câu 2 và câu 3, hãy nêu sự khác biệt về kinh tế giữa khu vực Bắc Phi và khu vực Trung Phi.

Lời giải:

- Khu vực Bắc Phi: kinh tế chủ yếu dựa vào khai thác, xuất khẩu dầu mỏ, khí đốt... các cây ăn quả nhiệt đới, lúa mì, ô liu, lạc, bông, ngô...
- Khu vực Trung Phi: nền kinh tế chủ yếu dựa vào trồng trọt chăn nuôi theo lối cổ truyền, khai thác lâm sản và khoáng sản, trồng cây công nghiệp xuất khẩu.