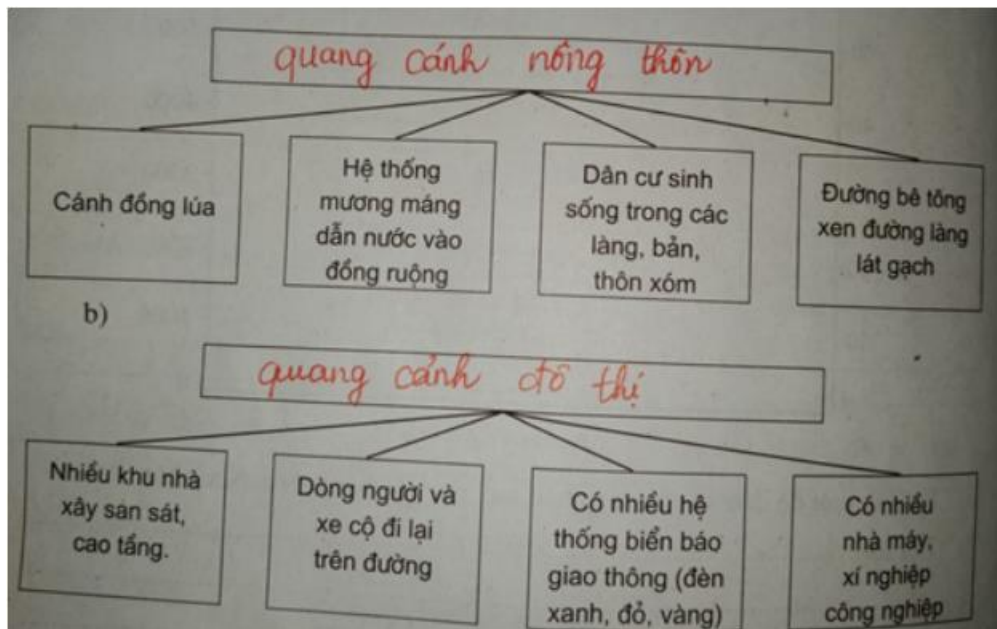


Chúng tôi xin giới thiệu đến học sinh bộ tài liệu giải sách bài tập Địa Lí 7 Bài 3: Quần cư. Đô thị hóa có đáp án và lời giải hay cho các câu hỏi trong sách bài tập môn Địa lớp 7. Hỗ trợ học sinh ôn tập, nắm chắc phương pháp giải các dạng bài tập. Nội dung chi tiết học sinh xem tại đây.

**Bài 1 trang 10 SBT Địa Lí 7**

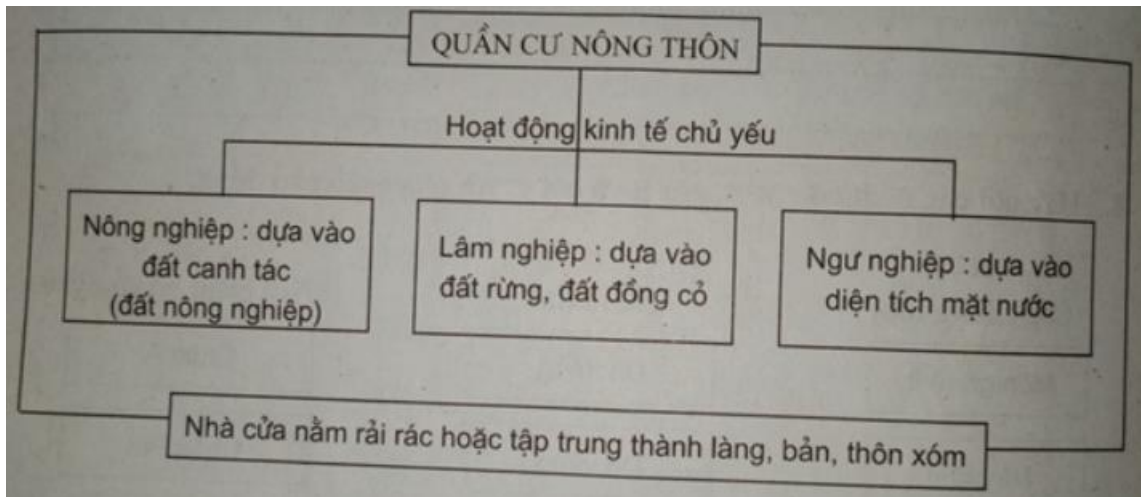
Hãy chọn một trong hai cụm từ: quang cảnh nông thôn, quang cảnh đô thị để điền vào ô trống trong các sơ đồ sau sao cho thích hợp:

**Lời giải:**



**Bài 2 trang 10 SBT Địa Lí 7**

Dựa vào sơ đồ dưới đây:



Hãy cho biết các hoạt động kinh tế chủ yếu và sự phân bố nhà ở của kiểu quần cư nông thôn.

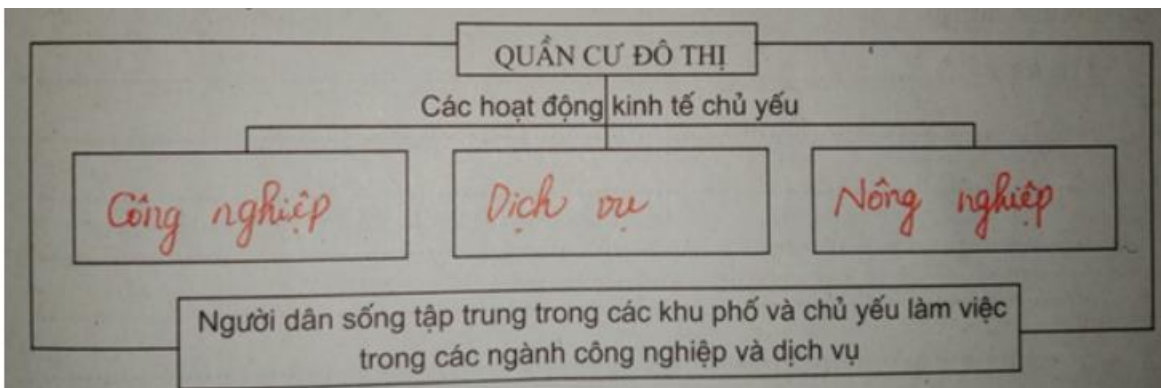
**Lời giải:**

- Các hoạt động kinh tế chủ yếu: nông nghiệp, lâm nghiệp và ngư nghiệp.
- Nhà cửa nằm rải rác hoặc tập trung thành làng, bản, thôn xóm.

**Bài 3 trang 11 SBT Địa Lí 7**

Dựa vào SGK, bài giảng của thầy cô giáo và vốn hiểu biết, hãy hoàn thành sơ đồ dưới đây:

**Lời giải:**



**Bài 4 trang 11 SBT Địa Lí 7**

Hãy điền kí hiệu thể hiện đúng vị trí của 10 siêu đô thị lớn nhất thế giới năm 2000 vào lược đồ dưới đây:

**Lời giải:**

