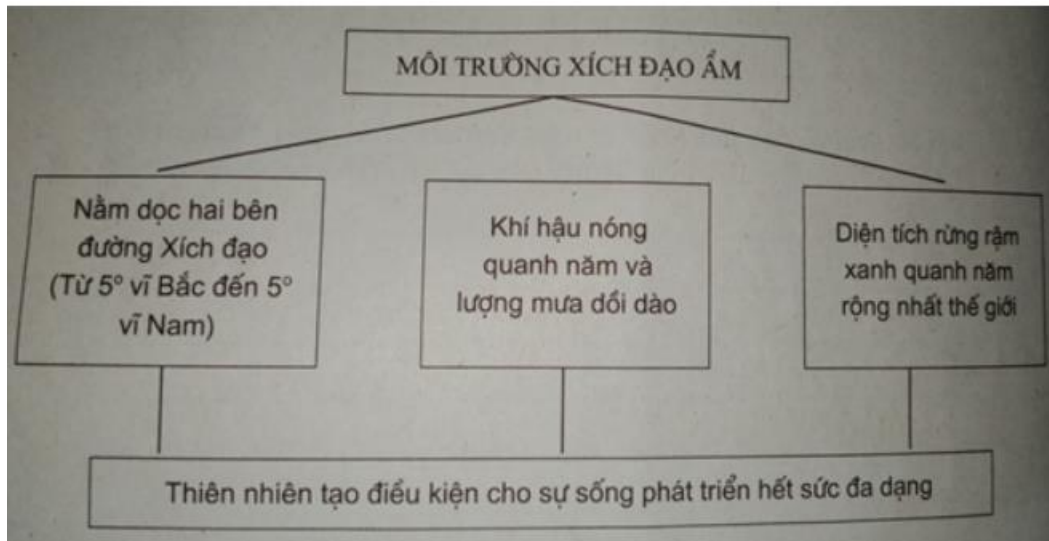


Mời các bạn cùng tham khảo hướng dẫn giải bài tập SBT Địa lý Bài 5: Thực hành: Tìm hiểu địa phương lớp 7 được chúng tôi chọn lọc và giới thiệu ngay dưới đây nhằm giúp các em học sinh tiếp thu kiến thức và củng cố bài học của mình và hoàn thành thật tốt các bài kiểm tra, bài thi trong quá trình học tập môn Địa lý.

Bài 1 trang 14 SBT Địa Lí 7

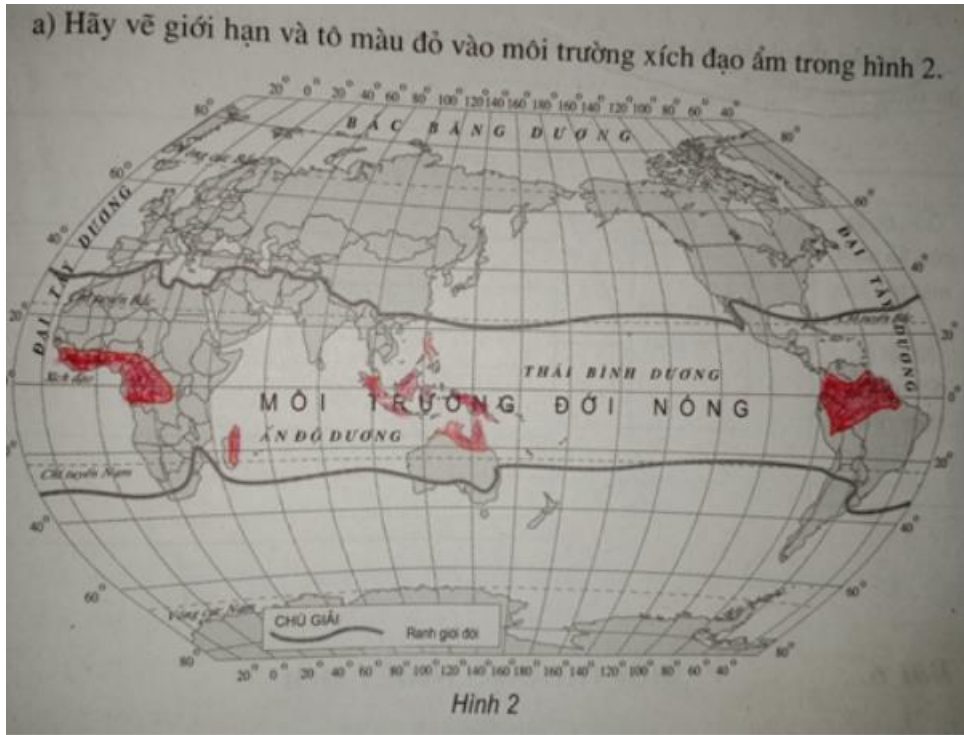
Dựa vào sơ đồ dưới đây:



- a) Hãy vẽ giới hạn và tô màu đỏ vào môi trường xích đạo ấm trong hình 7.
- b) Trả lời câu hỏi: tại sao thiên nhiên môi trường xích đạo ấm lại tạo điều kiện thuận lợi cho sự sống phát triển hết sức đa dạng?

Lời giải:

- a)

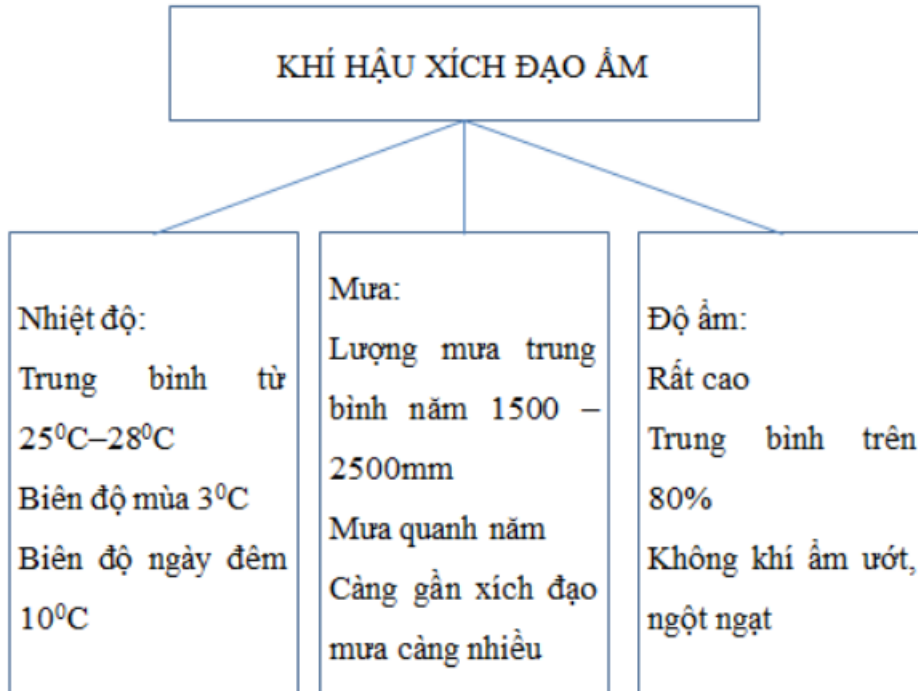


b) Khí hậu nóng quanh năm và lượng mưa dồi dào tạo điều kiện cho sự sống phát triển hết sức đa dạng.

Bài 2 trang 15 SBT Địa Lí 7

Hãy hoàn thành sơ đồ dưới đây:

Lời giải:



Bài 3 trang 16 SBT Địa Lí 7

Hoàn thành sơ đồ dưới đây để nêu rõ nguyên nhân phát triển và đặc điểm của rừng rậm xích đạo.

Lời giải:

