

Chúng tôi xin giới thiệu đến học sinh bộ tài liệu giải sách bài tập Địa Lí 7 Bài 6: Môi trường nhiệt đới có đáp án và lời giải hay cho các câu hỏi trong sách bài tập môn Địa lớp 7. Hỗ trợ học sinh ôn tập, nắm chắc phương pháp giải các dạng bài tập. Nội dung chi tiết học sinh xem tại đây.

**Bài 1 trang 16 SBT Địa Lí 7**

Quan sát hình 5.1 trang 16 SGK, kết hợp với SGK và vốn hiểu biết, hãy nêu giới hạn của môi trường nhiệt đới.

**Lời giải:**

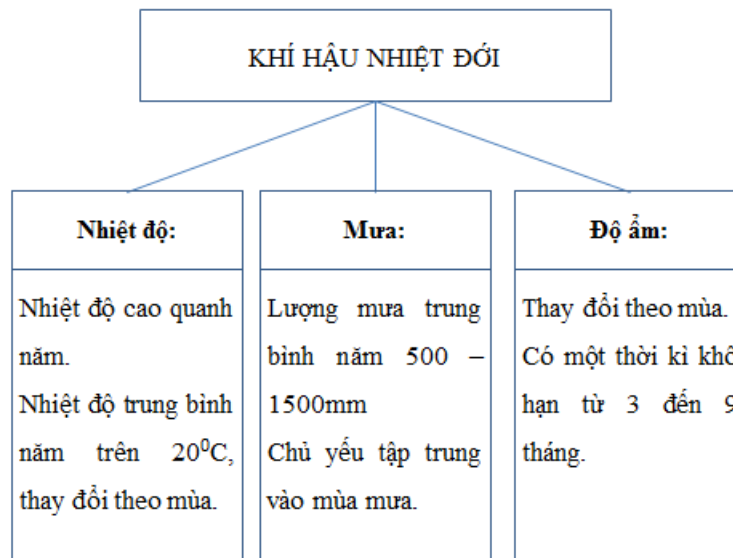
Môi trường nhiệt đới nằm trong khoảng từ 50 Bắc, Nam đến hai chí tuyến của hai bán cầu.

**Bài 2 trang 16 SBT Địa Lí 7**

Dựa vào SGK, kiến thức đã học hãy hoàn thành các sơ đồ dưới đây:

**Lời giải:**

a)



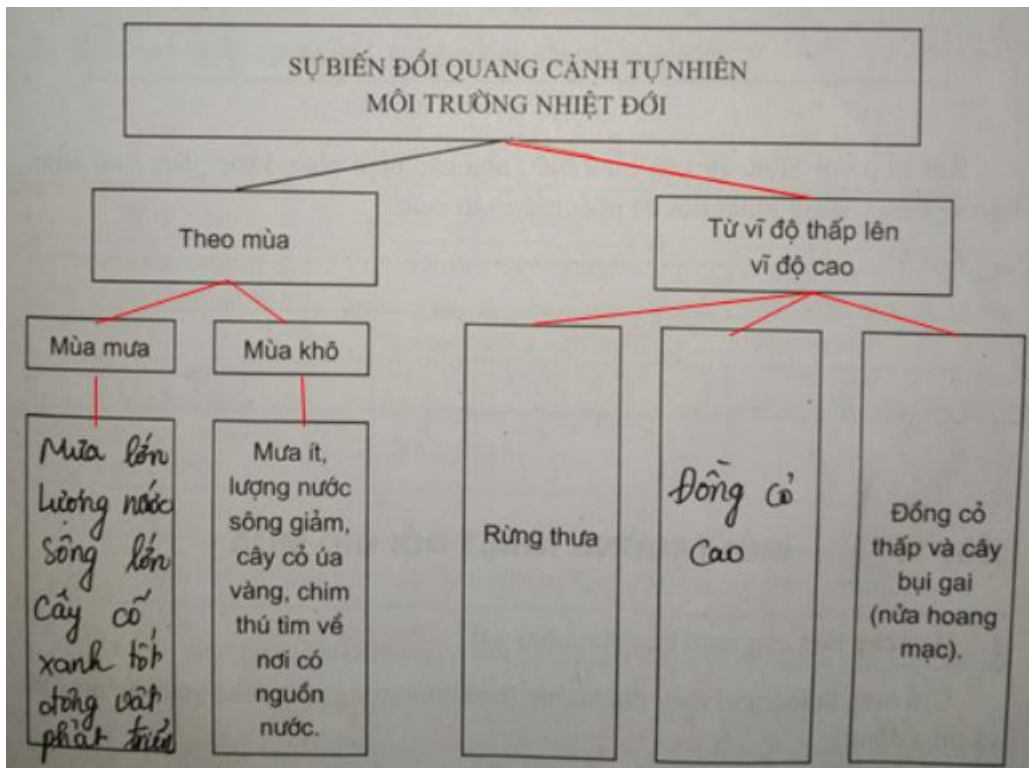
b)



**Bài 3 trang 17 SBT Địa Lí 7**

Nối các ô dưới đây bằng mũi tên hay gạch nối và điền nội dung vào các ô còn trống để được một sơ đồ hoàn chỉnh.

**Lời giải:**

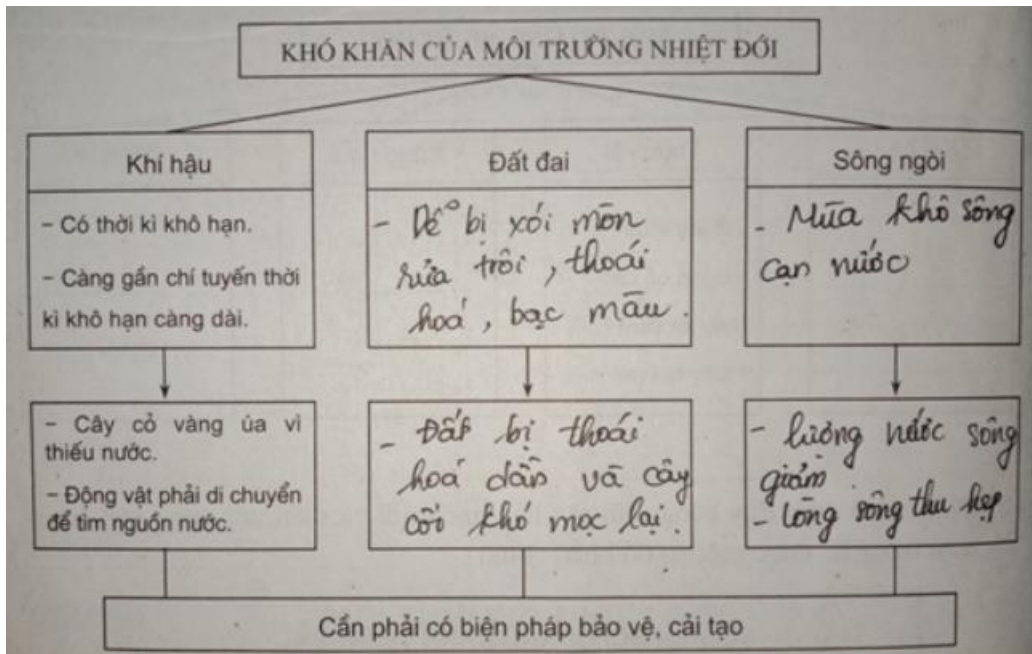


**Bài 4 trang 18 SBT Địa Lí 7**

Hoàn thành sơ đồ dưới đây:

Kết hợp với SGK và vốn hiểu biết, nêu các biện pháp khắc phục khó khăn, bảo vệ môi trường nhiệt đới để phát triển sản xuất.

**Lời giải:**



Biện pháp:

- Tích cực trồng cây gây rừng, phủ xanh đất trống đồi trọc.
- Ngăn chặn nạn chặt phá rừng bừa bãi.
- Đa dạng hóa sản xuất nông nghiệp để phù hợp với khí hậu từng mùa.