

Mời các bạn cùng tham khảo hướng dẫn giải bài tập SBT Địa lý Bài 10: Thực hành: Tìm hiểu địa phương lớp 7 được chúng tôi chọn lọc và giới thiệu ngay dưới đây nhằm giúp các em học sinh tiếp thu kiến thức và củng cố bài học của mình và hoàn thành thật tốt các bài kiểm tra, bài thi trong quá trình học tập môn Địa lý.

**Bài 1 trang 23 SBT Địa Lí 7**

Dựa vào bảng thống kê dưới đây:

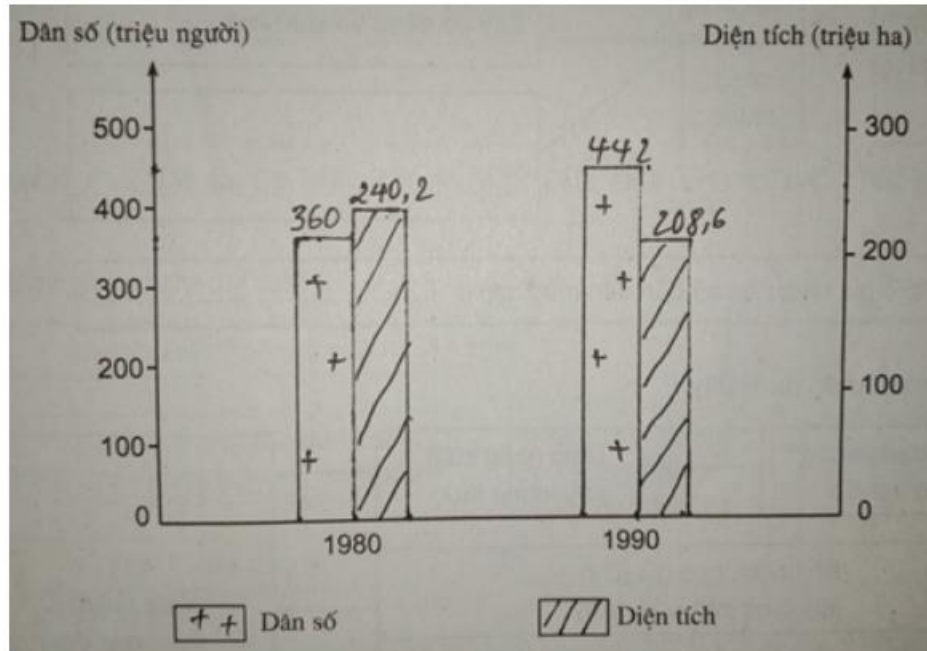
**DIỆN TÍCH RỪNG, DÂN SỐ ĐÔNG NAM Á**

Năm	Dân số (triệu người)	Diện tích rừng (triệu ha)
1980	360	240,2
1990	442	208,6

- a) Hãy vẽ biểu đồ về sự gia tăng dân số, sự giảm sút diện tích rừng năm 1980 và năm 1990 ở Đông Nam Á.
- b) Từ biểu đồ trên, nêu nhận xét về tương quan giữa gia tăng dân số với suy giảm diện tích rừng ở Đông Nam Á, bằng cách điền nội dung thích hợp vào chỗ trống (...) trong các câu dưới đây:

**Lời giải:**

- a) Biểu đồ thể hiện sự gia tăng dân số, sự giảm sút diện tích rừng năm 1980 và năm 1990 ở Đông Nam Á.



b) - Từ năm 1980 đến năm 1990, dân số Đông Nam Á tăng từ 360 triệu người đến 442 triệu người. Trung bình một năm tăng 8,2 triệu người.

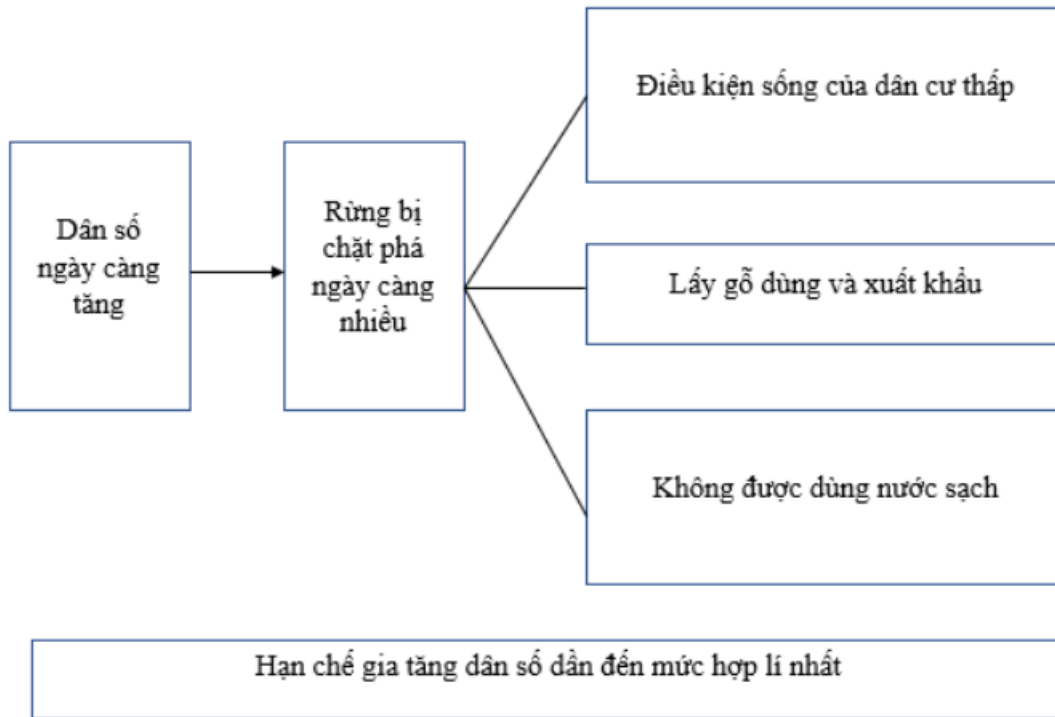
- Từ năm 1980 đến năm 1990, diện tích rừng Đông Nam Á giảm từ 240,2 triệu ha xuống còn 208,6 triệu ha. Trung bình một năm giảm 3,16 triệu ha.

- Như vậy ta thấy dân số ngày càng tăng trong khi đó thì diện tích rừng ngày càng giảm.

**Bài 2 trang 24 SBT Địa Lí 7**

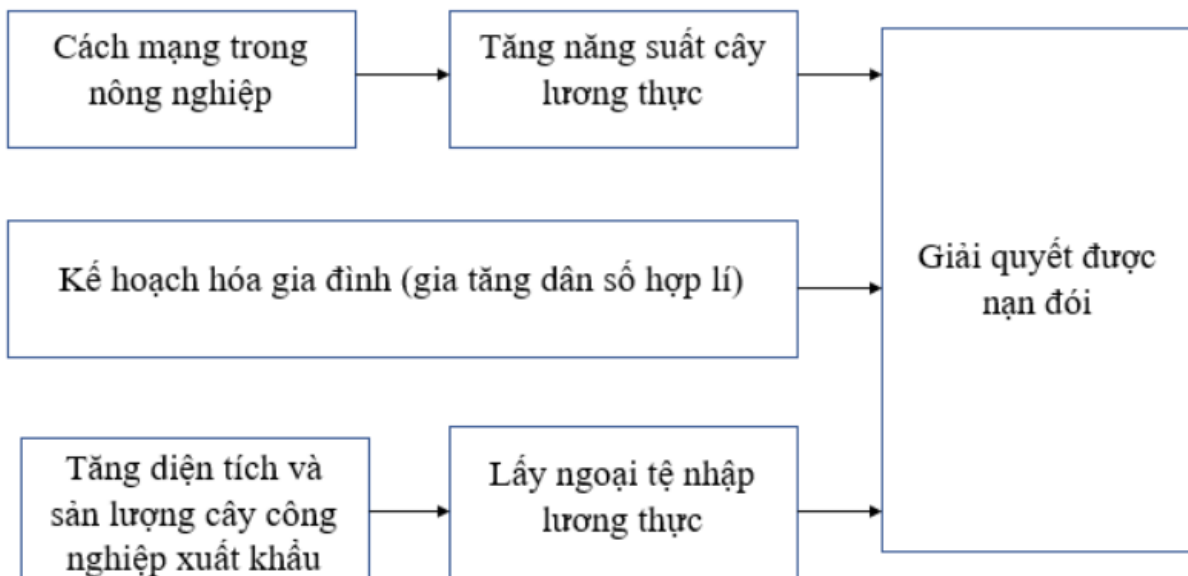
Hoàn thành sơ đồ dưới đây để nêu rõ nguyên nhân của sự suy giảm diện tích rừng và những biện pháp khắc phục:

**Lời giải:**



**Bài 3 trang 24 SBT Địa Lí 7**

Dựa vào sơ đồ dưới đây:



Em hãy nêu những biện pháp cụ thể để giải quyết nạn đói ở đới nóng.

**Lời giải:**

- Thực hiện cách mạng nông nghiệp để tăng năng suất cây lương thực.
- Thực hiện kế hoạch hóa gia đình (gia tăng dân số hợp lý).
- Tăng diện tích và sản lượng cây công nghiệp xuất khẩu.

**Bài 4 trang 25 SBT Địa Lí 7**

Vẽ mũi tên nối các ô chữ và điền nội dung còn thiếu vào các ô sao cho đúng.

**Lời giải:**

