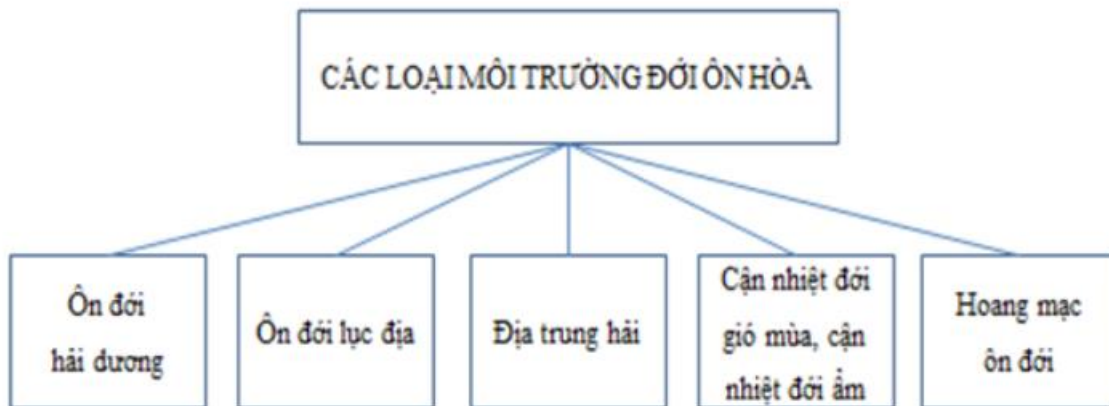


Chúng tôi xin giới thiệu đến học sinh bộ tài liệu giải sách bài tập Địa Lí 7 Bài 13: Môi trường đới ôn hòa có đáp án và lời giải hay cho các câu hỏi trong sách bài tập môn Địa lớp 7. Hỗ trợ học sinh ôn tập, nắm chắc phương pháp giải các dạng bài tập. Nội dung chi tiết học sinh xem tại đây.

Bài 1 trang 31 SBT Địa Lí 7

Hoàn thành sơ đồ dưới đây:

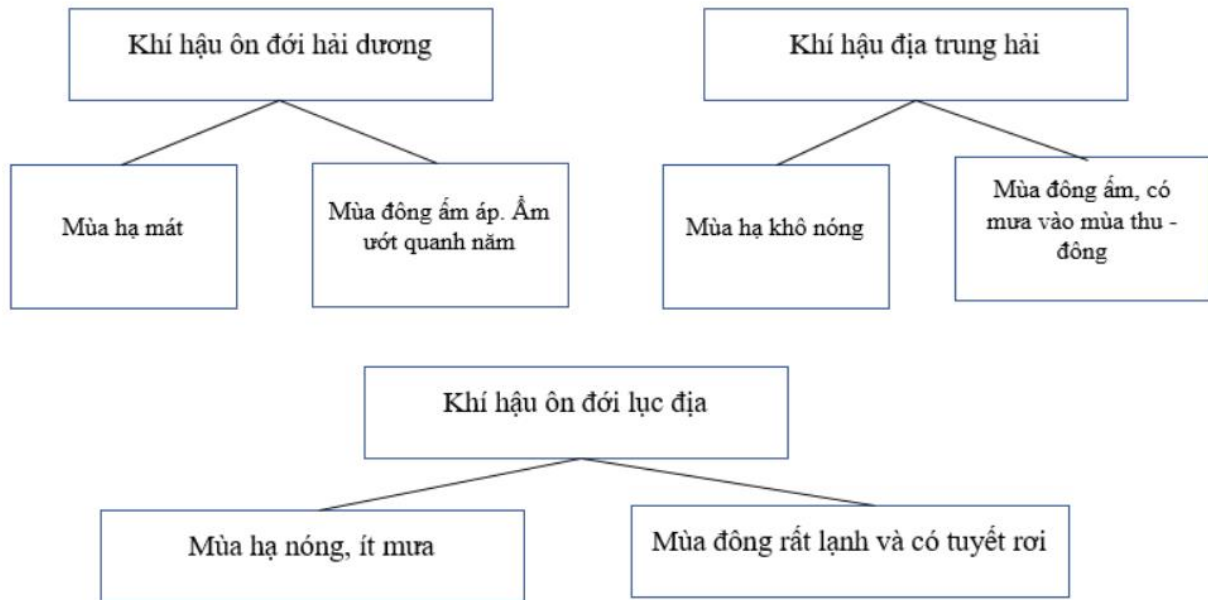
Lời giải:



Bài 2 trang 31 SBT Địa Lí 7

Chọn các cụm từ: khí hậu ôn đới hải dương, khí hậu ôn đới lục địa, khí hậu địa trung hải ghi vào các sơ đồ dưới đây sao cho chính xác:

Lời giải:



Bài 3 trang 32 SBT Địa Lí 7:

Hãy ghi chữ Đ vào ô trống ý trả lời đúng, chữ S vào ô trống ý trả lời sai.

Lời giải:

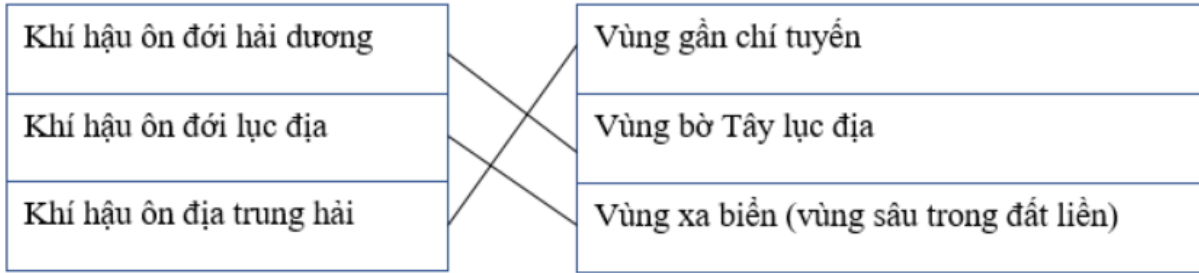
Những yếu tố gây biến động thời tiết ở đới ôn hòa là:

- a) Đợt không khí lạnh.
- b) Đợt không khí nóng
- c) Gió Tây ôn đới.
- d) Hải lưu nóng.
- đ) Diện tích đới rộng, chiếm một nửa diện tích đất nổi trên Trái Đất.

Bài 4 trang 32 SBT Địa Lí 7

Nối ý ở cột A với ý ở cột B để nêu đúng sự phân bố của từng loại khí hậu ôn đới.

Lời giải:



Bài 5 trang 32 SBT Địa Lí 7

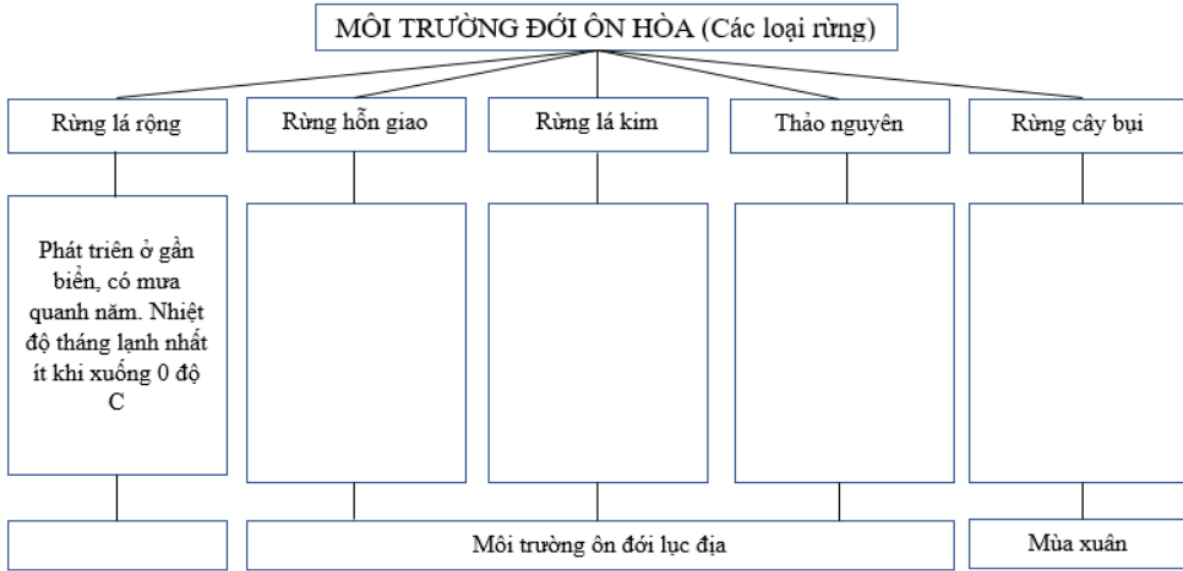
Hãy chọn các cụm từ sau: mùa xuân, mùa hạ, mùa thu, mùa đông ghi vào các ô còn trống trong sơ đồ sao cho đúng với đặc điểm của từng mùa ở môi trường đới ôn hòa.

Lời giải:



Bài 6 trang 33 SBT Địa Lí 7

Hoàn thành sơ đồ dưới đây:



Lời giải:

