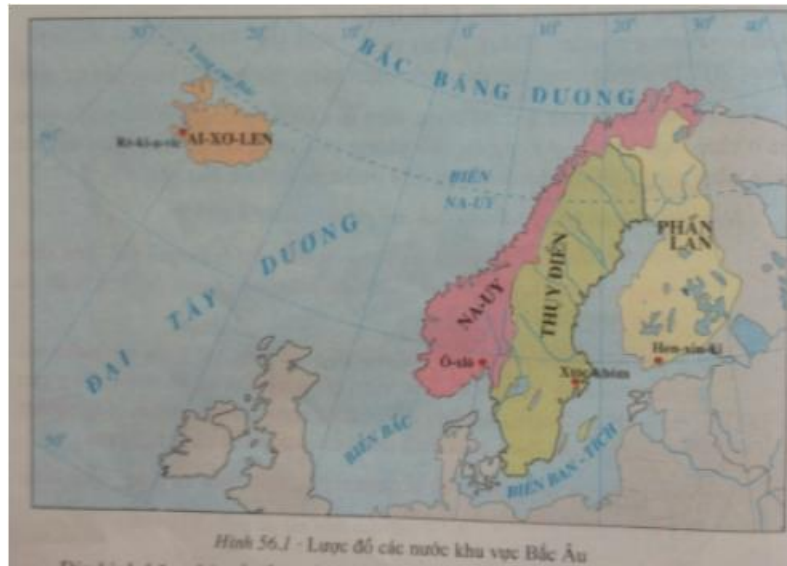


Với bộ tài liệu giải Địa lớp 7 Bài 56: Khu vực Bắc Âu được biên soạn bởi ngũ chuyên gia giàu kinh nghiệm chia sẻ. Hướng dẫn học sinh giải các dạng bài tập trong sách giáo khoa và tổng hợp lý thuyết bài học. Nội dung chi tiết các em tham khảo tại đây.

Trả lời câu hỏi SGK Địa Lý 7 Bài 56 trang 168, 169

Câu 1 (trang 168 SGK Địa Lí 7):

- Xác định vị trí của các nước khu vực Bắc Âu trên hình 56.1

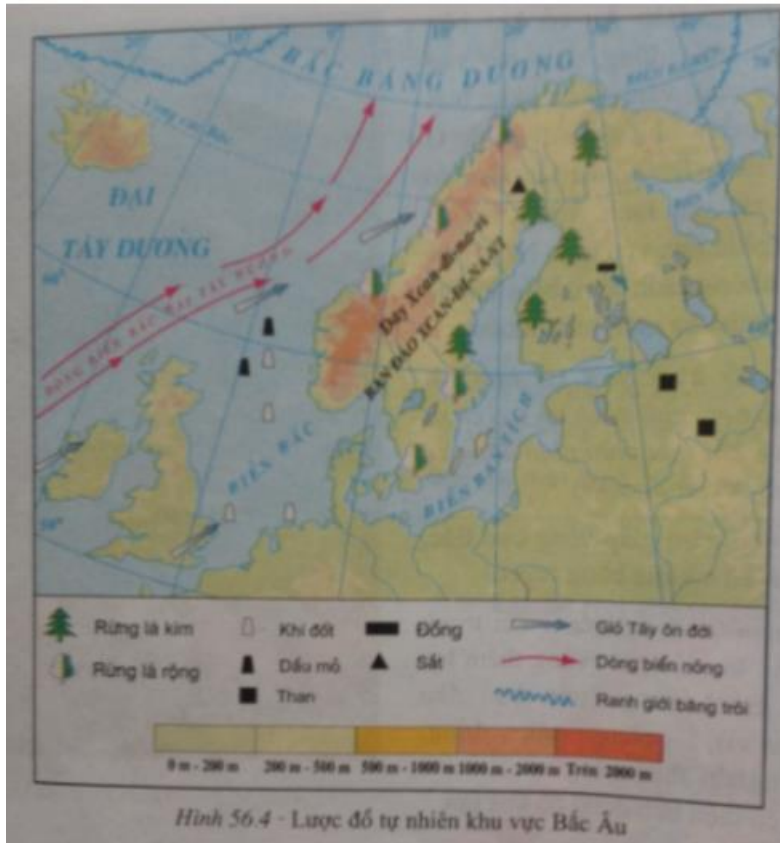


Trả lời:

Xác định trên hình 56.1 vị trí của các nước khu vực Bắc Âu: Na-Uy, Thụy Điển, Phần Lan, Ai-xơ-len.

Câu 2 (trang 169 SGK Địa Lí 7):

- Quan sát hình 56.4 kết hợp với kiến thức đã học, giải thích tại sao có sự khác biệt về mặt khí hậu giữa phía đông và phía tây dãy Xcơ-đin-na-vi?



Trả lời:

Do ảnh hưởng của dòng biển nóng Bắc Đại Tây Dương và gió Tây ôn đới, nên phía tây dãy Xcan-đi-na-vi có khí hậu ấm và ẩm hơn phía đông. Dãy Xcan-đi-na-vi ngăn chặn ảnh hưởng của dòng biển nóng và gió Tây ôn đới nên phía đông dãy Xcan-đi-na-vi có khí hậu lạnh giá về mùa đông.

Giải bài tập SGK Bài 56 Địa 7 trang 171

Bài 1 (trang 171 SGK Địa Lí 7):

Nêu những khó khăn về tự nhiên của các nước Bắc Âu đối với đời sống và sản xuất.

Lời giải:

Khí hậu lạnh giá về mùa đông ở khu vực Bắc Âu làm cho biển đóng băng về mùa đông ở khu vực giữa Thụy Điển và Phần Lan, gây khó khăn cho sản xuất và đời sống.

Bài 2 (trang 171 SGK Địa Lí 7):

Các nước Bắc Âu đã khai thác thiên nhiên hợp lí để phát triển kinh tế như thế nào?

Lời giải:

- Khai thác nguồn thủy điện dồi dào và rẻ để phát triển công nghiệp.
- Phát triển kinh tế biển : hàng hải và đánh cá, khai thác dầu khí ở Biển Bắc.
- Phát triển công nghiệp khai thác rừng, sản xuất đồ gỗ và giấy xuất khẩu.

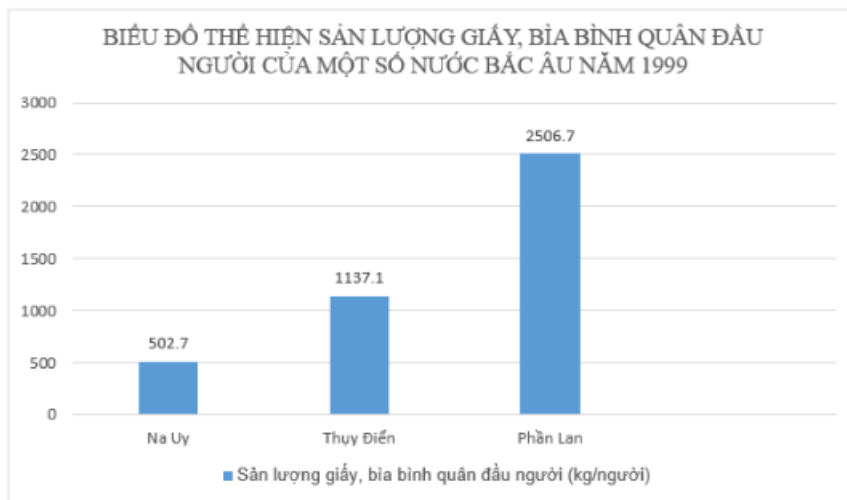
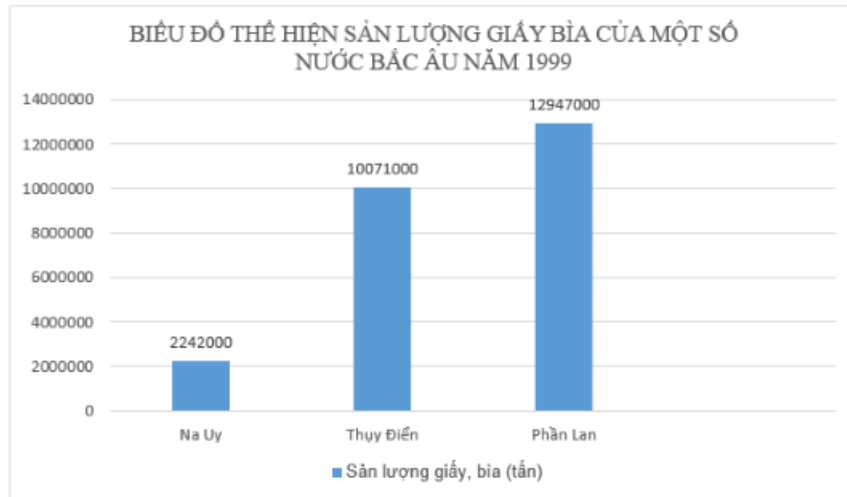
Bài 3 (trang 171 SGK Địa Lí 7):

Dựa vào bảng số liệu dưới đây vẽ biểu đồ thể hiện sản lượng và sản lượng bình quân đầu người về giấy, bìa (năm 1999) ở một số nước Bắc Âu; nêu nhận xét.

Tên nước	Sản lượng giấy, bìa (tấn)	Sản lượng giấy, bìa bình quân đầu người (kg)
Na Uy	2.242.000	502,7
Thụy Điển	10.071.000	1137,1
Phần Lan	12.947.000	2506,7

Lời giải:

- Vẽ biểu đồ:



Biểu đồ thể hiện sản lượng giấy, bì và sản lượng giấy bì bình quân đầu người của Na – uy , Thụy Điển, Phần Lan năm 1999

Tên nước	Sản lượng giấy, bì (tấn)	Sản lượng giấy, bì bình quân đầu người (kg)
Na Uy	2.242.000	502,7
Thụy Điển	10.071.000	1137,1
Phần Lan	12.947.000	2506,7

- Nhận xét:

+ Các nước Bắc Âu không khai thác và xuất khẩu gỗ nguyên liệu mà chế biến thành giấy, bì có giá trị kinh tế cao hơn, hiệu quả khai thác sẽ lớn hơn rất nhiều.

+ Phần Lan có sản lượng giấy, bìa và sản lượng giấy, bìa bình quân đầu người cao nhất và thấp nhất là Na – uy.

Lý thuyết Địa Lý lớp 7 Bài 56

1.khái quát tự nhiên



Hình 56.1 - Lược đồ các nước khu vực Bắc Âu

- Vị trí địa lí:

+ Gồm có các nước Ai-xơ-len, Na Uy, Thụy Điển và Phần Lan.

+ Nằm trong môi trường ôn đới lục địa, đới lạnh và ôn đới hải dương.

- Đặc điểm địa hình:

+ Địa hình băng hà Cổ, Fio ở Na Uy, hồ, đầm ở Thụy Điển, Phần Lan.


+ Núi lửa và suối nước nóng ở Ai-xơ-len.

- Đặc điểm khí hậu:

- + Mùa hè mát, mùa đông lạnh.
- + Phía Tây bán đảo Xcan-di-na-vi ẩm, mưa nhiều, phía Đông lạnh giá, tuyết rơi.
- + Ai-xơ-len băng tuyết quanh năm.



Hình 56.2 - Bờ biển fiơ ở Na Uy



Hình 56.3 - Hồ băng hà và rừng lá kim ở Phần Lan

- Nguồn tài nguyên: nhiều dầu khí, rừng, cá biển, sắt, đồng...đồng cỏ và thủy năng



Hình 56.4 - Lược đồ tự nhiên khu vực Bắc Âu

2. Kinh tế

- Các ngành công nghiệp:

+ Các ngành kinh tế rừng: sản xuất đồ gỗ, bột giấy và bột xenlulozo xuất khẩu.

+ Các ngành kinh tế biển: Đánh cá, chế biến cá xuất khẩu; đóng tàu, cho thuê tàu, hàng hải.

+ Các ngành khác: Dầu khí, thủy điện, sản xuất, luyện kim,...

- Nông nghiệp: Chăn nuôi và chế biến các sản phẩm từ chăn nuôi.

- Dịch vụ: du lịch chiếm tỉ trọng cao (hải cảng, phố cổ, lâu đài,...),...



Hình 56.5 - Sơ chế trên tàu đánh cá của Na Uy