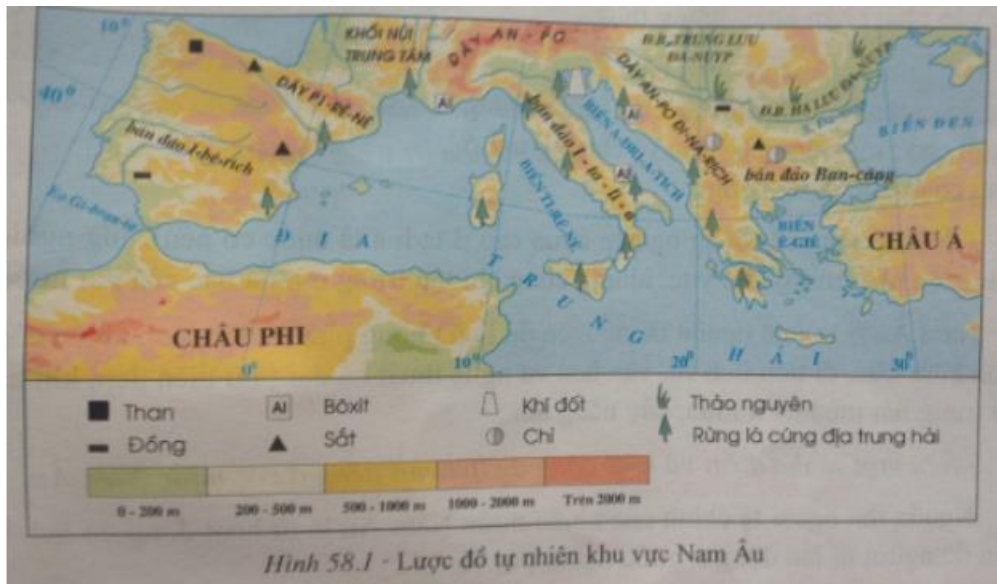


Hướng dẫn giải bài tập Địa lý 7 bài 58 SGK chi tiết nhất. Chúng tôi đã tổng hợp kiến thức trọng tâm của bài học và lời giải các câu hỏi trong sách giáo khoa nằm trong nội dung chương trình giảng dạy bộ môn Địa lớp 7. Mời các em tham khảo bài viết dưới đây.

Trả lời câu hỏi SGK Địa Lý 7 Bài 58 trang 175, 176

Câu 1 (trang 175 SGK Địa Lí 7):

- Quan sát hình 58.1, nêu tên một số dãy núi của khu vực Nam Âu.

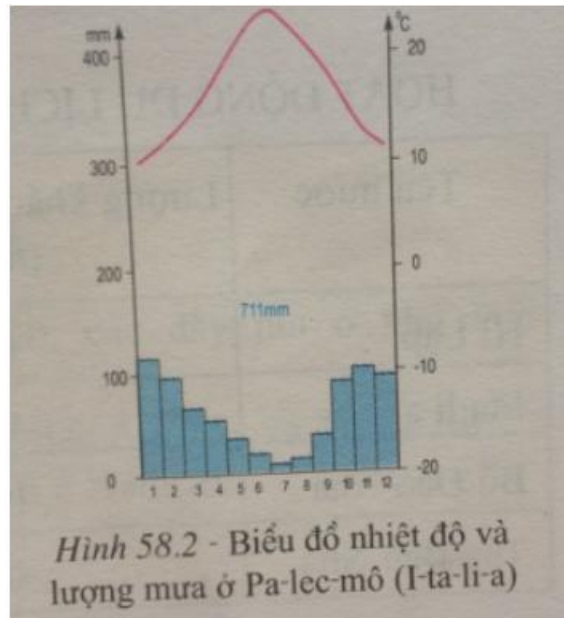


Trả lời:

Một số dãy núi của khu vực Nam Âu: Pi-rê-nê, An-pơ, An-pơ Đì-na-ri-ch.

Câu 2 (trang 175 SGK Địa Lí 7):

- Phân tích hình 58.2 , nêu đặc điểm về nhiệt độ và lượng mưa của khí hậu khu vực Nam Âu. Kể tên một số sản phẩm nông nghiệp độc đáo ở các vùng có kiểu khí hậu này.



Trả lời:

- Phân tích hình 58.2, nêu đặc điểm về nhiệt độ và lượng mưa của khí hậu khu vực Nam Âu:

+ Nhiệt độ: cao nhất khoảng 25°C (tháng 7), thấp nhất khoảng 10°C (tháng 1), biên độ nhiệt trung bình năm 15°C

+ Lượng mưa: mưa nhiều vào mùa thu - đông (Tháng 10 đến tháng 3 năm sau), mùa hạ mưa ít.

- Một số sản phẩm nông nghiệp độc đáo ở các vùng có kiểu khí hậu này: chăn nuôi cừu, dê; trồng cây ăn quả nhiệt đới (cam, chanh), ô liu,...

Câu 3 (trang 176 SGK Địa Lí 7):

- Nêu một số địa điểm và hoạt động du lịch nổi tiếng ở các nước Nam Âu.

Trả lời:

Một số địa điểm và hoạt động du lịch nổi tiếng ở các nước Nam Âu: tham quan Phố Vơ-ni-dơ, tháp nghiêng Pi-da (I-ta-li-a) hoặc tắm các bãi biển đẹp của vùng Địa Trung Hải.

Giải bài tập SGK Bài 58 Địa 7 trang 177

Bài 1 (trang 177 SGK Địa Lí 7):

Xác định trên bản đồ vị trí của các bán đảo, các dãy núi ở khu vực Nam Âu.

Lời giải:

Dựa vào kí hiệu và kênh chữ trên bản đồ để xác định.

- Các bán đảo: I-rê-bích, I-ta-li-a, Ban-căng.

- Các dãy núi: Pi-rê-nê (nằm giữa Pháp và Tây Ban Nha), An-ơ (nằm giữa Nam Âu), An-ơ Đì-na-rich (nằm trên bán đảo Ban Căng) .

Bài 2 (trang 177 SGK Địa Lí 7):

Tại sao nói kinh tế Nam Âu chưa phát triển bằng Bắc Âu, Tây và Trung Âu?

Lời giải:

- Khoảng 20% lực lượng lao động làm việc trong lĩnh vực nông nghiệp, sản xuất theo quy mô nhỏ.

- Trình độ sản xuất công nghiệp chưa cao. I-ta-li-a có nền công nghiệp phát triển nhất trong khu vực nhưng công nghiệp cũng chỉ tập trung ở phía bắc đất nước.

Bài 3 (trang 177 SGK Địa Lí 7):

Nêu những tiềm năng phát triển của ngành du lịch ở Nam Âu.

Lời giải:

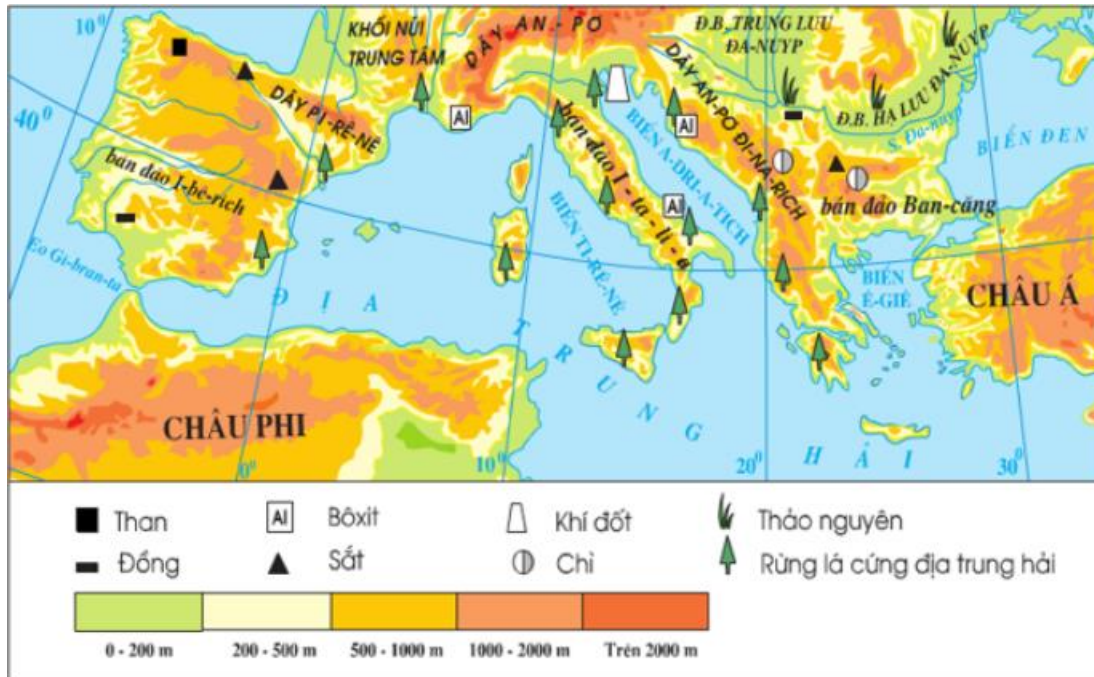
Nam Âu là nơi có nguồn tài nguyên du lịch phong phú và đặc sắc.

- Nhiều công trình kiến trúc, di tích lịch sử, văn hóa và nghệ thuật cổ đại.

- Bờ biển đẹp, khí hậu địa trung hải đặc sắc.

Lý thuyết Địa Lý lớp 7 Bài 58

1. Khái quát tự nhiên



Hình 58.1 - Lược đồ tự nhiên khu vực Nam Âu

- Vị trí địa lí và hình dạng lãnh thổ:

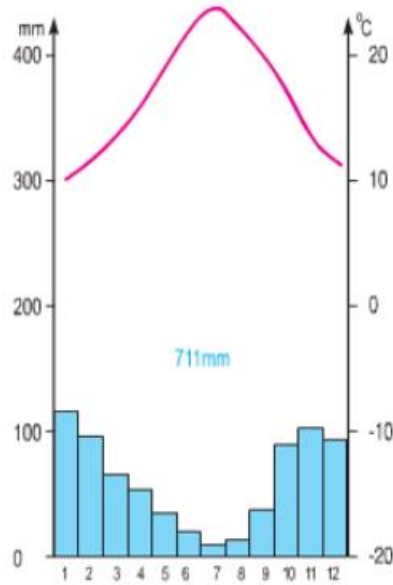
- + Nằm ven bờ biển Địa Trung Hải
- + Gồm 3 bán đảo: I-bê-ri-ch, I-ta-li-a và Ban-căng.
- + Khu vực Nam Âu có 10 quốc gia.

- Đặc điểm địa hình:

- + Phần lớn diện tích khu vực là núi và cao nguyên.
- + Có một số đồng bằng nhỏ hẹp ven biển.

- Đặc điểm khí hậu, sông ngòi:


- + Khí hậu Địa Trung Hải: Mùa hạ nóng khô, mưa nhiều vào mùa thu - đông.
- + Sông ngòi ngắn dốc, nhiều nước vào thu đông.



Hình 58.2 - Biểu đồ nhiệt độ và lượng mưa ở Pa-lec-mô (I-ta-li-a)

2. Kinh tế

a. Nông nghiệp



Hình 58.3 - Chăn thả cừu ở Hi Lạp

- Tình hình: Sản xuất theo quy mô nhỏ, tỉ lệ lao động chiếm 20% lực lượng lao động
- Ngành trồng trọt:
 - + Cây lương thực: chưa phát triển.
 - + Cây ăn quả cận nhiệt đới: cam, chanh, ô liu, nho... là ngành truyền thống nổi tiếng.
- Ngành chăn nuôi: theo hình thức du mục, sản lượng thấp.

b. Công nghiệp

- Trình độ sản xuất công nghiệp chưa cao.
- Italia là nước có nền công nghiệp phát triển nhất.

c. Dịch vụ

- Nguồn tài nguyên du lịch phong phú.
- Nguồn thu ngoại tệ chính của các quốc gia Nam Âu là các hoạt động du lịch.



Hình 58.4 - Một góc phố ở Vơ-ni-dơ
(I-ta-li-a)



Hình 58.5 - Tháp nghiêng Pi-da
(I-ta-li-a)