

Nội dung bài viết

1. [Bài 1 trang 52 Tập bản đồ Địa Lí 11](#)
2. [Bài 2 trang 53 Tập bản đồ Địa Lí 11](#)
3. [Bài 3 trang 54 Tập bản đồ Địa Lí 11](#)
4. [Bài 4 trang 54 Tập bản đồ Địa Lí 11](#)
5. [Bài 5 trang 54 Tập bản đồ Địa Lí 11](#)

Mời các em học sinh và quý thầy cô tham khảo ngay hướng dẫn **giải bài tập bản đồ Địa Lí 11 Bài 11: Tiết 2: Kinh tế** được đội chúng tôi biên soạn đầy đủ và chi tiết nhất tại đây.

Bài 1 trang 52 Tập bản đồ Địa Lí 11

Dựa vào hình 11.5 trong SGK (Hình 14.5 SGK nâng cao), em hãy lựa chọn, điền chữ Đ (đúng) vào ô trống đầu các câu sau nói về sự chuyển dịch cơ cấu GDP của một số quốc gia thuộc khu vực Đông Nam Á.

Lời giải:

- Đ Giảm nhanh khu vực I, tăng nhanh khu vực II và khu vực III.
- Tăng nhanh khu vực I và khu vực II, giảm rõ rệt khu vực III.
- Giảm khu vực I và II, tanng nhanh khu vực III.
- Giảm nhanh khu vực I, tăng nhanh khu vực II và tương đối ổn định khu III.

Bài 2 trang 53 Tập bản đồ Địa Lí 11

Dựa vào SGK và lược đồ kinh tế các nước Đông Nam Á dưới đây, em hãy:

Đánh dấu X vào bảng thể hiện sự phân bố các ngành kinh tế ở khu vực Đông Nam Á

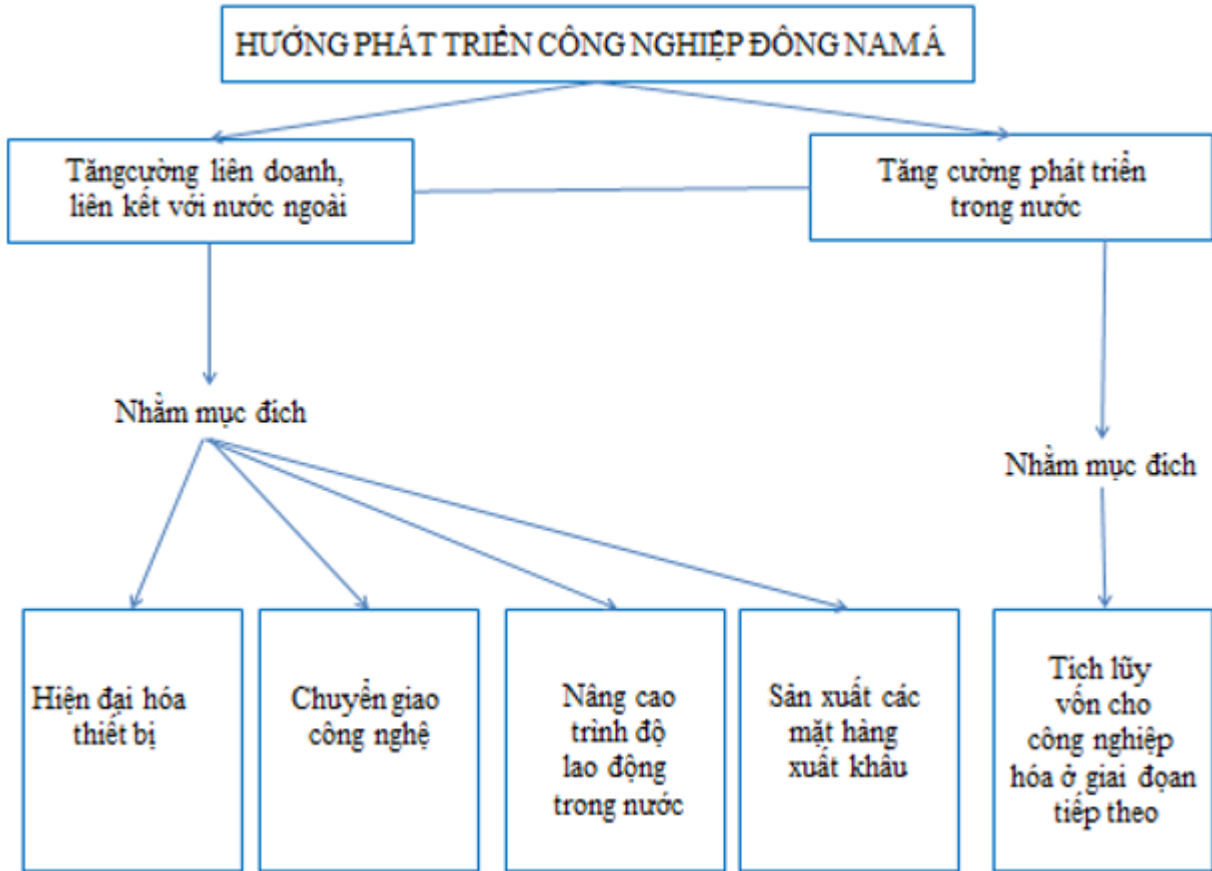
Lời giải:

Khoáng sản	Quốc gia										
	Brunay	Campuchia	Đông Timo	Indonesia	Lào	Malaisia	Mianma	Philippin	Thái lan	Việt Nam	Xingapo
Khai thác dầu mỏ	X			X		X				X	
Khai thác than				X				X		X	
KT, chế biến đồng				X				X			
KT, chế biến Bô xít						X					
Khai thác thiếc				X							
Chế biến gỗ				X	X	X	X	X	X		
Cơ khí				X							
Điện tử				X							
Trồng lúa nước		X		X			X		X	X	
Trồng cây công nghiệp (cao su, cà phê, hồ tiêu, chè)				X		X			X	X	
Trồng cây ăn quả	X	X	X	X	X	X	X	X	X	X	X
Chăn nuôi gia súc (trâu, bò, lợn)				X			X	X	X	X	
Đánh bắt cá	X	X	X	X		X	X	X	X	X	X

Bài 3 trang 54 Tập bản đồ Địa Lí 11

Điền tiếp vào ô trống trong sơ đồ sau:

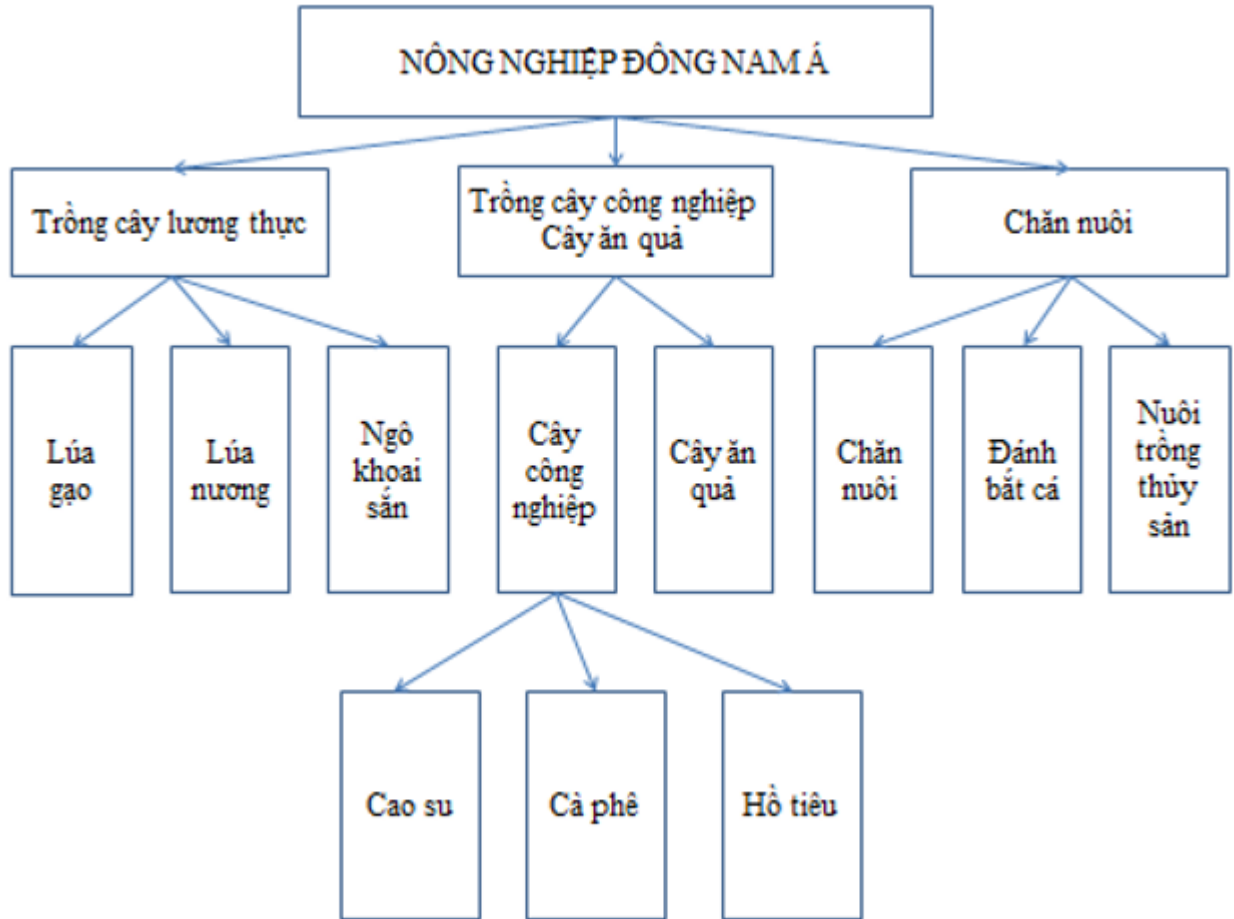
Lời giải:



Bài 4 trang 54 Tập bản đồ Địa Lí 11

Điền tiếp vào ô trống và nối gạch nối vào sơ đồ thể hiện cơ cấu ngành nông nghiệp khu vực Đông Nam Á sao cho hợp lý:

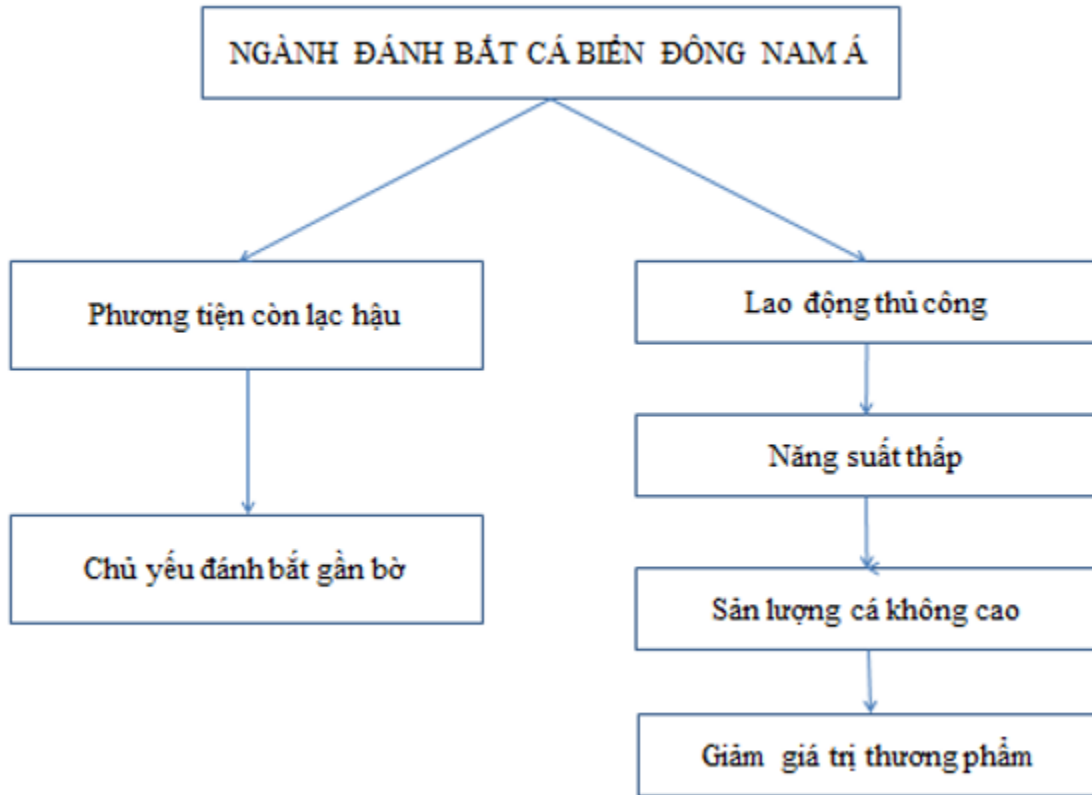
Lời giải:



Bài 5 trang 54 Tập bản đồ Địa Lí 11

Điền dấu gạch nối, mũi tên trong sơ đồ một cách hợp lý để thể hiện sự hạn chế của ngành đánh bắt cá khu vực Đông Nam Á:

Lời giải:



►► **CLICK NGAY** vào nút **TẢI VỀ** dưới đây để tải về **Giải tập bản đồ Địa Lý 11 Bài 11: Tiết 2: Kinh tế** file PDF hoàn toàn miễn phí.