

Nội dung bài viết

1. [Bài 1 trang 49 Tập bản đồ Địa Lí 11](#)
2. [Bài 2 trang 49 Tập bản đồ Địa Lí 11](#)
3. [Bài 3 trang 50 Tập bản đồ Địa Lí 11](#)
4. [Bài 4 trang 50 Tập bản đồ Địa Lí 11](#)

Mời các em học sinh và quý thầy cô tham khảo ngay hướng dẫn **giải bài tập bản đồ Địa Lí 11 Bài 10: Tiết 3: Thực hành: Tìm hiểu sự thay đổi của nền kinh tế Trung Quốc** được đội chúng tôi biên soạn đầy đủ và chi tiết nhất tại đây.

Bài 1 trang 49 Tập bản đồ Địa Lí 11

Dựa vào bảng số liệu 10.2 trong SGK, em hãy:

Lời giải:

- Tính tỉ trọng GDP của Trung Quốc so với thế giới (%).

Năm	1985	1995	2004
Trung Quốc	239 (1,9%)	697,6 (2,37%)	1649,3 (4,03%)
Toàn thế giới	12360 (100%)	29357,4 (100%)	40887,8 (100%)

- Nhận xét sự thay đổi của nền kinh tế thể hiện qua GDP:

+ Tỉ trọng GDP của Trung Quốc tăng qua các năm tăng từ 1,9% (1985) lên 4,03% (2004); sau 19 năm, tăng được 2,13%, tăng gấp 2,1 lần.

+ Trung Quốc có vai trò ngày càng lớn trong nền kinh tế thế giới.

Bài 2 trang 49 Tập bản đồ Địa Lí 11

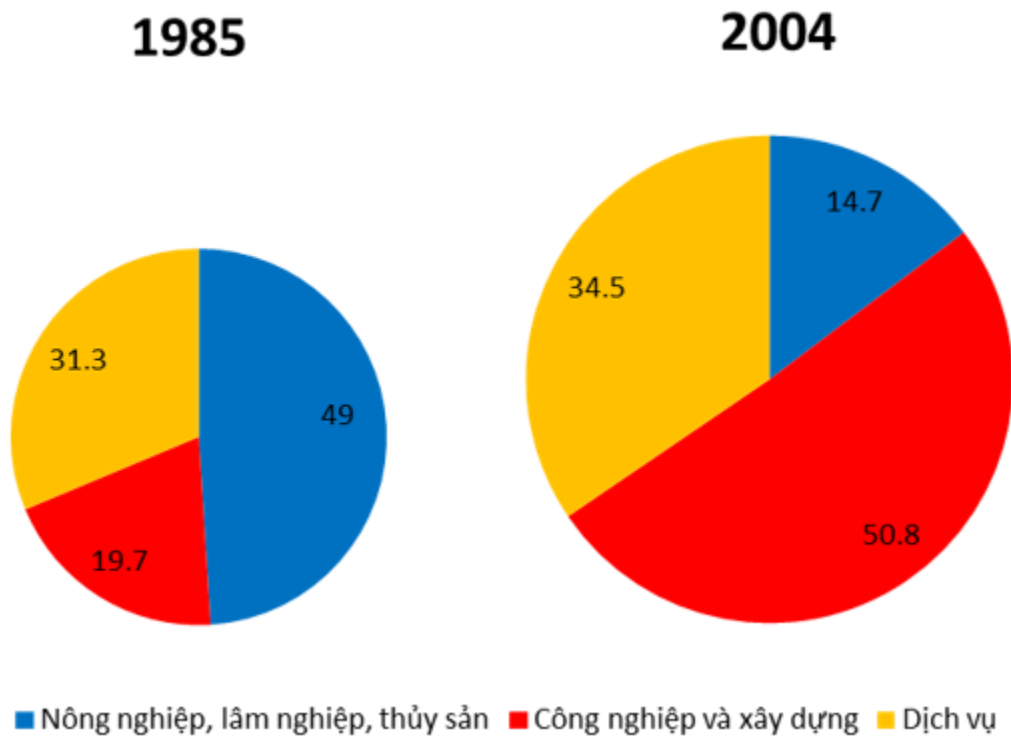
Dựa vào bảng số liệu dưới đây, em hãy vẽ biểu đồ thể hiện “Tỉ trọng của 3 khu vực kinh tế trong tổng GDP của Trung Quốc” và nêu nhận xét của mình:

Năm	1985	2004
Tổng GDP (tỉ USD)	239	1649,3
Nông nghiệp, lâm nghiệp, thủy sản	49%	14,7%

Công nghiệp và xây dựng	19,7% 50,8%
Dịch vụ	31,3% 34,5%

Lời giải:

Biểu đồ thể hiện tỉ trọng của 3 khu vực kinh tế trong tổng GDP của Trung Quốc qua năm 1985 và 2004.



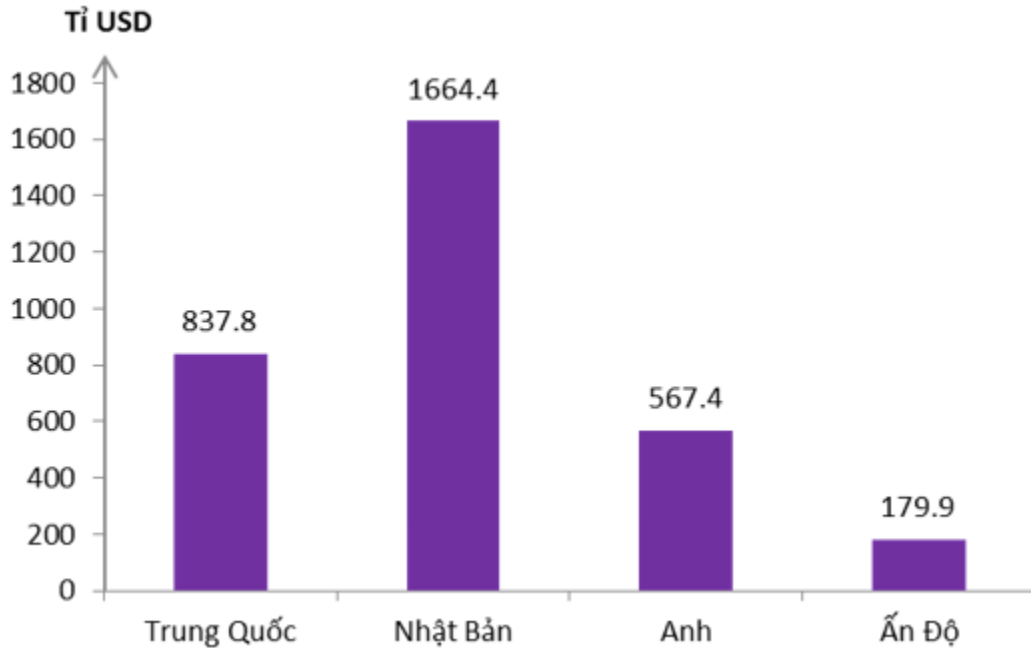
Bài 3 trang 50 Tập bản đồ Địa Lí 11

Dựa vào bảng số liệu dưới đây, em hãy vẽ biểu đồ so sánh về “Tổng sản lượng công nghiệp và xây dựng của Trung Quốc với Nhật Bản, Anh và Ấn Độ” và nhận xét:

Trung Quốc	Nhật bản	Anh	Ấn Độ
837,8	1664,4	567,4	179,9

Lời giải:

Biểu đồ thể hiện tổng sản lượng công nghiệp và xây dựng của Trung Quốc với Nhật Bản, Anh và Ấn Độ năm 2004



Nhận xét:

- Nhìn vào biểu đồ trên ta thấy Trung Quốc có sản lượng công nghiệp và xây dựng lớn thứ 2 trong 4 nước.

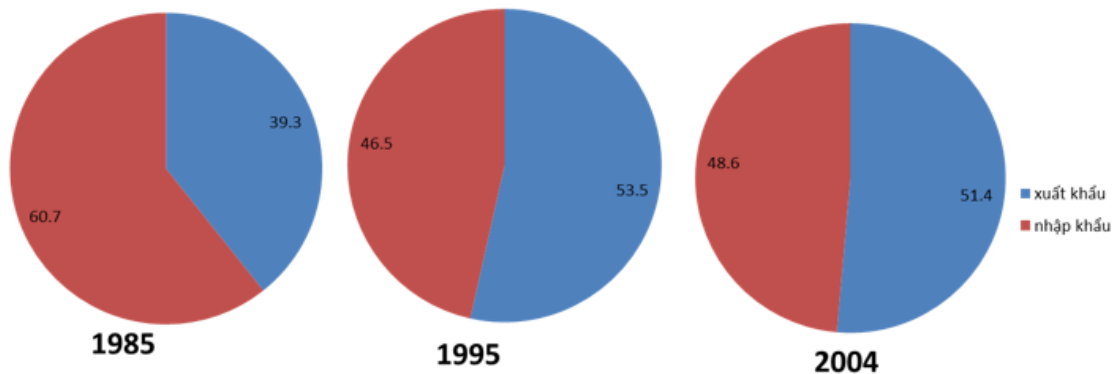
- Sản lượng công nghiệp và xây dựng của Trung Quốc là 837,8 tỉ USD, thấp hơn so với Nhật Bản nhưng gấp 1,5 lần so với Anh và 4,7 lần so với Ấn Độ.

Bài 4 trang 50 Tập bản đồ Địa Lí 11

Dựa vào bảng số liệu 10.4 trong SGK, em hãy:

Lời giải:

Vẽ biểu đồ thể hiện “Cơ cấu xuất, nhập khẩu của Trung quốc qua các năm”.



Biểu đồ thể hiện cơ cấu xuất nhập khẩu của Trung Quốc qua 3 năm
(Đơn vị: %).

Nhận xét sự thay đổi trong cơ cấu xuất, nhập khẩu:

+ Cơ cấu xuất nhập khẩu có sự thay đổi.

+ Tỷ trọng nhập khẩu có xu hướng giảm đi, giảm từ 60,7% (1985) xuống còn 48.6% (2004), giảm được 12.1%. tuy nhiên mức độ giảm không đều.

+ Tỷ trọng xuất khẩu tăng lên nhưng cũng không đều, tăng từ 39,3% (1985) lên 51,4% (2004).

+ Cán cân xuất nhập khẩu: Năm 1985 Trung Quốc là nước nhập siêu, nhưng các năm 1995 và 2004 Trung Quốc xuất siêu.

►► **CLICK NGAY** vào nút **TẢI VỀ** dưới đây để tải về **Giải tập bản đồ Địa Lý 11 Bài 10: Tiết 3: Thực hành: Tìm hiểu sự thay đổi của nền kinh tế Trung Quốc** file PDF hoàn toàn miễn phí.