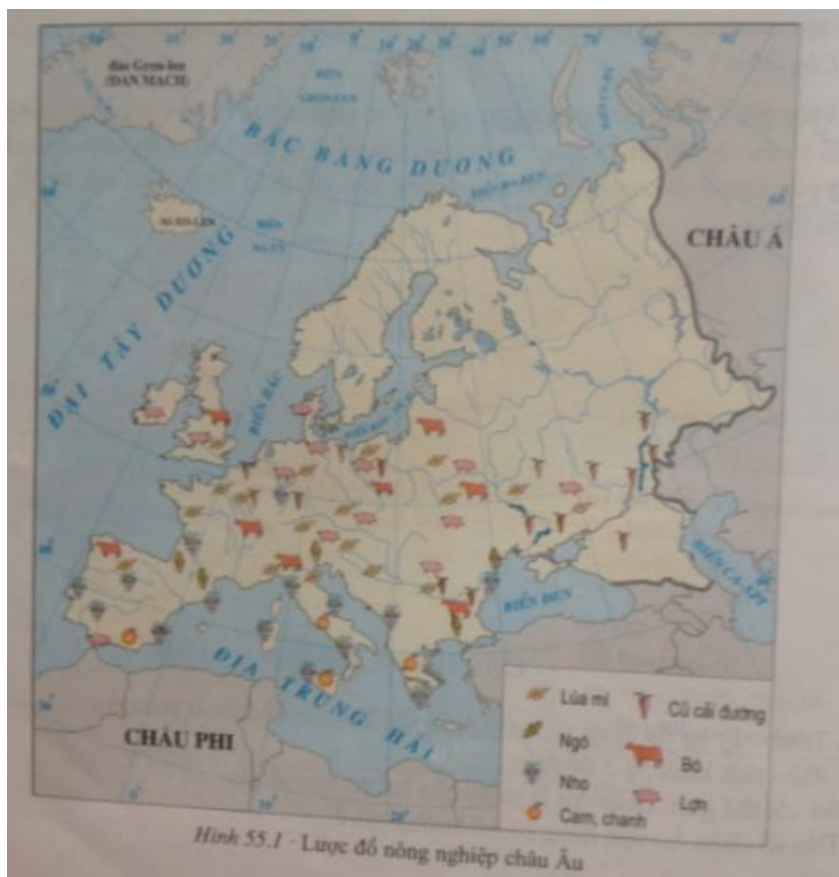


Hướng dẫn giải bài tập SGK bài 55 Địa lý lớp 7. Tổng hợp lời giải hay của các câu hỏi trong sách giáo khoa nằm trong nội dung chương trình giảng dạy bộ môn Địa lớp 7. Nội dung chi tiết các em xem và tải miễn phí tại đây.

Trả lời câu hỏi SGK Địa Lý 7 Bài 55 trang 164 – 167

Câu 1 (trang 164 SGK Địa Lí 7):

- Quan sát hình 55.1, cho biết:
- Các cây trồng và vật nuôi chính ở châu Âu.
- Sự phân bố của các cây trồng và vật nuôi đó.



Trả lời:

- Các cây trồng và vật nuôi chính ở châu Âu: lúa mì, ngô, nho, cam, chanh, củ cải đường; bò, lợn.
- Sự phân bố của các cây trồng và vật nuôi đó:

- + Vùng trồng nho và cam, chanh: tập trung chủ yếu ở vùng ven biển quanh Địa Trung Hải.
- + Vùng trồng lúa mì: tập trung chủ yếu ở khu vực Tây Âu và Trung Âu.
- + Vùng trồng ngô: tập trung chủ yếu ở Nam Âu.
- + Vùng chăn nuôi bò, lợn: tập trung chủ yếu ở đồng bằng phía bắc của Tây và Trung Âu.

Câu 2 (trang 165 SGK Địa Lí 7):

- Dựa vào hình 55.2 , trình bày sự phân bố các ngành công nghiệp ở châu Âu.

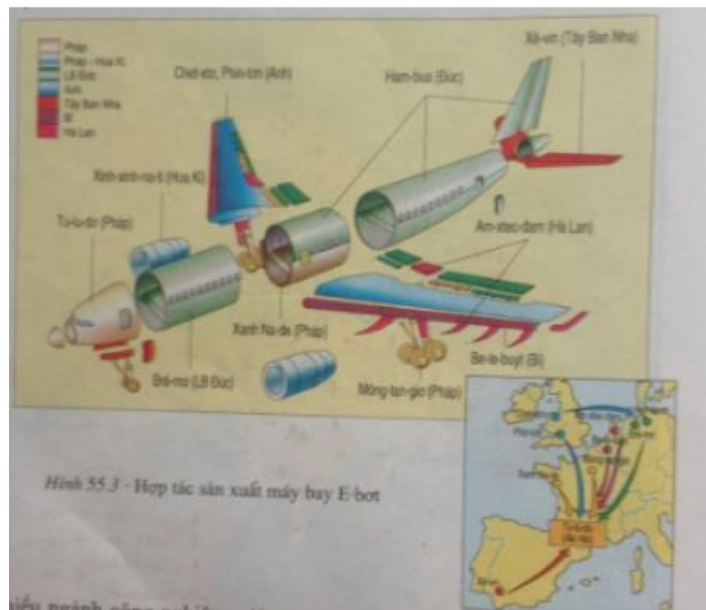


Trả lời:

- Các ngành công nghiệp truyền thống (luyện kim, dệt , đóng tàu, hóa chất..) tập trung nhiều ở Tây và Trung Âu.
- Sản xuất máy bay tập trung ở Pháp, Nga , ngành lọc dầu tập trung chủ yếu ở Anh, I-ta-li-a.

Câu 3 (trang 166 SGK Địa Lí 7):

- Quan sát hình 55.3, nêu sự hợp tác rộng rãi trong ngành công nghiệp sản xuất máy bay ở châu Âu.



Trả lời:

Ngành công nghiệp hàng không của châu Âu được chuyên môn hóa và hợp tác hóa cao độ: mỗi quốc gia châu Âu được phân công sản xuất một số bộ phận của máy bay để đảm nhận vận dụng hiệu quả các thành tựu khoa học kỹ thuật, công nghệ vào việc sản xuất trên quy mô lớn hàng loạt máy bay không hề với giá thành thấp và hiệu quả kinh tế cao.

Câu 4 (trang 167 SGK Địa Lí 7):

- Nêu tên một số trung tâm du lịch nổi tiếng ở châu Âu.

Trả lời:

Một số trung tâm du lịch nổi tiếng ở châu Âu: Pa-ri (Pháp), Luân Đôn (Anh), Vơ-ni-dơ (I-ta-li-a), Tháp nghiêng Pi-da (I-ta-li-a),...

Giải bài tập SGK Bài 55 Địa 7 trang 167

Bài 1 (trang 167 SGK Địa Lí 7):

Vì sao sản xuất nông nghiệp ở châu Âu đạt hiệu quả cao?

Lời giải:

Ba nguyên nhân chính làm cho sản xuất nông nghiệp ở châu Âu đạt hiệu quả cao: Nền nông nghiệp thâm canh, phát triển ở trình độ cao. Áp dụng các tiến bộ khoa học - kĩ thuật tiên tiến; gắn chặt với công nghiệp chế biến.

Bài 2 (trang 167 SGK Địa Lí 7):

Trình bày sự phát triển của ngành công nghiệp ở châu Âu.

Lời giải:

- Nền công nghiệp châu Âu phát triển rất sớm, có nhiều sản phẩm nổi tiếng về chất lượng cao.
- Từ những năm 80 của thế kỉ XX:
 - + nhiều ngành công nghiệp truyền thống (khai thác than, luyện kim, đóng tàu, dệt , may, mặc..) bị giảm sút mạnh do sự cạnh tranh của các nước và các vùng lãnh thổ công nghiệp mới
 - + Hàng loạt các khu công nghiệp cũ ở Bỉ, Hà Lan, Lúc – xem – bua , Pháp , Đức... một thời phồn thịnh, nay gặp nhiều khó khăn, đòi hỏi phải có sự thay đổi về cơ cấu , công nghệ.
- Nhiều ngành công nghiệp mới, trang bị hiện đại được xây dựng ở các trung tâm công nghệ cao. Các ngành công nghiệp mũi nhọn như điện tử, cơ khí chính xác và tự động hóa, công nghiệp hàng không,... nhờ liên kết chặt chẽ với các viện nghiên cứu và các trường đại học, có sự hợp tác rộng rãi giữa các nước nên năng suất và chất lượng sản phẩm được nâng cao, sản phẩm thay đổi phù hợp với yêu cầu của thị trường.

Bài 3 (trang 167 SGK Địa Lí 7):

Lĩnh vực dịch vụ ở châu Âu phát triển đa dạng như thế nào?

Lời giải:

Hoạt động dịch vụ ở châu Âu thâm nhập rộng khắp và phục vụ cho sự phát triển của mọi ngành kinh tế. Phát triển nhất là các ngành tài chính, ngân hàng, bảo hiểm, giao thông vận tải, giáo dục, xuất nhập khẩu, thương mại và du lịch.

Lý thuyết Địa Lý lớp 7 Bài 55**1. Nông nghiệp**



Hình 55.1 - Lược đồ nông nghiệp châu Âu

- Hình thức tổ chức sản xuất: hộ gia đình và trang trại.

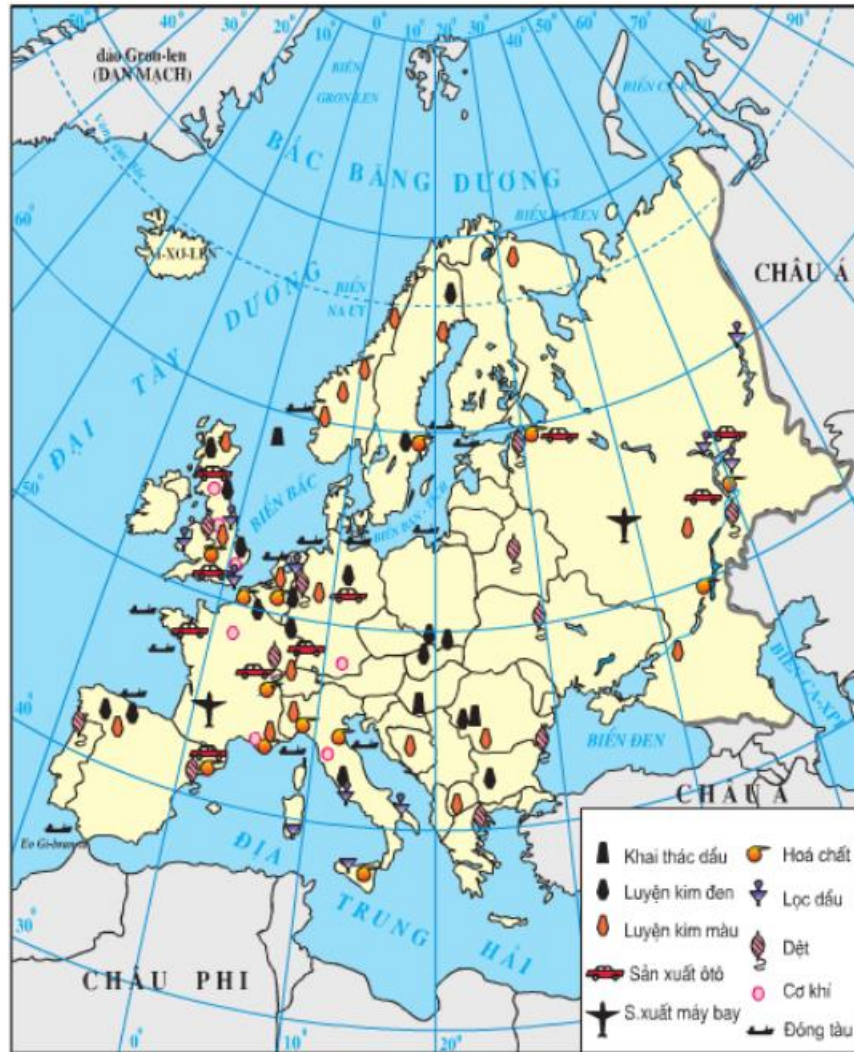
- Đặc điểm:

+ Nền nông nghiệp châu Âu đạt hiệu quả cao.

+ Gắn chặt với ngành công nghiệp chế biến.

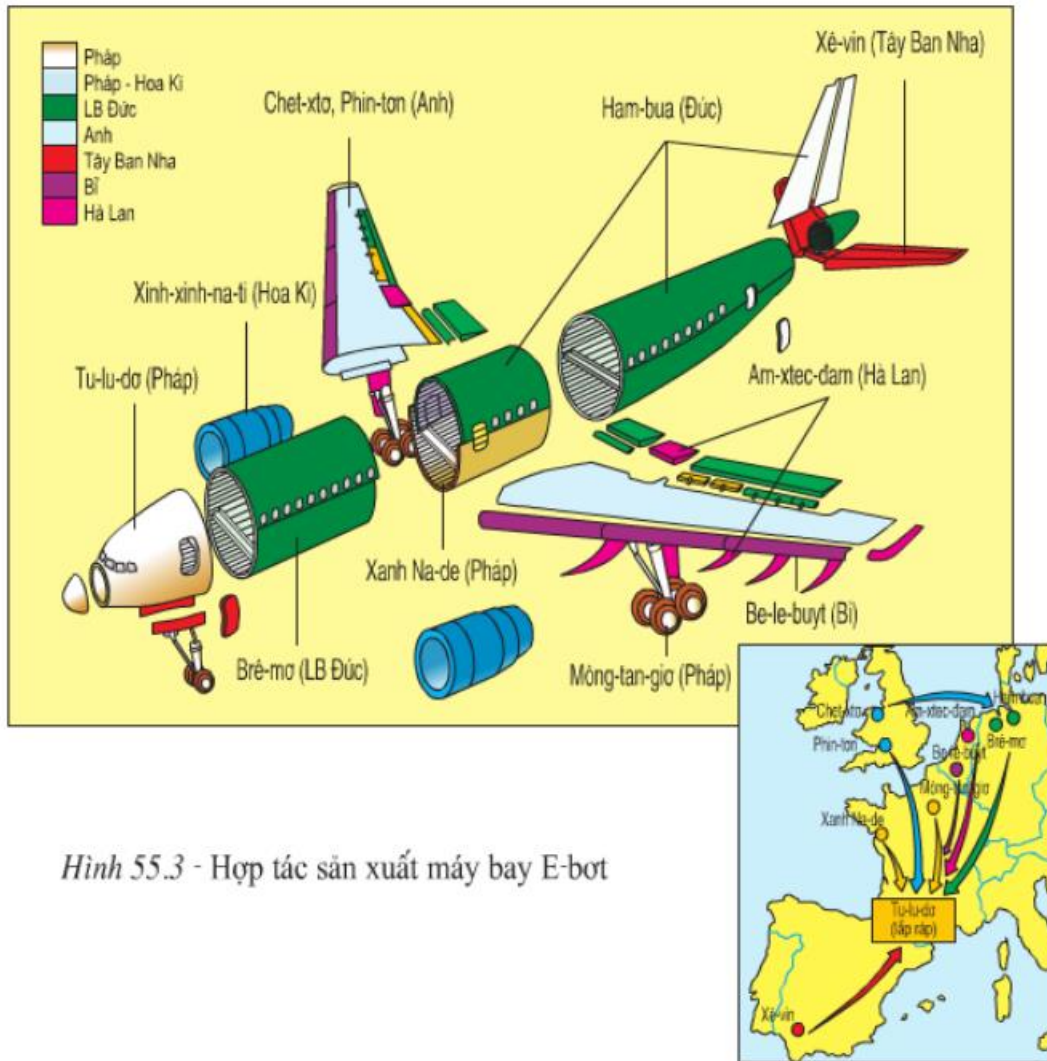
+ Chăn nuôi có tỉ trọng cao hơn trồng trọt.

2. Công nghiệp



Hình 55.2 - Lược đồ công nghiệp châu Âu

- Châu Âu có ngành công nghiệp phát triển sớm nhất thế giới.
- Đặc điểm ngành công nghiệp:
 - + Một số ngành công nghiệp chất lượng cao: Luyện kim, hóa chất, sản xuất ô tô, chế biến thực phẩm,...
 - + Các ngành công nghiệp mới, công nghiệp mũi nhọn phát triển: điện tử, cơ khí chính xác, tự động hóa, công nghiệp hàng không,...
 - + Các ngành công nghiệp truyền thống bị giảm sút, cần phải thay đổi cơ cấu,...



Hình 55.3 - Hợp tác sản xuất máy bay E-bot

3. Dịch vụ


- Đặc điểm:

+ Là lĩnh vực kinh tế phát triển nhất.

+ Hoạt động dịch vụ thâm nhập và phục vụ cho sự phát triển của mọi ngành kinh tế.

- Các ngành phát triển nhất: ngân hàng, giao thông vận tải, bưu chính viễn thông,...

- Hoạt động du lịch đem lại nguồn ngoại tệ lớn ở châu Âu.



Hình 55.4 - Khu du lịch trên dãy An-pơ