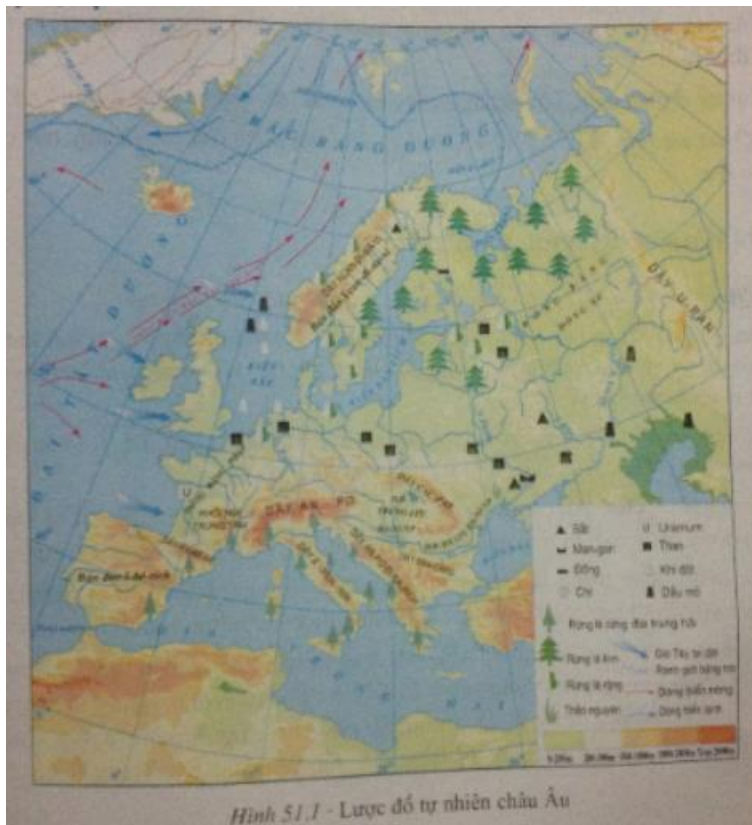


Hướng dẫn giải bài tập Địa lý 7 bài 51 SGK chi tiết nhất. Chúng tôi đã tổng hợp kiến thức trọng tâm của bài học và lời giải các câu hỏi trong sách giáo khoa nằm trong nội dung chương trình giảng dạy bộ môn Địa lớp 7. Mời các em tham khảo bài viết dưới đây.

Trả lời câu hỏi SGK Địa Lý 7 Bài 51 trang 154

Câu 1 (trang 154 SGK Địa Lí 7):

- Xác định trên hình 51.1:
- Các biển: Địa Trung Hải, Măng-sơ, Biển Bắc, Ban-tích, Biển Đen (Hắc Hải), Biển Trắng (Bạch Hải).
- Các bán đảo: Xcan-đi-na-vi, I-bê-rích, I-ta-li-a, Ban-căng.



Hình 51.1 - Lược đồ tự nhiên châu Âu

Trả lời:

Dựa vào kí hiệu và kênh chữ ở trên lược đồ để xác định .

Câu 2 (trang 154 SGK Địa Lí 7):


- Quan sát lược đồ 51.1, cho biết tên các đồng bằng lớn và các dãy núi chính ở châu Âu.

Trả lời:

- Các đồng bằng lớn: đồng bằng Pháp, đồng bằng Đông Âu, đồng bằng trung lưu Đa-nuyp, đồng bằng hạ lưu Đa-nuyp.
- Các dãy núi chính ở châu Âu: dãy Xcan-đi-na-vi, dãy An-pơ, dãy U-ran, dãy Ban-căng, dãy Cac-pat, dãy An-pơ Đi-ma-ri-ch, dãy A-pen-nin, dãy Py-rê-nê.

Câu 3 (trang 154 SGK Địa Lí 7):

- Quan sát hình 51.2, cho biết châu Âu có các kiểu khí hậu nào?



Hình 51.2 - Lược đồ khí hậu châu Âu

Trả lời:

- Vùng ven biển Tây Âu và phía tây của Bắc Âu: khí hậu ôn đới hải dương.
- Vùng ven biển Địa Trung Hải từ Bồ Đào Nha sang tận Hi Lạp: khí hậu địa trung hải.
- Toàn bộ vùng Trung và Đông Âu, phía đông dãy Xcan-đi-na-vi: khí hậu ôn đới lục địa.
- Vùng phía bắc của châu Âu: có một bộ phận nhỏ nằm trong vòng cực có khí hậu hàn đới.

Câu 4 (trang 154 SGK Địa Lí 7):

- Quan sát hình 51.1, nhận xét về mật độ sông ngòi ở châu Âu. Kể tên những con sông lớn ở châu Âu. Các sông này đổ vào biển nào?

Trả lời:

- Mật độ sông ngòi ở châu Âu dày đặc.

- Tên những con sông lớn ở châu Âu và biển mà chúng đổ vào:

+ Sông Ê-brơ trên bán đảo I-bê-ri-ch đổ vào Địa Trung Hải.

+ Sông Pô trên bán đảo A-pen-nin (bán đảo I-ta-li-a) đổ vào Địa Trung Hải.

+ Sông Đa-nuy-p trên bán đảo Ban-căng, sông Đni-ep, sông Đôn đổ vào Biển Đen.

+ Sông Ô-đơ, sông Vi-xla đổ vào biển Ban-tích.

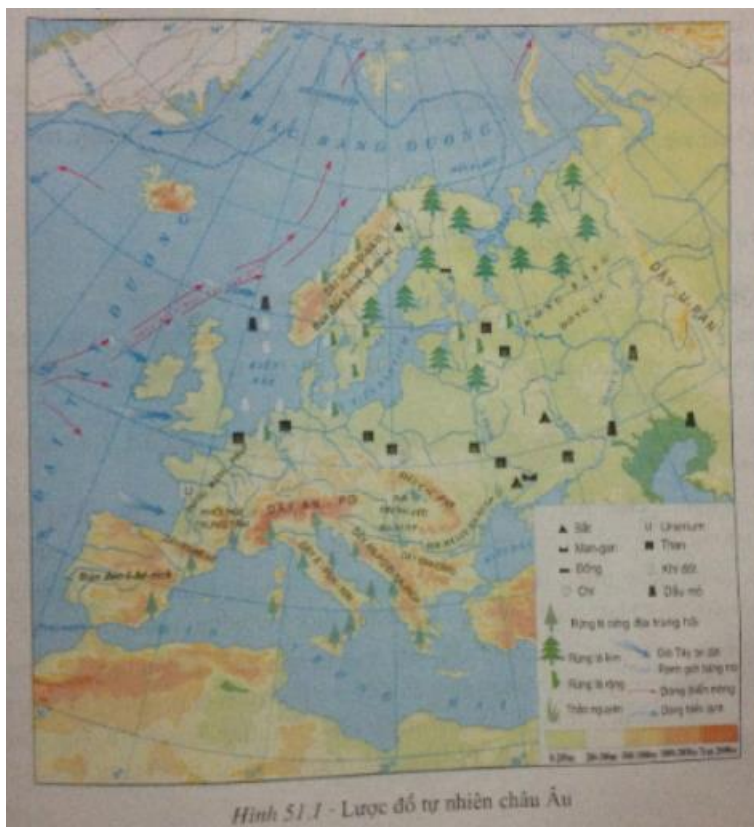
+ Sông En-bơ, sông Rai-nơ đổ vào biển Bắc.

+ Sông Von-ga đổ ra biển Ca-xpi.

Giải bài tập SGK Bài 51 Địa 7 trang 155

Bài 1 (trang 155 SGK Địa Lí 7):

Dựa vào hình 51.1, trình bày sự phân bố các loại địa hình chính của châu Âu.




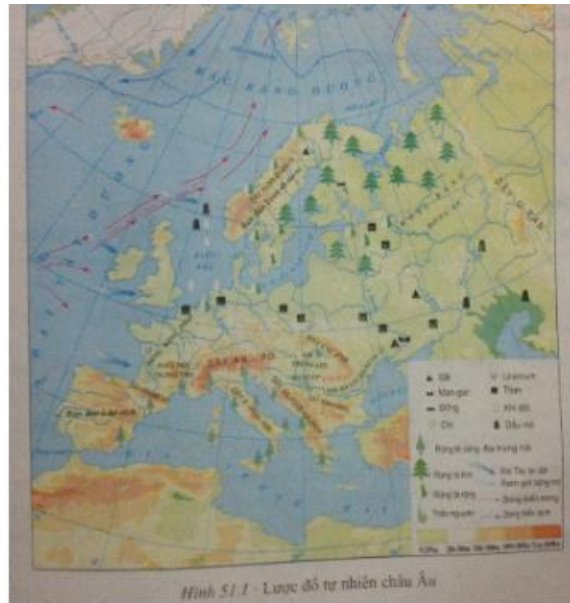
Lời giải:

Châu Âu có ba dạng địa hình chính: đồng bằng, núi già, núi trẻ.

- Đồng bằng: bao gồm miền đồng bằng của khu vực Tây và Trung Âu, đồng bằng Đông Âu.
- Núi già: bao gồm miền núi già của khu vực của khu vực Tây và Trung Âu, Bắc Âu.
- Núi trẻ: bao gồm miền núi trẻ của khu vực Tây và Trung Âu, Nam Âu.

Bài 2 (trang 155 SGK Địa Lí 7):

Dựa vào các hình 51.1 và 51.2, giải thích vì sao ở phía tây châu Âu có khí hậu ẩm áp và mưa nhiều hơn ở phía đông?



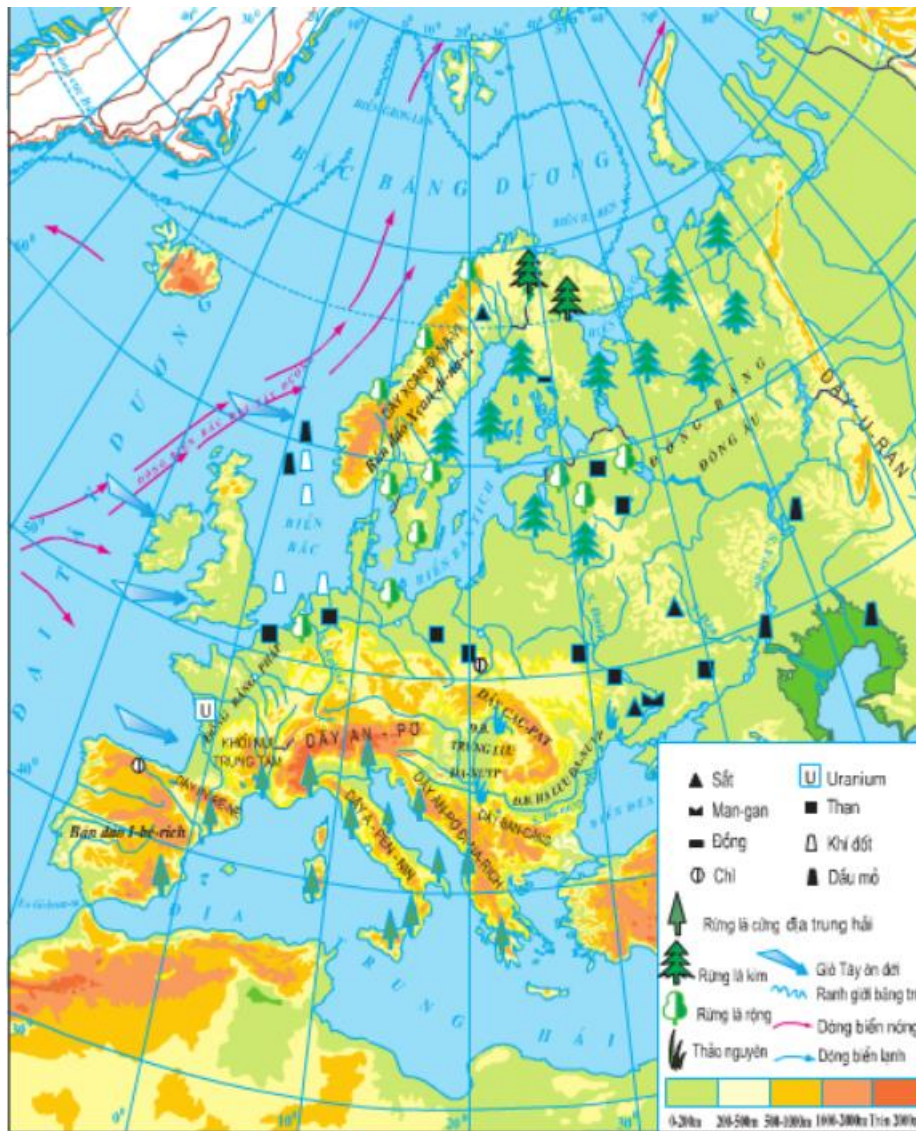
Lời giải:

- Dòng biển nóng Bắc Đại Tây Dương làm cho biển và khí hậu châu Âu thêm ấm về mùa đông. Hơi ẩm và ấm của biển được gió Tây ôn đới thổi quanh năm đưa sâu vào trong đất liền, làm giảm bớt tính chất lục địa của khí hậu ở khu vực Đông và Đông Nam châu Âu.

- Vùng ven biển phía tây chịu ảnh hưởng của biển mạnh hơn, không khí ẩm của biển khi đi sâu vào đất liền bị biến tính dần, ảnh hưởng của biển càng đi sâu về phía đông và đông nam càng yếu đi. Vì thế, càng đi về phía tây, khí hậu châu Âu càng ẩm áp, mưa nhiều và ôn hòa hơn.

Lý thuyết Địa Lý lớp 7 Bài 51

1. Vị trí địa hình

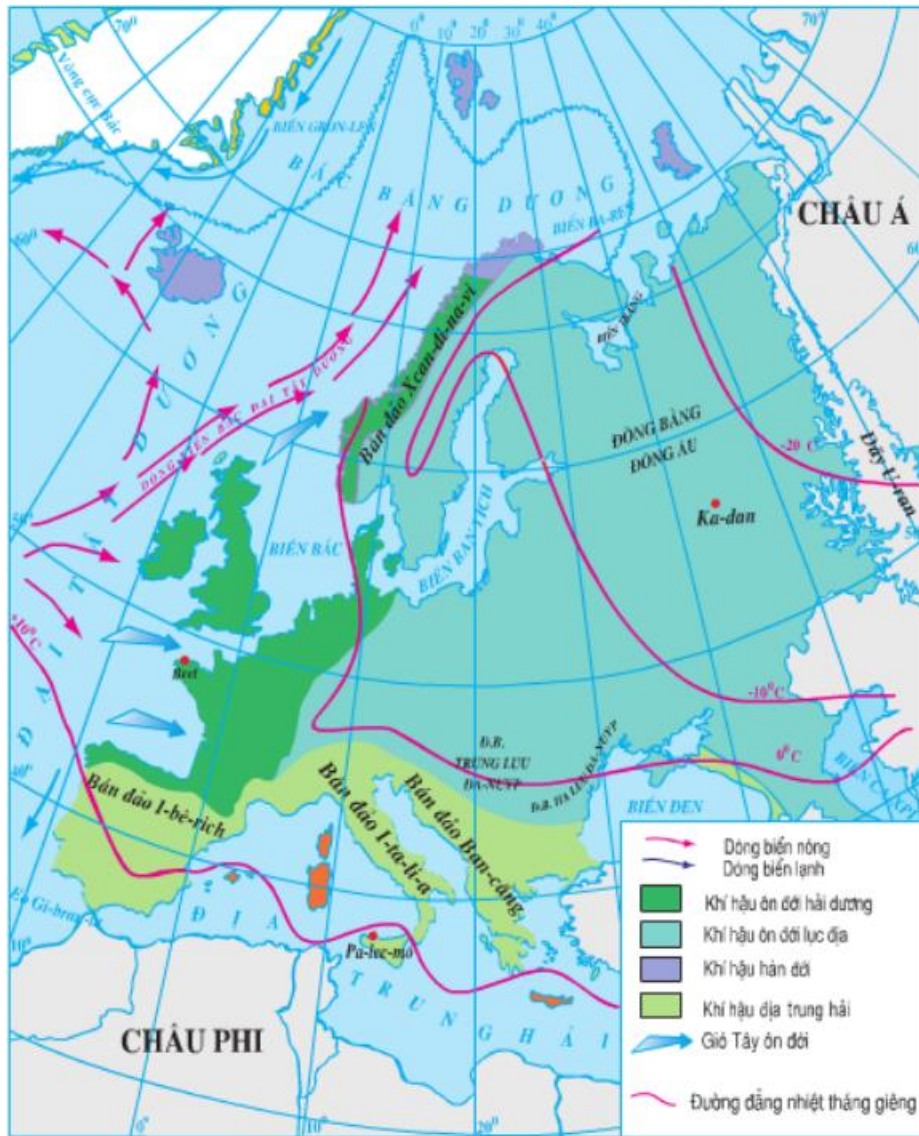


Hình 51.1 - Lược đồ tự nhiên châu Âu

- Vị trí địa lí và phạm vi lãnh thổ
- + Châu Âu là 1 bộ phận của lục địa Á - Âu với diện tích khoảng 10 triệu km².
- + Giới hạn từ 36°B – 71°B.
- + Tiếp giáp: Bắc Băng Dương, biển Địa Trung Hải, Đại Tây Dương và châu Á.
- Đặc điểm địa hình:
- + Có ba dạng địa hình chính: đồng bằng, núi già, núi trẻ.

+ Bờ biển bị cắt xẻ mạnh, biển ăn sâu vào đất liền tạo nhiều bán đảo, vũng, vịnh.

2. Khí hậu, sông ngòi, thực vật



Hình 51.2 - Lược đồ khí hậu châu Âu

- Đặc điểm khí hậu:

+ Đại bộ phận lãnh thổ có khí hậu ôn đới.

+ Một phần nhỏ phía Bắc có khí hậu hàn đới, phía Nam có khí hậu Địa Trung Hải.

+ Phía Tây có khí hậu ẩm áp mưa nhiều hơn phía Đông.

- Đặc điểm sông ngòi:

- + Sông ngòi dày đặc, lượng nước dồi dào.
- + Các sông quan trọng: Đa-nuyp, Rai-nơ và Von-ga.
- Thảm thực vật: Thực vật thay đổi từ tây sang đông và từ bắc xuống nam theo sự thay đổi của nhiệt độ và lượng mưa.