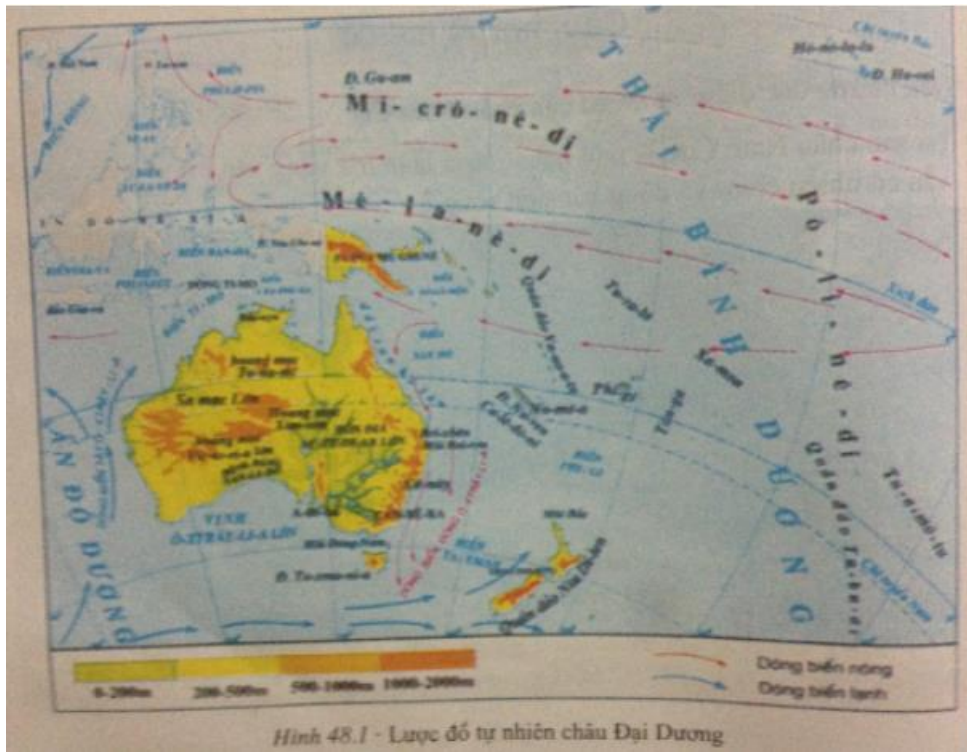


Chúng tôi đã tổng hợp những kiến thức trọng tâm của bài, hướng dẫn gợi ý trả lời các câu hỏi trong bài học Địa lý 7 bài 48. Nhằm giúp học sinh ôn tập, củng cố kiến thức và rèn luyện kỹ năng giải bài tập. Mời các em tham khảo bài viết dưới đây.

Trả lời câu hỏi SGK Địa Lý 7 Bài 48 trang 145

Câu 1 (trang 145 SGK Địa Lí 7):

- Dựa vào hình 48.1, hãy:
- Xác định vị trí lục địa Ô-xtrây-li-a và các đảo lớn của châu Đại Dương.
- Xác định vị trí các chuỗi đảo thuộc châu Đại Dương.



Hình 48.1 - Lược đồ tự nhiên châu Đại Dương

Trả lời:

- Xác định vị trí lục địa của Ô – xtray – li – a trên lược đồ (lục địa Ô – xtray - li – a là lục địa duy nhất nằm chủ yếu trong vòng đai chí tuyến của bán cầu nam; đường chí tuyến chạy qua giữa các lục địa)
- Các đảo lớn của châu Đại Dương : Niu Ghi-nê, Nu-ven Ca-lê-đô-ni, Ta-xma-ni-a,...
- Xác định vị trí các chuỗi đảo thuộc châu Đại Dương.

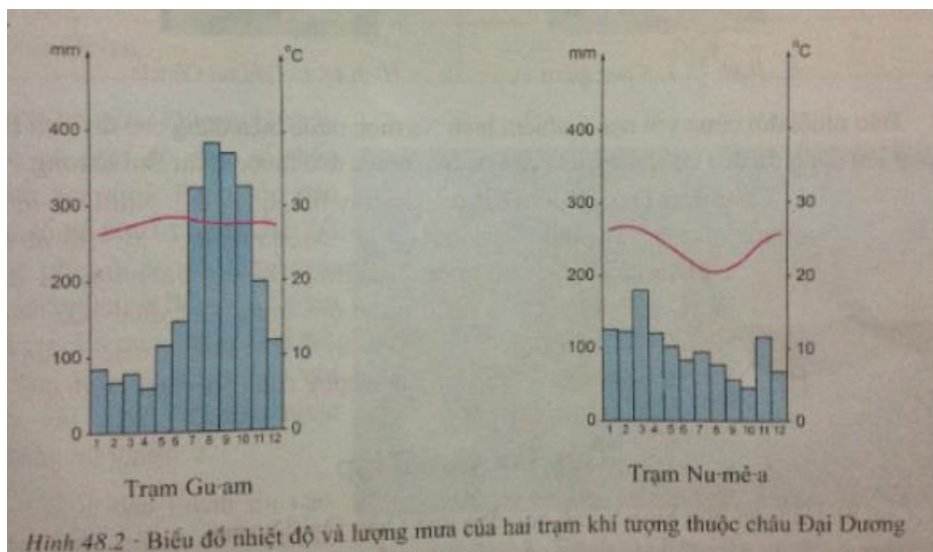
+ Nhóm đảo Mê-la-nê-đi: nằm ở phía bắc và đông bắc lục địa Ô-xtrây-li-a, từ xích đạo đến khoảng vĩ tuyến 23 - 24oN. Các đảo lớn là Niu Ghi-nê, Bi-xmac, Xô-lô-môn, Nu-ven Ca-lê-đô-ni,...

+ Nhóm đảo Mi-crô-nê-di: nằm ở phía bắc và đông bắc Mê-la-nê-di, khoảng 10oN đến khoảng 28oB, nghĩa là trong vòng đai nhiệt đới. Đảo lớn là Gu-am.

+ Nhóm đảo Pô-li-nê-di: nằm ở phía đông kinh tuyến 180o, thuộc vùng trung tâm Thái Bình Dương, khoảng từ 23 - 24oB đến 28oN, trong vòng đai nhiệt đới, ở phía nam lan tới vòng đai cận nhiệt đới của bán cầu Nam. Các đảo lớn là Ha-oai, Hô-nô-lu-lu trong quần đảo Ha-oai, Vi-ti Lê-vu,... trong quần đảo Phi-gi.

Câu 2 (trang 145 SGK Địa Lí 7):

- Dựa vào hình 48.2, cho biết đặc điểm khí hậu của các đảo thuộc châu Đại Dương.



Hình 48.2 - Biểu đồ nhiệt độ và lượng mưa của hai trạm khí tượng thuộc châu Đại Dương

Trả lời:

- Trạm Gu-am: nhiệt độ quanh năm cao (khoảng trên 27oC) và điều hòa; lượng mưa lớn, mưa nhiều vào các tháng từ tháng 7 đến tháng 10

- Trạm Nu-mê-a: nhiệt độ quanh năm cao (trên 21oC) và tương đối điều hòa, tháng thấp nhất cũng trên 21oC, tháng cao nhất khoảng 27oC); lượng mưa lớn và tương đối đều giữa các tháng trong năm.

Giải bài tập SGK Bài 38 Địa 7 trang 146

Bài 1 (trang 146 SGK Địa Lí 7)

Cho biết nguồn gốc hình thành của các đảo châu Đại Dương.

Lời giải:

- Chuỗi đảo núi lửa: Mê-la-nê-di.
- Chuỗi đảo san hô: Mi-crô-nê-di.
- Chuỗi đảo núi lửa và san hô: Pô-li-nê-di.
- Đảo lục địa: Niu Di-len

Bài 2 (trang 146 SGK Địa Lí 7):

Nguyên nhân nào đã khiến cho các đảo và quần đảo của châu Đại Dương được gọi là "thiên đàng xanh" của Thái Bình Dương?

Lời giải:

Phần lớn các đảo và quần đảo của châu Đại Dương có khí hậu nóng ẩm và điều hòa, mưa nhiều, Rừng xích đạo xanh quanh năm hoặc rừng mưa nhiệt đới phát triển xanh tốt. Đặc biệt các rừng dừa ven biển đã khiến cho các đảo và quần đảo châu Đại Dương được gọi là "thiên đàng xanh" của Thái Bình Dương.

Bài 3 (trang 146 SGK Địa Lí 7):

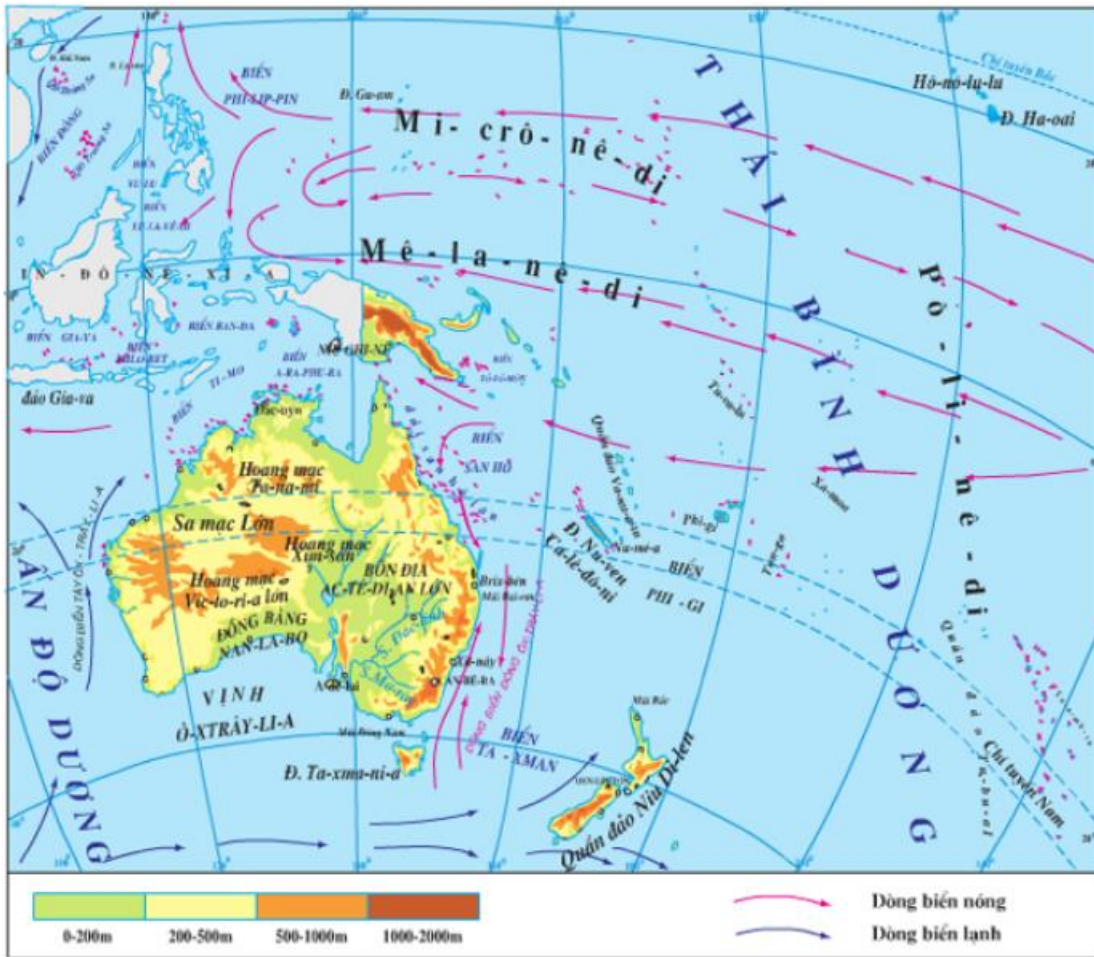
Tại sao đại bộ phận diện tích lục địa Ô-xtrây-li-a có khí hậu khô hạn?

Lời giải:

- Chí tuyến Nam đi qua giữa lãnh thổ lục địa Ô-xtrây-li-a, nên đại bộ phận lãnh thổ lục địa ô-xtrây-li-a nằm trong khu vực áp cao chí tuyến, không khí ổn định khó gây mưa.
- Phía đông của lục địa Ô-xtrây-li-a lại có dãy Trường Sơn nằm sát biển chạy dài từ bắc xuống nam chắn gió từ biển thổi vào lục địa gây mưa ở sườn đông Trường Sơn, nhưng hiệu ứng phơn làm cho lượng mưa phía sườn chắn gió giảm dần theo chiều từ đông sang tây, làm cho khí hậu của phần lớn lục địa Ô-xtrây-li-a là khô hạn.

Lý thuyết Địa Lý lớp 7 Bài 48

1. Vị trí địa lí, địa hình



Hình 48.1 - Lược đồ tự nhiên châu Đại Dương

- Châu Đại Dương gồm:

+ Lục địa Ôxtrâyli-a.

+ Bao gồm 4 quần đảo: Mê-la-nê-đi (đảo núi lửa), Niu-di-len (Đảo lục địa), Mi-cro -ne-đi (Đảo san hô) và Pô-li-nê-đi (Đảo núi lửa và san hô).

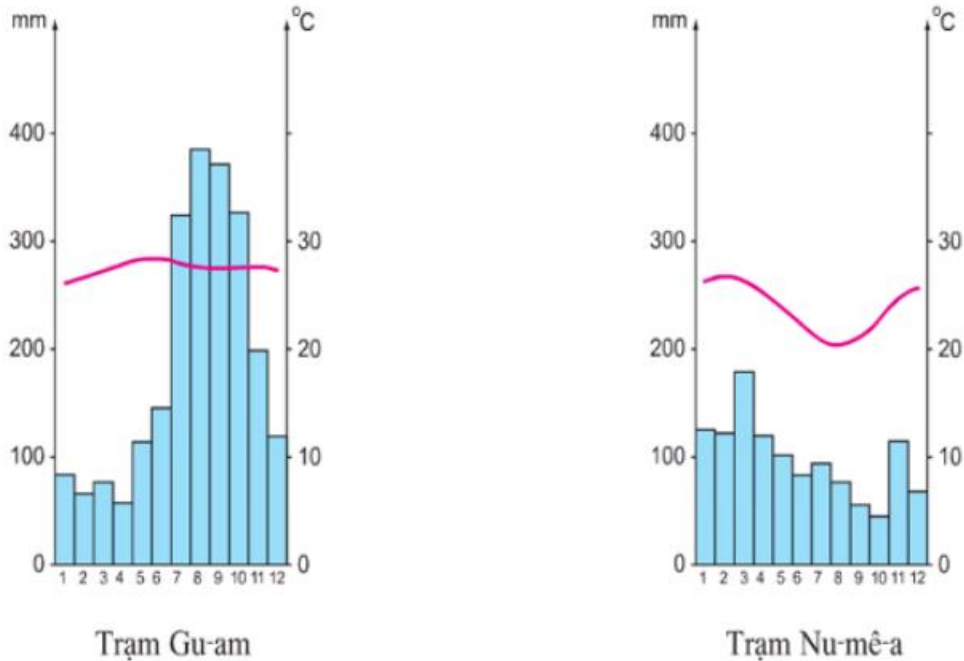
- Đặc điểm địa hình:

+ Lục địa Ô-xtrây-li-a, quần đảo Niu Di-len và Pa-pua Niu Ghi-nê có nhiều bậc địa hình với sự phân hóa khá phức tạp.

+ Các đảo nhỏ còn lại chủ yếu là đảo núi lửa và đảo san hô với diện tích rất nhỏ, độ cao thấp.

2. Khí hậu, thực vật và động vật

- Đặc điểm khí hậu:



Hình 48.2 - Biểu đồ nhiệt độ và lượng mưa của hai trạm khí tượng thuộc châu Đại Dương

+ Phần lớn các đảo của châu Đại Dương có khí hậu nhiệt đới nóng ẩm, điều hòa, mưa nhiều.

+ Lục địa Ô-xtrây-li-a có khí hậu khô hạn.

- Đặc điểm động, thực vật:

+ Trên các đảo: phát triển mạnh hệ sinh vật nhiệt đới cả trên cạn và dưới biển.

+ Trên lục địa Ô-xtrây-li-a: có nhiều loài độc đáo như thú có túi, cáo mỏ vịt, các loài bạch đàn,...



Hình 48.3 - Cang-gu-ru



Hình 48.4 - Gấu túi Cô-a-la