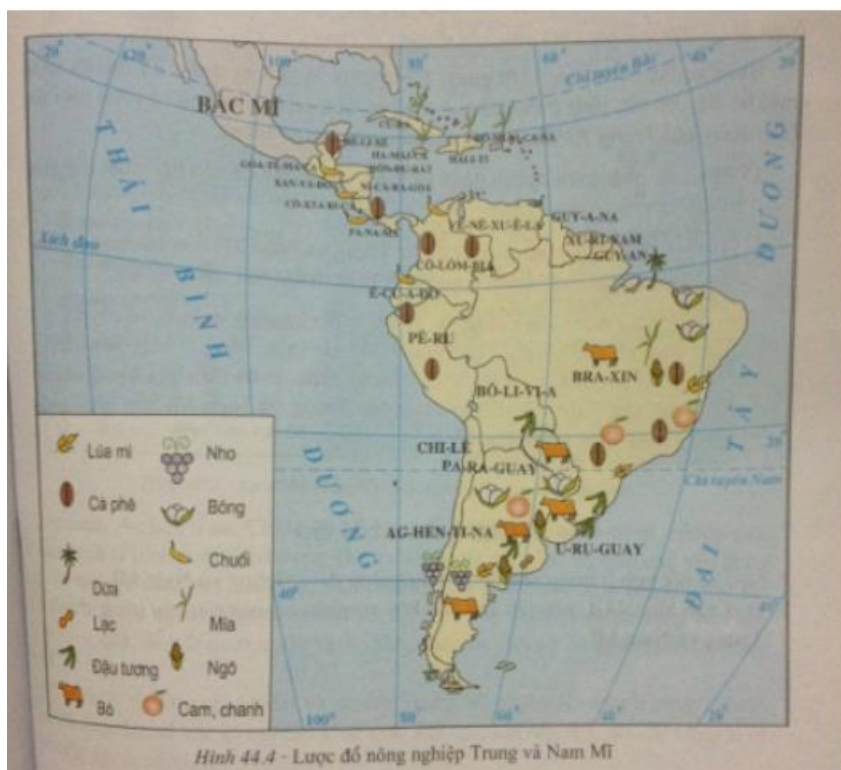


Với bộ tài liệu giải Địa lớp 7 Bài 44: Kinh tế Trung và Nam Mỹ được biên soạn bởi ngũ chuyên gia giàu kinh nghiệm chia sẻ. Hướng dẫn học sinh giải các dạng bài tập trong sách giáo khoa và tổng hợp lý thuyết bài học. Nội dung chi tiết các em tham khảo tại đây.

Trả lời câu hỏi SGK Địa Lý 7 Bài 44 trang 135, 136

Câu 1 (trang 135 SGK Địa Lí 7):

- Dựa vào hình 44.4, cho biết Trung và Nam Mỹ có các loại cây trồng chủ yếu nào và phân bố ở đâu?



Trả lời:

- Lúa mì: Bra-xin, Ác-hen-ti-na.
- Cà phê: Bê-li-xê, Cô-xta-ri-ca, Pa-na-ma, Cô-lôm-bi-a, Ê-cu-a-đo, Pê-ru, Bra-xin.
- Dừa: ven biển đông bắc Bra-xin.
- Mía: các nước trên quần đảo Ăng-ti, Bra-xin.
- Lạc: Ác-hen-ti-na.

- Đậu tương: Bô-li-vi-a, Bra - xin, Ác-hen-ti-na.
- Nho: Ác-hen-ti-na, Chi-lê.
- Bông: Pa-ra-oay, Ác-hen-ti-na, Bra-xin
- Chuối: các nước Trung Mĩ.
- Ngô: Bra-xin, Ác-hen-ti-na, U-ru-goay.

Câu 2 (trang 136 SGK Địa Lí 7):

- Dựa vào hình 44.4 , cho biết loại gia súc chủ yếu được nuôi ở Trung và Nam Mĩ. Chúng được nuôi chủ yếu ở đâu? Vì sao?

Trả lời:

- Loại gia súc được nuôi chủ yếu ở Trung và Nam Mĩ là bò.
- Bò thịt, bò sữa được nuôi nhiều ở Bra-xin, Ác-hen-ti-na, U-ru-goay, Pa-ra-goay. Nhờ có nhiều đồng cỏ rộng tươi tốt.

Giải bài tập SGK Bài 44 Địa 7 trang 136**Bài 1 (trang 136 SGK Địa Lí 7):**

Nêu sự bất hợp lí trong chế độ sở hữu ruộng đất ở Trung và Nam Mĩ.

Lời giải:

- Đất đai phần lớn nằm trong tay địa chủ và các công ti tư bản nước ngoài. Các đại điền chủ chỉ chiếm chưa tới 5% số dân nhưng sở hữu trên 60% diện tích đất đai canh tác và đồng cỏ chăn nuôi.
- Người nông dân Trung và Nam Mĩ chỉ sở hữu những mảnh đất bé nhỏ, một bộ phận lớn nông dân không có ruộng đất, phải đi làm thuê.
- Sự phân bố đất đai ở Trung và Nam Mĩ không công bằng đã kìm hãm sự phát triển nông nghiệp, vì người dân không có điều kiện cải tiến kĩ thuật canh tác, bị lệ thuộc vào các đại điền chủ nông nghiệp Trung và Nam Mĩ vì thế nảy sinh mâu thuẫn: vừa xuất khẩu nông sản nhiệt đới, vừa phải nhập khẩu lương thực

Bài 2 (trang 136 SGK Địa Lí 7):

Dựa vào hình 44.4, nêu tên và trình bày sự phân bố của các cây trồng chính ở Trung và Nam Mỹ.


Lời giải:

- Lúa mì: Bra-xin, Ác-hen-ti-na.
- Cà phê: Bê-li-xê, Cô-xta-ri-ca, Pa-na-ma, Cô-lôm-bi-a, Ê-cu-a-đo, Pê-ru, Bra-xin.
- Dừa: ven biển đông bắc Bra-xin.
- Mía: các nước trên quần đảo Ăng-ti, Bra-xin.
- Lạc: Ác-hen-ti-na.
- Đậu tương: Bô-li-vi-a, Bra - xin, Ác-hen-ti-na.
- Nho: Ác-hen-ti-na, Chi-lê.
- Bông: Pa-ra-oay, Ác -hen-ti-na, Bra-xin
- Chuối: các nước Trung Mỹ.
- Ngô: Bra-xin, Ác-hen-ti-na, U-ru-goay.

Lý thuyết Địa Lý lớp 7 Bài 44**1. Nông nghiệp****a. Các hình thức sở hữu trong nông nghiệp**

- Đại điền trang:
 - + Thuộc sở hữu của các đại điền chủ, chỉ chiếm dưới 5% số dân nhưng sở hữu trên 60% diện tích.
 - + Quy mô lớn, canh tác theo lối quảng canh, năng suất thấp.
- Tiểu điền trang:
 - + Thuộc sở hữu của các hộ nông dân
 - + Quy mô nhỏ, trồng lương thực để tự túc
- Sở hữu của tư bản nước ngoài:


- + Thuộc sở hữu của các công ty tư bản Hoa Kỳ, Anh.
- + Lập đồn điền để trồng trọt, chăn nuôi và xây dựng các cơ sở chế biến nông sản xuất khẩu.



Hình 44.1 - Trồng lúa mì ở Pê-ru



Hình 44.2 - Chăn thả bò ở Ac-hen-ti-na



Hình 44.3 - Thu hoạch đậu tương ở Bra-xin

b. Các ngành công nghiệp

- Ngành trồng trọt:

- + Các loại nông sản chủ yếu: cây công nghiệp và cây ăn quả.
- + Một số nước phát triển lương thực nhưng phần lớn các nước Trung và Nam Mỹ phải nhập lương thực và thực phẩm.
- + Ngành trồng trọt mang tính độc cạnh do lệ thuộc vào nước ngoài.

- Ngành chăn nuôi: Phát triển mạnh chăn nuôi bò thịt, bò sữa, cừu, lạc đà,...
- Đánh bắt cá: Pê-ru có ngành đánh bắt cá biển với sản lượng cao trên thế giới.



Hình 44.4 - Lược đồ nông nghiệp Trung và Nam Mỹ