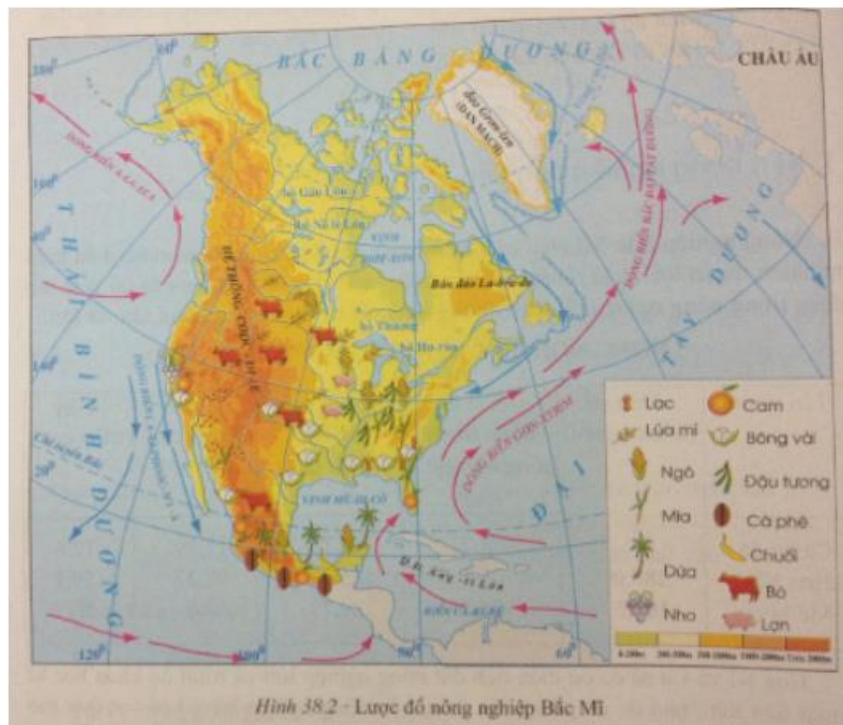


Với bộ tài liệu giải Địa lớp 7 Bài 38: Kinh tế Bắc Mỹ được biên soạn bởi ngũ chuyên gia giàu kinh nghiệm chia sẻ. Hướng dẫn học sinh giải các dạng bài tập trong sách giáo khoa và tổng hợp lý thuyết bài học. Nội dung chi tiết các em tham khảo tại đây.

Trả lời câu hỏi SGK Địa Lý 7 Bài 38 trang 120

Câu 1 (trang 120 SGK Địa Lí 7):

- Dựa vào hình 38.2, trình bày sự phân bố một số sản phẩm trồng trọt và chăn nuôi trên lãnh thổ Bắc Mỹ.



Hình 38.2 - Lược đồ nông nghiệp Bắc Mỹ

Trả lời:

- Lúa mì: trồng nhiều ở phía nam Ca-na-đa và phía bắc Hoa Kỳ.
- Ngô: phía Bắc đồng bằng Trung Tâm (Hoa Kỳ), trên sơn nguyên Mê – hi – cô và ven biển vịnh Mê – hi – cô.
- Các cây công nghiệp nhiệt đới (dừa, lạc , bông vải , mía,...), cây ăn quả (cam chuối): ven vịnh Mê-hi-cô. Ngoài ra, bông vải còn được trồng phía tây nam Hoa Kỳ, ven biển phía Tây Mê – hi – cô, cà phê còn trồng trên các cao nguyên Mê – hi – cô, phía tây nam Hoa Kỳ
- Nho: phía tây nam Hoa Kỳ

- Đậu tương: Phía nam vùng đồng bằng Trung Tâm của Hoa Kỳ
- Cà phê: sơn nguyên Mê – hi – cô
- Lợn: vùng đồng bằng Trung Tâm của Hoa Kỳ
- Bò: vùng núi và cao nguyên phía tây Hoa Kỳ, sơn nguyên Mê – hi – cô

Giải bài tập SGK Bài 38 Địa 7 trang 121

Bài 1 (trang 121 SGK Địa Lí 7):

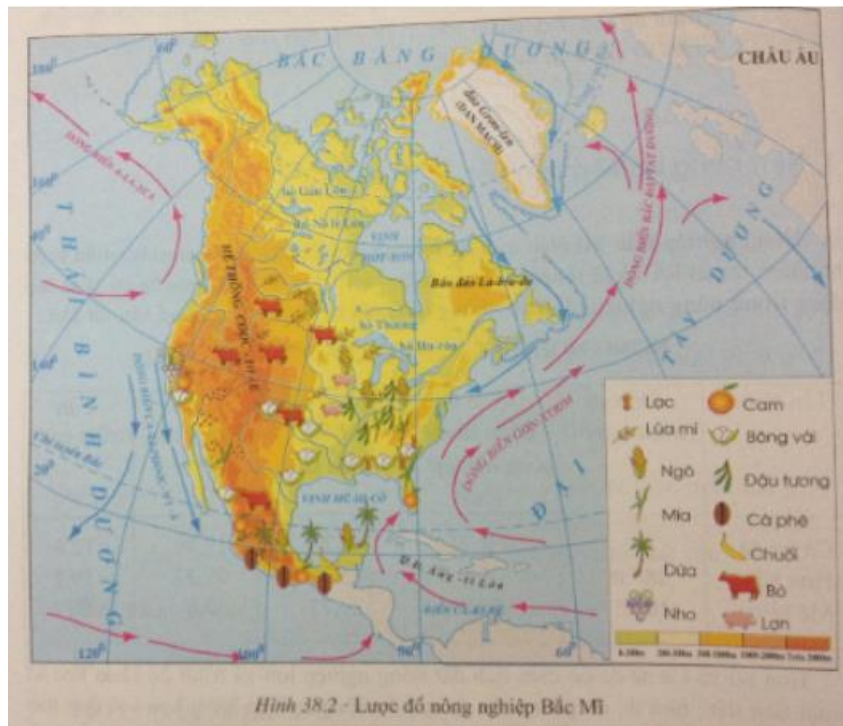
Những điều kiện nào làm cho nền nông nghiệp Hoa Kỳ và Ca-na-đa phát triển đến trình độ cao?

Lời giải:

Hoa Kỳ và Ca- na-đa có diện tích đất nông nghiệp lớn, Trình độ khoa học kĩ thuật tiên tiến, nhờ đó đã phát triển được nền nông nghiệp hàng hóa với quy mô lớn.

Bài 2 (trang 121 SGK Địa Lí 7):

Dựa vào hình 38.2, trình bày sự phân bố sản xuất nông nghiệp ở Bắc Mĩ.



Lời giải:

- Sự phân hóa các điều kiện tự nhiên từ bắc xuống nam và từ tây sang đông có ảnh hưởng sâu sắc tới phân bố sản xuất nông nghiệp ở Bắc Mỹ:

- Ở vùng đồng bằng trung tâm:

+ Lúa mì trồng nhiều ở phía nam Ca-na-đa và phía bắc Hoa Kỳ.

+ Xuống phía nam là vùng trồng xen lúa mì, chăn nuôi lợn, bò sữa

+ Ven vịnh Mê-hi-cô là nơi trồng cây công nghiệp nhiệt đới (bông, mía)

Và cây ăn quả:

- Ở vùng núi và cao nguyên phía tây Hoa Kỳ có khí hậu khô hạn, chăn thả gia súc, Phía tây nam Hoa Kỳ có khí hậu cận nhiệt đới, trồng nhiều cây ăn quả: nho, cam, chanh.

- Trên sơn nguyên Mê – hi – cô, chăn nuôi gia súc lớn, trồng ngô, và các cây công nghiệp nhiệt đới để xuất khẩu.

Lý thuyết Địa Lý lớp 7 Bài 38

1. Nền nông nghiệp tiên tiến

- Điều kiện tự nhiên

+ Điều kiện tự nhiên thuận lợi: Đồng bằng trung tâm diện tích rộng, khí hậu thuận lợi, sông hồ lớn cung cấp nước phù sa

+ Nhiều giống cây trồng vật nuôi, áp dụng tiến bộ khoa học – kĩ thuật.

- Đặc điểm phát triển:

+ Nông nghiệp tiên tiến, hiệu quả cao.

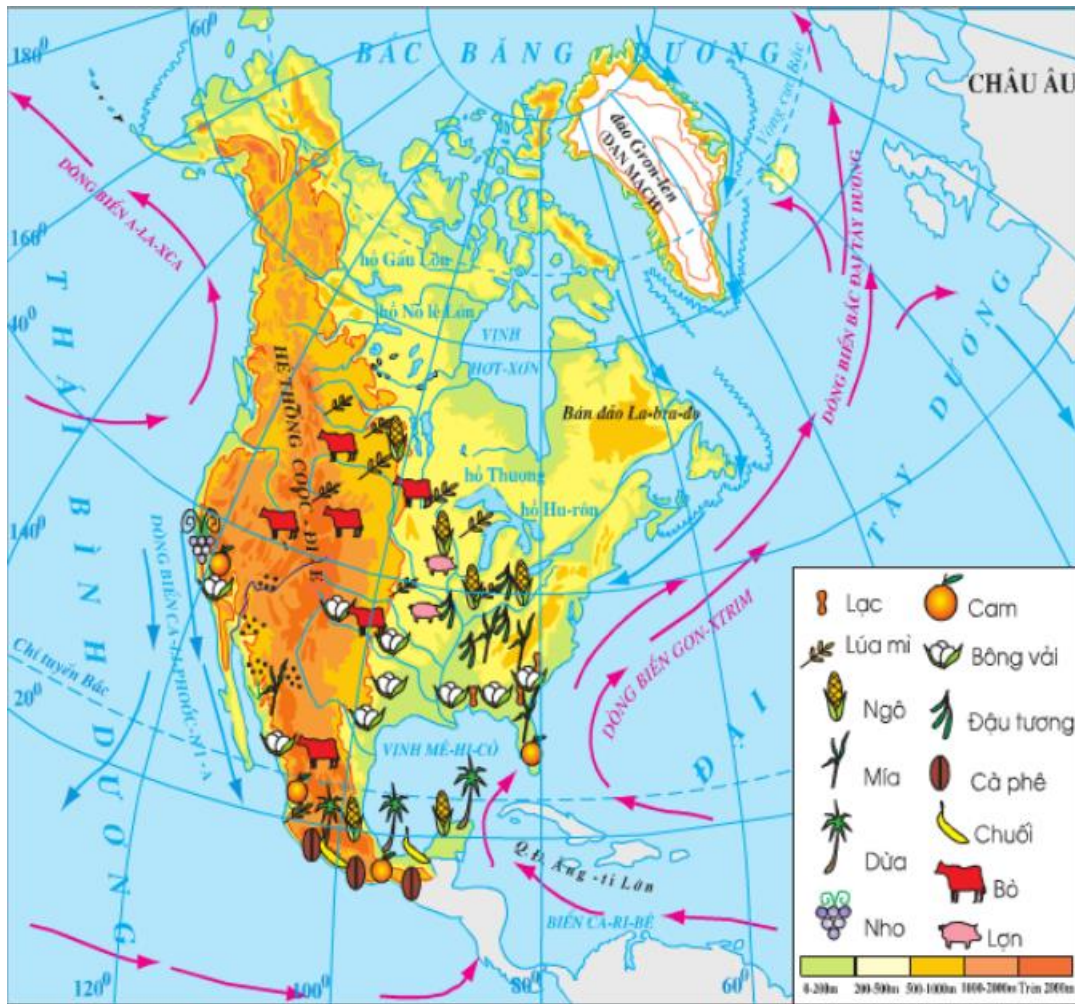
+ Phát triển được nông nghiệp hàng hóa với quy mô lớn.

+ Hoa Kỳ và Ca – na – da chiếm vị trí hàng đầu thế giới.



Hình 38.1 - Thu hoạch bông

- Những hạn chế trong phát triển nông nghiệp Bắc Mỹ
 - + Thời tiết khí hậu có nhiều biến động bất thường.
 - + Nông sản có giá thành cao, bị cạnh tranh mạnh.
 - + Sử dụng phân hóa học, thuốc trừ sâu gây ô nhiễm môi trường.
- Các vùng nông nghiệp
 - + Phân bố từ Bắc xuống Nam: trồng lúa mì; ngô, lúa mì chăn nuôi bò sữa và trồng cây công nghiệp nhiệt đới, cây ăn quả.
 - + Phân bố từ Tây sang Đông: Trên núi cao chăn nuôi, phía Đông hình thành các vành đai chuyên canh cây công nghiệp và chăn nuôi.



Hình 38.2 - Lược đồ nông nghiệp Bắc Mĩ