

Nội dung bài viết

1. [Bài 1 trang 26 Tập bản đồ Địa Lí 11](#)
2. [Bài 2 trang 27 Tập bản đồ Địa Lí 11](#)
3. [Bài 3 trang 27 Tập bản đồ Địa Lí 11](#)

Mời các em học sinh và quý thầy cô tham khảo ngay hướng dẫn **giải bài tập bản đồ Địa Lí 11 Bài 7: Tiết 1: EU - Liên minh khu vực lớn trên thế giới** được đội chúng tôi biên soạn đầy đủ và chi tiết nhất tại đây.

**Bài 1 trang 26 Tập bản đồ Địa Lí 11**

Dựa vào hình 7.2 trong SGK, em hãy:

- Tô màu đỏ ở lược đồ và bảng chú giải dưới đây vào các nước đầu tiên thành lập Liên minh châu Âu (cộng đồng than và thép).
- Tô màu vàng vào vị trí các nước tham gia Liên minh châu Âu đến năm 1995.
- Tô màu nâu vào các nước tham gia Liên minh châu Âu từ năm 1995 đến năm 2007.
- Năm 2007, Liên minh châu Âu đã kết nạp thêm những nước nào:
- Hiện nay, Liên minh châu Âu có ... nước thành viên.

**Lời giải:**



- Năm 2007, Liên minh châu Âu đã kết nạp thêm nước: Ru ma ni và Bun ga ri.
- Hiện nay, năm 2017, Liên minh châu Âu có 27 nước thành viên.

Bài 2 trang 27 Tập bản đồ Địa Lí 11

Hãy điền chữ Đ vào ý đúng, chữ S vào ý sai:

**Lời giải:**

Liên minh châu Âu (EU) xây dựng và phát triển trên cơ sở:

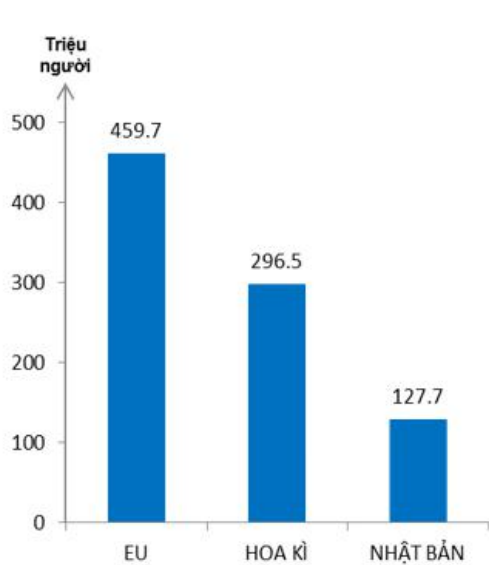
- Liên minh về thuế quan
- Liên minh kinh tế và tiền tệ (có đồng tiền chung).
- Tự do lưu thông hàng hóa trong liên minh
- Được tự do đi lại (không phải có Visa) trong tất cả các nước thuộc EU.
- Hợp tác và thống nhất về chính sách nhập cư
- Hợp tác và thống nhất về tư pháp
- Hợp tác về chính sách an ninh và đối nội
- Phối hợp hành động để giữ gìn hòa bình và đấu tranh chống tội phạm, khủng bố.

Bài 3 trang 27 Tập bản đồ Địa Lí 11

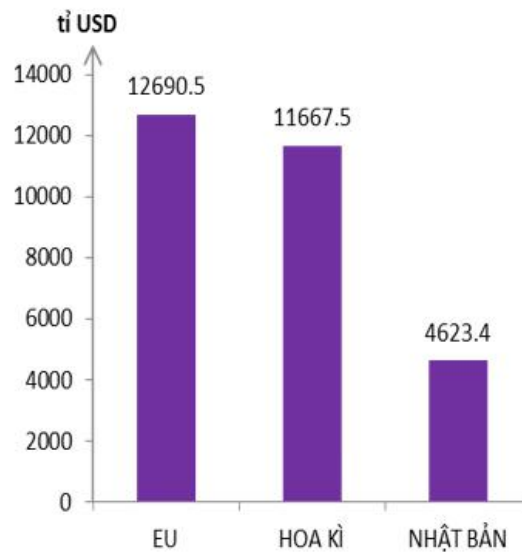
Dựa vào bảng 7.1 trong SGK, hãy vẽ biểu đồ cột và biểu đồ tròn để so sánh một số chỉ số cơ bản của Liên minh Châu Âu (EU) với Hoa Kỳ và Nhật Bản:

**Lời giải:**

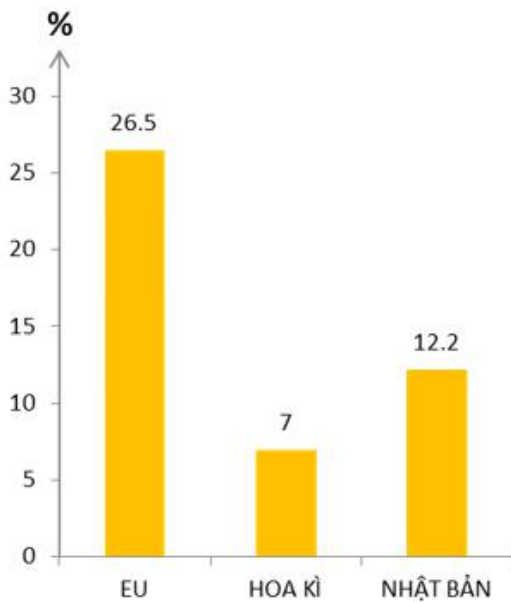
- Biểu đồ cột:



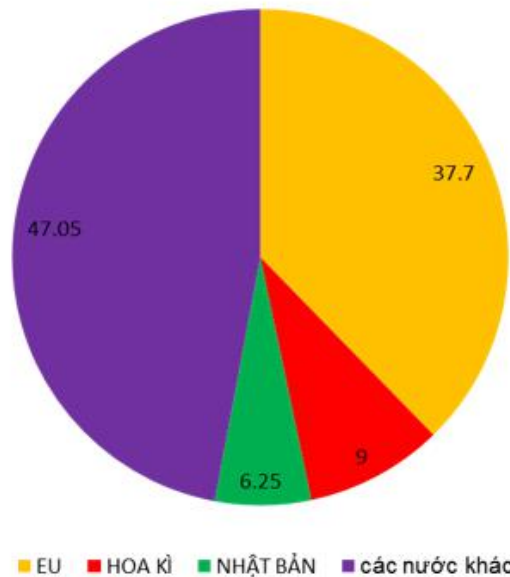
**Biểu đồ Dân số năm 2005**



**Biểu đồ GDP năm 2004**



**Biểu đồ tỉ trọng xuất khẩu trong GDP năm 2004**



**Biểu đồ tỉ trọng của EU trong xuất khẩu của thế giới (%)**

►► **CLICK NGAY** vào nút **TẢI VỀ** dưới đây để tải về **Giải tập bản đồ Địa Lý 11 Bài 7: Tiết 1: EU - Liên minh khu vực lớn trên thế giới** file PDF hoàn toàn miễn phí.