


Nội dung bài viết

1. [Liên hệ thực tế và trả lời \(SGK Khoa học 5 tập 2 trang 130\)](#)

Liên hệ thực tế và trả lời (SGK Khoa học 5 tập 2 trang 130)

Kể tên một số tài nguyên mà bạn biết. Trong các tài nguyên đó, tài nguyên nào được thể hiện trong những hình dưới đây?



①




②



③




④ *Mẫu quặng vàng*



⑤



⑥ Mẫu than đá



⑦

Hình	Tài nguyên thiên nhiên	Công dụng
Hình 1	- Gió - Nước - Dầu mỏ	- Sử dụng năng lượng gió để chạy cối xay. máy phát điện, chạy thuyền buồm.... - Cung cấp cho hoạt động sống của người, thực vật, động vật. Năng lượng nước chảy được sử dụng trong các nhà máy thủy điện, được dùng để làm quay bánh xe nước đưa nước cao,...
Hình 2	- Mặt trời - Thực vật, động vật	- Cung cấp ánh sáng và nhiệt cho sự sống trên Trái Đất. Cung cấp năng lượng sạch cho các máy sử dụng; năng lượng mặt trời. - Tạo ra chuỗi thức ăn trong tự nhiên (sự cân bằng sinh thái), duy trì sự sống trên Trái Đất.
Hình 3	Dầu mỏ	Được dùng để chế tạo ra xăng, dầu hoả, dầu nhờn, nhựa đường, nước hoa, thuốc nhuộm, các chất làm ra tơ sợi tổng hợp,...
Hình 4	Vàng	Dùng để làm ngu ồn dự trữ cho các ngân sách của nhà nước, cá nhân.... ; làm đồ trang sức, để mạ trang trí,...
Hình 5	Đất	Môi trường sống của thực vật. động vật và con người.
Hình 6	Than đá	Cung cấp nhiên liệu cho đời sống và sản xuất điện trong các nhà máy nhiệt điện, tạo ra (khí than, nhựa đường, nước hoa, thuốc nhuộm, tơ sợi tổng hợp.
Hình 7	Nước	Môi trường sống của động, thực vật. Năng lượng nước chảy dùng cho thủy điện.