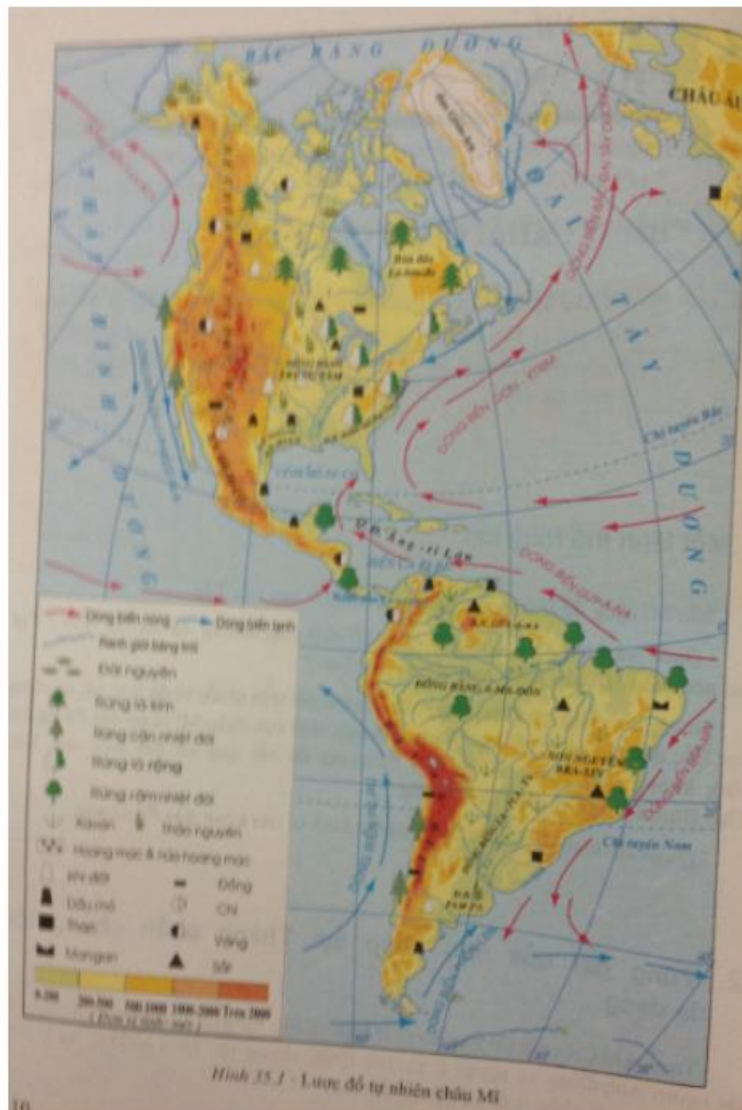


Chúng tôi sưu tầm và giới thiệu các em tài liệu giải bài tập bản đồ Địa lí 7 bài 35 SGK, được biên soạn từ đội ngũ chuyên gia giàu kinh nghiệm chia sẻ, miễn phí. Tổng hợp kiến thức trọng tâm của bài học và lời giải hay của các câu hỏi trong sách giáo khoa nằm trong nội dung chương trình giảng dạy bộ môn Địa lớp 7. Mời các em tham khảo bài viết dưới đây.

Trả lời câu hỏi SGK Địa Lý 7 Bài 35 trang 109, 112

Câu 1 (trang 109 SGK Địa Lí 7):

- Quan sát hình 35.1, cho biết châu Mỹ tiếp giáp những đại dương nào? Tại sao nói châu Mỹ nằm hoàn toàn ở nửa cầu Tây?

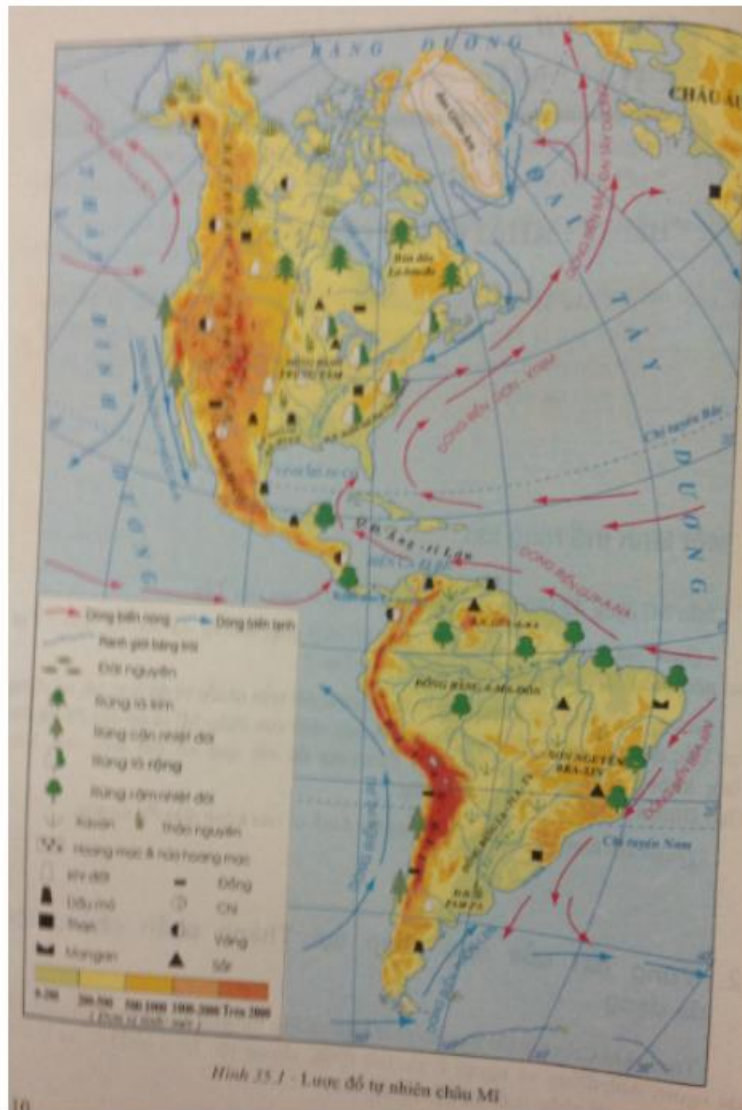


Trả lời:

- Châu Mỹ tiếp giáp các đại dương: Thái Bình Dương và Đại Tây Dương và Bắc Băng Dương
- Châu Mỹ trải dài từ vùng cực Bắc đến tận vùng cận cực Nam, nằm hoàn toàn ở nửa cầu Tây.

Câu 2 (trang 109 SGK Địa Lí 7):

- Quan sát hình 35.1, cho biết ý nghĩa kinh tế của kênh đào Pa-na-ma.

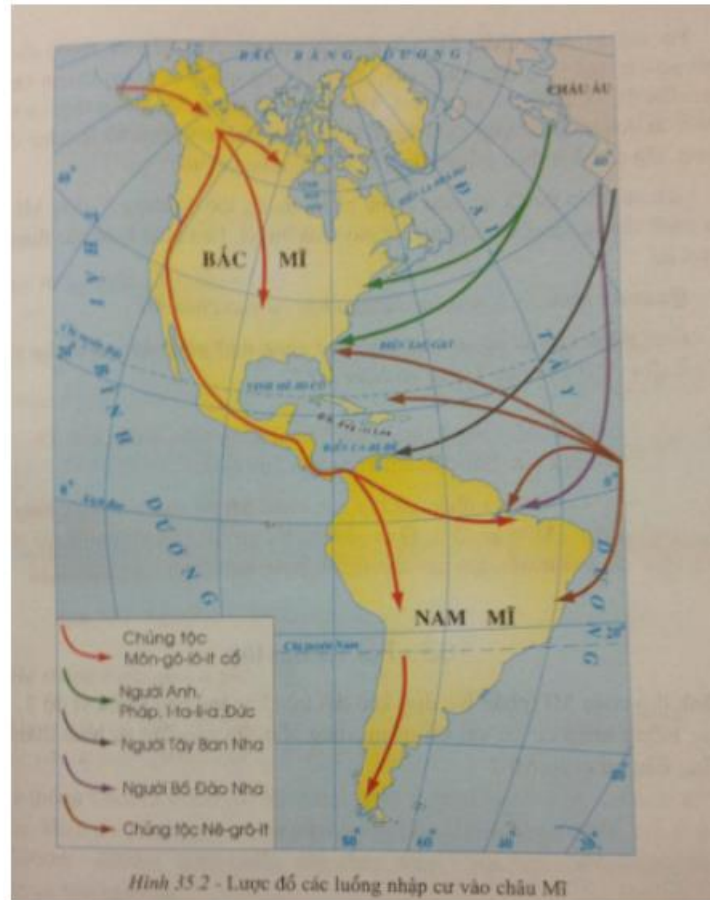


Trả lời:

Kênh đào Pa-na-ma rút ngắn được khoảng cách đường biển từ Thái Bình Dương sang Đại Tây Dương nên tiết kiệm được rất nhiều chi phí vận chuyển đường biển.

Câu 3 (trang 112 SGK Địa Lí 7):

- Quan sát hình 35.2, nêu các luồng nhập cư vào châu Mỹ.



Trả lời:

- Người Môn-gô-lô-it di dân đến châu Mỹ từ thời tiền sử, họ chia thành người E-xki-nô ở vùng cực Bắc châu Mỹ và người Anh-điêng phân bố khắp lãnh thổ châu Mỹ.

- Trào lưu di dân từ thế kỉ XVI đến thế kỉ XX: từ châu Âu là người Anh, Pháp, I-ta-li-a, Đức, Tây Ban Nha, Bồ Đào Nha từ châu Phi là người da đen (Nê-grô-it) bị bắt đưa sang làm nô lệ,...

Câu 4 (trang 112 SGK Địa Lí 7):

- Giải thích tại sao có sự khác nhau về ngôn ngữ giữa dân cư ở khu vực Bắc Mỹ với dân cư khu vực Trung và Nam Mỹ?

Trả lời:

Sự khác nhau về ngôn ngữ giữa dân cư ở khu vực Bắc Mỹ với dân cư ở khu vực Trung và Nam Mỹ là do lịch sử của quá trình nhập cư vào châu Mỹ.

- Khu vực Bắc Mỹ: chủ yếu người nhập cư từ Anh, Pháp, I-ta-li-a và Đức.
- Khu vực Trung và Nam Mỹ: chủ yếu người nhập cư từ chủng tộc Nê-grô-it, người Tây Ban Nha.

Giải bài tập SGK Bài 35 Địa 7 trang 112

Bài 1 (trang 112 SGK Địa Lí 7):

Lãnh thổ châu Mỹ (phần lục địa) kéo dài trên khoảng bao nhiêu vĩ độ?

Lời giải:

Lãnh thổ châu Mỹ kéo dài từ vòng cực Bắc đến vùng cận cực Nam khoảng 125 vĩ độ.

Bài 2 (trang 112 SGK Địa Lí 7):

Các luồng nhập cư có vai trò quan trọng như thế nào đến sự hình thành cộng đồng dân cư châu Mỹ?

Lời giải:

- Trước thế kỉ XV: ở châu Mỹ chủ yếu là chủng tộc Môn-gô-lô-it, đó là người E-xki-mô và người Anh-điêng.
- Thế kỉ XV đến nay: ở châu Mỹ có đầy đủ các chủng tộc chính trên thế giới: người Môn-gô-lô-it (bản địa), người ơ-rô-pê-ô-it (các dân tộc ở châu Âu), người Nê-grô-it (nô lệ da đen bị cưỡng bức đến từ châu Phi) và người Môn-gô-lô-it nhập cư sau này (người Trung Quốc, Nhật Bản,...).
- Ngoài ra, sự hòa huyết giữa các chủng tộc đã hình thành nhóm người lai ở châu Mỹ.

Lý thuyết Địa Lý lớp 7 Bài 35

1. Một lãnh thổ rộng lớn

- Phạm vi lãnh thổ:
 - + Diện tích 42 triệu Km².
 - + Lãnh thổ kéo dài từ vùng cực Bắc đến tận vùng cực Nam.
- Vị trí địa lí:
 - + Nằm hoàn toàn ở nửa cầu Tây.

+ Tiếp giáp với các đại dương Bắc Băng Dương, Đại Tây Dương, Thái Bình Dương.



Hình 35.1 - Lược đồ tự nhiên châu Mĩ

Hình 35.1 - Lược đồ tự nhiên châu Mĩ

2. Vùng đất của dân nhập cư. Thành phần chủng tộc đa dạng

- Thành phần nhập cư: Người châu Á, châu Âu, châu Phi.
- Người bản địa: Người Anh-điêng và các tộc người.
- Các chủng tộc: Môn – gô – lô – it, Ô – rô – pê – ô – it, Nê – grô – it. Các chủng tộc đã hòa huyết với nhau tạo nên thành phần người lai.



Hình 35.2 - Lược đồ các luồng nhập cư vào châu Mĩ