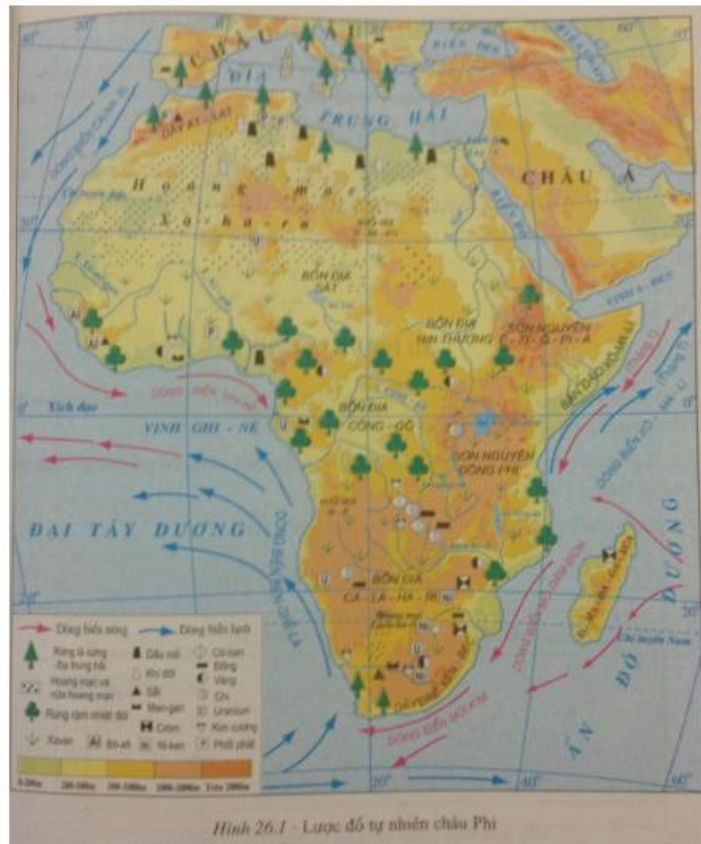


Chúng tôi đã tổng hợp những kiến thức trọng tâm của bài, hướng dẫn gợi ý trả lời các câu hỏi trong bài học Địa lý 7 bài 26. Nhằm giúp học sinh ôn tập, củng cố kiến thức và rèn luyện kỹ năng giải bài tập. Mời các em tham khảo bài viết dưới đây.

Trả lời câu hỏi SGK Địa Lý 7 Bài 26 trang 82, 83, 84

Câu 1 (trang 82 SGK Địa Lí 7):

- Quan sát hình 26.1:
- Cho biết châu Phi tiếp giáp với các biển và đại dương nào?
- Xích đạo đi qua phần nào của châu lục?
- Lãnh thổ châu Phi chủ yếu thuộc môi trường nào?



Hình 26.1 - Lược đồ tự nhiên châu Phi

Trả lời:

- Phía bắc châu Phi giáp Địa Trung Hải, phía tây giáp Đại Tây Dương, phía đông bắc giáp Biển Đỏ, ngăn cách với châu Á bởi kênh đào Xuy-ê, phía đông nam giáp Ấn Độ Dương.

- Đường Xích đạo đi qua giữa châu Phi (bồn địa Công-gô, hồ Vích-to-ri-a), chí tuyến Bắc đi qua gần giữa Bắc Phi (hoang mạc Xa-ha-ra), chí tuyến Nam đi qua gần giữa Nam Phi (hoang mạc Ca-la-ha-ri).

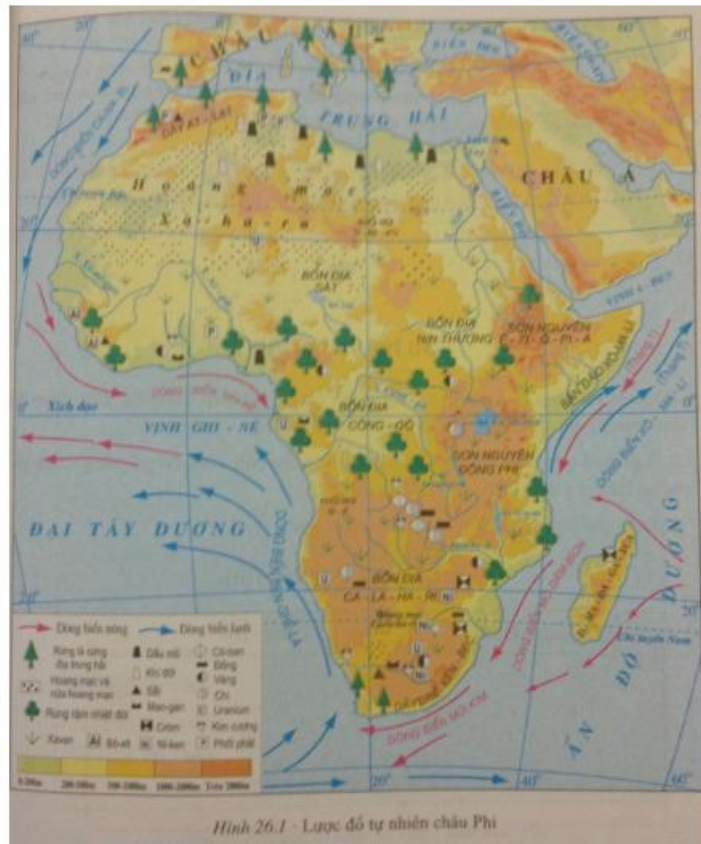
- Phần lớn lãnh thổ châu Phi nằm giữa hai đường chí tuyến nên châu Phi gần như nằm hoàn toàn trong đới nóng.

Câu 2 (trang 82 SGK Địa Lí 7):

- Quan sát hình 26.1 :

- Nêu tên các dòng biển nóng, các dòng biển lạnh chảy ven bờ biển châu Phi.

- Cho biết ý nghĩa của kênh đào Xuy-ê đối với giao thông đường biển trên thế giới.



Trả lời:

- Tên các dòng biển nóng, các dòng biển lạnh chảy ven bờ biển châu Phi:

+ Dòng biển nóng: Ghi-nê, Mũi Kim, Mô-dăm-bích.

+ Dòng biển lạnh: Ca-na-ri, Ben-ghê-la, Xô-ma-li.

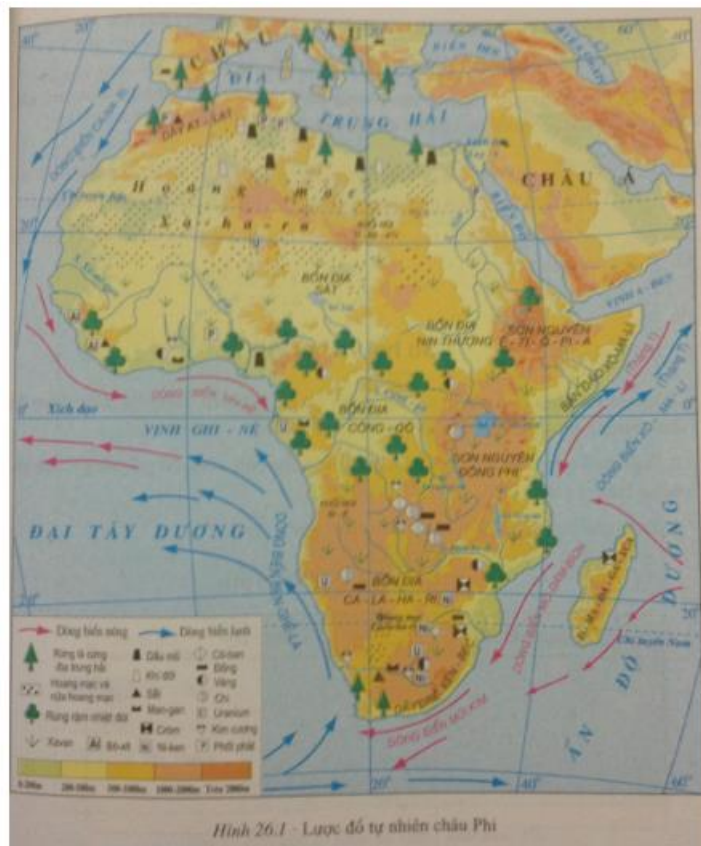
- Ý nghĩa của kênh đào Xuy-ê đối với giao thông đường biển trên thế giới: rút ngắn được đường biển từ Đại Tây Dương sang Ấn Độ Dương

Câu 3 (trang 83 SGK Địa Lí 7):

- Quan sát hình 26.1 :

- Cho biết ở châu Phi dạng địa hình nào là chủ yếu.

- Nhận xét về sự phân bố của địa hình đồng bằng châu Phi.



Trả lời:

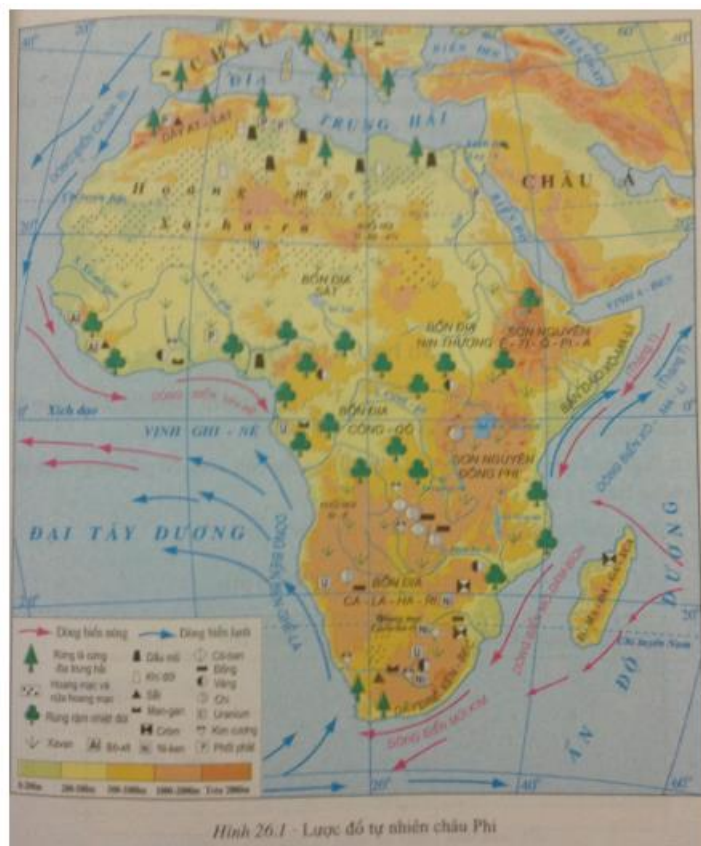
- Các dạng địa hình chủ yếu ở châu Phi: sơn nguyên, bồn địa.

- Các đồng bằng châu Phi tập trung chủ yếu ở ven biển.

Câu 4 (trang 84 SGK Địa Lí 7):

- Quan sát hình 26.1 :

- Các bồn địa và sơn nguyên, các hồ, các dãy núi chính của châu Phi.
- Hướng nghiêng chính của địa hình châu Phi.



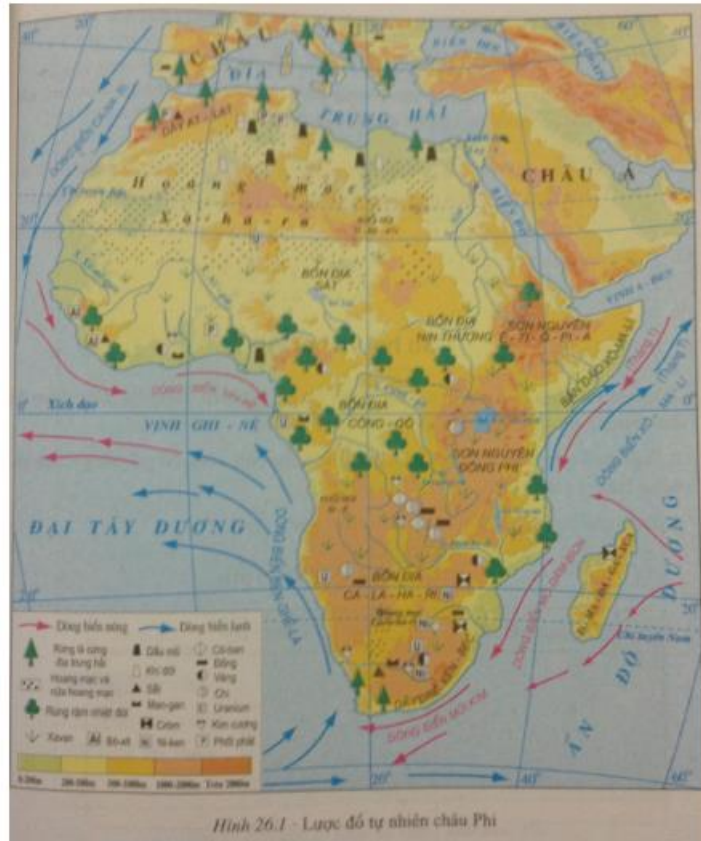
Trả lời:

- Các bồn địa: Sát, Nin Thượng, Công-gô, Ca-la-ha-ri.
- Các sơn nguyên: Ê-ti-ô-pi-a, Đông Phi.
- Các hồ: Vích-to-ri-a, Sát, Tan-ga-ni-a.
- Các dãy núi chính: At-lat, Đrê-ken-bec
- Hướng nghiêng chính của địa hình châu Phi: đông nam - tây bắc.

Giải bài tập SGK Bài 26 Địa 7 trang 84

Bài 1 (trang 84 SGK Địa Lí 7):

Quan sát hình 26.1, nhận xét đường bờ biển châu Phi. Đặc điểm đó ảnh hưởng như thế nào đến khí hậu châu Phi?



Lời giải:

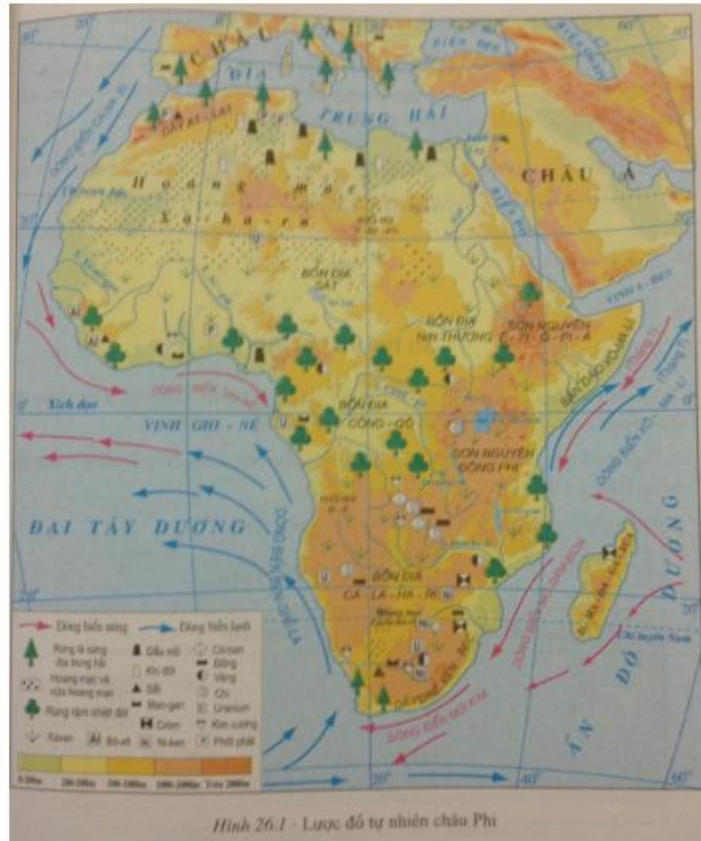
- Đường bờ biển châu Phi ít khúc khuỷu, không có nhiều bán đảo, vịnh và biển ven bờ. Vì thế, khoảng cách từ trung tâm Bắc Phi đến bờ biển lớn, ảnh hưởng của biển không thể vào sâu trong lục địa khu vực Bắc Phi.

- Khoảng cách từ Nam Phi đến bờ biển nhỏ hơn khoảng cách từ trung tâm Bắc Phi đến bờ biển, nên ảnh hưởng của biển có thể vào sâu trong lục địa Nam Phi.

Chính vì thế, mặc dù Nam Phi có đường chí tuyến Nam đi qua, nhưng ảnh hưởng biển rõ hơn Bắc Phi. Khí hậu Nam Phi ẩm hơn khí hậu Bắc Phi.

Bài 2 (trang 84 SGK Địa Lí 7):

Xác định trên hình 26.1, hồ Vích-to-ri-a và sông Nin, sông Ni-giê, sông Công-gô, sông Dăm-be-di.



Lời giải:

Hồ Vích-to-ri-a nằm ở phía bắc sơn nguyên Đông Phi, Sông Nin nằm ở phía đông châu Phi, Sông Ni-giê nằm ở phía tây châu Phi, Sông Công-gô chảy qua bồn địa Công – gô, uốn mình hai lần qua xích đạo; Sông Dăm-be-di nằm ở phía đông nam Châu Phi

Bài 3 (trang 84 SGK Địa Lí 7):

Dựa vào hình 26.1, lập bảng theo mẫu sau:

KHOÁNG SẢN CHÂU PHI

Các khoáng sản chính Sự phân bố

Lời giải:

KHOÁNG SẢN CHÂU PHI

Các khoáng sản chính	Sự phân bố
----------------------	------------

Lời giải:

KHOÁNG SẢN CHÂU PHI

Các khoáng sản chính	Sự phân bố
Dầu mỏ, khí đốt	Đồng bằng ven biển Bắc Phi và Tây Phi (ven vịnh Ghi-nê)
Sắt	Dãy núi trẻ At-lát
Vàng	Khu vực Trung Phi (gần xích đạo), các cao nguyên ở Nam Phi
Cô-ban, man-gan, đồng, chì, kim cương, urani	Các cao nguyên Nam Phi

Lý thuyết Địa Lý lớp 7 Bài 26**1. Vị trí địa lí**

- Diện tích: hơn 30 triệu km².

- Vị trí:

+ Từ vĩ tuyến 37020'B - 34052'N

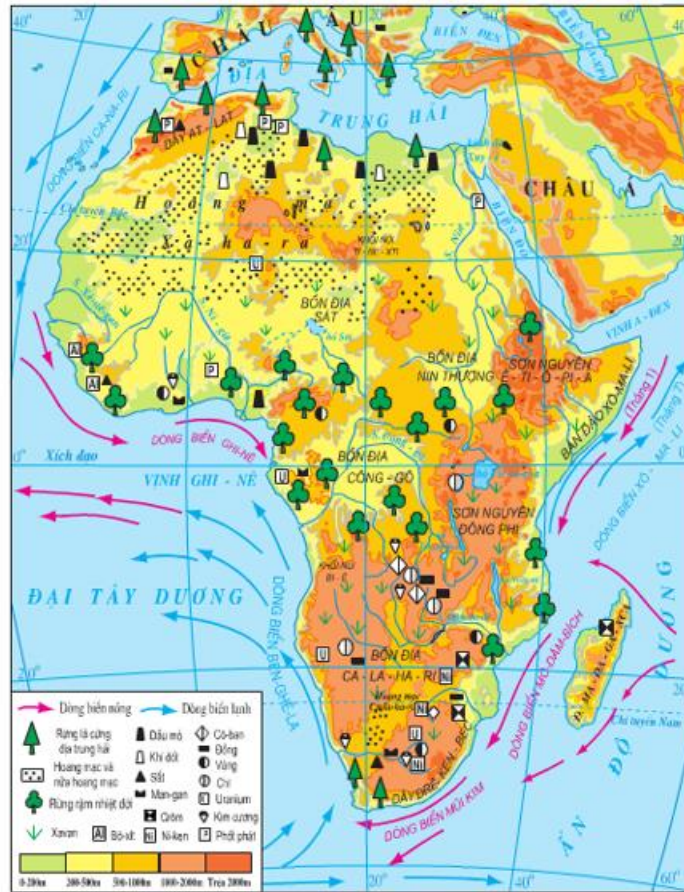
+ Phần lớn diện tích nằm trong đới nóng.

- Hình dạng lãnh thổ:

+ Được bao bọc bởi các biển và đại dương, đó là: Địa Trung Hải, Đại Tây Dương, Ấn Độ Dương, Biển Đỏ.

+ Đường bờ biển ít bị chia cắt; ít vịnh biển, bán đảo, đảo.

2. Địa hình và khoáng sản



Hình 26.1 - Lược đồ tự nhiên Châu Phi.

Hình 26.1 - Lược đồ tự nhiên Châu Phi.

* Địa hình:

- Độ cao: Lục địa Phi như một khối cao nguyên khổng lồ, cao trung bình 750m.

- Các dạng địa hình:

+ Chủ yếu là các sơn nguyên xen bồn địa thấp.

+ Ít núi cao và đồng bằng thấp.

+ Phía đông có nhiều thung lũng sâu, nhiều hồ hẹp và dài.

- Hướng nghiêng: Đông Nam-Tây Bắc.

* Khoáng sản đa dạng, phong phú:

- Các loại khoáng sản: Dầu mỏ, khí đốt, sắt, vàng, đồng, chì,...

- Phân bố: Ven biển Bắc Phi, Trung Phi và Nam Phi.