

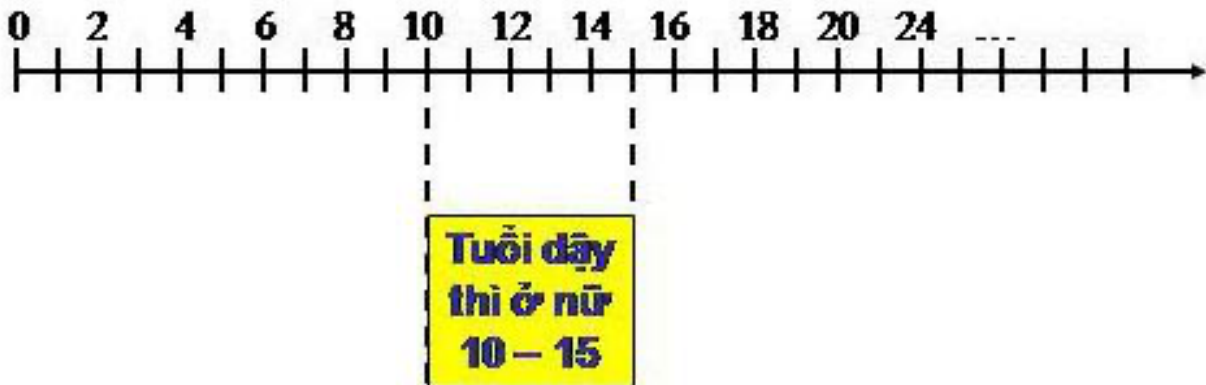
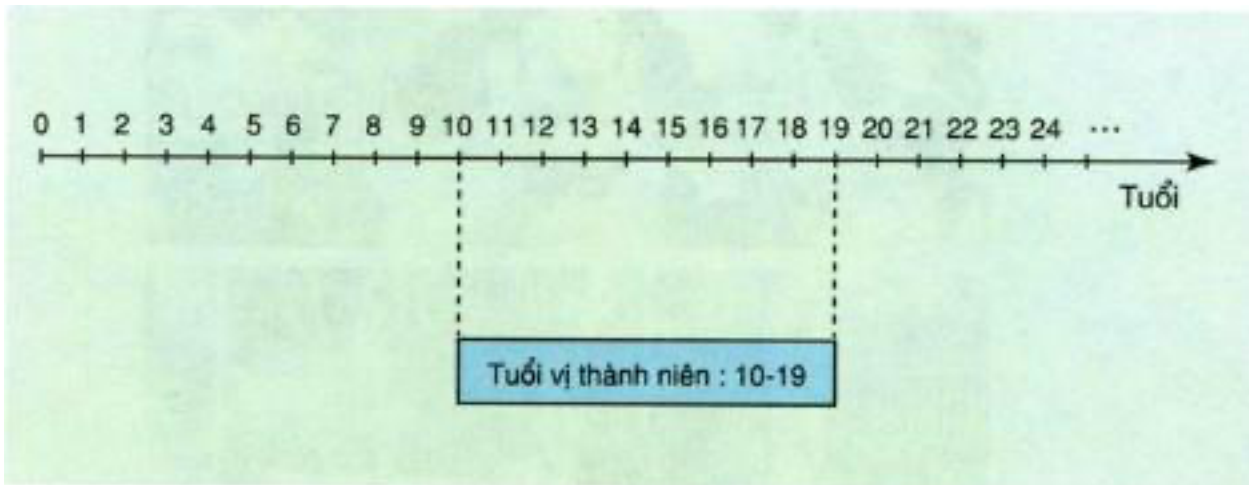
Nội dung bài viết

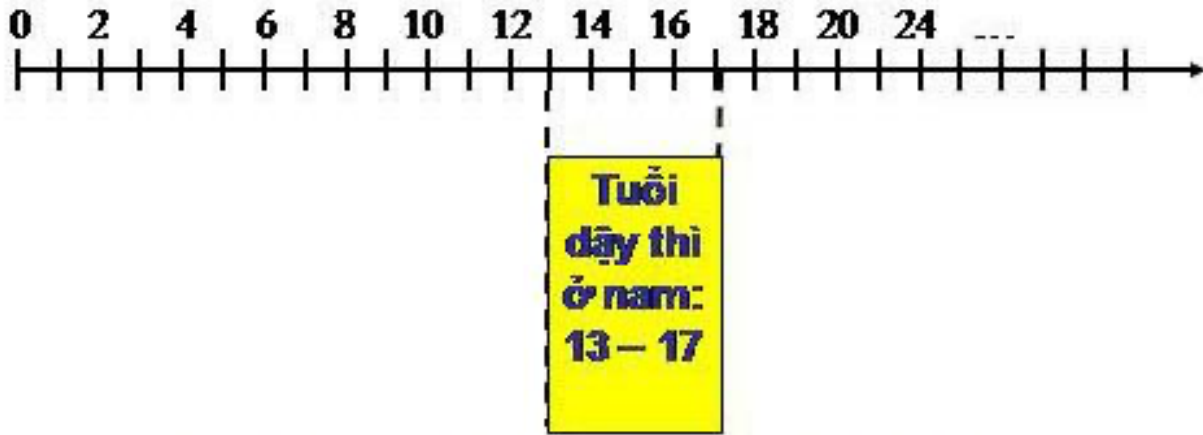
1. [Thực hành \(SGK Khoa học 5 tập 1 trang 42\)](#)
2. [Ai nhanh ai đúng \(SGK Khoa học 5 tập 1 trang 43\)](#)

Thực hành (SGK Khoa học 5 tập 1 trang 42)

1. Bạn hãy vẽ một sơ đồ trục thời gian thể hiện lứa tuổi dậy thì ở con gái và con trai.

Trả lời:



Sơ đồ thể hiện lứa tuổi dậy thì ở con trai .

2. Tuổi dậy thì là gì?

- a) Là tuổi mà cơ thể có nhiều biến đổi về mặt thể chất.
- b) Là tuổi mà cơ thể có nhiều biến đổi về mặt tinh thần.
- c) Là tuổi mà cơ thể có nhiều biến đổi về mặt tình cảm và mối quan hệ xã hội.
- d) Là tuổi mà cơ thể có nhiều biến đổi về mặt thể chất, tinh thần, tình cảm và mối quan hệ xã hội.

Trả lời:

Chọn d: Là tuổi mà cơ thể có nhiều biến đổi về mặt thể chất, tinh thần, tình cảm và mối quan hệ xã hội.

3. Việc nào dưới đây chỉ có phụ nữ làm được ?

- a) Làm bếp giỏi.
- b) Chăm sóc con cái.
- c) Mang thai và cho con bú.
- d) Thêu, may giỏi.

Trả lời:

Chọn C: Mang thai và cho con bú

Ai nhanh ai đúng (SGK Khoa học 5 tập 1 trang 43)

1. Thi viết (vẽ) về cách phòng chống bệnh sốt rét

Trả lời:



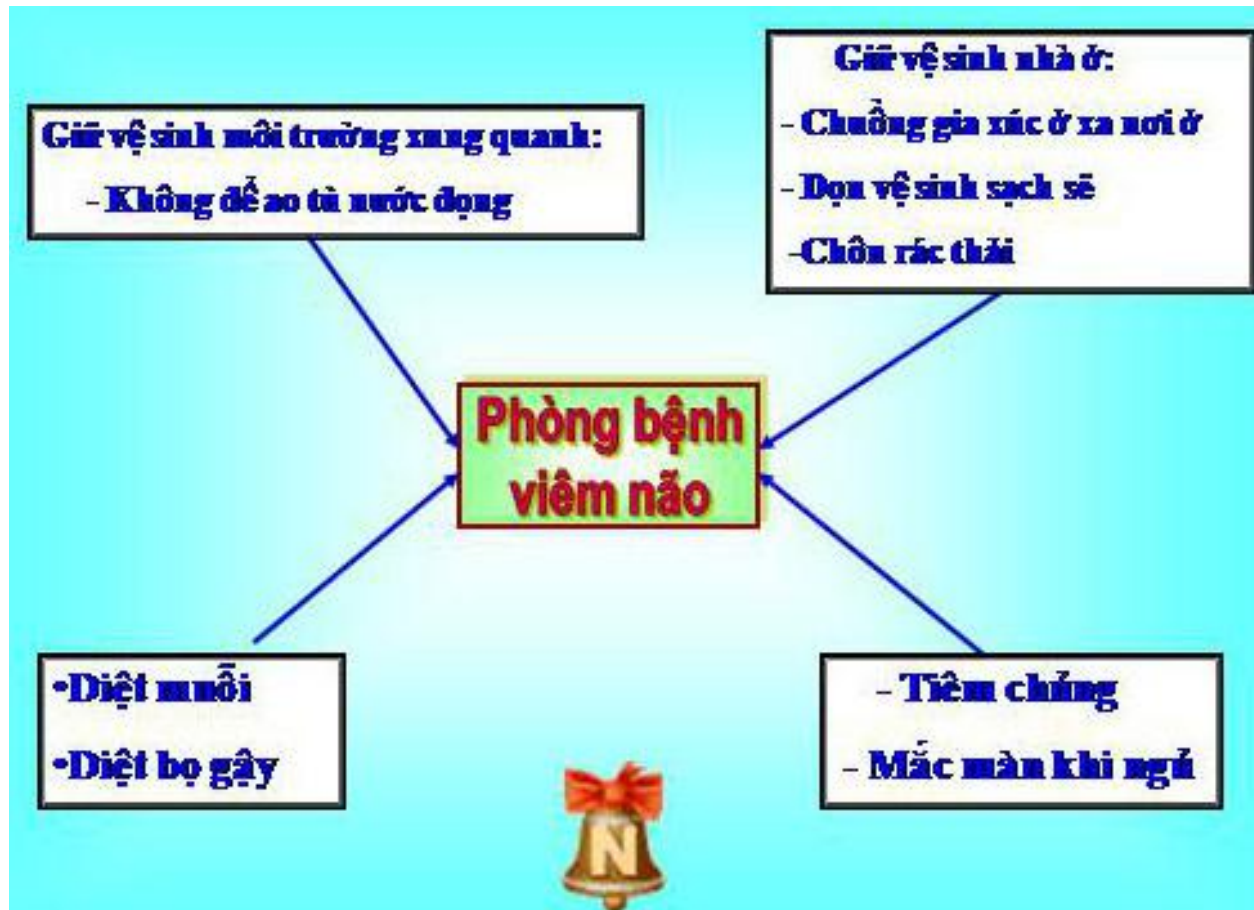
2. Thi viết (vẽ) về cách phòng chống bệnh sốt xuất huyết.

Trả lời:



3. Thi viết (vẽ) cách phòng tránh bệnh viêm não

Trả lời:



4. Thi viết (vẽ) cách phòng tránh bệnh HIV/AIDS

Trả lời:

