

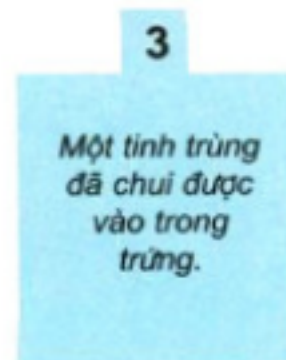
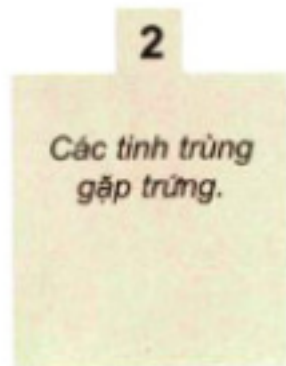
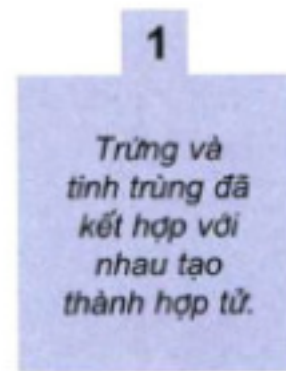
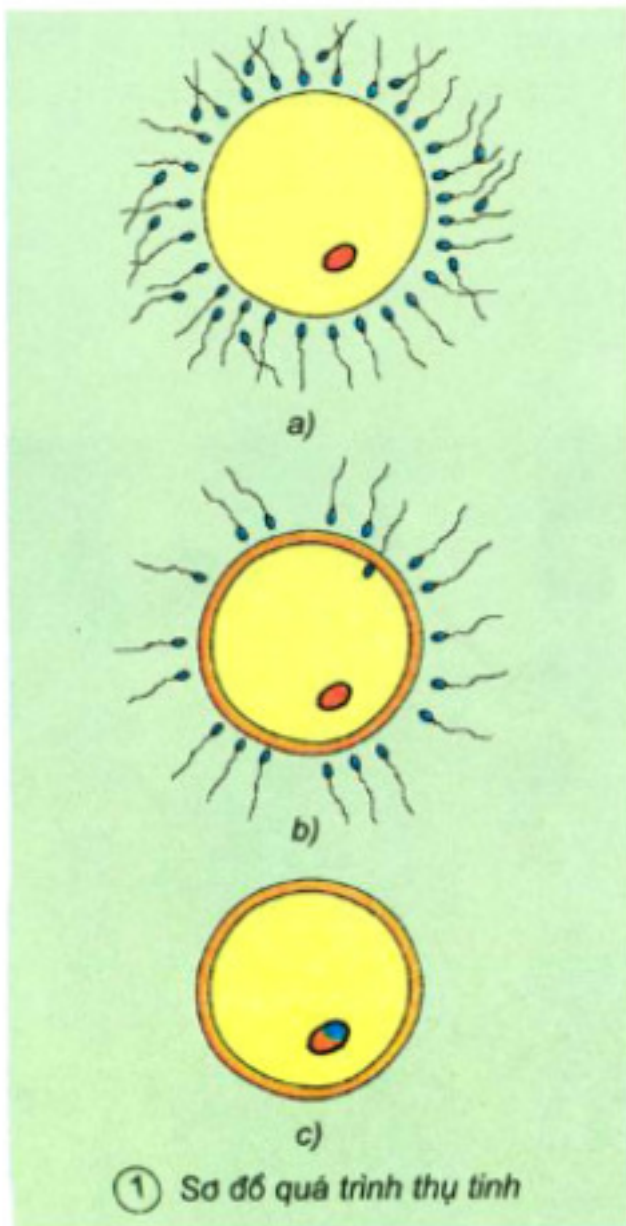
Nội dung bài viết

1. [Quan sát và trả lời \(SGK Khoa học 5 tập 1 trang 10\)](#)
2. [Quan sát và trả lời \(SGK Khoa học 5 tập 1 trang 11\)](#)

**Quan sát và trả lời (SGK Khoa học 5 tập 1 trang 10)**

Các hình dưới đây mô tả khái quát quá trình thụ tinh. Hãy đọc kĩ từng chú thích và tìm xem mỗi chú thích phù hợp với hình nào?

**Trả lời:**



Hình 1 - a: Các tinh trùng gặp trứng

Hình 1 - b: Một tinh trùng đã chui vào trứng.

Hình 1 - c: Trứng và tinh trùng kết hợp với nhau để tạo thành hợp tử

***Quan sát và trả lời (SGK Khoa học 5 tập 1 trang 11)***

Trong các hình dưới đây, theo bạn, hình nào cho biết thai được 5 tuần, 8 tuần, 3 tháng, khoảng 9 tháng?

**Trả lời:**



②



③



④



⑤

Hình 2: Thai được khoảng 9 tháng, đã là một cơ thể người hoàn chỉnh.

Hình 3: Thai 8 tuần, đã có hình dạng của đầu, mình, tay, chân nhưng chưa hoàn chỉnh.

Hình 4: Thai 3 tháng, đã có hình dạng của đầu, mình, tay, chân hoàn thiện hơn, đã hình thành đầy đủ các bộ phận của cơ thể

Hình 5: Thai được 5 tuần, có đuôi, đã có hình thù của đầu, mình, tay, chân nhưng chưa rõ ràng.