

**Giải bài 1 trang 75 VBT Toán lớp 4 Tập 2:**

Tính:

$$a) \frac{5}{8} + \frac{9}{32}$$

$$b) \frac{4}{5} - \frac{4}{7}$$

$$c) \frac{9}{14} \times \frac{7}{6}$$

$$d) \frac{5}{9} : \frac{10}{21}$$

$$e) \frac{8}{15} + \frac{4}{15} : \frac{2}{5}$$

Lời giải:

$$a) \frac{5}{8} + \frac{9}{32} = \frac{5 \times 4}{32} + \frac{9}{32} = \frac{29}{32}$$

$$b) \frac{4}{5} - \frac{4}{7} = \frac{28}{35} - \frac{20}{35} = \frac{8}{35}$$

$$c) \frac{9}{14} \times \frac{7}{6} = \frac{9 \times 7}{14 \times 6} = \frac{3}{4}$$

$$d) \frac{5}{9} : \frac{10}{21} = \frac{5}{9} \times \frac{21}{10} = \frac{7}{6}$$

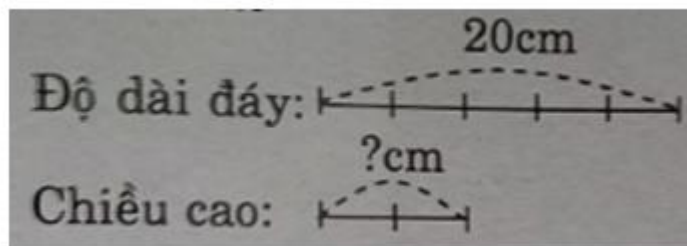
$$e) \frac{8}{15} + \frac{4}{15} : \frac{2}{5} = \frac{8}{15} + \frac{4}{15} \times \frac{5}{2} = \frac{8}{15} + \frac{2}{3} = \frac{8 + 10}{15} = \frac{18}{15} = \frac{6}{5}$$

**Giải bài 2 trang 75 VBT Toán lớp 4 Tập 2:**

Tính diện tích một hình bình hành có độ dài đáy là 20cm, chiều cao bằng  $\frac{2}{5}$  độ dài đáy

Lời giải:

Tóm tắt



Bài giải

Chiều cao là:  $20 \times 2 : 5 = 8(\text{cm})$

Diện tích là:  $8 \times 20 = 160 (\text{cm}^2)$

Đáp số:  $160 (\text{cm}^2)$

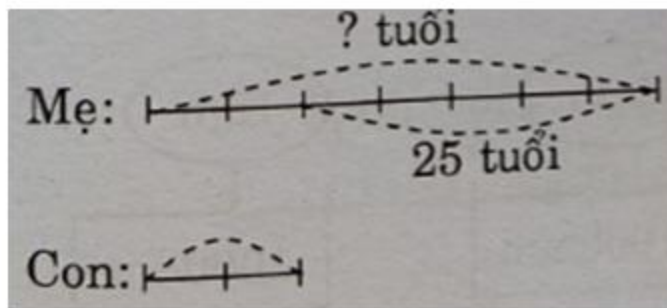
**Giải bài 3 trang 76 VBT Toán lớp 4 Tập 2:**

2  
—  
7

Mẹ hơn con 25 tuổi. Tuổi của con bằng  $\frac{2}{7}$  tuổi mẹ. Hỏi mẹ bao nhiêu tuổi?

**Lời giải:**

Tóm tắt



Bài giải

Theo sơ đồ, hiệu số phần bằng nhau:


$7 - 2 = 5$  (phần)

Tuổi mẹ là:  $25 : 5 \times 7 = 35$  (tuổi)

Đáp số: 35 tuổi

**Giải bài 4 trang 76 VBT Toán lớp 4 Tập 2:**

Viết phân số tối giản chỉ phần đã tô đậm của mỗi hình sau:



**Lời giải:**

