

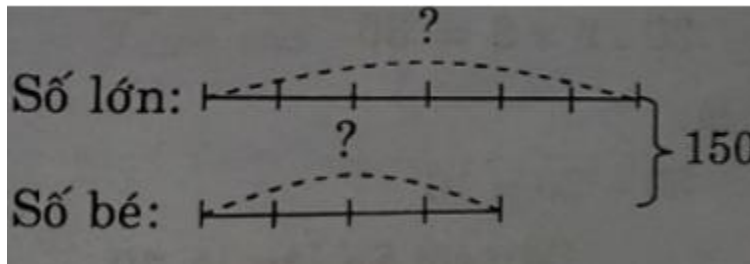
Giải bài 1 trang 73 VBT Toán lớp 4 Tập 2

Tổng của hai số 150. Tìm hai số đó biết:

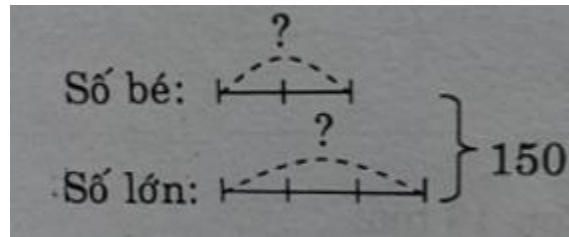
a) Tỉ số của hai số đó là $\frac{4}{6}$

b) Tỉ số của hai số đó là $\frac{2}{3}$

a) Tóm tắt



b) Tóm tắt



Lời giải:

a)

Theo sơ đồ, tổng số phần bằng nhau:

$$4 + 6 = 10(\text{phần})$$

$$\text{Số lớn là: } 150 : 10 \times 6 = 90$$

$$\text{Số bé là: } 150 - 90 = 60$$

Đáp số: Số lớn là 90

Số bé là 60

b)

Theo sơ đồ, tổng số phần bằng nhau:

$$2 + 3 = 5 \text{ (phần)}$$

$$\text{Số lớn: } 150 : 5 \times 3 = 90$$

$$\text{Số bé là: } 150 - 90 = 60$$

Đáp số: Số lớn là 90

Số bé là 60

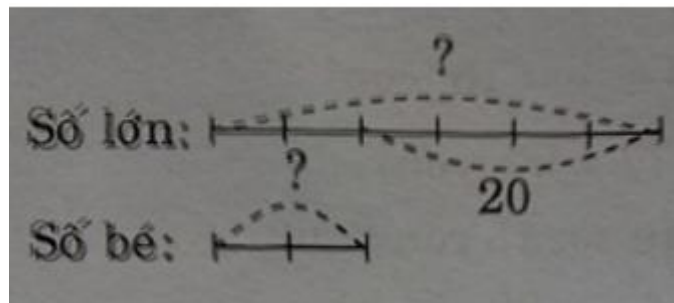
Giải bài 2 trang 74 VBT Toán lớp 4 Tập 2:

Hiệu của hai số là 20. Tìm hai số đó biết:

a) Tỉ số của hai số đó là 6 : 2

b) Số lớn gấp 3 lần số bé

a) Tóm tắt



Lời giải:

Theo sơ đồ, hiệu số phần bằng nhau:

$$6 - 2 = 4 \text{ (phần)}$$

$$\text{Số lớn là: } 20 : 4 \times 6 = 30$$

$$\text{Số bé là } 30 - 20 = 10$$

Đáp số: Số lớn là 30

Số bé là 10

Giải bài 3 trang 74 VBT Toán lớp 4 Tập 2:

Viết tỉ số vào ô trống

a 3 10 6 2

b 5 20 10 6

Tỉ số của a và b

Tỉ số của b và a

Lời giải:

a	3	10	6	2
b	5	20	10	6
Tỉ số của a và b	$\frac{3}{5}$	$\frac{10}{20}$	$\frac{6}{10}$	$\frac{2}{6}$
Tỉ số của b và a	$\frac{5}{3}$	$\frac{20}{10}$	$\frac{10}{6}$	$\frac{6}{2}$