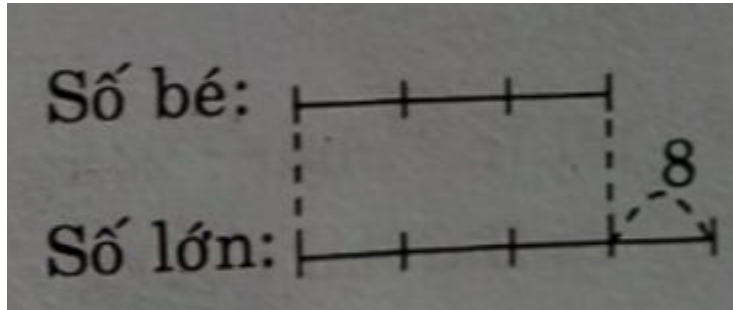


**Giải bài 1 trang 69 VBT Toán lớp 4 Tập 2**

Viết số hoặc tỉ số vào chỗ chấm:

a)



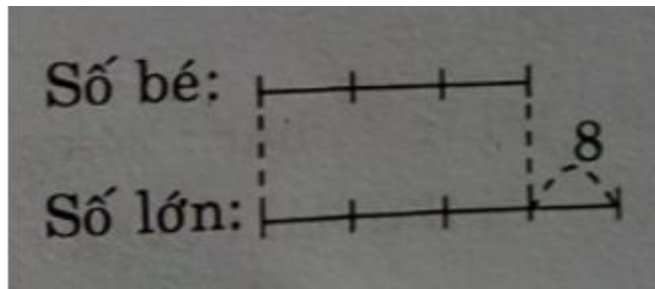
Hiệu của hai số bằng .....

Số lớn được biểu thị là ..... phần bằng nhau

Số bé được biểu thị là ..... phần như thế

Hiệu số phần bằng nhau là ..... phần

b)



Hiệu của hai số bằng .....

Số bé được biểu thị là ..... phần bằng nhau

Số lớn được biểu thị là ..... phần như thế

Tỉ số của số bé và số lớn là .....

Hiệu số phần bằng nhau là ..... phần

**Lời giải:**

a)

Hiệu của hai số bằng 12

Số lớn được biểu thị là 5 phần bằng nhau

Số bé được biểu thị là 2 phần như thế

Hiệu số phần bằng nhau là 3 phần

b)

Hiệu của hai số bằng 8

Số bé được biểu thị là 3 phần bằng nhau

Số lớn được biểu thị là 4 phần như thế

Tỉ số của số bé và số lớn là  $\frac{3}{4}$  hay  $3 : 4$

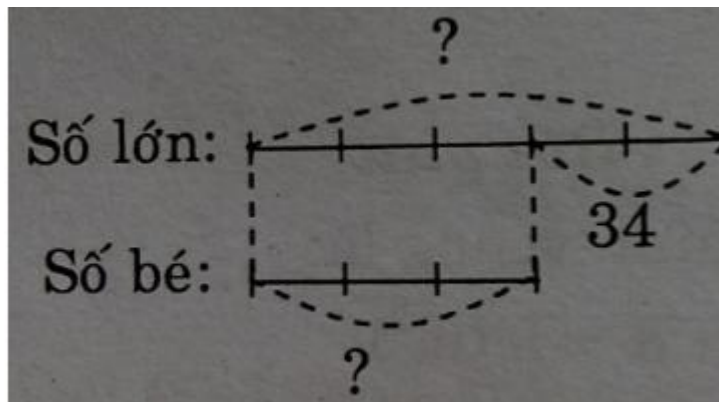
Hiệu số phần bằng nhau là 1 phần

**Giải bài 2 trang 69 VBT Toán lớp 4 Tập 2**

Hiệu hai số là 34. Tỉ số của hai số đó là  $\frac{5}{3}$ . Tìm hai số đó

**Lời giải:**

Tóm tắt



Theo sơ đồ, hiệu số phần bằng nhau:

$$5 - 3 = 2 \text{ (phần)}$$

$$\text{Số lớn là: } 34 : 2 \times 5 = 85$$

$$\text{Số bé là: } 85 - 34 = 51$$

Đáp số: số lớn: 85

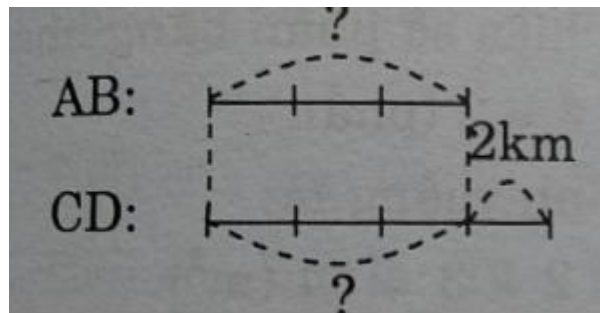
Số bé: 51

### Giải bài 3 trang 69 VBT Toán lớp 4 Tập 2

Đoạn đường AB ngắn hơn đoạn đường CD là 2km. Tìm chiều dài mỗi đoạn đường đó, biết rằng chiều dài của đoạn đường thẳng AB bằng  $\frac{3}{4}$  chiều dài của đoạn thẳng CD

**Lời giải:**

Tóm tắt



Theo sơ đồ, hiệu số phần bằng nhau:

$$4 - 3 = 1 \text{ (phần)}$$

Đoạn đường AB là:

$$2 : 1 \times 3 = 6 \text{ (km)}$$

Đoạn đường CD là:

$$6 + 2 = 8 \text{ (km)}$$

Đáp số: Đoạn đường AB 6km

Đoạn đường CD 8km