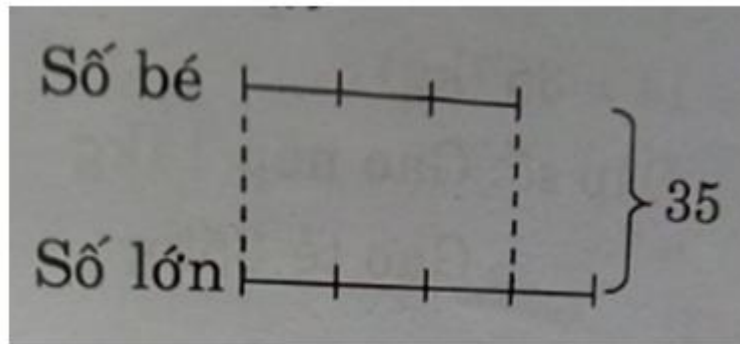


**Giải bài 1 trang 62 VBT Toán lớp 4 Tập 2**

Viết số hoặc tỉ số thích hợp vào chỗ chấm:

a)



Tổng của hai số bằng .....


Số bé được biểu thị là ..... phần bằng nhau

Số lớn được biểu thị là ..... phần như thế

Tỉ số của số bé và số lớn là .....

Tổng số phần bằng nhau là ..... phần.

b)



Tổng của hai số bằng .....

Số lớn được biểu thị là ..... phần bằng nhau

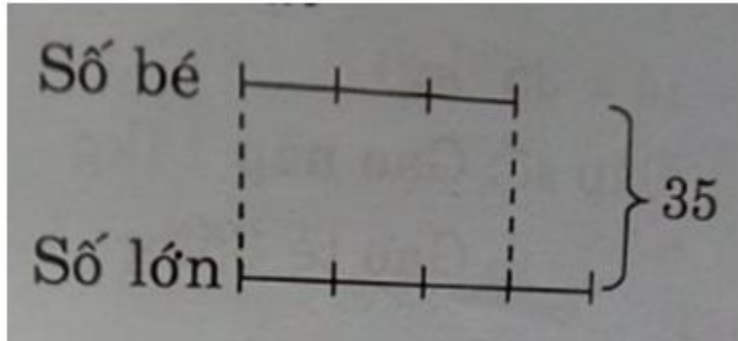
Số bé được biểu thị là ..... phần như thế

Tỉ số của số lớn và số bé là .....

Tổng số phần bằng nhau là ..... phần

**Lời giải:**

a) Tóm tắt



Bài giải

Tổng của hai số bằng 35

Số bé được biểu thị là 3 phần bằng nhau

Số lớn được biểu thị là 4 phần như thế

Tỉ số của số bé và số lớn là  $3 : 4$  hay  $\frac{3}{4}$

Tổng số phần bằng nhau là 7 phần.

b) Tóm tắt



Tổng của hai số bằng 63

Số lớn được biểu thị là 5 phần bằng nhau

Số bé được biểu thị là 4 phần như thế

$$\frac{5}{4}$$

Tỉ số của số lớn và số bé là 5: 4 hay

Tổng số phần bằng nhau là 9 phần

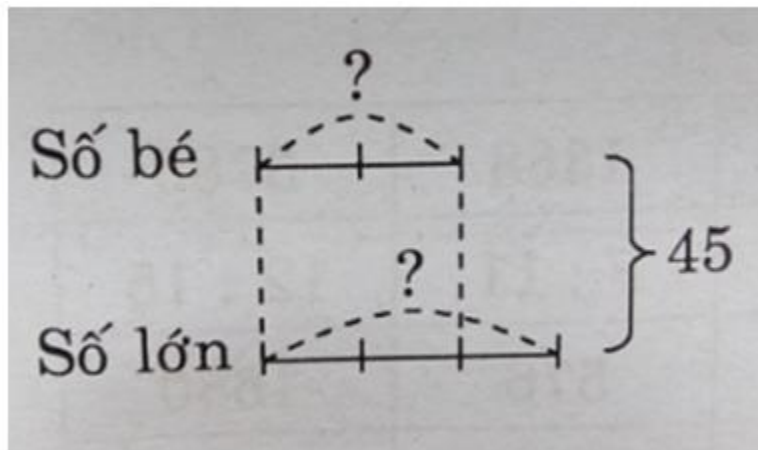
**Giải bài 2 trang 63 VBT Toán lớp 4 Tập 2**

$$\frac{3}{2}$$

Tổng của hai số là 45. Tỉ số của hai số đó là  $\frac{3}{2}$ . Tìm hai số đó

**Lời giải:**

Tóm tắt



**Bài giải**

Theo sơ đồ, tổng số phần bằng nhau là:

$$2 + 3 = 5 \text{ (phần)}$$

$$\text{Số bé là: } 45 : 5 \times 2 = 18$$

$$\text{Số lớn là } 45 - 18 = 27$$

Đáp số Số bé : 18

Số lớn: 27

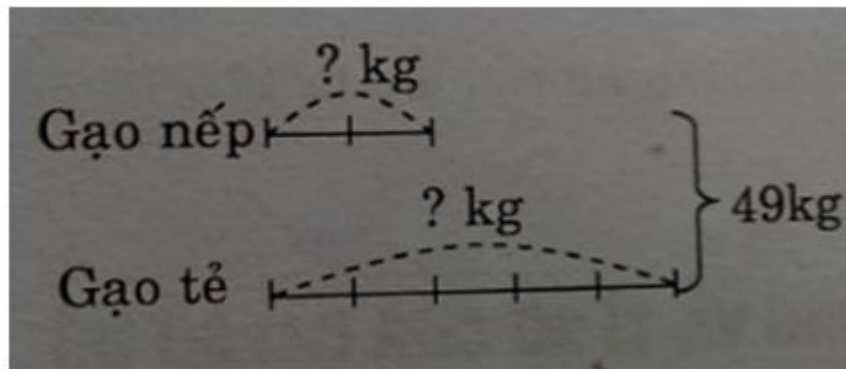
**Giải bài 3 trang 63 VBT Toán lớp 4 Tập 2**

$$\begin{array}{r} 2 \\ - \\ 5 \end{array}$$

Một cửa hàng đã bán 49kg gạo, trong đó số gạo nếp bằng số gạo tẻ. Hỏi cửa hàng đó bán được bao nhiêu ki-lô-gam mỗi loại?

**Lời giải:**

Tóm tắt:



Bài giải

Theo sơ đồ, tổng số phần bằng nhau là:

$$2 + 5 = 7 \text{ (phần)}$$

Số ki-lô-gam gạo nếp cửa hàng bán được là:

$$49 : 7 \times 2 = 14 \text{ (kg)}$$

Số ki-lô-gam gạo tẻ cửa hàng bán được là:

$$49 - 14 = 35 \text{ (kg)}$$

Đáp số: Gạo nếp 14kg

Gạo tẻ: 35 kg