

**Giải bài 1 trang 61 VBT Toán lớp 4 Tập 2**

Viết tỉ số của hai số vào ô trống:

a    2 4 5 4 1

b    3 7 4 6 2

a : b

b : a

**Lời giải:**

a    2   4   5   4   1

b    3   7   4   6   2

a : b 2:3 4:7 5:4 4:6 1:2

b : a 3:2 7:4 4:5 6:4 2:1

**Giải bài 2 trang 61 VBT Toán lớp 4 Tập 2**

Viết tỉ số của hai số và vẽ sơ đồ minh họa

a) Có 3 bạn trai và 5 bạn gái. Tỉ số của số bạn trai và số bạn gái là: .....

Số bạn trai.....

Số bạn gái: .....

b) Số gà mái gấp 3 lần số gà trống. Tỉ số của số gà trống và số gà mái là.....

Số gà trống: .....

Số gà mái: .....

c) Hình chữ nhật có chiều dài 6m, chiều rộng 3m.

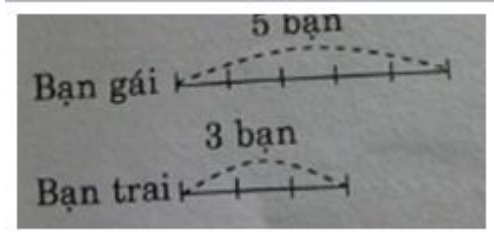
Tỉ số của số đo chiều dài và số đo chiều rộng là: .....

Chiều dài: .....

Chiều rộng: .....

**Lời giải:**

a) Tóm tắt




Có 3 bạn trai và 5 bạn gái. Tỉ số của số bạn trai và số bạn gái là:

$$3 : 5 \text{ hay } \frac{3}{5}$$

Số bạn trai bằng  $\frac{3}{5}$   
số bạn gái

Số bạn gái bằng  $\frac{5}{3}$   
số bạn trai

b) Tóm tắt



Bài giải

Số gà mái gấp 3 lần số gà trống

$$\frac{3}{9}$$

Tỉ số của số gà trống và số gà mái là 3 : 9 hay

$$\frac{3}{9}$$

Số gà trống bằng

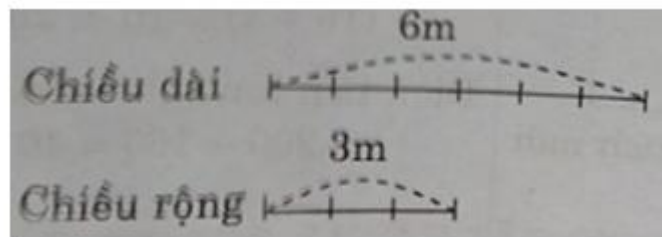
số gà mái

$$\frac{9}{3}$$

Số gà mái bằng

số gà trống

c) Tóm tắt



Bài giải

Hình chữ nhật có chiều dài 6m, chiều rộng 3m

$$\frac{6}{3}$$

Tỉ số của số đo chiều dài và số đo chiều rộng là 6 : 3 hay

$$\frac{6}{3}$$

Chiều dài bằng

Chiều rộng bằng  $\frac{3}{6}$

**Giải bài 3 trang 62 VBT Toán lớp 4 Tập 2**

Lớp học có 15 học sinh nữ và 17 học sinh nam

- a) Lớp có tất cả ....học sinh
- b) Tỷ số của số học sinh nữ và số học sinh của lớp là:.....
- c) Tỷ số của số học sinh nam và số học sinh nữ của lớp là:.....

**Lời giải:**

Tóm tắt

Học sinh nữ có: 15 em

Học sinh nam có: 17 em

Bài giải

- a) Lớp có tất cả 32 học sinh

- b) Tỷ số của số học sinh nữ và số học sinh của lớp là  $15 : 32$  hay  $\frac{15}{32}$

- c) Tỷ số của số học sinh nam và số học sinh nữ của lớp là  $17 : 15$  hay  $\frac{17}{15}$