

Mời các bạn cùng tham khảo hướng dẫn giải bài tập SBT Địa lý **Bài 43: Miền Nam Trung Bộ và Nam Bộ** lớp 8 được chúng tôi chọn lọc và giới thiệu ngay dưới đây nhằm giúp các em học sinh tiếp thu kiến thức và củng cố bài học của mình trong quá trình học tập môn Địa lý.

Bài 1 trang 106 sách bài tập Địa Lý 8

Dựa vào hình 21 dưới đây:

Em hãy:

a. Ghi các địa danh sau vào đúng vị trí trên lược đồ:

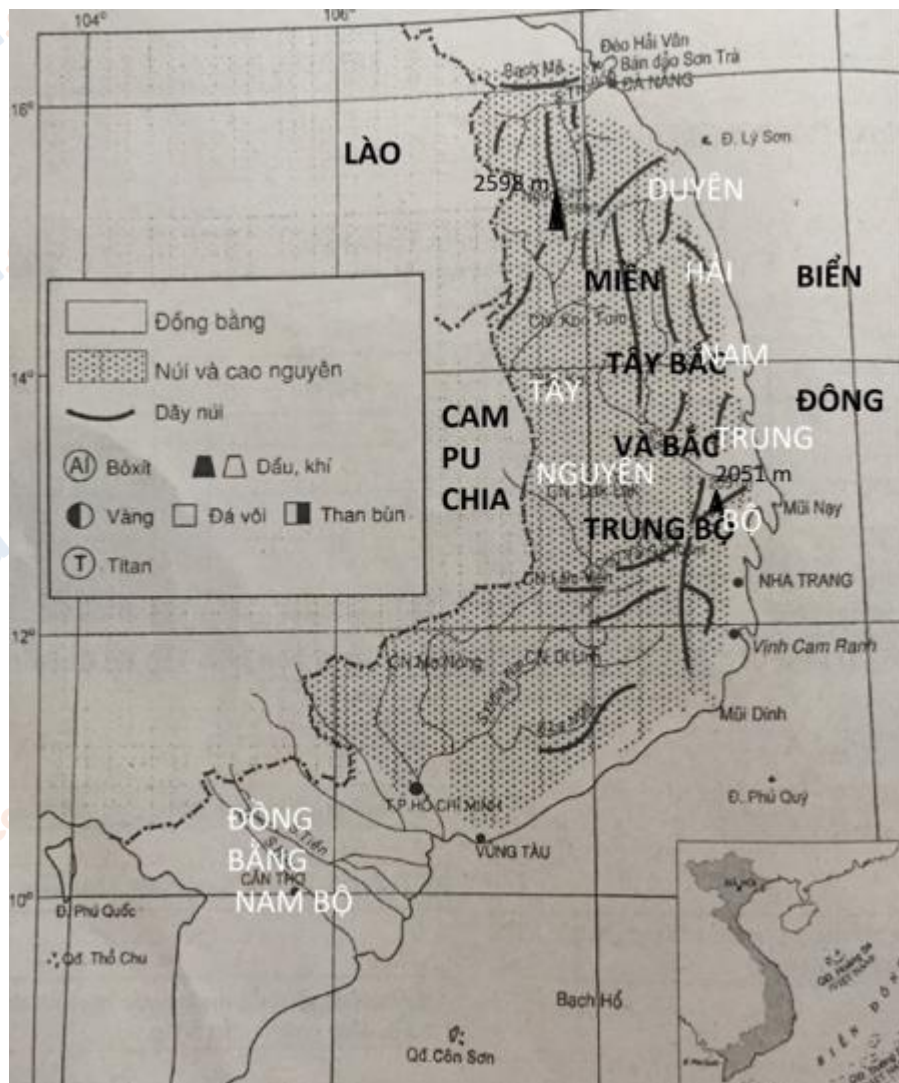
-Miền TB và BTB, Lào, Cam-pu-chia, Biển Đông.

-Tây Nguyên, Duyên hải Nam Trung Bộ, Đồng bằng Nam Bộ

Dùng kí hiệu() thể hiện đỉnh núi Ngọc Linh và Vọng Phu trên lược đồ, ghi độ cao của hai ngọn núi này.

c. Dùng kí hiệu khoáng sản ở phần chú giải, thể hiện trên lược đồ các khoáng sản của miền.

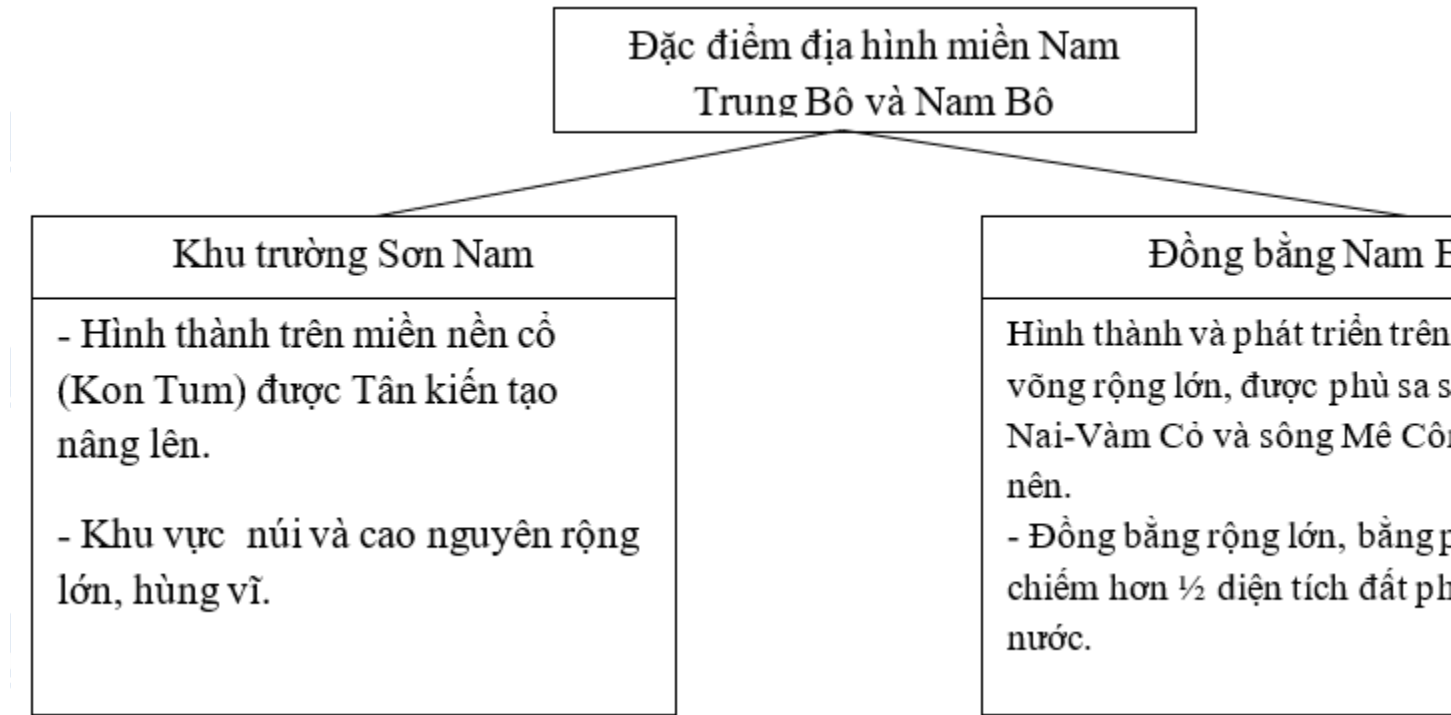
Lời giải:



Bài 2 trang 107 sách bài tập Địa Lý 8

Nêu đặc điểm địa hình của miền Nam Trung Bộ và Nam Bộ bằng cách hoàn thành sơ đồ dưới đây:

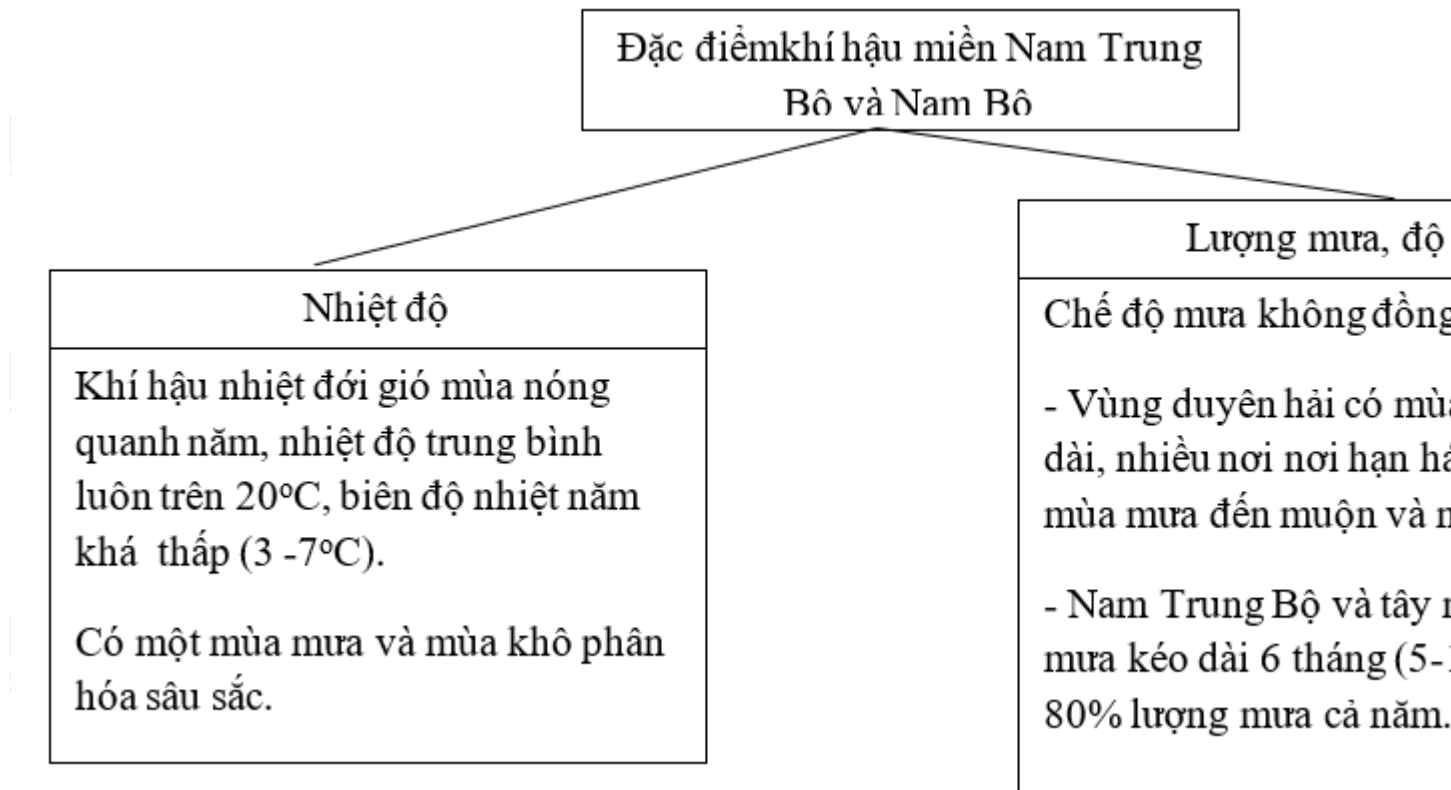
Lời giải:



Bài 3 trang 107 sách bài tập Địa Lý 8

Hoàn thành sơ đồ sau:

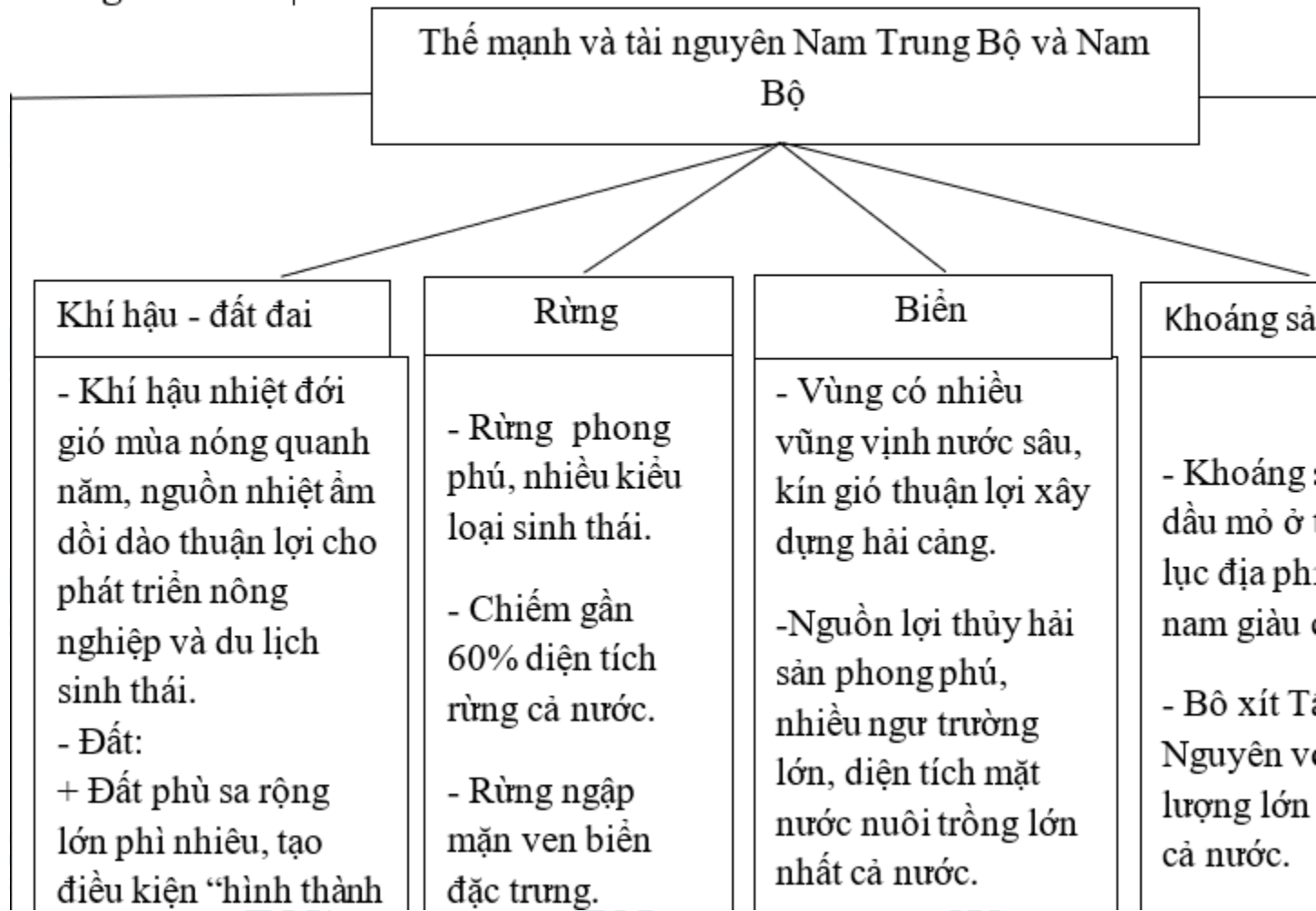
Lời giải:



Bài 4 trang 108 sách bài tập Địa Lý 8

Hoàn thành sơ đồ dưới đây để nêu rõ thế mạnh về tài nguyên Nam Trung Bộ và Nam Bộ khi xây dựng và phát triển kinh tế cũng như các vấn đề bảo vệ tài nguyên, môi trường của miền.

Lời giải:



vùng chuyên canh lương thực, thực phẩm lớn nhất nước ta (đồng bằng sông Cửu Long).

+ Đất feralit badan, thích hợp cho cây trồng ôn nghiệp lâu năm: cà phê, cao su, hồ tiêu

- Nhiều bãi biển, hòn đảo, rạn san hô đẹp phát triển du lịch.

- Dầu mỏ ở thềm lục địa phía nam.

-- Cát thu titan...

Các vấn đề bảo vệ tài nguyên, môi trường:

- Xói mòn, sạt lở đất vùng núi.

- Ngập lụt ở vùng đồng bằng hạ lưu sông vào mùa mưa.

- Hạn hán, thiếu nước vào mùa khô.

CLICK NGAY vào **TẢI VỀ** dưới đây để download giải bài tập Địa lý **Bài 43: Miền Nam Trung Bộ và Nam Bộ** SBT lớp 8 hay nhất file word, pdf hoàn toàn miễn phí.