

Mời các bạn cùng tham khảo hướng dẫn giải bài tập SBT Địa lý **Bài 41: Miền Bắc và Đông Bắc Bắc Bộ** lớp 8 được chúng tôi chọn lọc và giới thiệu ngay dưới đây nhằm giúp các em học sinh tiếp thu kiến thức và củng cố bài học của mình trong quá trình học tập môn Địa lý.

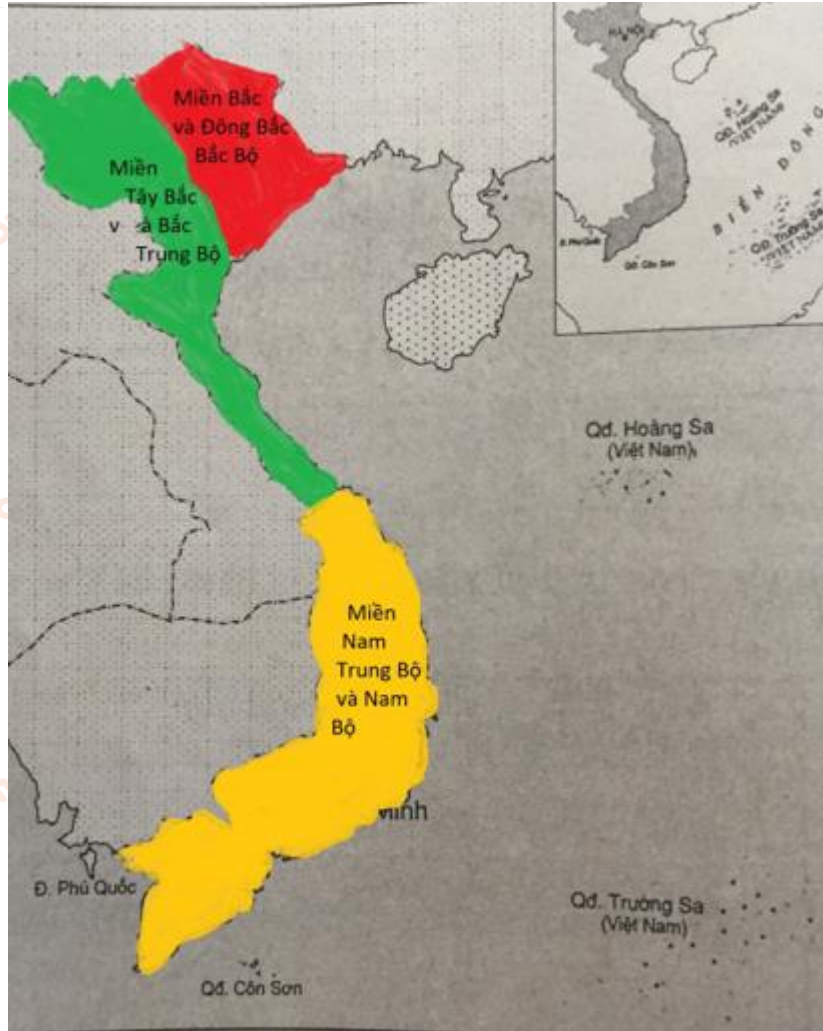
Bài 1 trang 100 sách bài tập Địa Lý 8

Dựa vào hình 18 dưới đây:

Em hãy:

- Dùng màu sắc khác nhau để phân biệt các miền địa lý tự nhiên Việt Nam.
- Ghi tên các miền địa lý tự nhiên Việt Nam theo ký hiệu; A,B,C trên lược đồ/
- Ghi tên nước,tên biển giáp với phần đất liền Việt Nam.

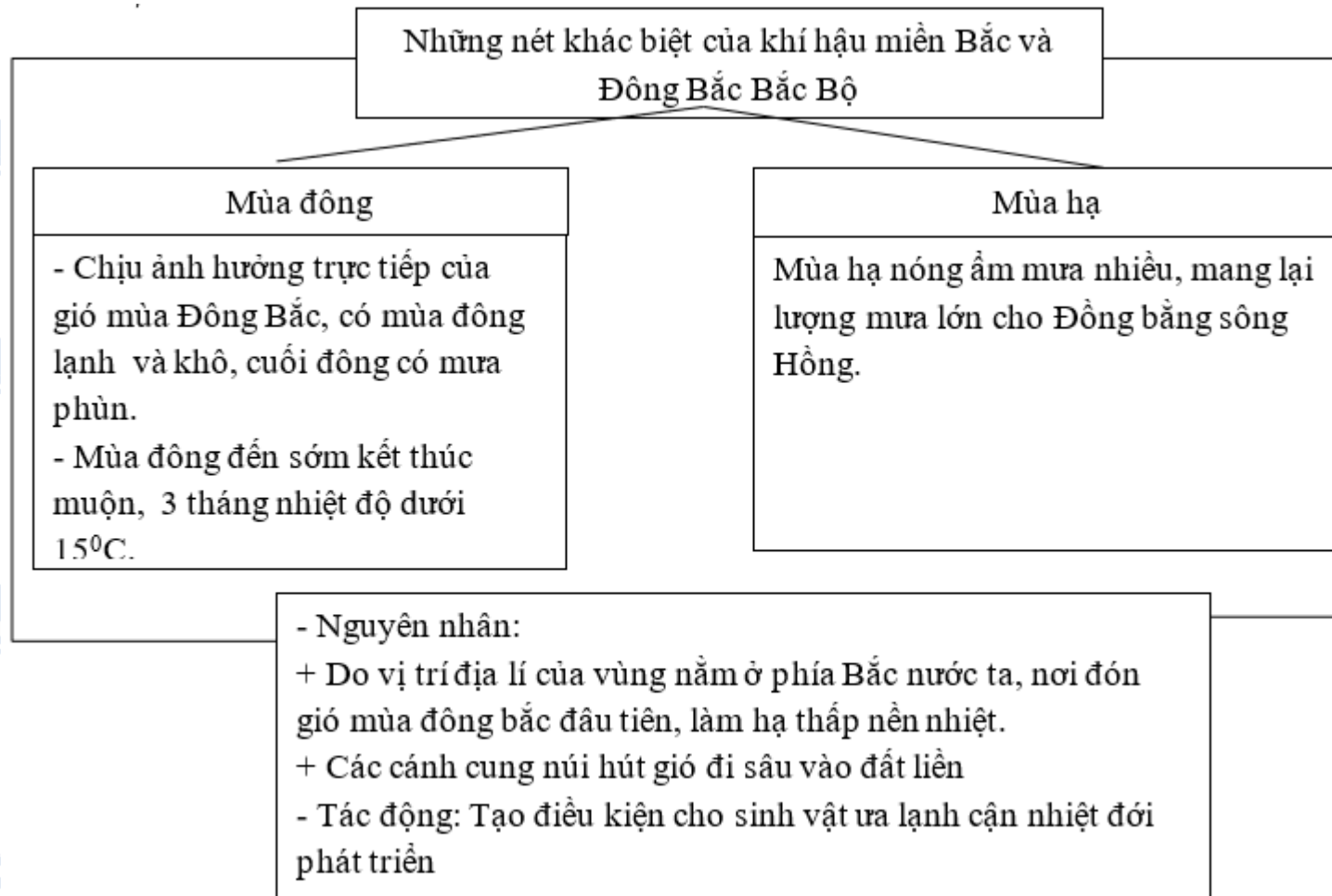
Lời giải:



Bài 2 trang 100 sách bài tập Địa Lý 8

Em hãy hoàn thành sơ đồ dưới đây để nêu rõ những nét khách biệt của khí hậu miền Bắc và Đông Bắc Bắc Bộ với tính chất chung của khí hậu nước ta là nhiệt đới gió mùa ẩm.

Lời giải:



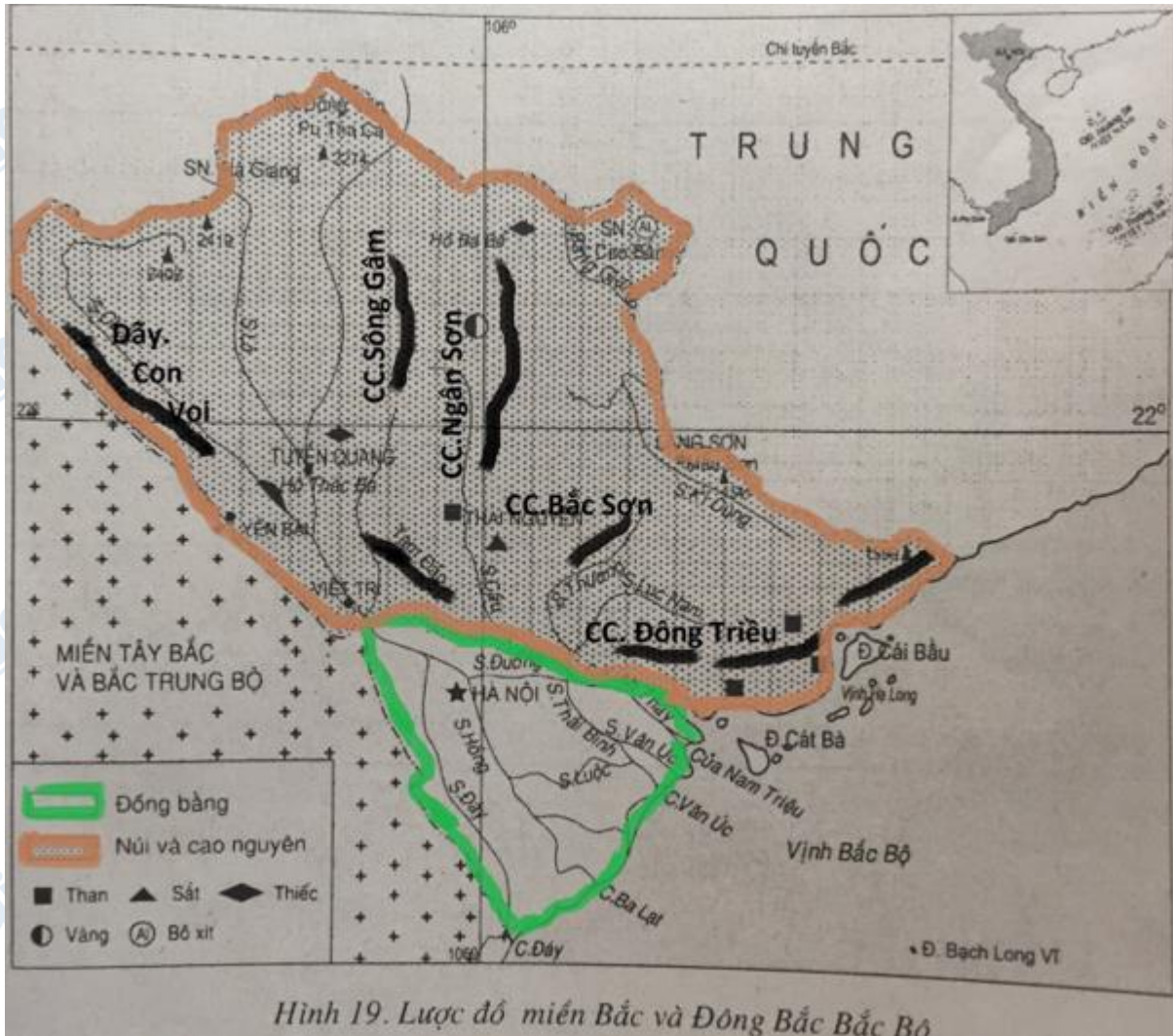
Bài 3 trang 101 sách bài tập Địa Lý 8

Dựa vào hình 19 dưới đây:

Em hãy:

- a. Dùng kí hiệu thể hiện các dãy núi lớn và ghi tên các dãy núi này lên lược đồ.
- b. Tô màu xanh vào miền đồng bằng, tô màu gạch vào miền núi và trung du.
- c. Kết hợp với kiến thức trong SGK, nêu nhận xét chung về địa hình của miền này.

Lời giải:



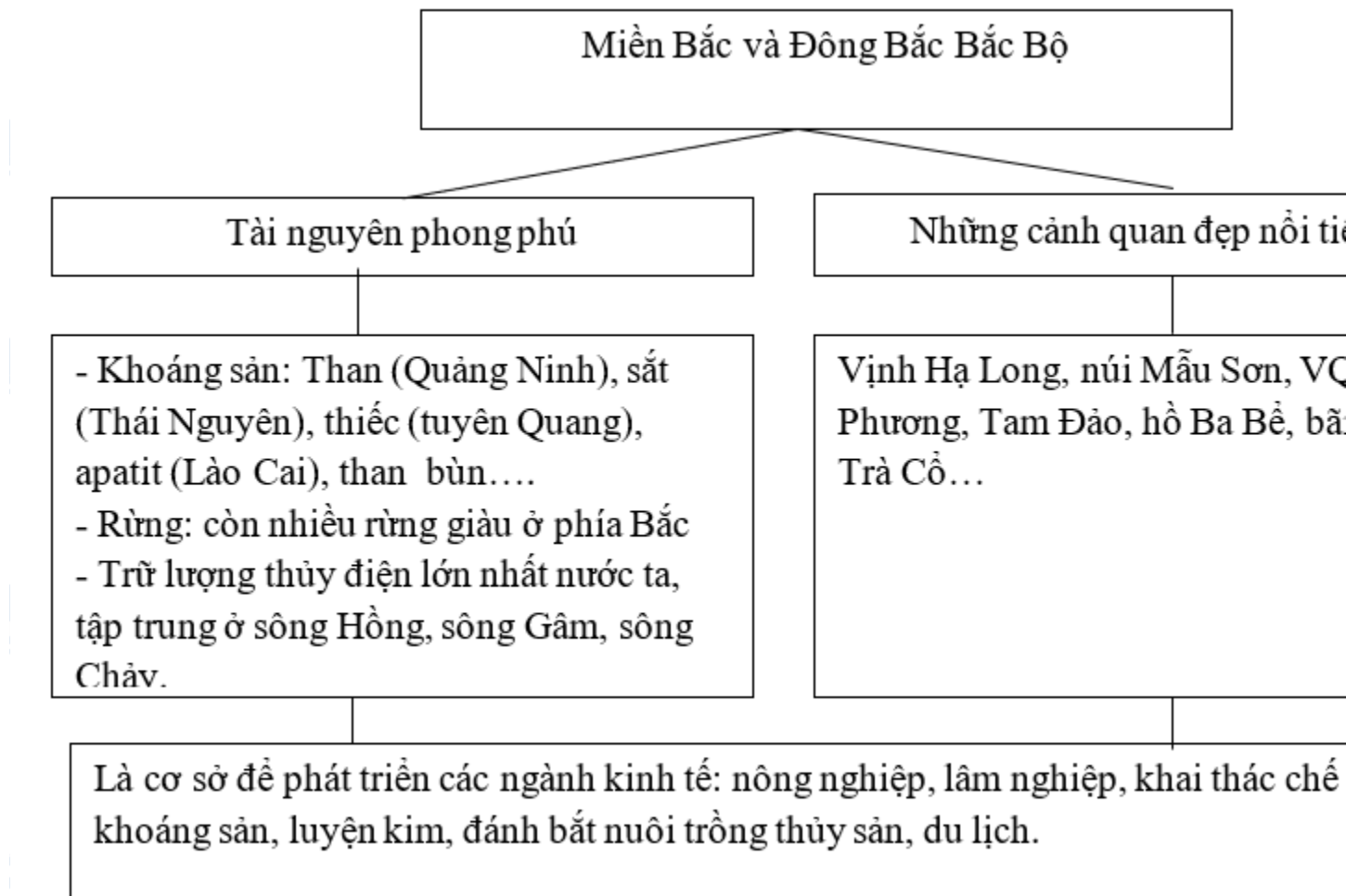
Hình 19. Lược đồ miền Bắc và Đông Bắc Bắc Bộ

- Địa hình đồi núi phần lớn là đồi núi thấp với nhiều cánh cung mở rộng về phía Bắc và quy tụ ở Tam Đảo.
- Phía Nam là đồng bằng sông Hồng rộng lớn, bằng phẳng và mở rộng về phía biển.

Bài 4 trang 102 sách bài tập Địa Lý 8

Hoàn thành sơ đồ dưới đây để nêu rõ nguồn tài nguyên và những cảnh đẹp nổi tiếng của miền Bắc và Đông Bắc Bắc Bộ.

Lời giải:



CLICK NGAY vào **TẢI VỀ** dưới đây để download giải bài tập Địa lý **Bài 41: Miền Bắc và Đông Bắc Bắc Bộ** SBT lớp 8 hay nhất file word, pdf hoàn toàn miễn phí.