

Mời các bạn cùng tham khảo hướng dẫn giải bài tập SBT Địa lý **Bài 39: Đặc điểm chung của tự nhiên Việt Nam** lớp 8 được chúng tôi chọn lọc và giới thiệu ngay dưới đây nhằm giúp các em học sinh tiếp thu kiến thức và củng cố bài học của mình trong quá trình học tập môn Địa lý.

Bài 1 trang 95 sách bài tập Địa Lý 8

Tính chất nhiệt đới gió mùa ẩm của tự nhiên Việt Nam được thể hiện ở các yếu tố tự nhiên như thế nào? (Hoàn thành sơ đồ theo gợi ý dưới đây để trả lời câu hỏi)

Lời giải:



Bài 2 trang 95 sách bài tập Địa Lý 8

Dựa vào hình 17. Lược đồ hành chính Việt Nam, em hãy:

Lời giải:

a. Ghi tên biển, vịnh tiếp giáp với phần đất liền Việt Nam

- Biển giáp với Việt Nam: Biển Đông.

- Vịnh giáp với Việt Nam: vịnh Thái Lan, vịnh Bắc Bộ.

b. Đánh số thứ tự các tỉnh, thành phố có đường biên giới biển (thứ tự từ Bắc vào Nam). Cho biết nước ta có bao nhiêu tỉnh, thành phố giáp biển.

Có 28 tỉnh, thành phố trực thuộc Trung ương có biển, với 125 huyện ven biển và 12 huyện đảo.

c. Kết hợp với vốn hiểu biết của mình nêu ảnh hưởng của Biển Đông tới tự nhiên nước ta.

Ảnh hưởng của Biển Đông đến tự nhiên Việt Nam.

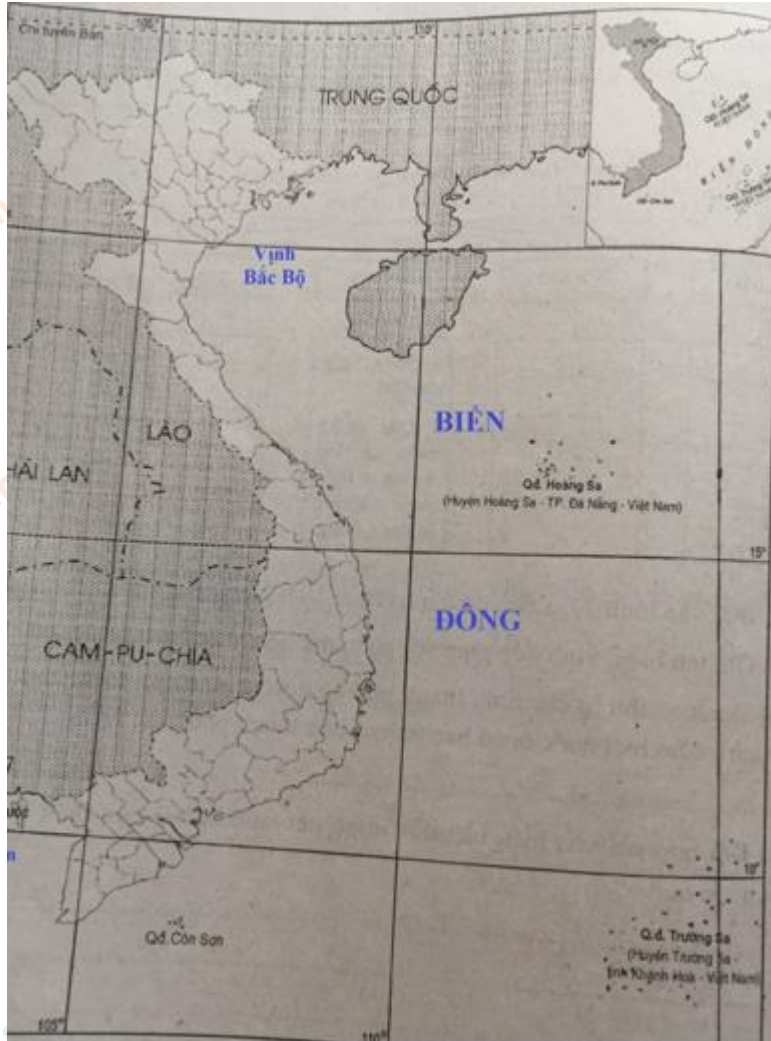
- Khí hậu nhiệt đới gió mùa ẩm: nền nhiệt độ cao, lượng mưa lớn, độ ẩm cao, gió mùa (gió mùa đông từ tháng 11 đến tháng 3, nước ta chịu tác động của khối khí lạnh Phương Bắc, thường gọi là gió mùa Đông Bắc, gió mùa mùa hạ có hai luồng gió cùng hướng Tây Nam thổi vào Việt Nam).

- Địa hình: xâm thực mạnh ở miền đồi núi, bồi tụ nhanh ở đồng bằng hạ lưu sông.

- Thủy văn mạng lưới sông ngòi dày đặc chỉ tính những con sông có chiều dài trên 10km có nước chảy thường xuyên, thì trên toàn lãnh thổ đã có 2360 sông.

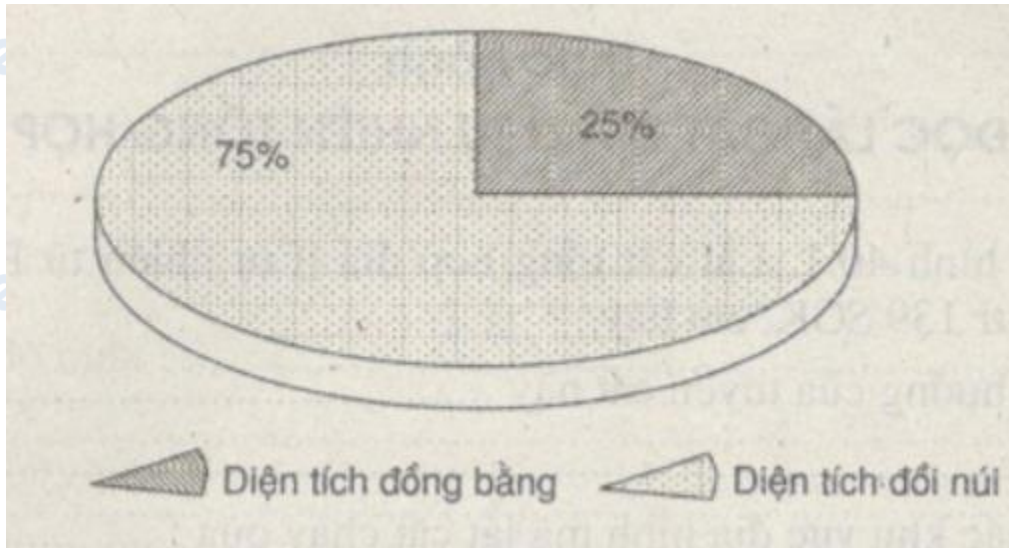
- Đất feralit: Quá trình feralit là quá trình hình thành đất đặc trưng cho khí hậu nhiệt đới ẩm.

- Thiên nhiên nhiệt đới ẩm gió mùa được đặc trưng bởi hệ sinh thái rừng nhiệt đới ẩm gió mùa với thành phần thực - động vật nhiệt đới chiếm ưu thế.



Bài 3 trang 97 sách bài tập Địa Lý 8

Dựa vào biểu đồ dưới đây:



Em hãy:

- Nêu nhận xét về tỉ lệ diện tích đồng bằng và đồi núi ở nước ta
- Kết hợp với vốn hiểu biết, nêu thuận lợi và khó khăn của vùng đồi núi vùng đồng bằng trong việc phát triển kinh tế - xã hội.

Lời giải:

- Đồi núi là chủ yếu, chiếm 3/4 diện tích lãnh thổ.
- Miền núi nước ta có diện tích rộng lớn, chiếm 3/4 diện tích lãnh thổ, kéo dài liên tục từ Bắc vào Nam.

- Miền núi nước ta có nguồn tài nguyên đa dạng:

+ Đất đai: đất ferlit ở vùng đồi núi thấp, chiếm 65% diện tích tự nhiên, thích hợp cho phát triển cây công nghiệp lâu năm và cây hàng năm, trồng rừng. Các đồng cỏ phát triển chăn nuôi đại gia súc. (vùng trung du miền núi Bắc Bộ, Tây Nguyên).

+ Giàu tài nguyên khoáng sản, cho phép vùng phát triển ngành công nghiệp khai thác và chế biến khoáng sản. (Trung du miền núi Bắc Bộ)

+ Rừng cung cấp gỗ.

+ Sông ngòi có giá trị thủy điện lớn, phát triển giao thông. (sông Đồng Nai, sông Hồng, sông Xê Xan...)

+ Nhiều phong cảnh đẹp phát triển du lịch sinh thái, các hang động cacxtơ...

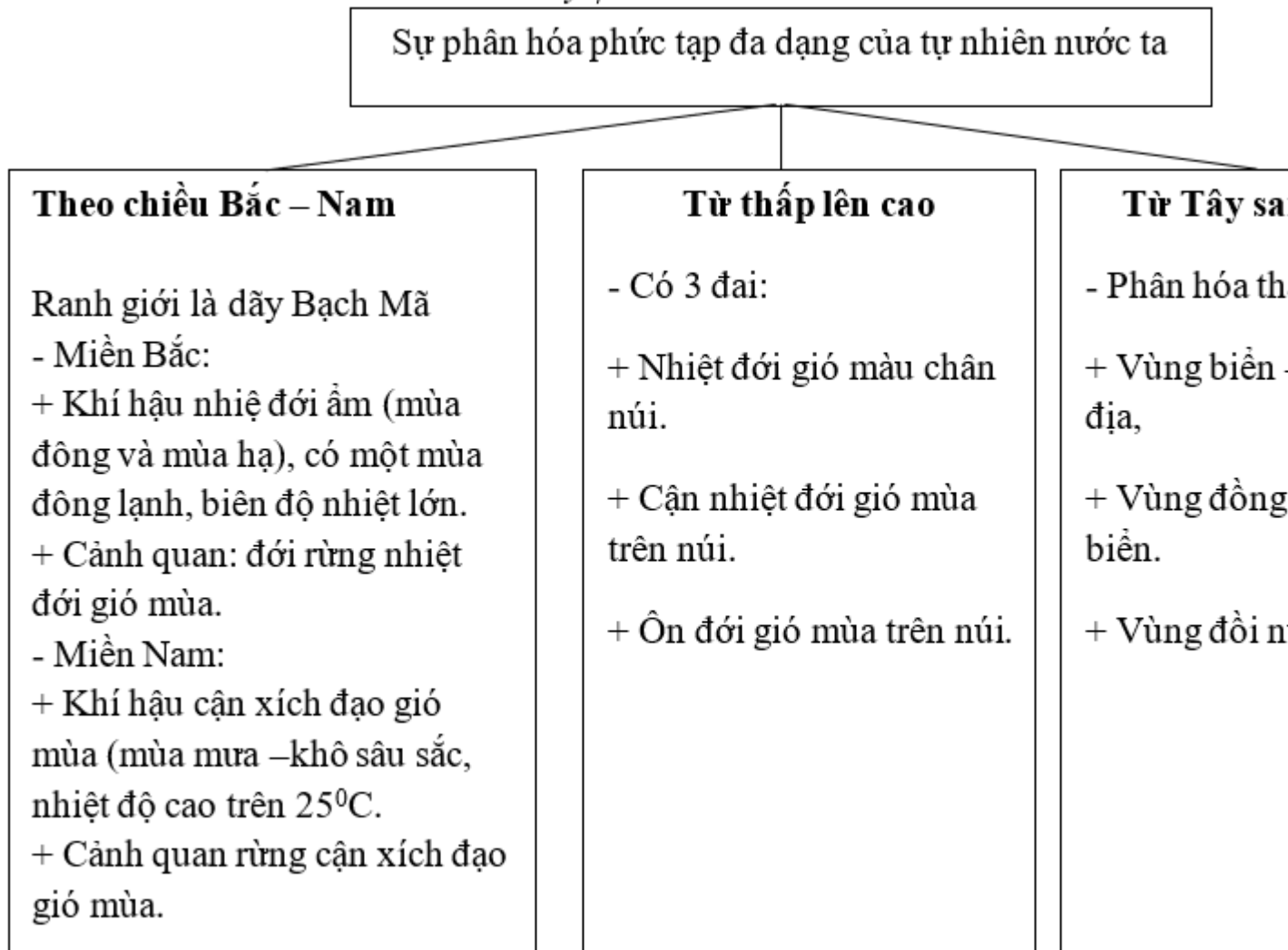
- Khó khăn:

- + Địa hình bị chia cắt mạnh, núi cao, sông sâu, vực thẳm.
- + Khí hậu thời tiết khắc nghiệt.
- + Đường sá khó xây dựng, bảo dưỡng.
- + Dân cư thưa thớt và phân tán.

Bài 4 trang 97 sách bài tập Địa Lý 8

Hoàn thành sơ đồ dưới đây:

Lời giải:



CLICK NGAY vào **TẢI VỀ** dưới đây để download giải bài tập Địa lý **Bài 39: Đặc điểm chung của tự nhiên Việt Nam** SBT lớp 8 hay nhất file word, pdf hoàn toàn miễn phí.