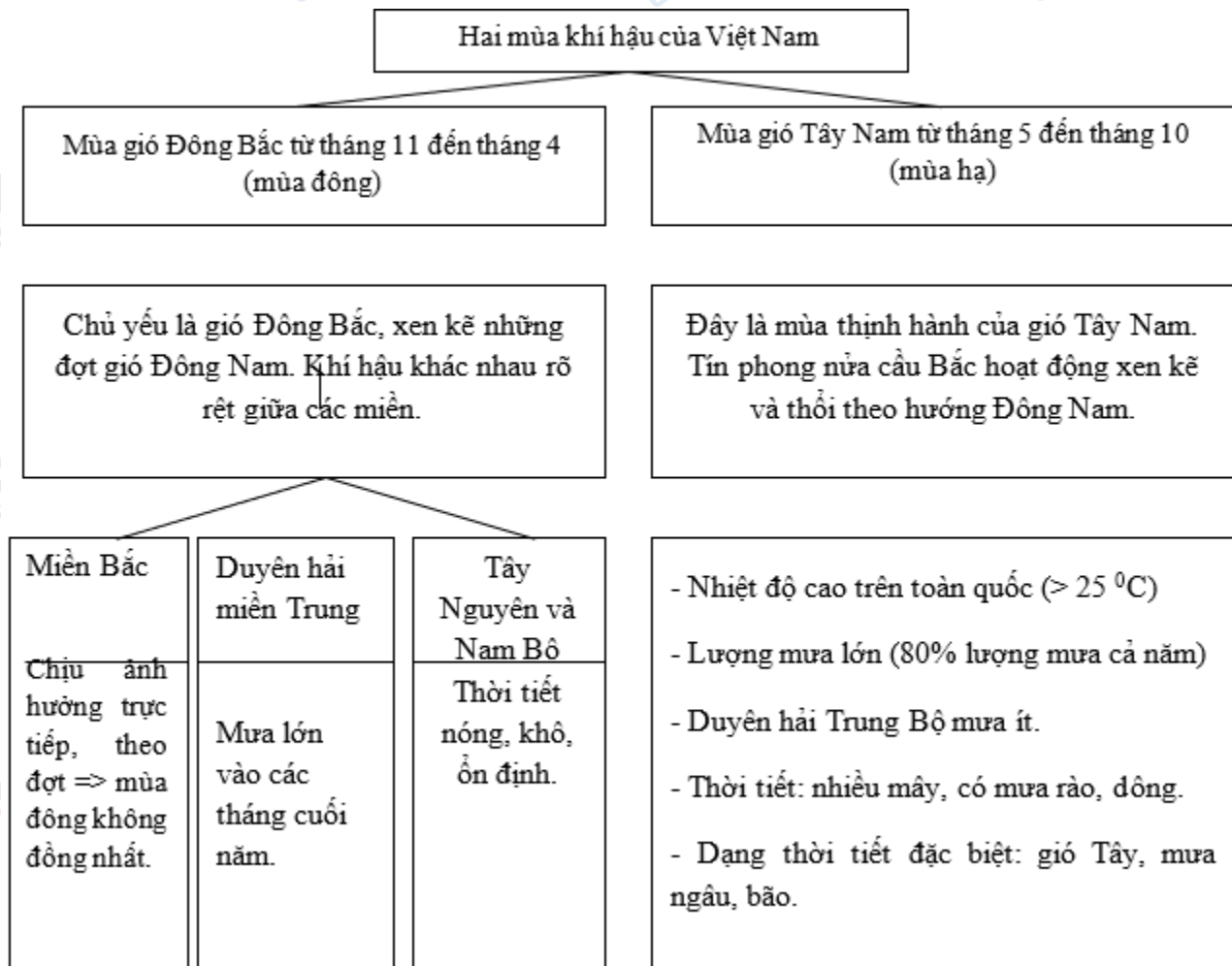


Mời các bạn cùng tham khảo hướng dẫn giải bài tập SBT Địa lý **Bài 32: Các mùa khí hậu và thời tiết ở nước ta** lớp 8 được chúng tôi chọn lọc và giới thiệu ngay dưới đây nhằm giúp các em học sinh tiếp thu kiến thức và củng cố bài học của mình trong quá trình học tập môn Địa lý.

Bài 1 trang 80 sách bài tập Địa Lý 8

Hoàn thành sơ đồ sau:

Lời giải:



Bài 2 trang 80 sách bài tập Địa Lý 8

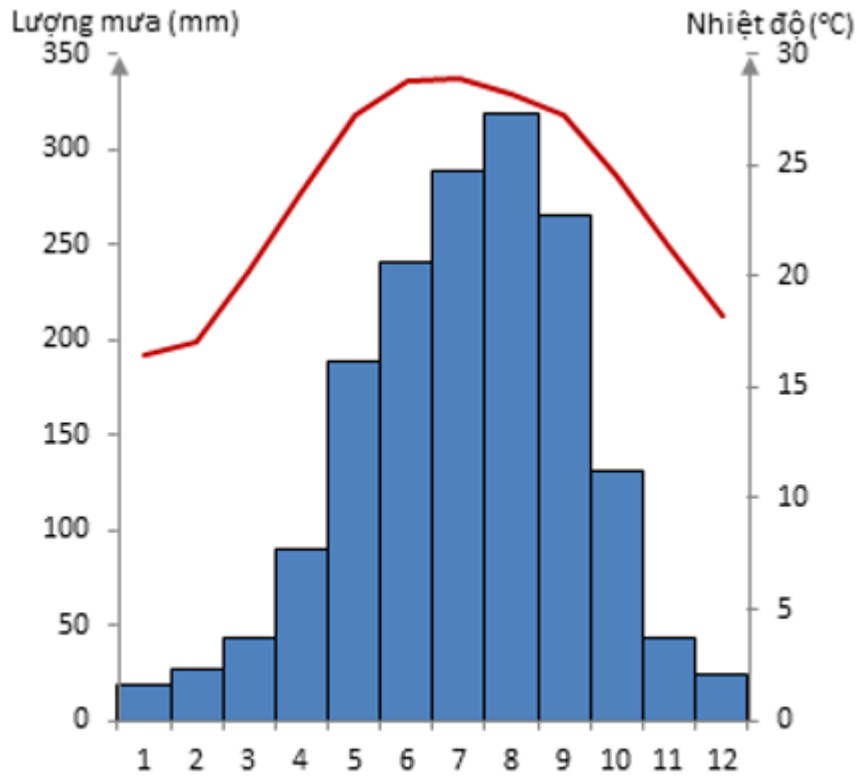
Dựa vào bảng 31.1 tr 110 SGK:

a) Hãy vẽ biểu đồ nhiệt độ và lượng mưa của ba trạm: Hà Nội, TP. Hồ Chí Minh theo gợi ý dưới đây:

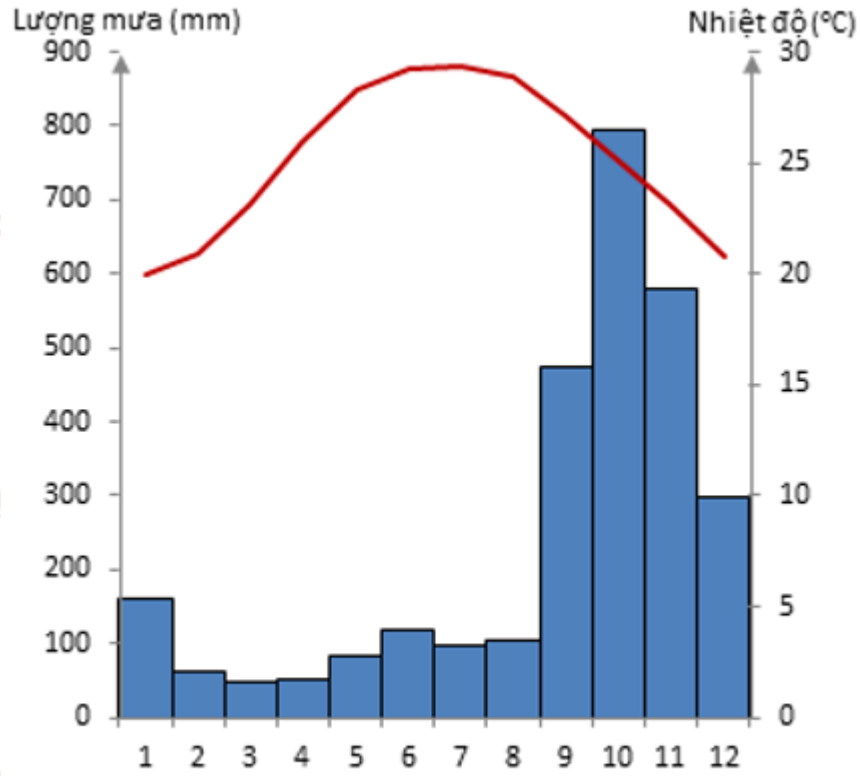
b) Qua ba biểu đồ trên, hãy nêu nhận xét về nhiệt độ và lượng mưa trong hai mùa khí hậu của nước ta.

Lời giải:

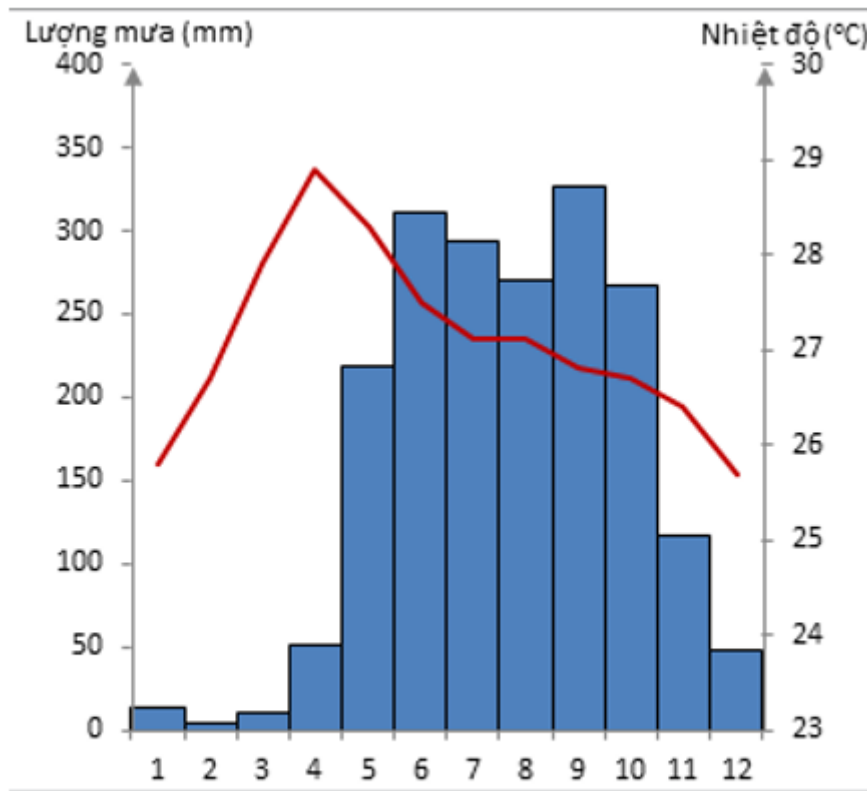
a)



HÀ NỘI



HUẾ



TP. HỒ CHÍ MINH

b) - Mùa đông (tháng 11 đến tháng 4): mưa ít, nhiệt độ trung bình thấp hơn (đặc biệt hạ thấp ở Hà Nội).

- Mùa hạ (tháng 5 -10): mưa nhiều, nhiệt độ cao.

Bài 3 trang 82 sách bài tập Địa Lý 8

Lập sơ đồ theo gợi ý sau để nêu rõ những thuận lợi và khó khăn của khí hậu nước ta đối với sản xuất và đời sống.

Lời giải:

Ảnh hưởng của khí hậu nước ta đối với
sản xuất và đời sống

Thuận lợi

- Sinh vật phát triển cây cối quanh năm ra hoa kết quả.
- Nền nông nghiệp nhiệt đới phát triển mạnh.

Khó khăn

- Thiên tai.
- Diễn biến thời tiết thất thường.
- Nhiều hiện tượng cực đoan: sự xâm nhập mặn, sương muối.... => thiệt hại mùa màng, dịch bệnh bùng phát.

CLICK NGAY vào TẢI VỀ dưới đây để download giải bài tập Địa lý Bài 32: Các mùa khí hậu và thời tiết ở nước ta SBT lớp 8 hay nhất file word, pdf hoàn toàn miễn phí.