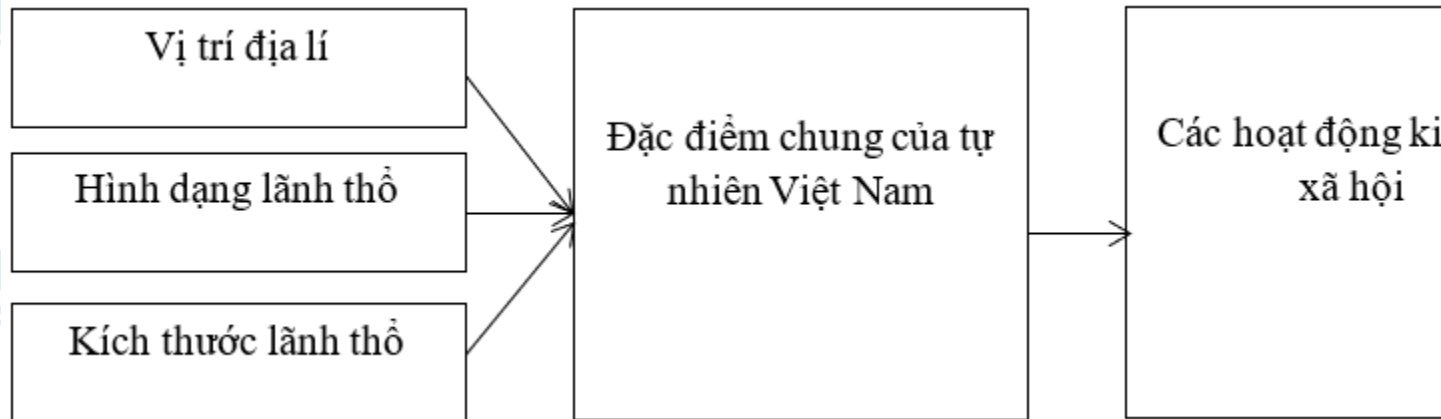


Mời các bạn cùng tham khảo hướng dẫn giải bài tập SBT Địa lý **Bài 23: Vị trí, giới hạn, hình dạng lãnh thổ Việt Nam** lớp 8 được chúng tôi chọn lọc và giới thiệu ngay dưới đây nhằm giúp các em học sinh tiếp thu kiến thức và củng cố bài học của mình trong quá trình học tập môn Địa lý.

*Bài 1 trang 56 sách bài tập Địa Lý 8*

Dựa vào sơ đồ dưới đây



Em hãy nêu rõ những yếu tố địa lí ảnh hưởng đến đặc điểm chung của tự nhiên Việt Nam; lấy ví dụ về sự tác động của tự nhiên đến các hoạt động kinh tế - xã hội.

Lời giải:

- Những yếu tố tác động đến đặc điểm chung của tự nhiên Việt Nam là:

+ Vị trí địa lí: nằm trong vùng nội chí tuyến và châu Á gió mùa đã quy định tính chất nhiệt đới ẩm gió mùa nước ta, tiếp giáp biển đông rộng lớn nên thiên nhiên chịu ảnh hưởng sâu sắc của biển, khí hậu điều hòa; nơi giao nhau của các luồng di cư sinh vật.

+ Hình dạng lãnh thổ: kéo dài theo chiều Bắc - Nam, hẹp ngang, đường bờ biển cong hình chữ S dài 3260km, chịu ảnh hưởng của biển và phân hóa bắc-nam.

+ Kích thước lãnh thổ: Lãnh thổ trải dài trên 15 độ vĩ tuyến, từ tây sang đông mở rộng 7 kinh độ.

- Ví dụ:

+ Nước ta giáp với biển đông rộng lớn ⇒ phát triển kinh tế biển: đánh bắt thủy hải sản, du lịch, khai thác dầu khí, giao thông vận tải biển.

+ Điều kiện tự nhiên thuận lợi (khoáng sản giàu có, đất đai màu mỡ, nguồn nước dồi dào, địa hình đa dạng...) đem lại thế mạnh, về phát triển nông nghiệp theo hướng sản xuất hàng hóa, công nghiệp khai thác...

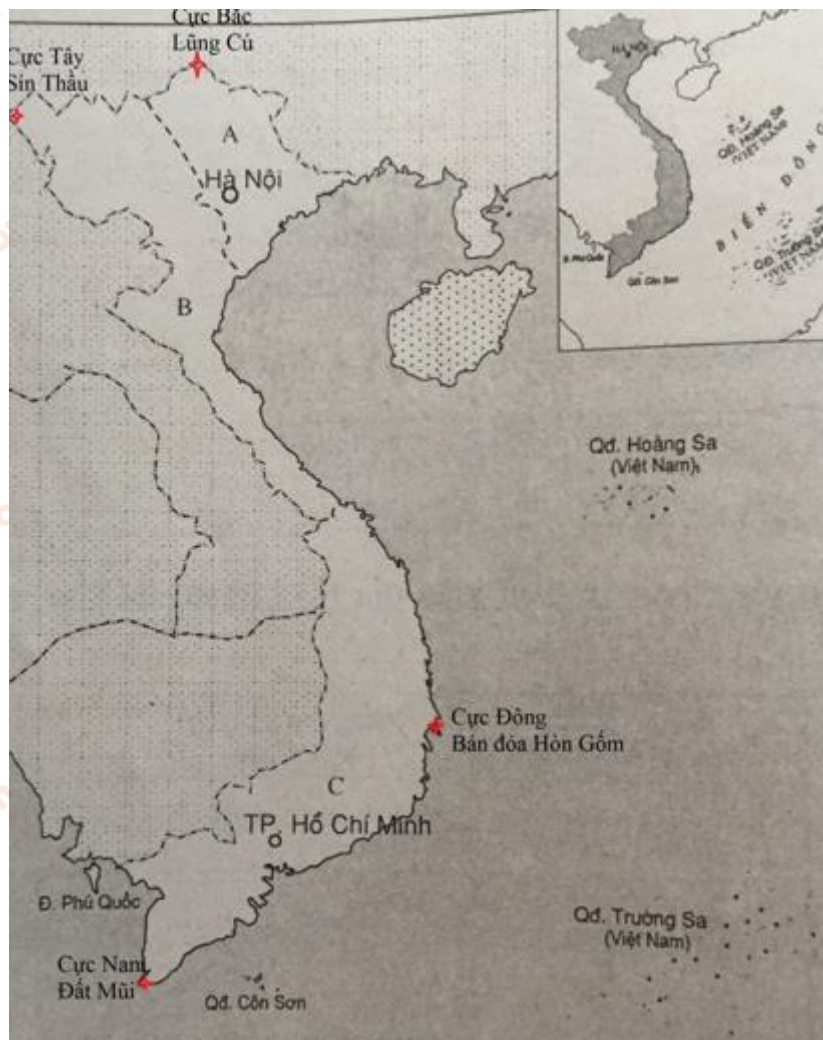
*Bài 2 trang 57 sách bài tập Địa Lý 8*

Dựa vào hình 11 dưới đây:

**Em hãy:**

- a) Xác định các điểm cực trên phần đất liền Việt Nam và ghi tên các điểm cực này lên lược đồ.
- b) Đo và tính khoảng cách từ điểm cực Bắc đến điểm cực Nam (theo đường chim bay) dài bao nhiêu km?
- c) Đo và tính khoảng cách (theo đường chim bay) từ Đông sang Tây, nơi rộng nhất (AB) và nơi hẹp nhất (CD) trên phần lãnh thổ đất liền nước ta.

**Lời giải:**



Bài 3 trang 58 sách bài tập Địa Lý 8

Quan sát hình 24.1. Lược đồ khu vực biển Đông, tr 87 SGK; hình 24.5. Sơ đồ đường cơ sở dùng để tính chiều rộng lãnh hải ven bờ lục địa Việt Nam tr 92 SGK, em hãy hoàn thành bảng sau:

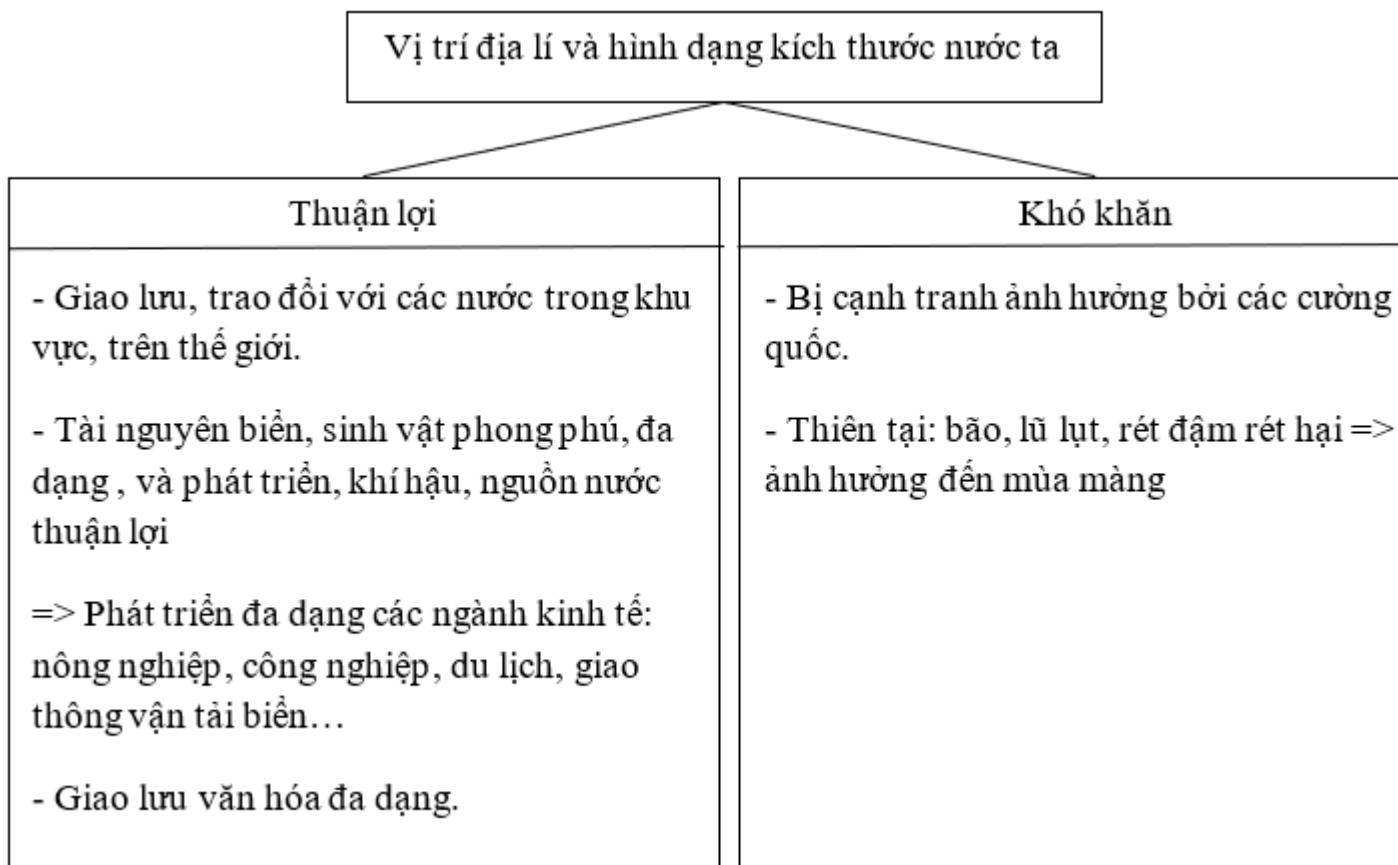
**Lời giải:**

Tên các vịnh biển và tên biển giáp với Việt Nam	Tên các đảo lớn của Việt Nam	Tên các quần đảo của Việt Nam
- Vịnh Thái Lan, vịnh Bắc Bộ.	Đảo Phú Quốc, Côn Đảo,	- QĐ .Hoàng Sa Bạch Long Vĩ
- Biển Đông		- QĐ.Trường Sa

Bài 4 trang 58 sách bài tập Địa Lý 8

Hoàn thành sơ đồ dưới đây để nêu rõ vị trí địa lí và hình dạng kích thước nước ta có thuận lợi và khó khăn gì trong việc phát triển kinh tế - xã hội.

Lời giải:



**CLICK NGAY** vào **TẢI VỀ** dưới đây để download giải bài tập Địa lý **Bài 23: Vị trí, giới hạn, hình dạng lãnh thổ Việt Nam** SBT lớp 8 hay nhất file word, pdf hoàn toàn miễn phí.