

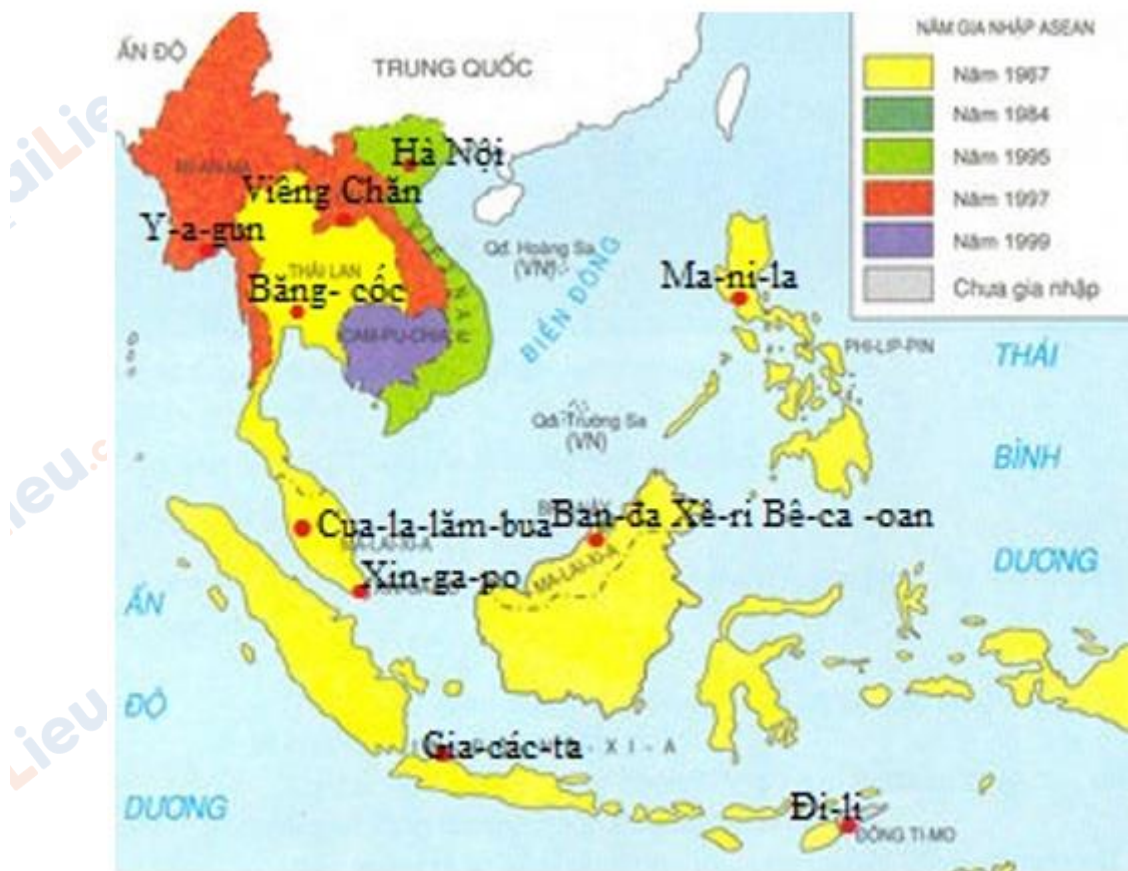
Mời các bạn cùng tham khảo hướng dẫn giải bài tập SBT Địa lý **Bài 17: Hiệp hội các nước Đông Nam Á (ASEAN)** lớp 8 được chúng tôi chọn lọc và giới thiệu ngay dưới đây nhằm giúp các em học sinh tiếp thu kiến thức và củng cố bài học của mình trong quá trình học tập môn Địa lý.

*Bài 1 trang 48 sách bài tập Địa Lý 8*

Dựa vào hình 8, em hãy:

- Ghi tên năm nước đầu tiên tham gia Hiệp hội các nước Đông Nam Á. Tô màu vào các nước này.
- Thể hiện trên lược đồ và ghi tên thủ đô của 11 nước Đông Nam Á.
- Kết hợp vốn hiểu biết, nêu mục tiêu hoạt động của ASEAN.

**Lời giải:**



Hình 8. Lược đồ các nước thành viên ASEAN

Mục tiêu chung là giữ vững hòa bình, an ninh, ổn định khu vực, xây dựng một cộng đồng hòa hợp, cùng nhau phát triển kinh tế-xã hội. Các nước hợp tác với nhau trên nguyên tắc tự nguyện, tôn trọng chủ quyền của mỗi quốc gia thành viên và ngày càng hợp tác toàn diện hơn, cùng khẳng định vị trí của mình trên trường quốc tế.

Bài 2 trang 49 sách bài tập Địa Lý 8

Hoàn thành sơ đồ sau:

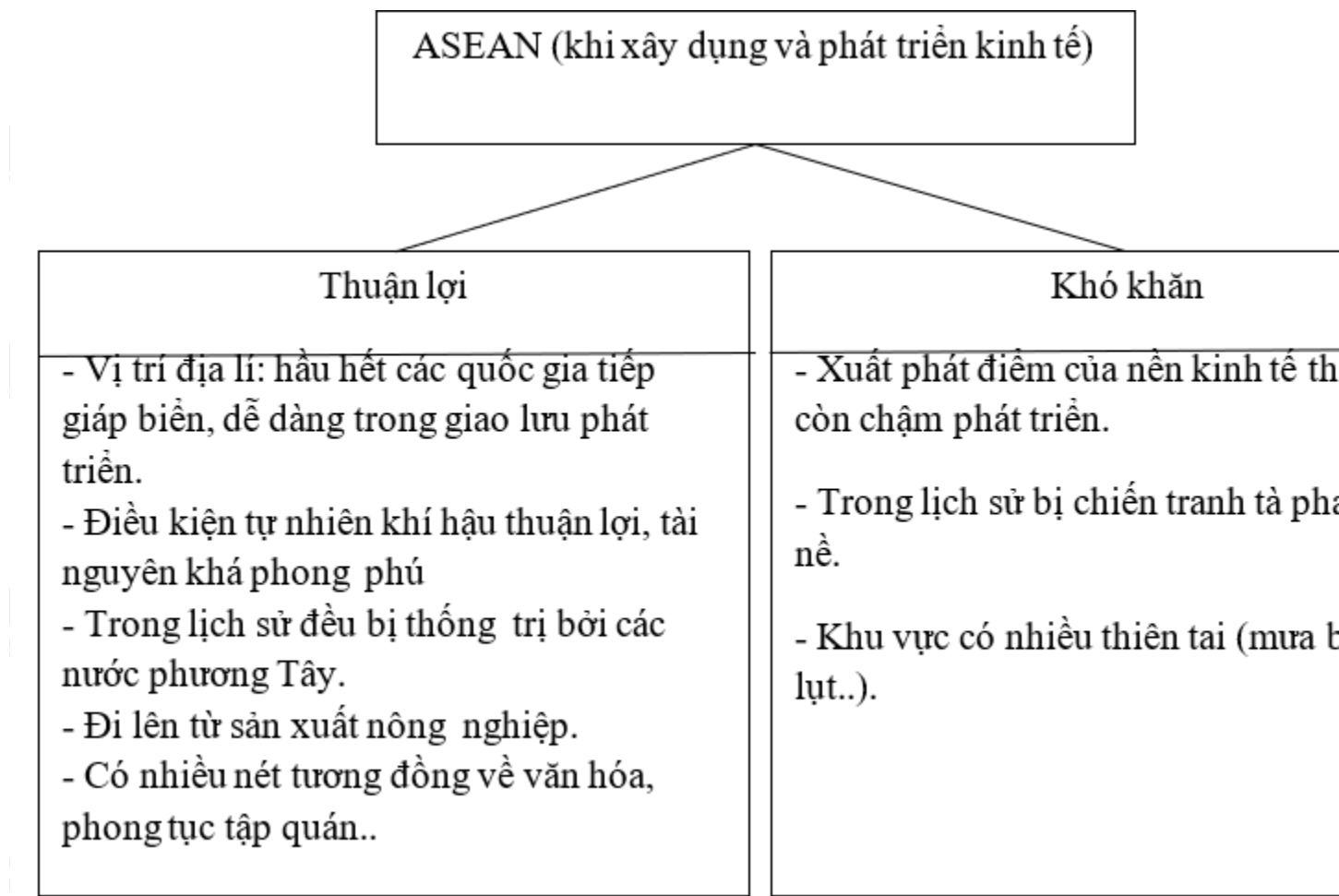
Lời giải:



Bài 3 trang 50 sách bài tập Địa Lý 8

Hoàn thành sơ đồ sau:

Lời giải:



Bài 4 trang 50 sách bài tập Địa Lý 8

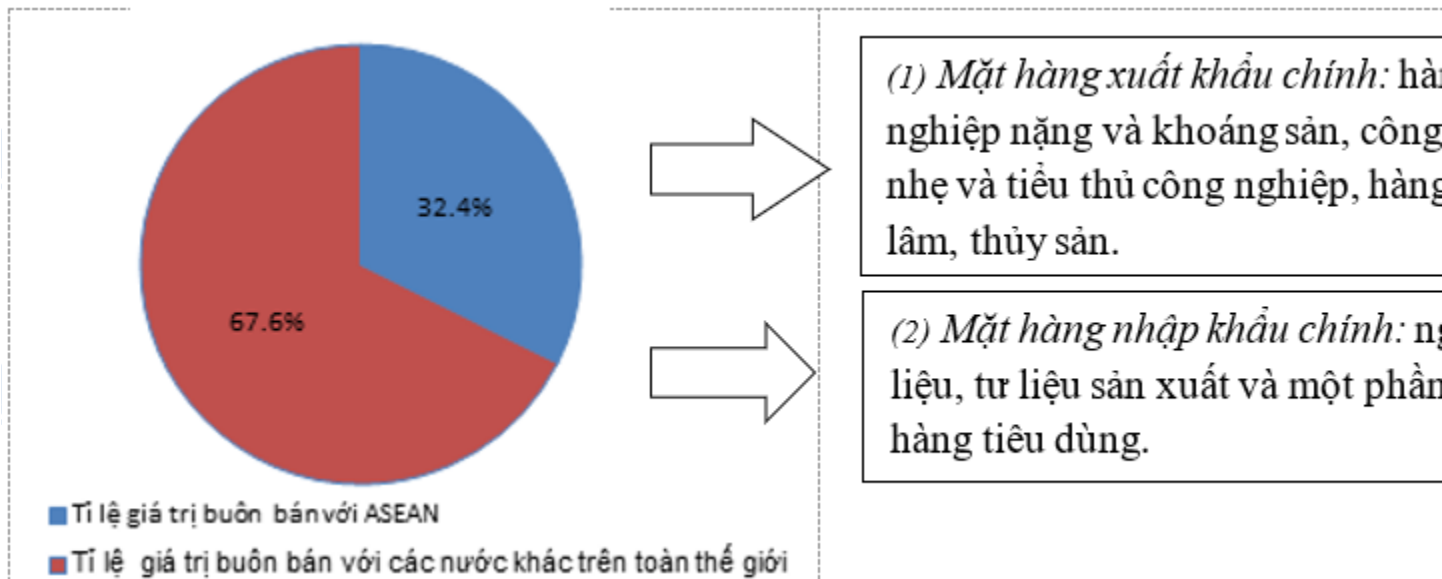
Dựa vào câu dưới đây:

“Hiện nay buôn bán với ASEAN chiếm 32,4% tổng bán quốc tế của nước ta”.

a) Em hãy vẽ biểu đồ tỉ lệ giá trị thương mại của nước ta với ASEAN và các nước khác trên thế giới theo gợi ý sau:

b) Kết hợp với vốn hiểu biết, hoàn thành nội dung ô (1) và (2) trên biểu đồ.

**Lời giải:**



**CLICK NGAY** vào **TẢI VỀ** dưới đây để download giải bài tập Địa lý **Bài 17: Hiệp hội các nước Đông Nam Á (ASEAN)** SBT lớp 8 hay nhất file word, pdf hoàn toàn miễn phí.