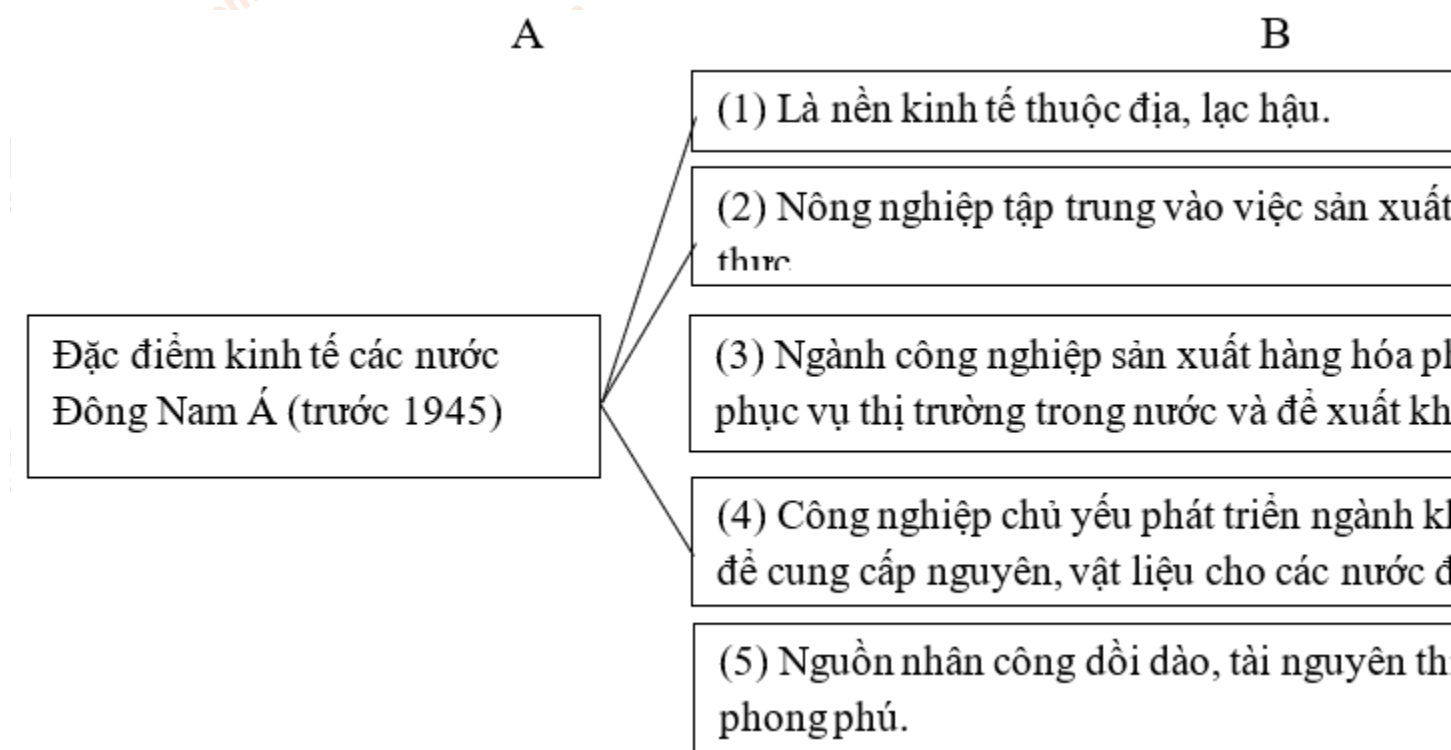


Mời các bạn cùng tham khảo hướng dẫn giải bài tập SBT Địa lý **Bài 16: Đặc điểm kinh tế các nước Đông Nam Á** lớp 8 được chúng tôi chọn lọc và giới thiệu ngay dưới đây nhằm giúp các em học sinh tiếp thu kiến thức và củng cố bài học của mình trong quá trình học tập môn Địa lý.

Bài 1 trang 45 sách bài tập Địa Lý 8

Nối ô chữ ở bên trái (A) với những ô chữ thích hợp ở bên phải (B) để nêu rõ đặc điểm kinh tế của các nước Đông Nam Á trước năm 1945.

Lời giải:



Bài 2 trang 45 sách bài tập Địa Lý 8

Quan sát bảng 16.1, tr 54 SGK, nêu nhận xét về tình hình tăng trưởng kinh tế của một số nước Đông Nam Á theo gợi ý cụ thể dưới đây:

Lời giải:

a) Giai đoạn 1990 – 1996.

- Những nước có mức tăng trưởng kinh tế tương đối đều là: Ma-lai-xi-a, Phi-lip-pin, Việt Nam.

- Những nước có mức tăng trưởng kinh tế không đều là: In-đô-nê-xi-a, Thái Lan, Xin-ga-po.

b) Giai đoạn 1998 – 2000 (năm 1997 khủng hoảng tài chính tại Thái Lan)

- Năm 1998:

Những nước có mức tăng trưởng giảm là In-đô-nê-xi-a, Ma-lai-xi-a, Phi-lip-pin, Thái Lan.

- Năm 2000:

+ Những nước có mức tăng trưởng cao (trên 6%) là: Ma-lai-xi-a, Xin-ga-po.

+ Những nước có mức tăng trưởng chậm (dưới 6%) là: In-đô-nê-xi-a, Ma-lai-xi-a, Phi-lip-pin, Thái Lan, Việt Nam.

c) Nhận xét chung về nền kinh tế các nước Đông Nam Á (từ sau Chiến tranh thế giới thứ hai).

- Sau chiến tranh thế giới thứ hai, nhìn chung mức tăng trưởng kinh tế của các nước Đông Nam Á khá nhanh, tuy nhiên chưa vững chắc. Giai đoạn 1997 -1998, cuộc khủng hoảng kinh tế bắt đầu từ Thái Lan đã kéo theo sự suy giảm kinh tế của nhiều nước.

- Hiện nay, các quốc gia Đông Nam Á đang tiến hành công nghiệp hóa hiện đại hóa đất nước, tập trung phát triển công nghiệp sản xuất hàng hóa, đẩy mạnh xuất khẩu.

Bài 3 trang 46 sách bài tập Địa Lý 8

Cho bảng số liệu dưới đây:

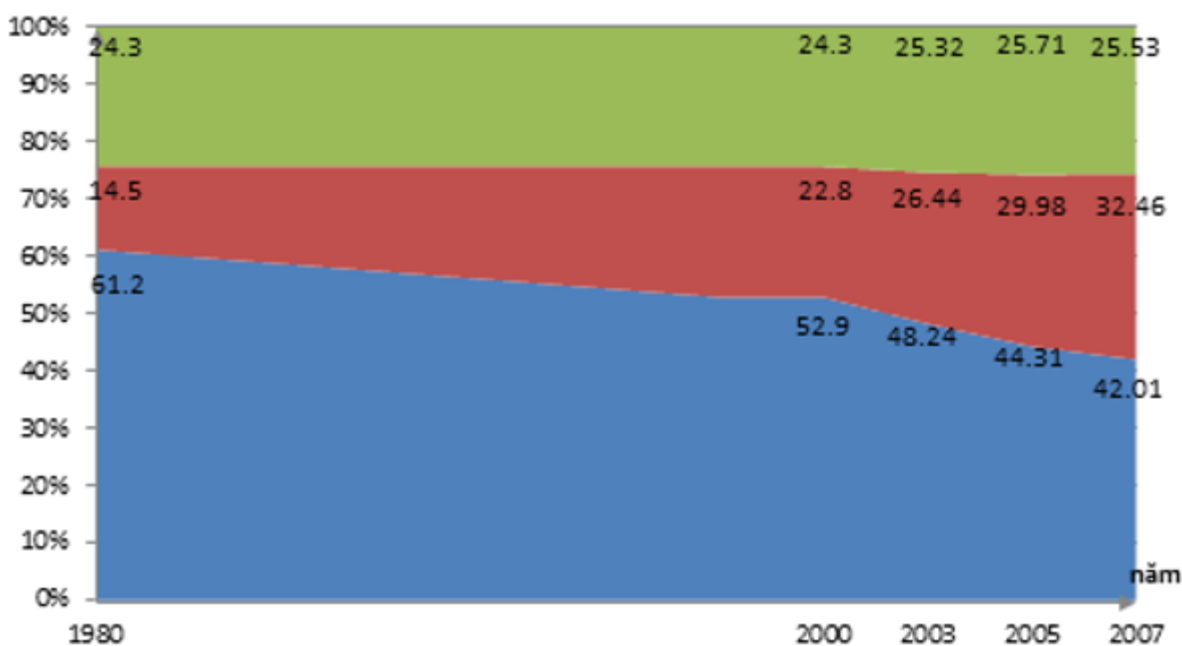
Tỉ trọng các ngành trong GDP của một số nước Đông Nam Á (%)

Quốc gia	1990	2000	2003	2005	2007
Nông nghiệp	61,2	52,9	48,24	44,31	42,01
LÀO Công nghiệp	14,5	22,8	26,24	29,98	32,46
Dịch vụ	24,3	24,3	25,32	25,71	25,53

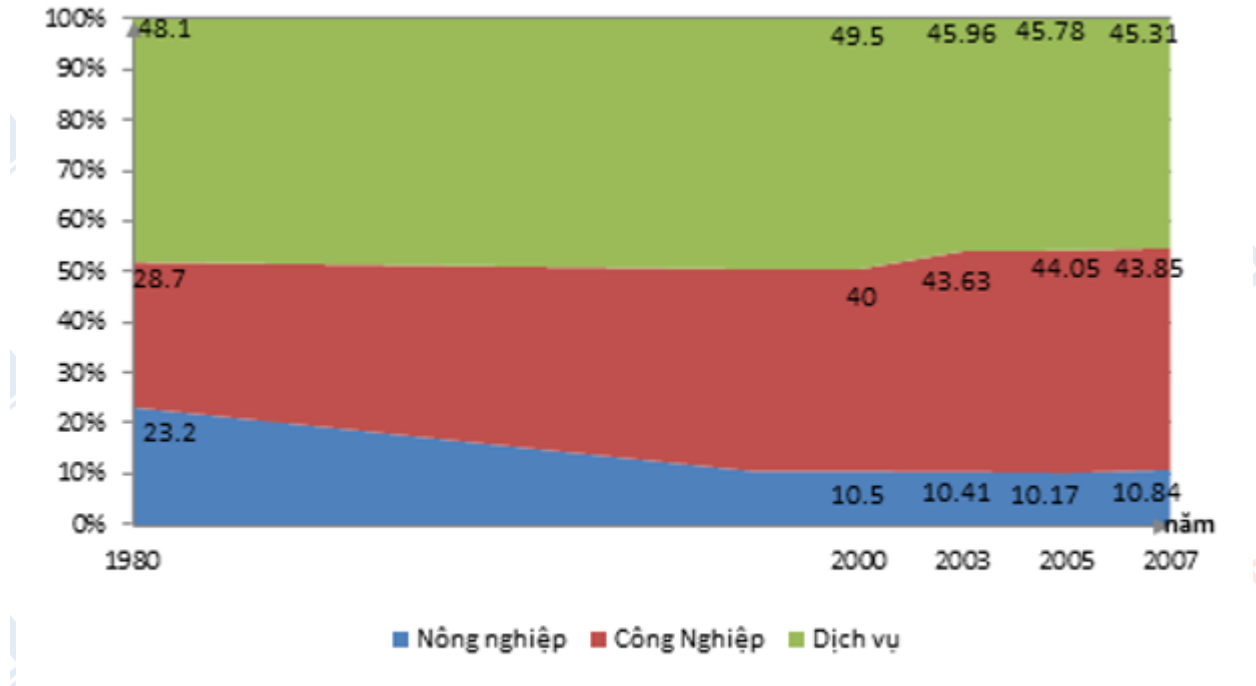
Nông nghiệp	23,2	10,5	10,41	10,17	10,84
THÁI LAN Công nghiệp	28,7	40,0	43,63	44,05	43,85
Dịch vụ	48,1	49,5	45,96	45,78	45,31

Lời giải:

a) Vẽ biểu đồ cơ cấu GDP phân theo ngành của Lào và Thái Lan từ năm 1980 đến năm 2007 theo yêu cầu cụ thể sau:



Biểu đồ cơ cấu GDP phân theo ngành của Lào



Biểu đồ cơ cấu GDP phân theo ngành của Thái Lan

b) Qua biểu đồ, nhận xét sự thay đổi tỉ trọng các ngành trong GDP của Lào và Thái Lan từ năm 1980 đến năm 2007.

- Giai đoạn 1980 -2007, tỉ trọng cơ cấu các ngành kinh tế của Lào và Thái Lan có sự thay đổi theo hướng: giảm tỉ trọng ngành nông nghiệp, tăng tỉ trọng ngành công nghiệp và dịch vụ, đặc biệt công nghiệp có xu hướng tăng nhanh nhất.

⇒ Sự thay đổi này phù hợp với quá trình công nghiệp hóa ở các quốc gia này, trong đó đẩy mạnh phát triển công nghiệp sản xuất hàng hóa phục vụ thị trường trong nước và xuất khẩu.

Bài 4 trang 48 sách bài tập Địa Lý 8

Quan sát hình 16.1. Lược đồ phân bố nông nghiệp – công nghiệp của Đông Nam Á, tr 56 SGK và dựa vào vốn hiểu biết, nêu sự phân bố của cây công nghiệp và sự phân bố của các ngành công nghiệp: luyện kim, chế tạo máy, hợp chất, thực phẩm.

Lời giải:

- Cây công nghiệp: phân bố ở hầu hết các quốc gia, trên khu vực địa hình đồi núi thấp, các cao nguyên badan rộng lớn, đất đai màu mỡ, nguồn nước dồi dào...

- Các ngành công nghiệp:

+ Luyện kim: ở Việt Nam, Mi-an-ma, Phi-lip-pin, Thái Lan, In-đô-nê-xi-a, thường ở các trung tâm công nghiệp gần biển, thuận tiện cho vận chuyển trao đổi hàng hóa.

+ Chế tạo máy: ở hầu hết các quốc gia và chủ yếu ở các trung tâm công nghiệp gần biển, thuận lợi cho vận chuyển nguyên vật liệu và xuất khẩu hàng hóa.

+ Công nghiệp hóa chất: ở In-đô-nê-xi-a, Ma-lai-xi-a, Bru-nây, Thái Lan, Việt Nam.

+ Công nghiệp thực phẩm: ở hầu hết các quốc gia, nhờ có nguồn nguyên liệu tại chỗ trong nông nghiệp phong phú, đa dạng.

CLICK NGAY vào **TẢI VỀ** dưới đây để download giải bài tập Địa lý **Bài 16: Đặc điểm kinh tế các nước Đông Nam Á** SBT lớp 8 hay nhất file word, pdf hoàn toàn miễn phí