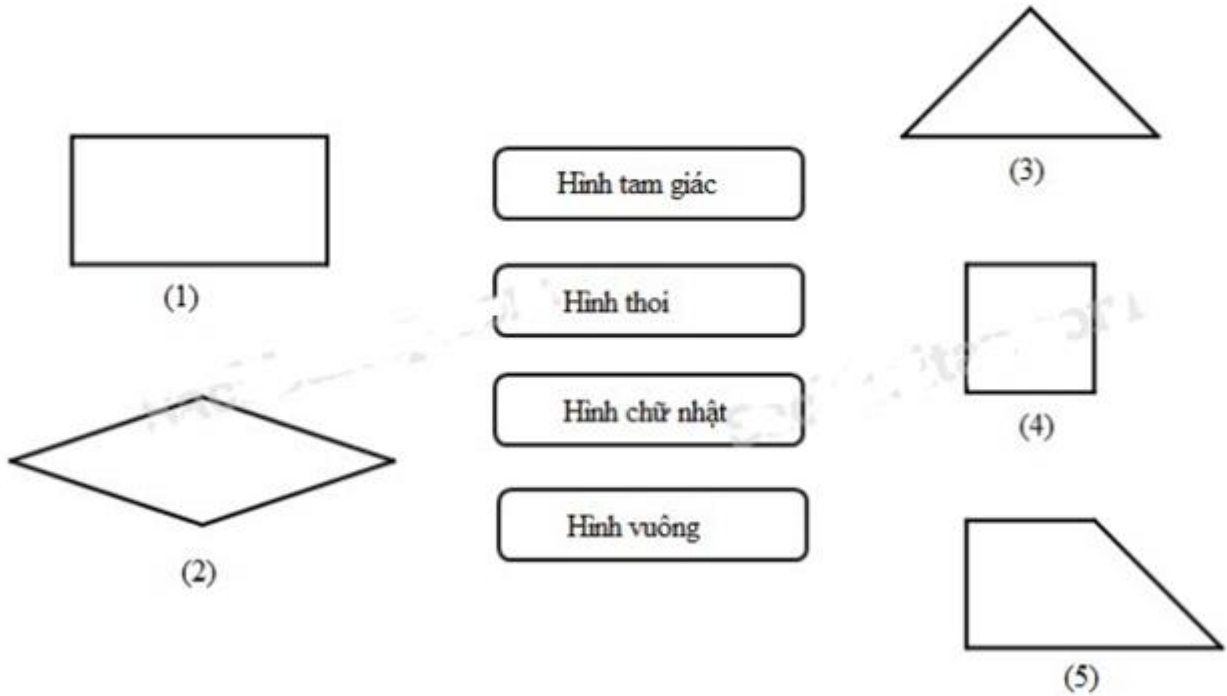
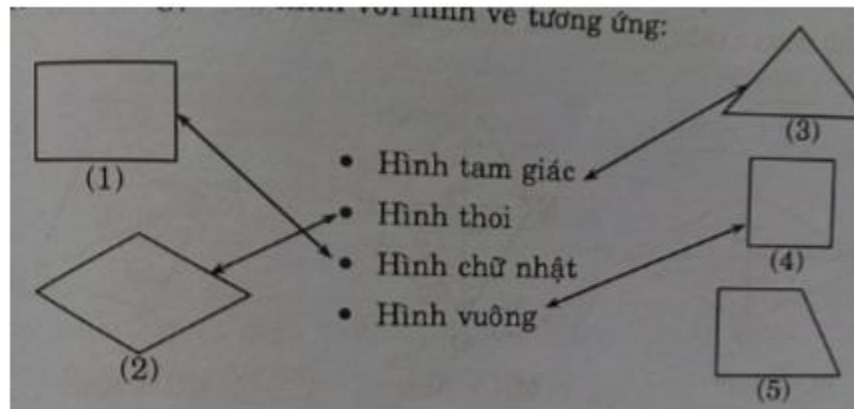


**Giải bài 1 trang 56 VBT Toán lớp 4 Tập 2**

Nối mỗi tên gọi của hình với hình vẽ tương ứng:



**Lời giải:**



**Giải bài 2 trang 56 VBT Toán lớp 4 Tập 2**

Hãy vẽ hai đường chéo của hình thoi số (2) ở bài (1).

Dùng e ke để kiểm tra xem hai đường chéo đó có vuông góc với nhau hay không, rồi viết tiếp vào chỗ chấm:

Hai đường chéo của hình thoi ..... với nhau

**Lời giải:**


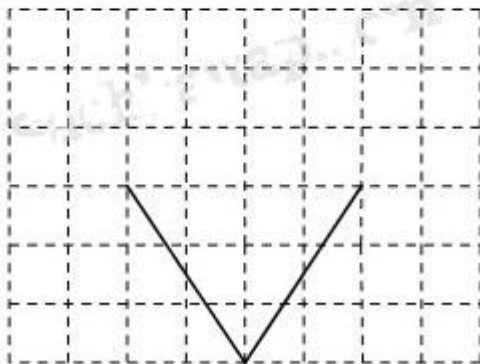
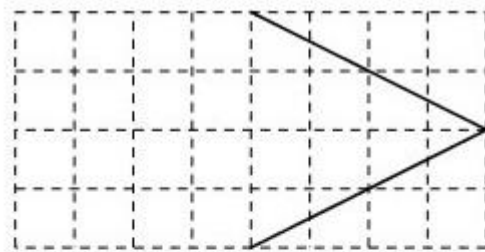
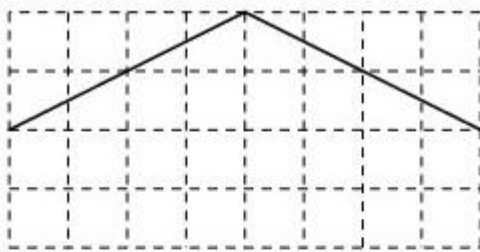
Dùng e ke để kiểm tra xem hai đường chéo đó có vuông góc với nhau hay không, rồi viết tiếp vào chỗ chấm:

Hai đường chéo của hình thoi vuông góc với nhau

**Giải bài 3 trang 56 VBT Toán lớp 4 Tập 2**

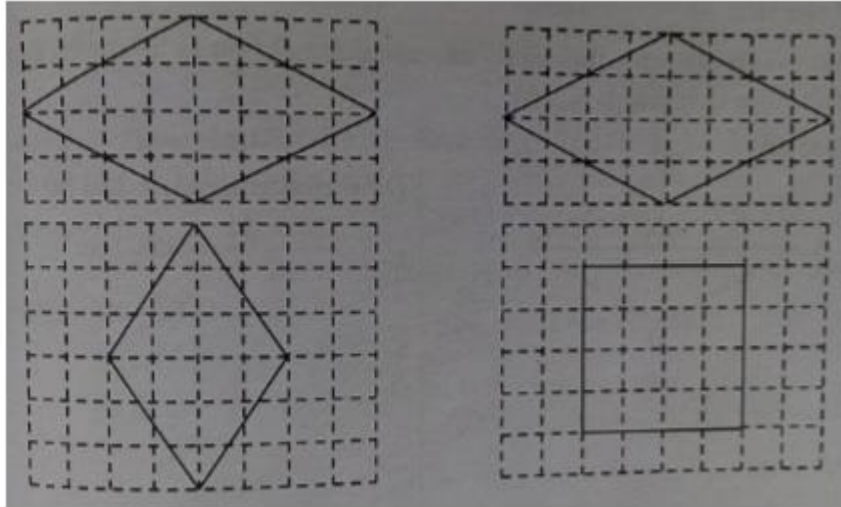
Vẽ thêm hai đường thẳng để được một hình thoi hoặc một hình vuông:

Vẽ thêm hai đoạn thẳng



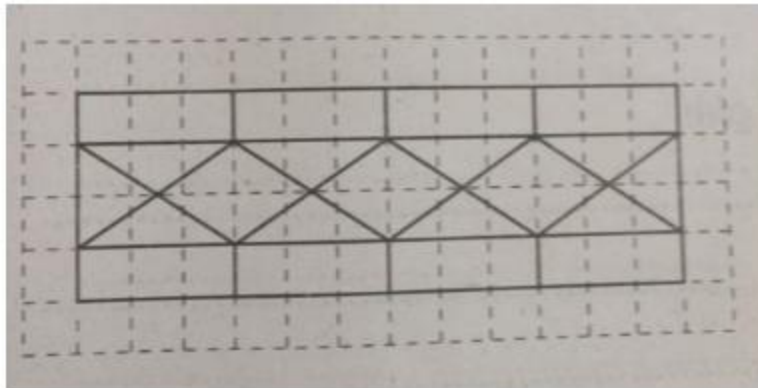
**Lời giải:**

Vẽ thêm hai đoạn thẳng



Giải bài 4 trang 57 VBT Toán lớp 4 Tập 2

Vẽ theo mẫu



**Lời giải:**

(Học sinh tự vẽ)