

Mời các bạn cùng tham khảo hướng dẫn giải bài tập SBT Địa lý **Bài 12: Đặc điểm tự nhiên khu vực Đông Á** lớp 8 được chúng tôi chọn lọc và giới thiệu ngay dưới đây nhằm giúp các em học sinh tiếp thu kiến thức và củng cố bài học của mình trong quá trình học tập môn Địa lý.

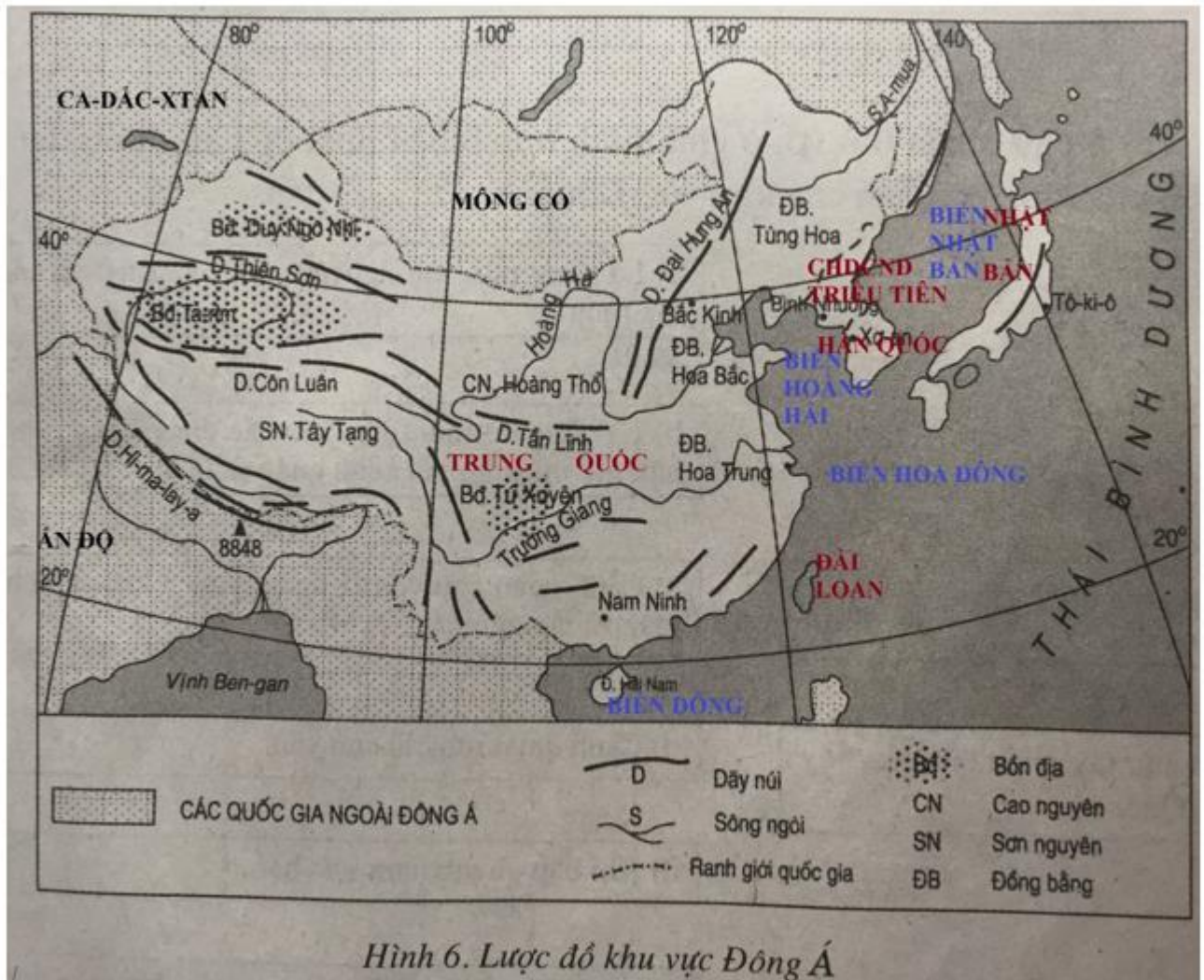
Bài 1 trang 33 sách bài tập Địa Lý 8

Cho hình dưới đây:

Em hãy:

- Ghi tên các quốc gia và vùng lãnh thổ thuộc khu vực Đông Á lên lược đồ.
- Ghi tên các nước, các biển, đại dương tiếp giáp với Đông Á.

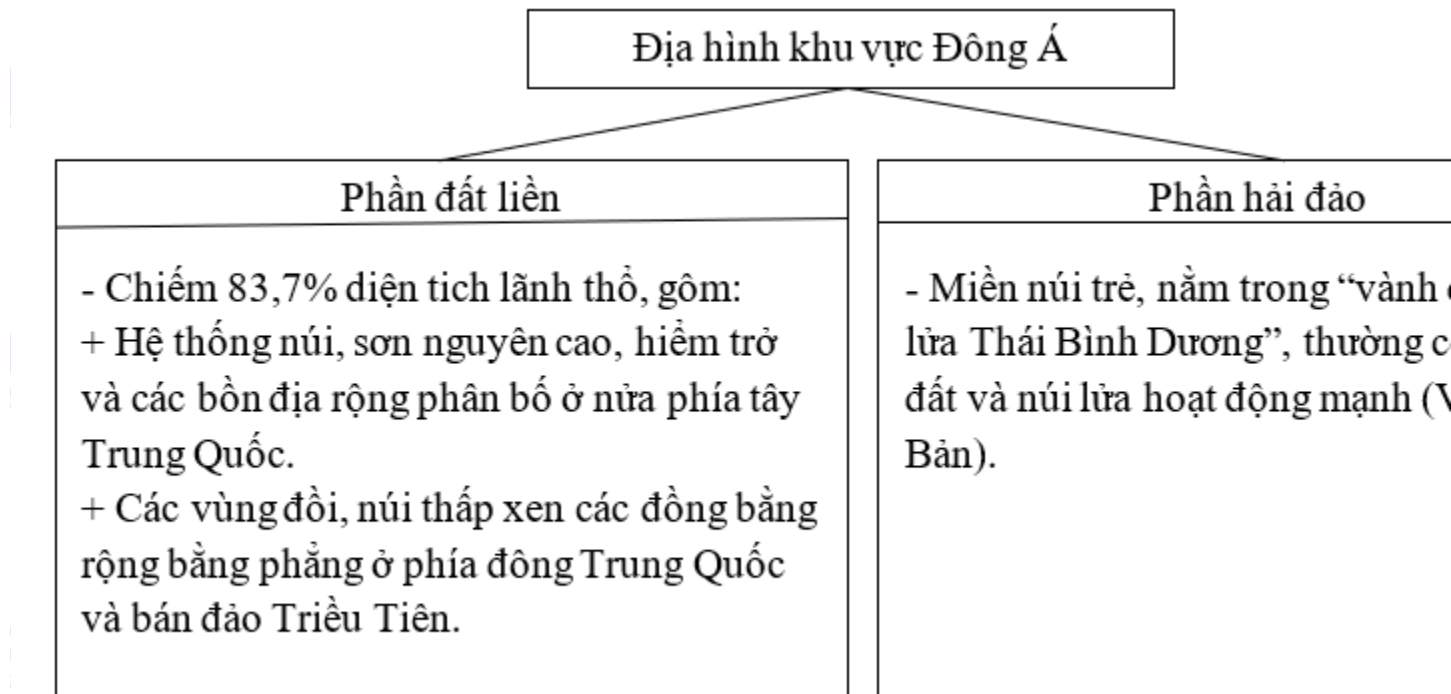
Lời giải:



Bài 2 trang 33 sách bài tập Địa Lý 8

Dựa vào hình 12.1. Lược đồ tự nhiên khu vực Đông Á.tr 41SGK và dựa vào SGK, hoàn thành sơ đồ sau:

Lời giải:



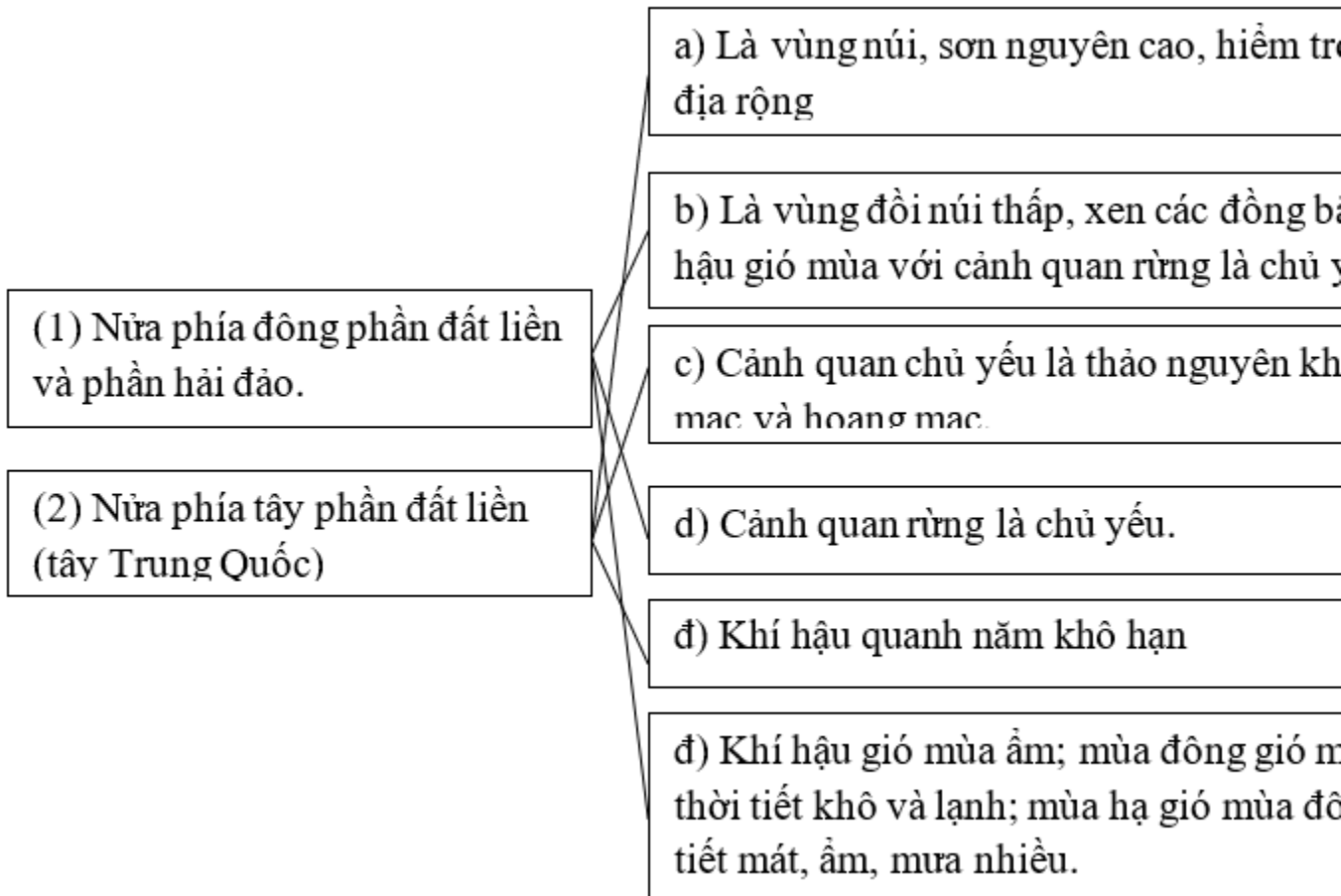
Bài 3 trang 34 sách bài tập Địa Lý 8

Nối ô chữ ở bên trái với ô chữ thích hợp ở bên phải để nêu đúng đặc điểm tự nhiên của từng bộ phận của khu vực Đông Á.

Lời giải:

Nối ô (1) với ô: b,d,e

Nối ô (2) với ô: a, c,đ



Bài 4 trang 34 sách bài tập Địa Lý 8

Dựa vào hình 12.1. tr 41 SGK và vốn hiểu biết, em hãy nêu tên các sông lớn ở phần đất liền của Đông Á, đặc điểm của các sông này.

Lời giải:

- Sông A-mua: ở rìa phía Bắc khu vực, đoạn trung lưu là ranh giới tự nhiên giữa Trung Quốc và Liên Bang Nga.
- Sông Hoàng Hà và sông Trường Giang: bắt nguồn trên sơn nguyên Tây Tạng, chảy về hướng đông rồi đổ ra Hoàng Hải và biển Đông Trung Hoa.
 - + Hạ lưu: sông bồi đắp thành những đồng bằng rộng, màu mỡ
 - + Nguồn cung cấp nước do băng tuyết tan và mưa mùa hạ.
 - + Chế độ nước: mùa lũ vào cuối hạ, đầu thu và mùa cạn vào đông xuân (sông Hoàng Hà có chế độ nước thất thường).

CLICK NGAY vào **TẢI VỀ** dưới đây để download giải bài tập Địa lý **Bài 12: Đặc điểm tự nhiên khu vực Đông Á** SBT lớp 8 hay nhất file word, pdf hoàn toàn miễn phí.