

Mời các bạn cùng tham khảo hướng dẫn giải bài tập SBT Địa lý **Bài 10: Điều kiện tự nhiên khu vực Nam Á** lớp 8 được chúng tôi chọn lọc và giới thiệu ngay dưới đây nhằm giúp các em học sinh tiếp thu kiến thức và củng cố bài học của mình trong quá trình học tập môn Địa lý.

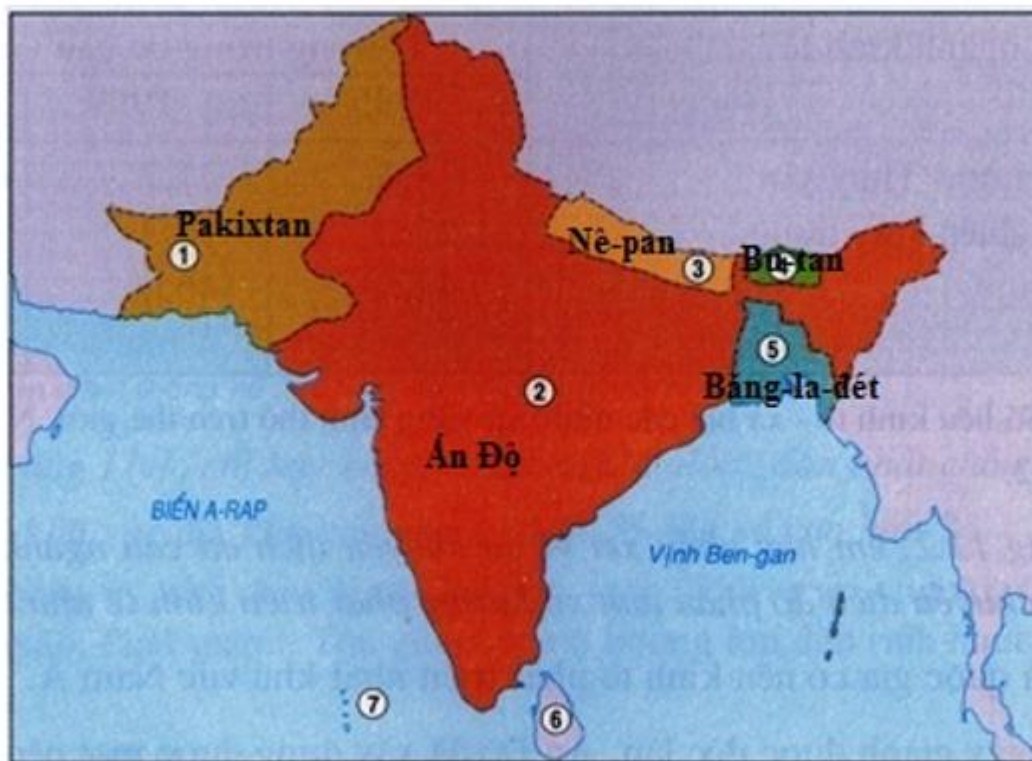
Bài 1 trang 27 sách bài tập Địa Lý 8

Dựa vào hình 5:

Em hãy:

- Dùng kí hiệu (hay màu sắc) để phân biệt và ghi tên các nước ở khu vực Nam Á
- Ghi tên các biển, vịnh biển, các nước, các khu vực tiếp giáp với khu vực Nam Á.

Lời giải:

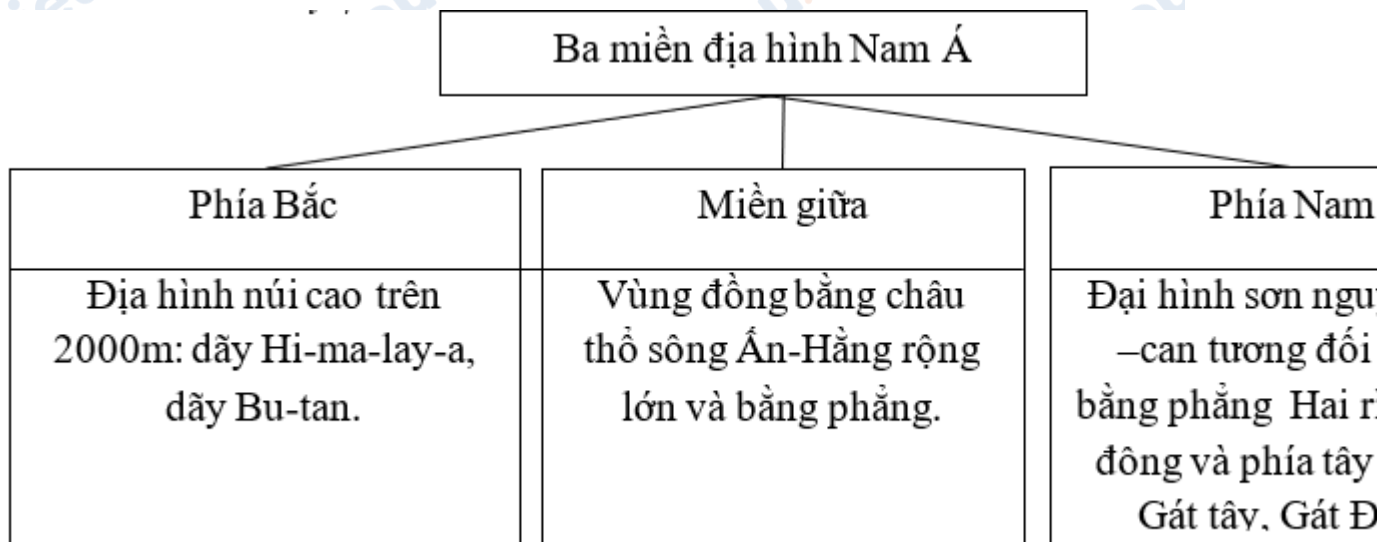


Hình 11.5. Lược đồ các nước Nam Á

Bài 2 trang 28 sách bài tập Địa Lý 8

Quan sát hình 10.1. Lược đồ tự nhiên khu vực Nam Á, tr 33 sgk, em hãy hoàn thành sơ đồ dưới đây:

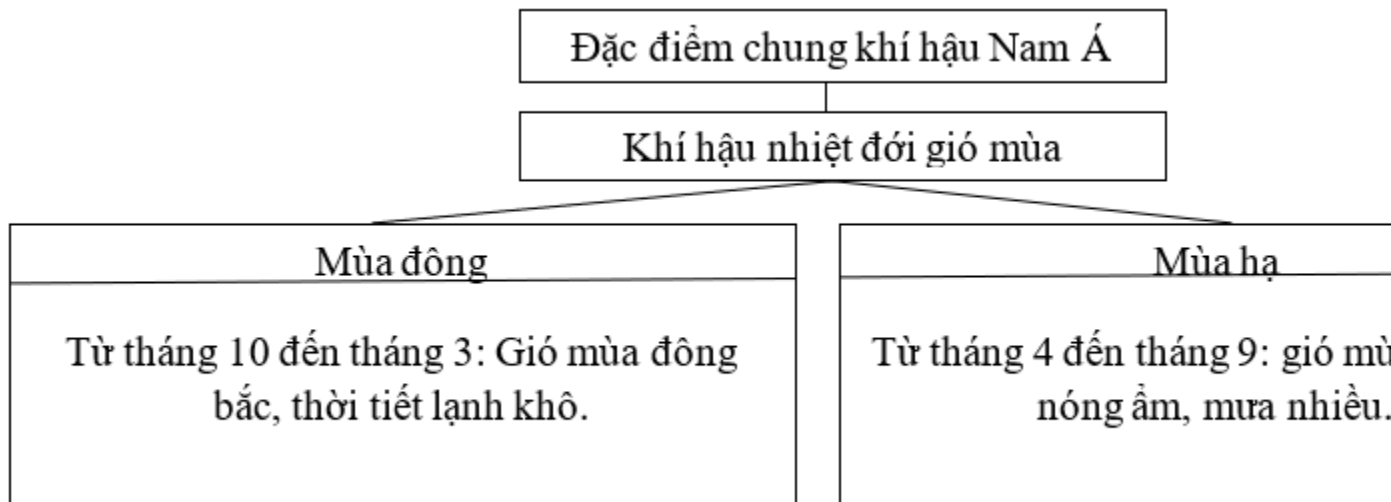
Lời giải:



Bài 3 trang 28 sách bài tập Địa Lý 8

Hoàn thành sơ đồ sau:

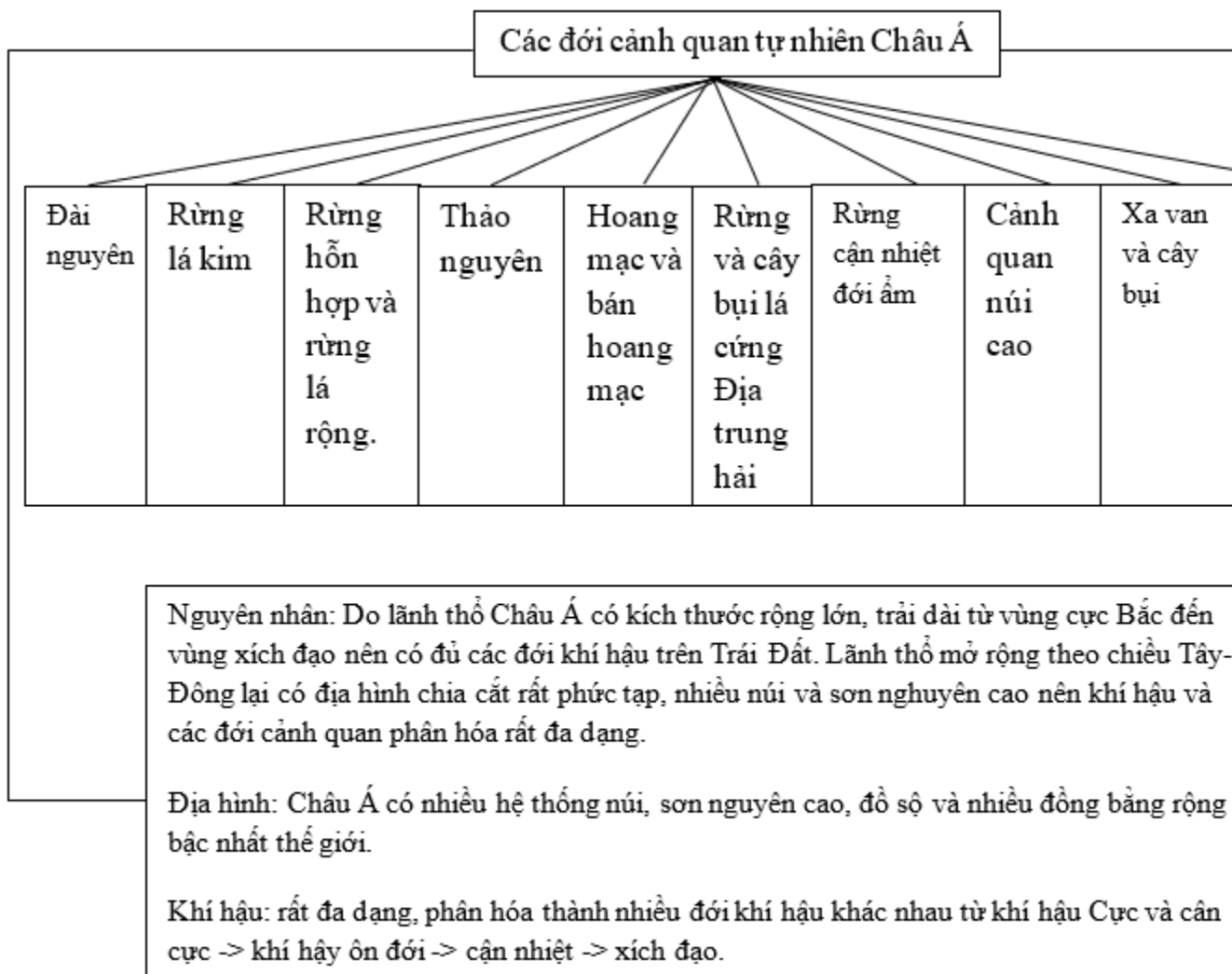
Lời giải:



Bài 4 trang 28 sách bài tập Địa Lý 8

Dựa vào hình 3.1. Lược đồ các đới cảnh quan tự nhiên châu Á, tr 11 SGK và vốn hiểu biết, hoàn thành sơ đồ theo yêu cầu dưới đây.

Lời giải:



**CLICK NGAY** vào **TẢI VỀ** dưới đây để download giải bài tập Địa lý **Bài 10: Điều kiện tự nhiên khu vực Nam Á** SBT lớp 8 hay nhất file word, pdf hoàn toàn miễn phí.