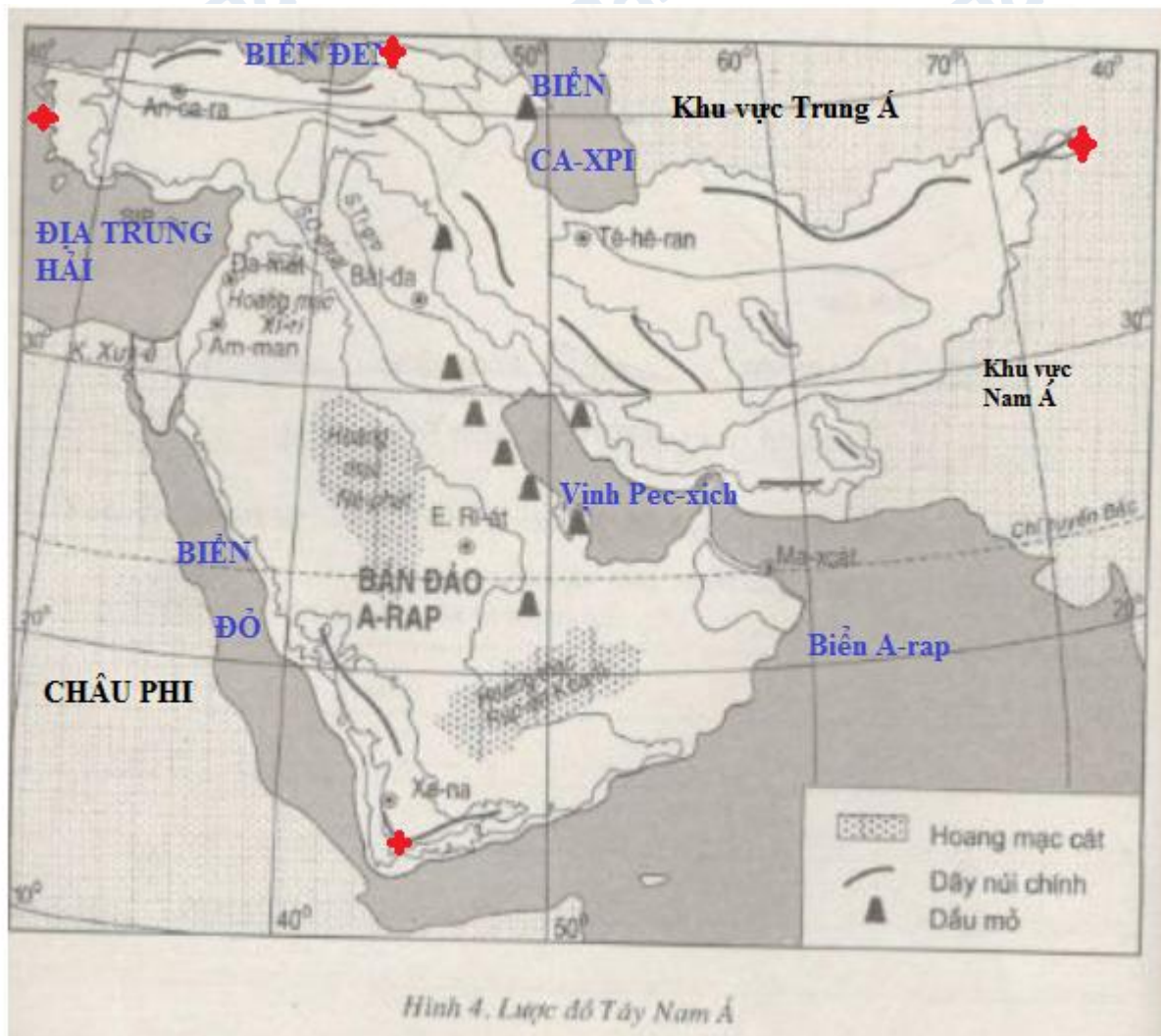


Mời các bạn cùng tham khảo hướng dẫn giải bài tập SBT Địa lý **Bài 9: Khu vực Tây Nam Á** lớp 8 được chúng tôi chọn lọc và giới thiệu ngay dưới đây nhằm giúp các em học sinh tiếp thu kiến thức và củng cố bài học của mình trong quá trình học tập môn Địa lý.

Bài 1 trang 24 sách bài tập Địa Lý 8

Dựa vào hình 4 dưới đây:



Hình 4. Lược đồ Tây Nam Á

Hình 4. Lược đồ Tây Nam Á

Em hãy:

a) Ghi tên các vịnh, biển, các khu vực, các châu lục tiếp giáp với Tây Nam Á.

b) Nêu giới hạn vị trí lãnh thổ của Tây Nam Á (Ghi dấu cộng “+” vào các điểm cực: Bắc, Nam, Đông, Tây; chúng nằm khoảng các vĩ tuyến và kinh tuyến nào? thuộc các quốc gia nào?).

**Lời giải:**

- Giới hạn vị trí lãnh thổ Tây Nam Á:

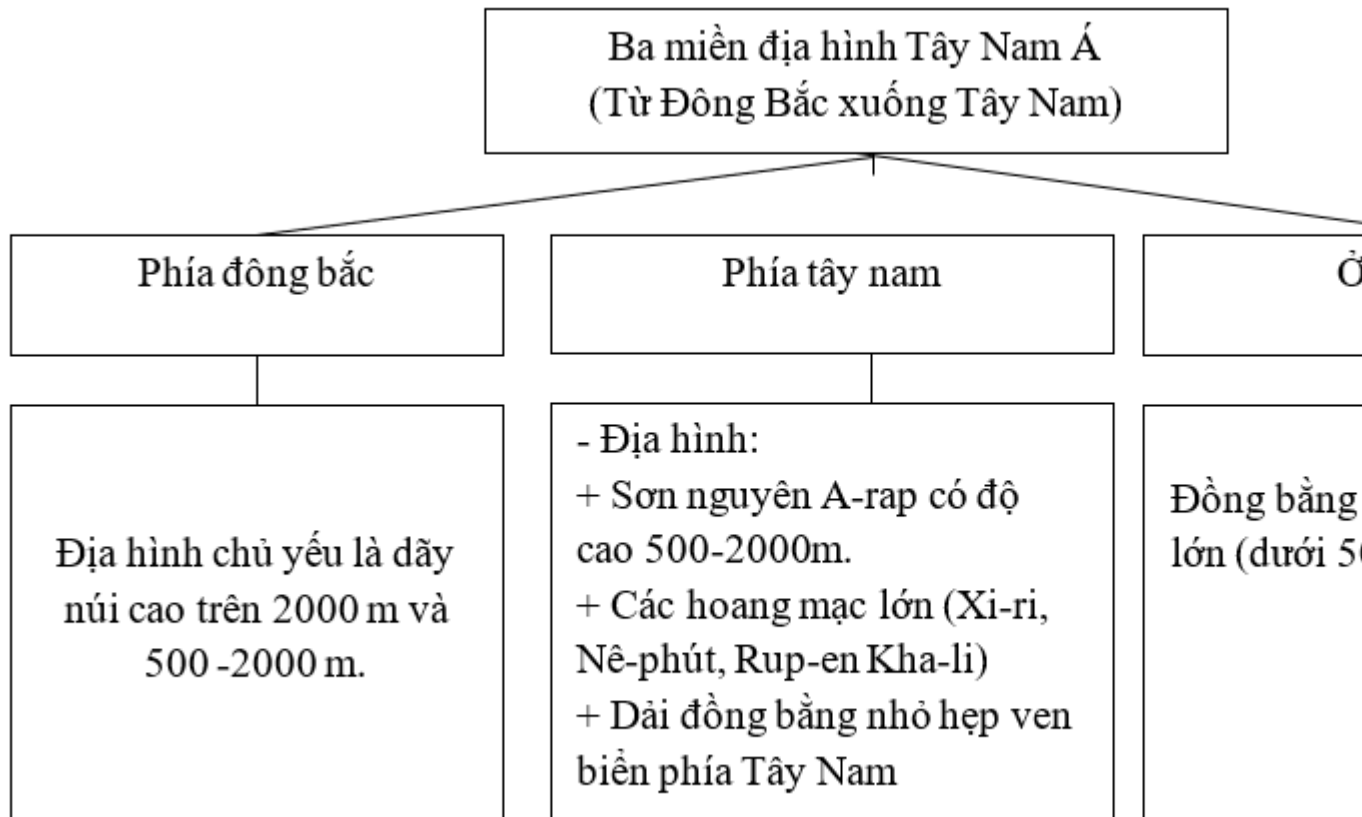
+ Nằm giữa khoảng các vĩ tuyến 12oB đến 42oB (quốc gia: Gru-di-a và Y-ê-men)

+ Nằm giữa các kinh tuyến 26oĐ đến 73oĐ (quốc gia: Thổ Nhĩ Kỳ và )Áp-ga-ni-xtan).

*Bài 2 trang 25 sách bài tập Địa Lý 8*

Quan sát hình 9.1. Lược đồ tự nhiên Tây Nam Á, tr 29 SGK, em hãy hoàn thành sơ đồ dưới đây:

**Lời giải:**



**Bài 3 trang 25 sách bài tập Địa Lý 8**

Hãy cho biết ý kiến của em về nhận xét dưới đây:

**Lời giải:**

- Khu vực Tây Nam Á tuy nằm ngay sát biển nhưng gần như toàn bộ khu vực lại có khí hậu nóng và khô hạn vì ở đây ít mưa.

a) Đúng ( . . . )

b) Sai ( X )

- Nếu sai em hãy nêu câu trả lời đúng.

Nguyên nhân gây nên khí hậu khô hạn và nóng ở Tây Nam Á là do quanh năm chịu ảnh hưởng của khối khí nhiệt đới khô.

**Bài 4 trang 25 sách bài tập Địa Lý 8**

Cho các ô chữ dưới đây:

286 triệu người

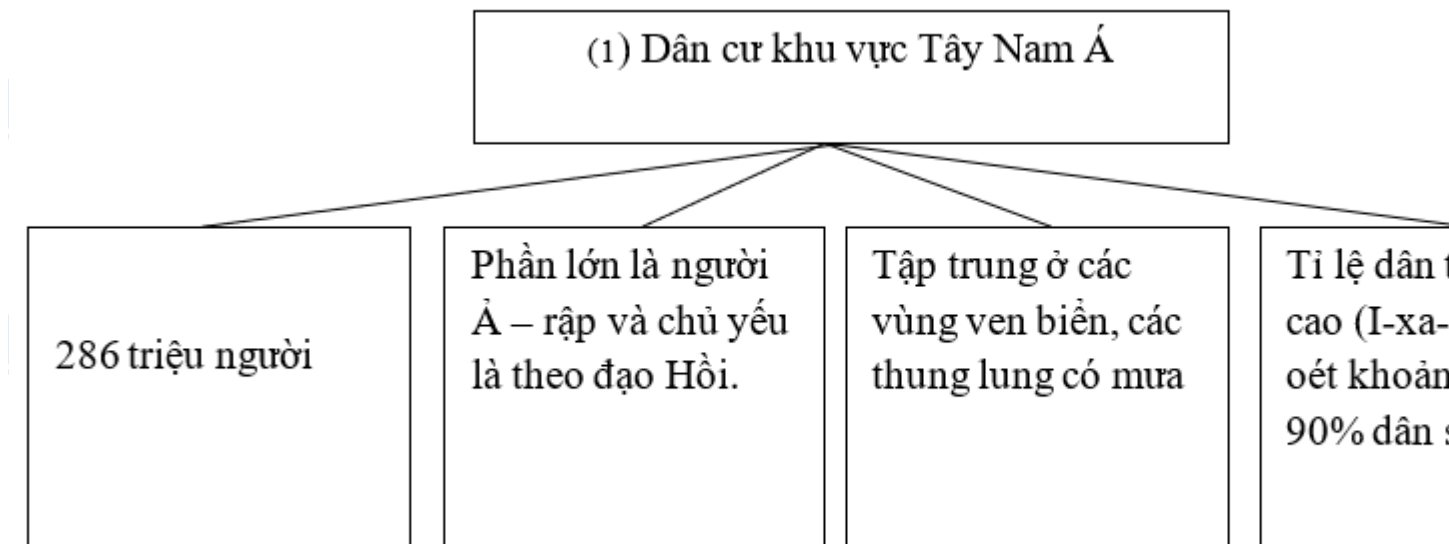
Phần lớn là người Ả – rập và chủ yếu theo đạo Hồi,

Tập trung ở các vùng ven biển, các thung lũng có mưa

Tỉ lệ dân thành thị cao (I-xa-ren) khoảng 80 -90% dân số)

Em hãy hoàn thành sơ đồ sau, đặt tên cho sơ đồ này và ghi vào ô số (1)

**Lời giải:**



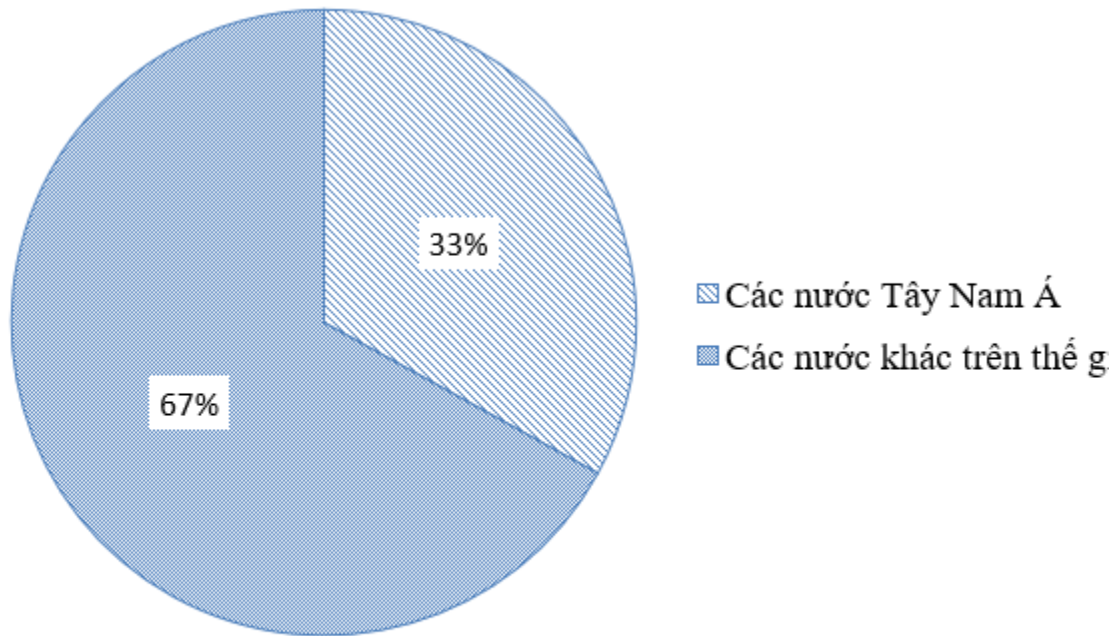
Bài 5 trang 26 sách bài tập Địa Lý 8

Dựa vào nhận định dưới đây:

“Hằng năm, các nước Tây Nam Á khai thác hơn một tỉ tấn dầu thô, chiếm khoảng 1/3 sản lượng dầu trên thế giới”.

Em hãy vẽ biểu đồ so sánh sản lượng khai thác dầu của Tây Nam Á với toàn thế giới.

**Lời giải:**



Biểu đồ thể hiện sản lượng khai thác dầu mỏ của Tây Nam Á với toàn thế giới

Bài 6 trang 26 sách bài tập Địa Lý 8

Hãy nêu tên ngành công nghiệp phát triển nhất ở Tây Nam Á. Vì sao ngành đó lại phát triển nhất?

**Lời giải:**

- Công nghiệp khai khoáng phát triển nhất ở các quốc gia Tây Nam Á, nhờ lợi thế về nguồn tài nguyên dầu mỏ giàu có bậc nhất thế giới.

**CLICK NGAY** vào **TẢI VỀ** dưới đây để download giải bài tập Địa lý **Bài 9: Khu vực Tây Nam Á** SBT lớp 8 hay nhất file word, pdf hoàn toàn miễn phí.