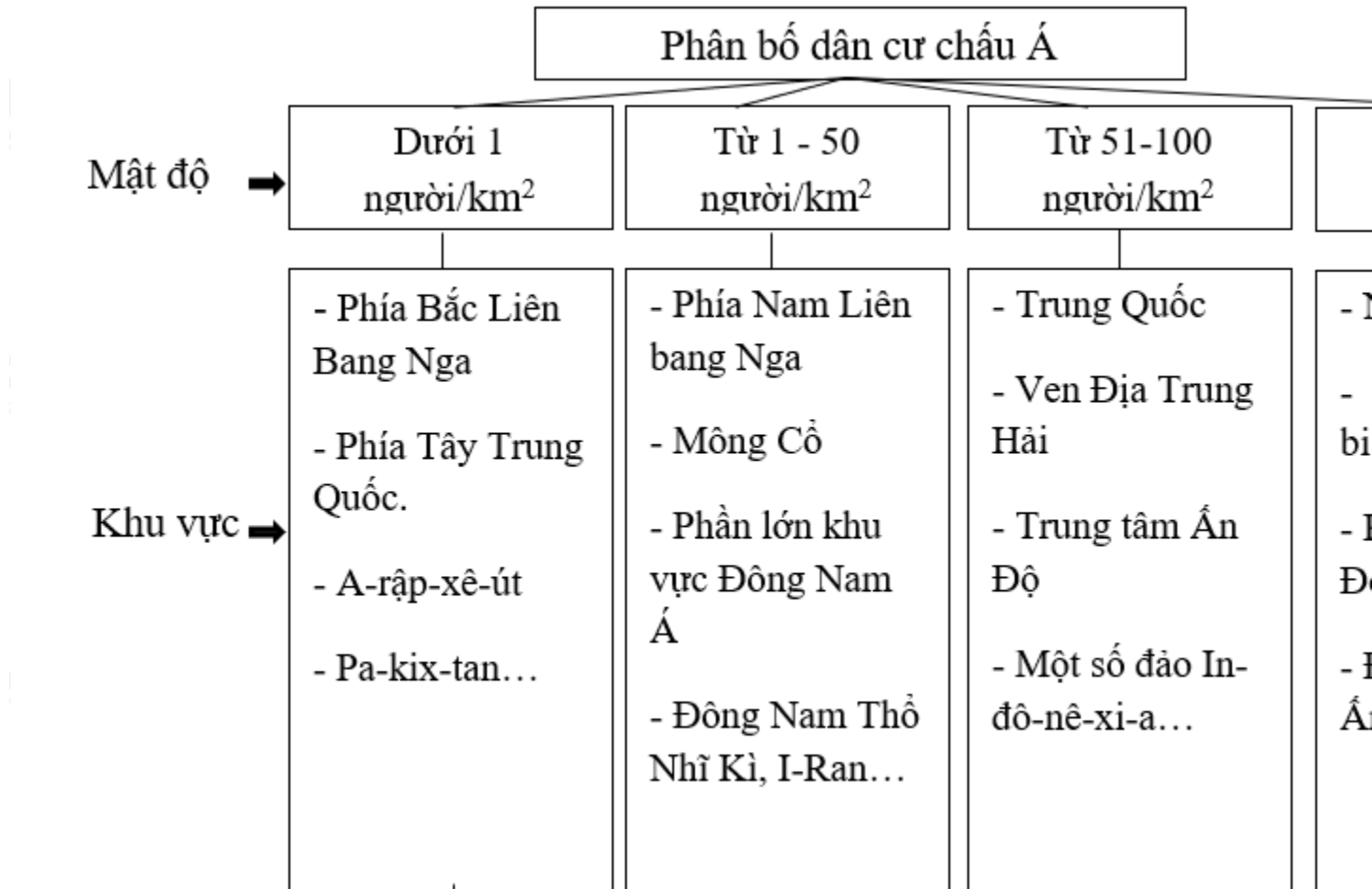


Mời các bạn cùng tham khảo hướng dẫn giải bài tập SBT Địa lý **Bài 6: Thực hành: Đọc, phân tích lược đồ phân bố dân cư và các thành phố lớn của châu Á** lớp 8 được chúng tôi chọn lọc và giới thiệu ngay dưới đây nhằm giúp các em học sinh tiếp thu kiến thức và củng cố bài học của mình trong quá trình học tập môn Địa lý.

Bài 1 trang 16 sách bài tập Địa Lý 8

Quan sát hình 6.1. Lược đồ mật độ dân số và những thành phố lớn của châu Á, tr 20 SG, em hãy:

Lời giải:



Đặc trưng  
tự nhiên  
của khu  
vực →

- Địa hình:  
hoang mạc, núi  
cao, băng tuyết

- Khí hậu: khắc  
nghiệt...

- Sông ngòi: ít,  
đóng băng về mùa  
đông...

- Địa hình: chủ  
yếu là đồi núi,  
nằm sâu trong  
nội địa.

- Khí hậu: mang  
tính lục địa, khô,  
ít mưa.

- Sông ngòi: khu  
vực đầu nguồn  
các con sông  
lớn.

- Địa hình: đồi  
núi thấp.

- Sông ngòi: lưu  
vực các sông  
lớn...

- Địa hình: đồi  
núi thấp.

- Sông ngòi: lưu  
vực các sông  
lớn...

a) Hoàn thành sơ đồ dưới đây:

b) Kết hợp với vốn kiến thức, hãy nêu nguyên nhân dẫn tới sự phân bố dân cư khác nhau ở các khu vực của châu Á.

- Địa hình: Vùng đồng bằng, trung du thuận lợi cho sản xuất nông nghiệp và sinh hoạt, là nơi dân cư tập trung đông đúc.

- Khí hậu:

+ Vùng nhiệt đới giàu nhiệt độ, độ ẩm và ánh sáng; vùng ôn đới khí hậu ôn hòa, dân cư tập trung đông đúc.

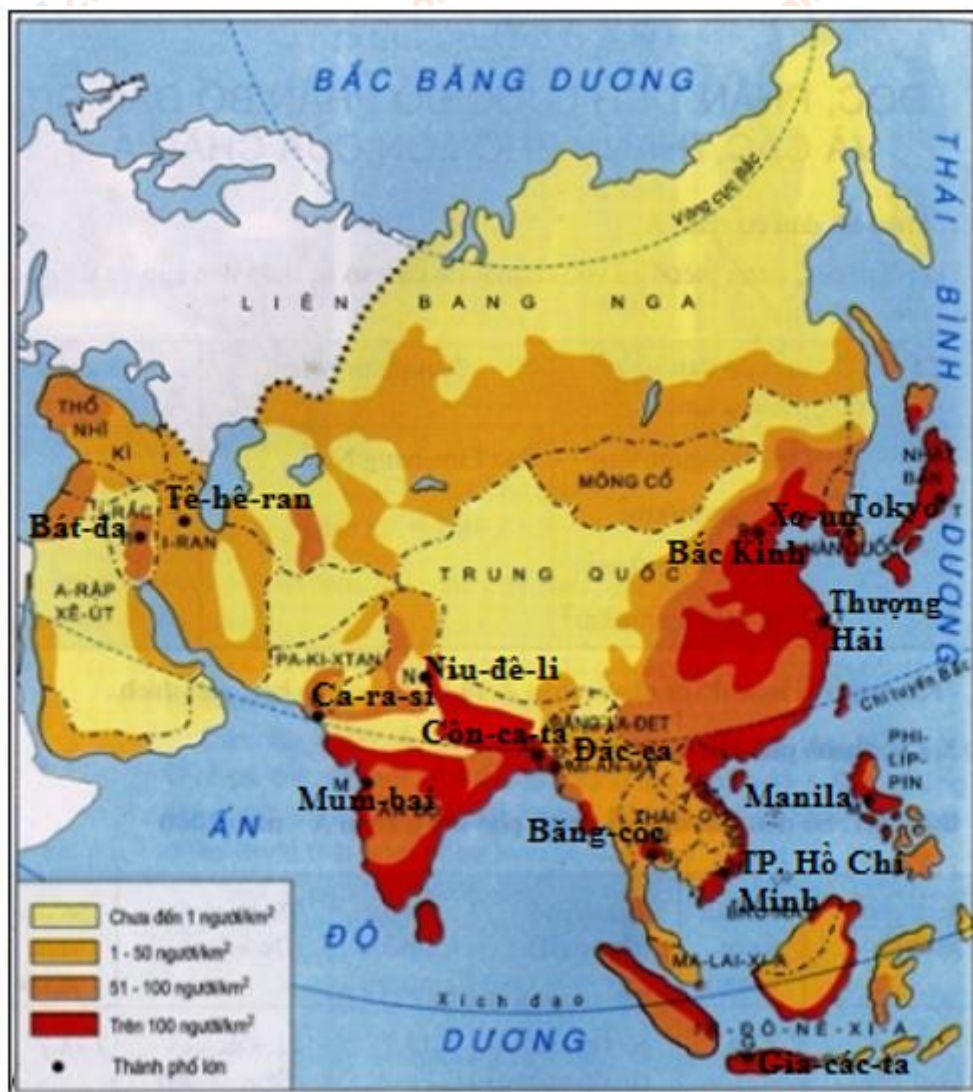
+ Vùng hàn đới: lạnh, băng giá, dân cư thưa thớt.

- Vùng ven sông, ven biển có vị trí thuận lợi cho sự giao lưu là nơi tập trung đông dân cư

Bài 2 trang 17 sách bài tập Địa Lý 8

Dựa vào hình 3 dưới đây:

Lời giải:



Hình 3. Lược đồ các nước châu Á

Em hãy:

- Dùng kí hiệu (\*) để xác định (và biểu hiện) vị trí của 15 thành phố lớn ở châu Á, năm 2000 (theo bảng 6.1, tr 19 SGK).
- Ghi tên các thành phố em vừa thể hiện trên lược đồ.

c) Kết hợp với vốn hiểu biết, nhận xét sự phân bố các thành phố lớn ở châu Á:

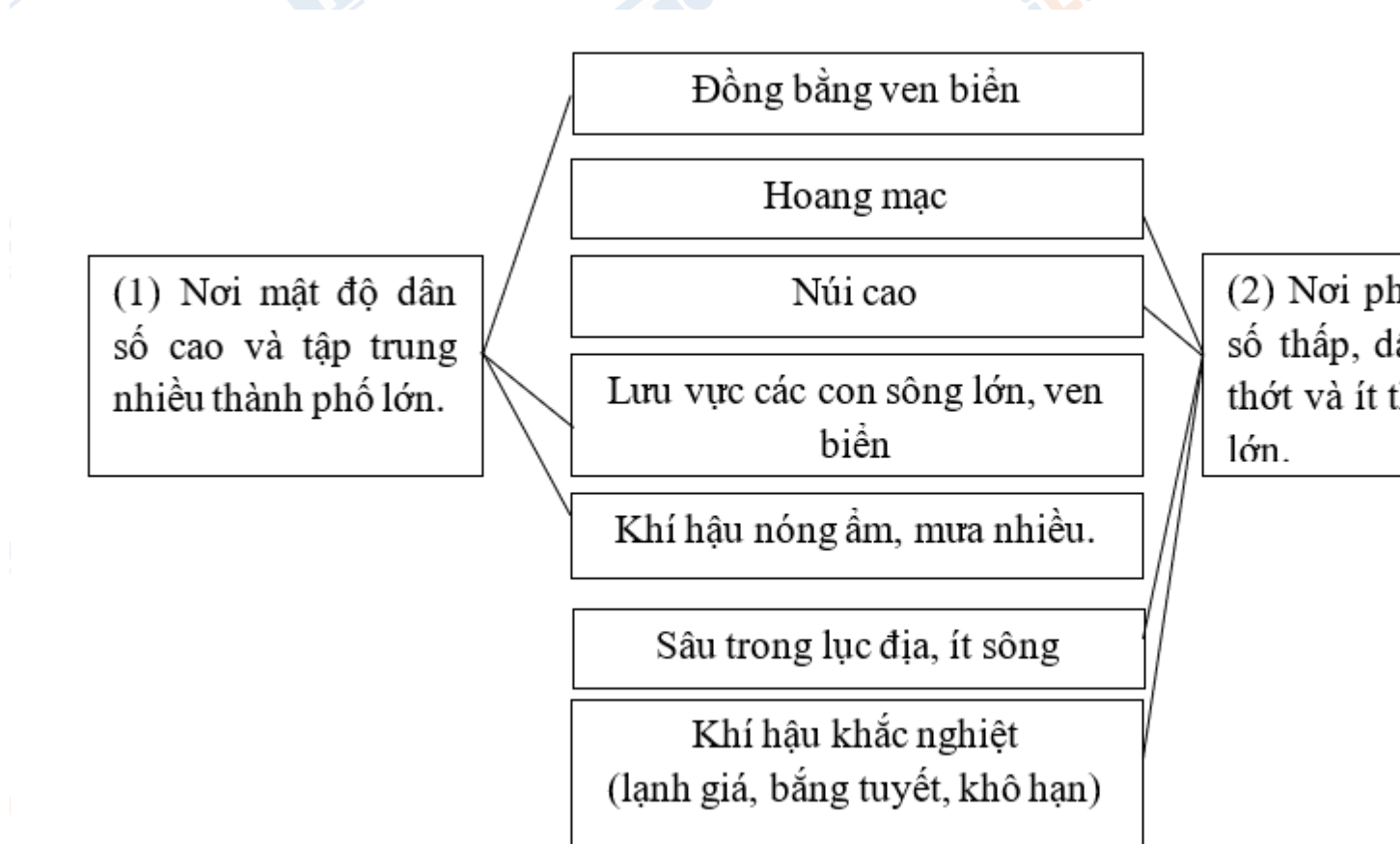
- Các thành phố lớn thường tập trung ở khu vực ven các đại dương lớn (bờ đông Thái Bình Dương), vùng đồng bằng châu thổ: Bắc Kinh, Thượng Hải, Tô-ky-ô, Mum-bai, Gia-cac-ta...

- Nguyên nhân: đây là khu vực có điều kiện tự nhiên và vị trí địa lí thuận lợi cho sinh sống, phát triển giao lưu kinh tế bằng đường sông, đường biển giữa các quốc gia.

Bài 3 trang 18 sách bài tập Địa Lý 8

Giải thích sự phân bố dân cư và các thành phố lớn ở châu Á bằng cách hoàn thành sơ đồ dưới đây:

**Lời giải:**



**CLICK NGAY** vào **TẢI VỀ** dưới đây để download giải bài tập Địa lý **Bài 6: Thực hành: Đọc, phân tích lược đồ phân bố dân cư và các thành phố lớn của châu Á** SBT lớp 8 hay nhất file word, pdf hoàn toàn miễn phí.

