

Mời các bạn cùng tham khảo hướng dẫn giải bài tập SBT Địa lý **Bài 5: Đặc điểm dân cư, xã hội châu Á** lớp 8 được chúng tôi chọn lọc và giới thiệu ngay dưới đây nhằm giúp các em học sinh tiếp thu kiến thức và củng cố bài học của mình trong quá trình học tập môn Địa lý.

Bài 1 trang 13 sách bài tập Địa Lý 8

Dựa vào bảng sau:

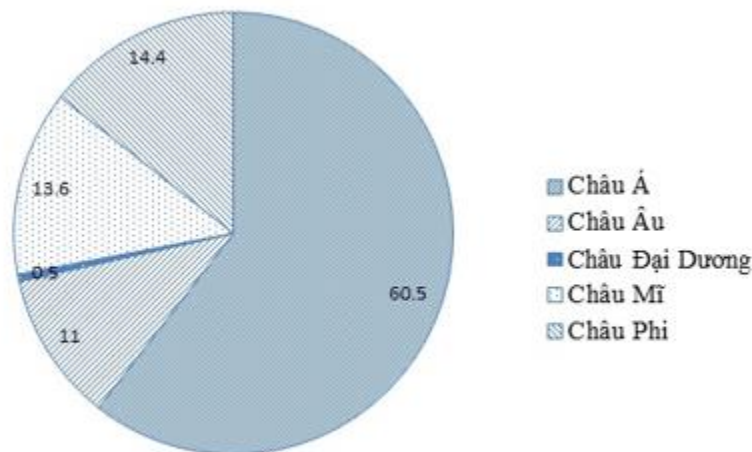
Dân số các châu lục qua một số năm (triệu người)

Năm \ Châu	1950	2000	2002	2008
Á	1402	3683	3766	4052
Âu	547	729	728	736
Đại Dương	13	30,4	32	35
Mĩ	339	829	850	915
Phi	221	784	839	967
Toàn thế giới	2522	6055,5	6215	6705

Em hãy:

a) Vẽ biểu đồ hình tròn biểu diễn tỉ lệ dân số các châu lục, năm 2008 theo gợi ý cụ thể dưới đây:

b) Qua bảng số liệu và biểu đồ trên, nhận xét về sự gia tăng dân số của châu Á, nhận xét về số lượng, ở tỉ lệ dân số châu Á so với các châu lục khác trên toàn thế giới năm 2008.



Biểu đồ thể hiện tỉ lệ dân số các châu lục, năm 2008

b) Qua bảng số liệu và biểu đồ trên, nhận xét về sự gia tăng dân số của châu Á: nhận xét về số lượng, tỉ lệ dân số châu Á so với các châu lục khác trên toàn thế giới năm 2008.

Lời giải:

- Về số lượng:

+ Giai đoạn 1950 -2008, dân số châu Á tăng gấp 2,89 lần, tăng nhanh thứ 2 sau châu Phi (tăng 4,37 lần).

+ Dân số châu Âu tăng chậm nhất, gấp 1,34 lần.

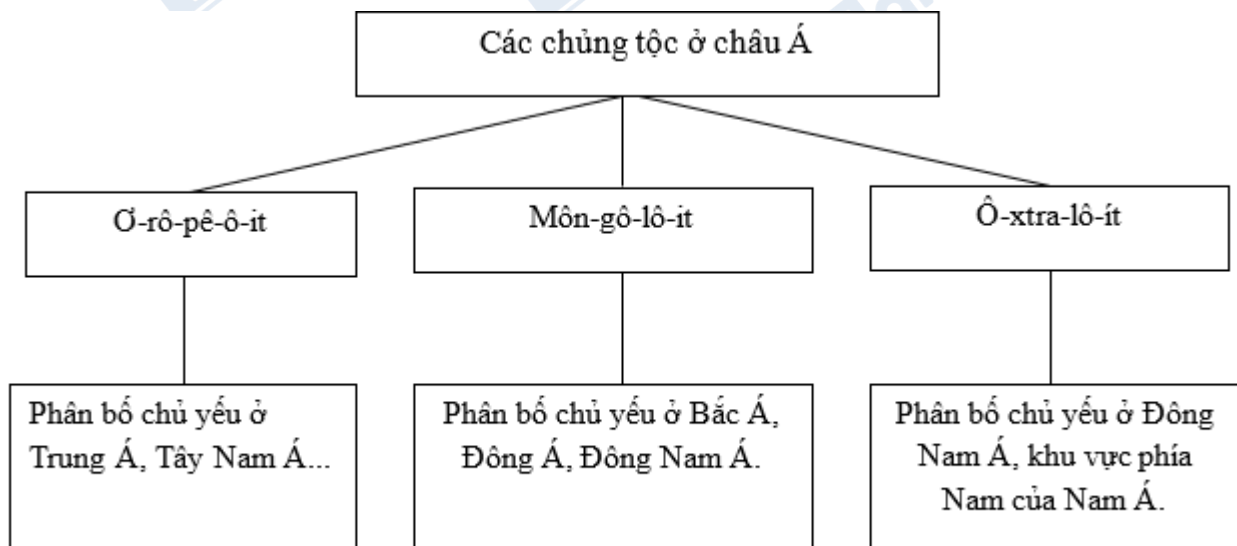
- Về tỉ lệ dân số (năm 2008):

+ Châu Á là châu lục đông dân nhất, chiếm 60,5 % dân số thế giới, gấp 4,2 lần dân số châu Phi (14,4%) và 115,8 lần châu lục có dân số ít nhất là châu Đại Dương (0,5%).

Bài 2 trang 14 sách bài tập Địa Lý 8

Quan sát hình 5.1. Lược đồ phân bố các chủng tộc ở châu Á, tr 17 SGK để hoàn thành sơ đồ dưới đây:

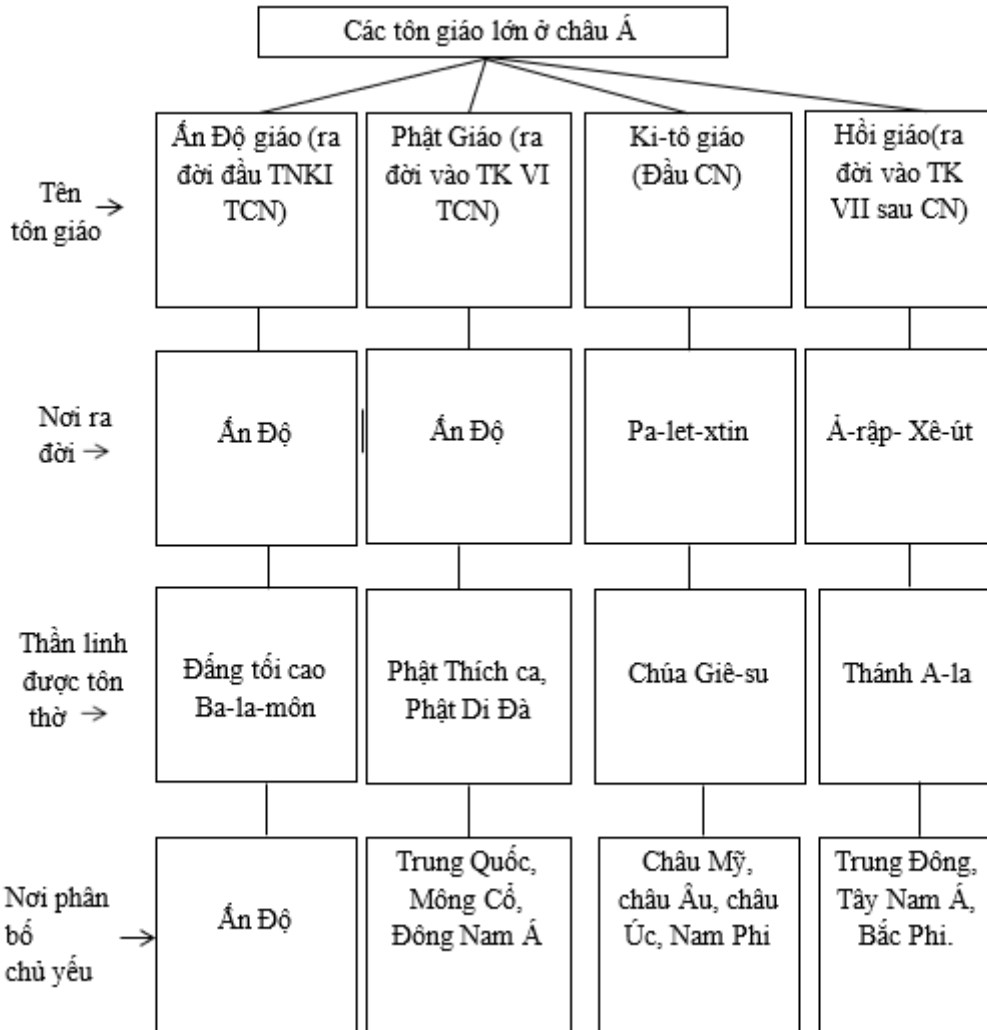
Lời giải:



Bài 3 trang 15 sách bài tập Địa Lý 8

Hoàn thành sơ đồ sau:

Lời giải:



CLICK NGAY vào **TẢI VỀ** dưới đây để download giải bài tập Địa lý **Bài 5: Đặc điểm dân cư, xã hội châu Á** SBT lớp 8 hay nhất file word, pdf hoàn toàn miễn phí.