

Mời các bạn cùng tham khảo hướng dẫn giải bài tập SGK Địa lý **Bài 41: Miền Bắc và Đông Bắc Bắc Bộ** lớp 8 được chúng tôi chọn lọc và giới thiệu ngay dưới đây nhằm giúp các em học sinh tiếp thu kiến thức và củng cố bài học của mình trong quá trình học tập môn Địa lý.

Trả lời câu hỏi SGK Địa lý 8 Bài 41 trang 140, 141, 142

(trang 140 SGK Địa Lí 8): - Dựa vào hình 41.1, xác định vị trí và giới hạn của miền Bắc và Đông Nam Bộ?

Trả lời:

Miền Bắc và Đông Bắc Bộ bao gồm khu vực đồi núi tả ngạn sông Hồng và khu vực đồng bằng Bắc Bộ, nằm sát chí tuyến Bắc, tiếp liền với khu vực á nhiệt đới Hoa Nam (Trung Quốc), tiếp nhận đợt gió mùa đông bắc khô và lạnh.

(trang 140,141 SGK Địa Lí 8): - Hãy xác định trên hình 41.1:

- Các sơn nguyên đá vôi Hà Giang, Cao Bằng.
- Các dãy núi cánh cung sông Gâm, Ngân Sơn, Bắc sơn, Đông Triều.
- Đồng bằng sông Hồng.
- Vùng quần đảo Hạ Long – Quảng Ninh.

Trả lời:

Dựa vào kí hiệu và kênh chữ trên lược đồ để xác định.

(trang 142 SGK Địa Lí 8): - Quan sát hình 41.1 (SGK trang 141) xác định các hệ thống sông lớn và cho biết hướng chảy của chúng?

Trả lời:

- Hệ thống sông Hồng: hướng chảy tây bắc – đông nam.
- Hệ thống sông Thái Bình: hướng chảy vòng cung và tây bắc – đông nam.
- Hệ thống sông Kì cùng – Bằng Giang: hướng chảy tây bắc – đông nam.
- Hệ thống sông duyên hải Quảng Ninh: hướng chảy vòng cung.

(trang 142 SGK Địa Lí 8): - Để phòng chống lũ lụt ở đồng bằng sông Hồng, nhân dân ra đã làm gì? Việc đó đã làm biến đổi địa hình ở đây như thế nào?

Trả lời:

- Các việc làm để phòng chống lũ lụt ở đồng bằng sông Hồng.
 - + Đắp đê dọc theo hai bờ các sông.
 - + Phân lũ vào các sông nhánh (quy sông Đáy), các vùng trũng đã được chuẩn bị trước.
 - + Xây dựng các hồ chứa nước ở thượng lưu sông (hồ Hòa Bình, hồ Thác Bà ...)
 - + Trồng rừng ở đầu nguồn nước.
 - + Nạo vét lòng sông.
- Việc đắp đê lớn dọc các bờ sông ở đồng bằng Bắc Bộ đã phân chia thành bằng nhiều ô trũng, thấp hơn bề mặt đê và nước sông mùa lũ rất nhiều.

Giải bài tập SGK Bài 41 Địa 8 trang 143

Bài 1 (trang 143 SGK Địa Lí 8): Vì sao tính chất nhiệt đới của miền Bắc và Đông Bắc Bộ bị giảm sút mạnh mẽ?

Lời giải:

- Miền Bắc và Đông Bắc Bộ chịu ảnh hưởng trực tiếp của nhiều đợt gió mùa đông bắc lạnh từ phía bắc và trung tâm châu Á tràn xuống.
- Miền Bắc và Đông Bắc Bộ ở vị trí tiếp giáp với vùng ngoại tuyến, a nhiệt đới Hoa Nam.
- Miền Bắc và Đông Bắc Bộ không có địa hình che chắn. Các dãy núi ở đây mở rộng về phía bắc, tạo điều kiện cho các luồng gió đông bắc lạnh dễ dàng lấn sâu vào Bắc Bộ.

Bài 2 (trang 143 SGK Địa Lí 8): 2. Chứng minh rằng miền Bắc và Đông Bắc Bộ có tài nguyên phong phú, đa dạng? Nêu một số việc cần làm để bảo vệ môi trường tự nhiên trong miền?

Lời giải:

- Chứng minh:

+ Là miền giàu khoáng chất so với cả nước, nổi bật là than đá (Quảng Ninh, Thái Nguyên), apatit (Lào Cai), quặng sắt (Thái Nguyên), quặng thiếc và vonfram (Cao Bằng), thủy ngân (Hà Giang); đá vôi, đất sét ... có ở nhiều nơi.

+ Nguồn năng lượng thủy điện giàu nhất nước ta, tập trung chủ yếu ở hệ thống sông Hồng.

+ Có nhiều cảnh quan đẹp nổi tiếng: vịnh Hạ Long, bãi tắm Trà Cổ, núi Mẫu Sơn, hồ Ba Bể, các vườn quốc gia Cúc Phương, Tam Đảo, Ba Vì.

- Một số việc cần làm để bảo vệ môi trường tự nhiên trong miền:

+ Trồng cây bảo vệ rừng, chống xói mòn.

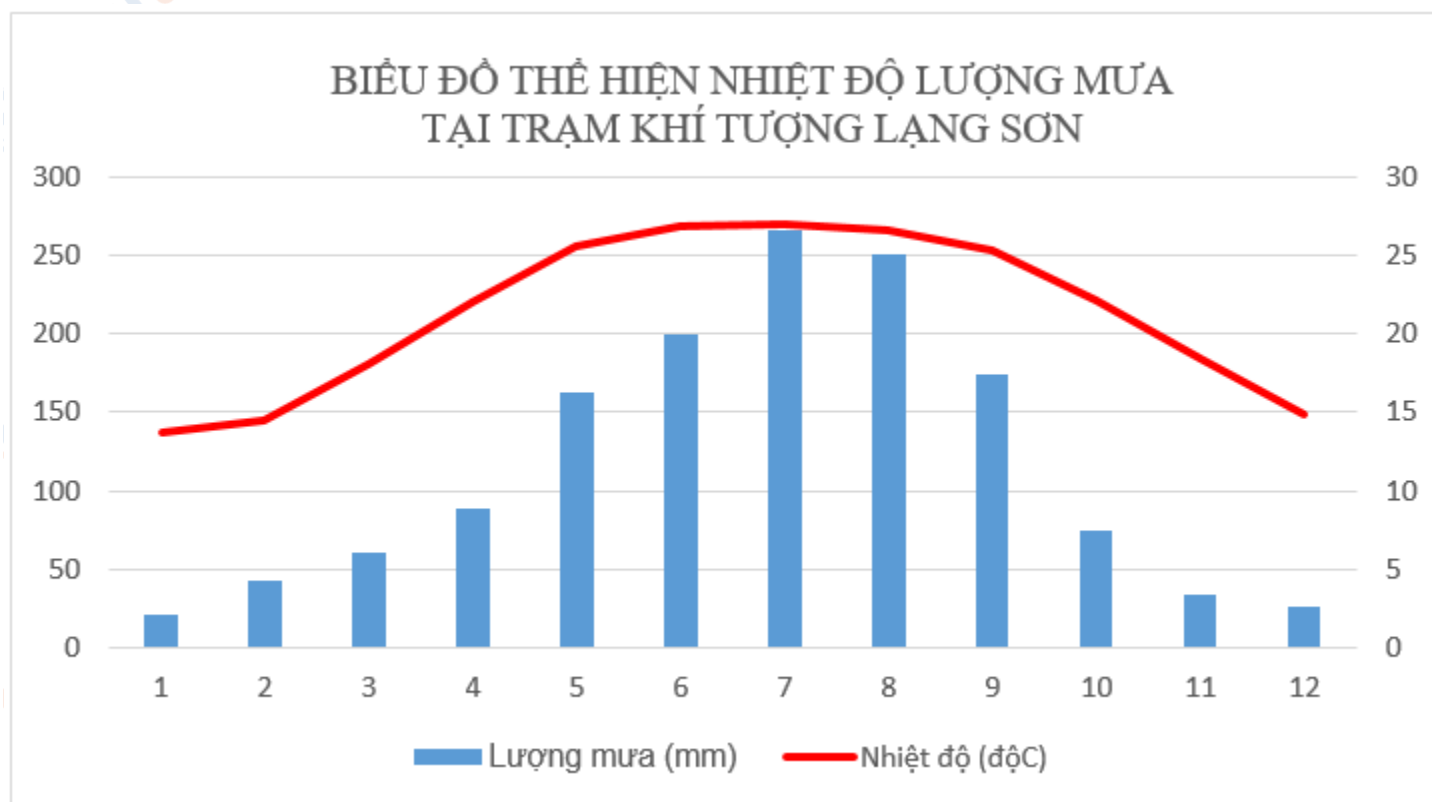
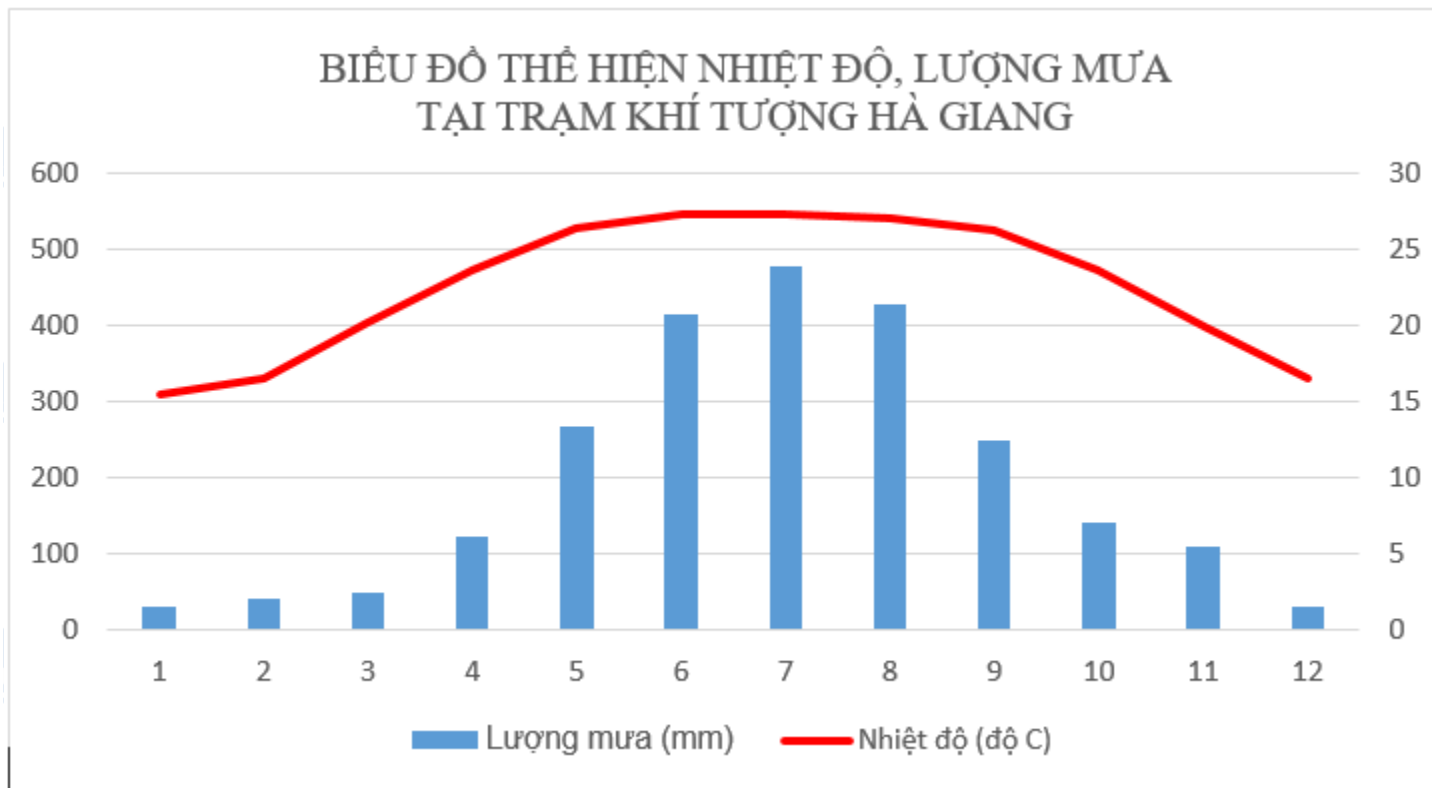
+ Bảo vệ môi trường biển trong lành.

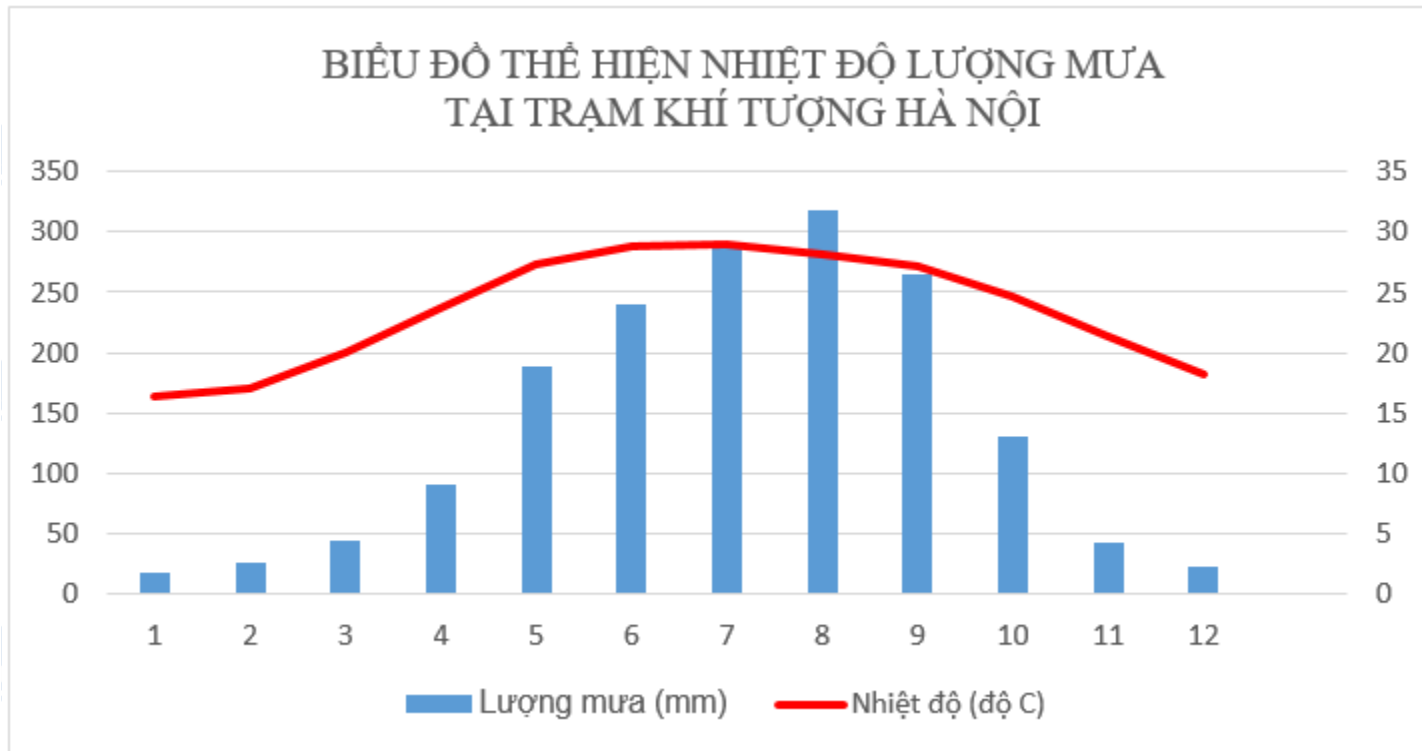
+ Khai thác tài nguyên phải đi đôi với công việc bảo vệ môi trường.

Bài 3 (trang 143 SGK Địa Lí 8): Vẽ biểu đồ khí hậu ba trạm Hà Giang, Hà Nội, Lạng Sơn theo số liệu. Tính nhiệt độ trung bình năm và tổng lượng mưa năm của các trạm đã cho?

Lời giải:

- Vẽ biểu đồ:





Biểu đồ nhiệt độ và lượng mưa của trạm khí tượng Hà Nội.

- Tính nhiệt độ trung bình năm và tổng lượng mưa của các trạm đã cho:

+ Trạm Hà Giang: nhiệt độ trung bình năm là 22,5oC; tổng lượng mưa năm của trạm là 2362mm.

+ Trạm Lạng Sơn: nhiệt độ trung bình năm là 21,3oC; tổng lượng mưa năm của trạm là 1400mm.

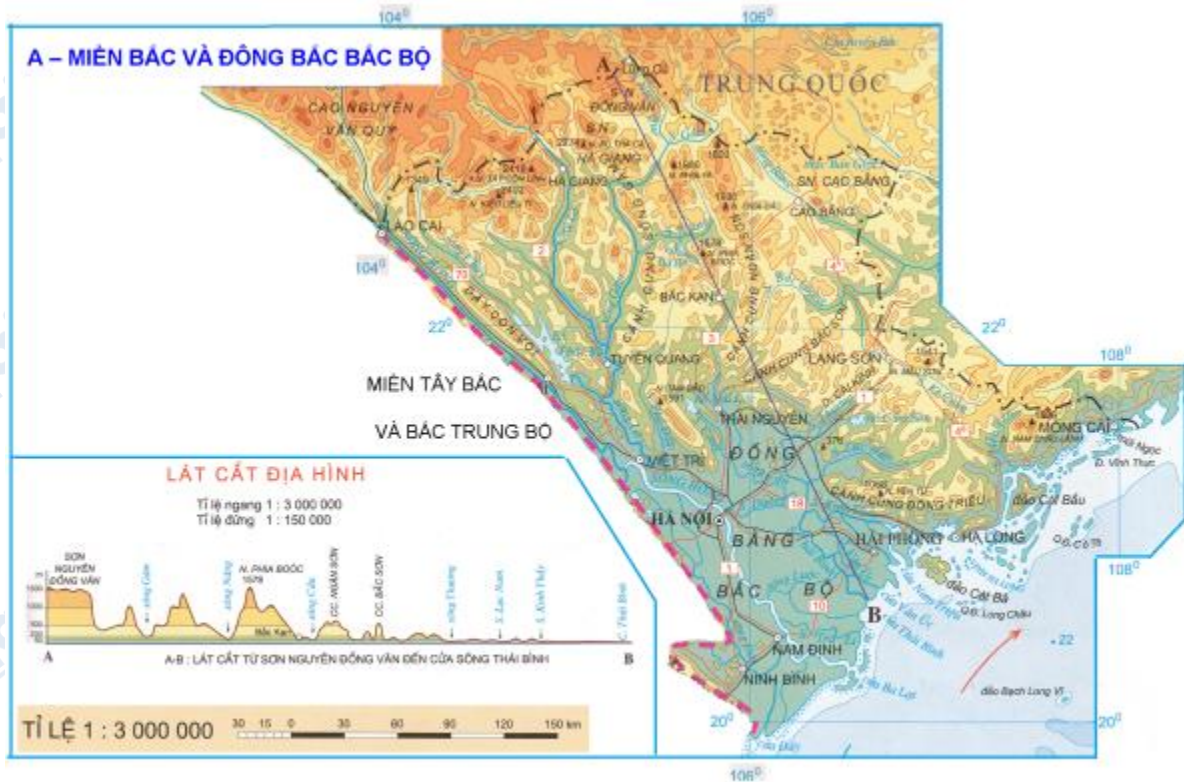
+ Trạm Hà Nội: nhiệt độ trung bình năm là 23,5oC, tổng lượng mưa năm của trạm là 1676mm.

Lý thuyết Địa Lý lớp 8 Bài 41

1. Vị trí và phạm vi lãnh thổ

- Bao gồm khu vực đồi núi tả ngạn sông Hồng và khu đồng bằng Bắc Bộ.

- Miền tiếp giáp với khu vực ngoại chí tuyến và á nhiệt đới Hoa Nam chịu ảnh hưởng mạnh mẽ của gió mùa cực đới giá lạnh.



Miền Bắc và Đông Bắc Bắc Bộ

2. Tính chất nhiệt đới bị giảm sút mạnh mẽ, mùa đông lạnh nhất cả nước

- Vào mùa đông miền chịu ảnh hưởng của gió mùa Đông Bắc làm cho nhiệt độ giảm mạnh.
- Mùa hạ: nóng ẩm mưa nhiều.



Hiện tượng băng giá trên đỉnh Mẫu Sơn

3. Địa hình phần lớn là đồi núi thấp với nhiều cánh cung mở rộng với nhiều cánh cung mở rộng về phía bắc quy tụ tại Tam Đảo

- Địa hình vùng núi đa dạng: địa hình caxto đá vôi; các cánh đồng giữa núi;...
- Cao nhất miền là khu vực thượng nguồn sông Chảy với nhiều ngọn núi trên 2000m.
- Địa hình đồi núi thấp và đồng bằng mở rộng, tạo điều kiện cho hệ thống sông ngòi phát triển và tỏa rộng khắp miền.

4. Tài nguyên phong phú, đa dạng và nhiều cảnh quan đẹp nổi tiếng

- Miền giàu khoáng sản nhất so với cả nước, nổi bật nhất là than đá (Quảng Ninh, Thái Nguyên), apatit (Lào Cai), quặng sắt (Thái Nguyên), thiếc và Vonfram (Cao Bằng), đá vôi đất sét ở nhiều nơi...
- Miền có nhiều cảnh quan đẹp: Vịnh hạ Long, hồ Ba Bể, Tam Đảo, Ba Vì,...



Vịnh Hạ Long-di sản thiên nhiên thế giới



Khu du lịch Ba Vì

CLICK NGAY vào **TẢI VỀ** dưới đây để download giải bài tập Địa lý **Bài 41: Miền Bắc và Đông Bắc Bắc Bộ SGK lớp 8** hay nhất file word, pdf hoàn toàn miễn phí.

