

Mời các bạn cùng tham khảo hướng dẫn giải bài tập SGK Địa lý **Bài 32: Các mùa khí hậu và thời tiết ở nước ta** lớp 8 được chúng tôi chọn lọc và giới thiệu ngay dưới đây nhằm giúp các em học sinh tiếp thu kiến thức và củng cố bài học của mình trong quá trình học tập môn Địa lý.

Trả lời câu hỏi SGK Địa lý 8 Bài 32 trang 114, 115, 116

(trang 114 SGK Địa Lí 8): - So sánh số liệu khí hậu ba trạm Hà Nội, Huế, Tp. Hồ Chí Minh (bảng 31.1) đại diện cho ba miền Bắc Trung, Nam, em hãy cho biết:

- Nhiệt độ tháng thấp nhất của ba trạm.
- Lượng mưa trung bình tháng ít nhất của ba trạm.
- Nêu nhận xét chung về khí hậu nước ta trong mùa đông.

Trả lời:

- Nhiệt độ thấp nhất tháng của ba trạm: trạm Hà Nội, Huế (tháng 1); trạm Tp. Hồ Chí Minh (tháng 12).
- Lượng mưa trung bình tháng ít nhất của ba trạm: trạm Hà Nội (tháng 1), trạm Huế (tháng 3), trạm TP. Hồ Chí Minh (tháng 2).
- Nhận xét chung về khí hậu nước ta trong mùa đông: mùa gió đông bắc tạo nên mùa đông lạnh mưa phùn ở miền Bắc. Còn ở Tây Nguyên và Nam Bộ thời tiết nóng ẩm, ổn định suốt mùa. Riêng duyên hải Trung Bộ có mùa mưa rất lớn vào các tháng cuối năm.

(trang 115 SGK Địa Lí 8): -2. Em hãy nêu nhiệt độ cao nhất của ba trạm khí tượng Hà Nội, Huế, Tp. Hồ Chí Minh (bảng 31.1) và nguyên nhân của những khác biệt đó?

Trả lời:

- Nhiệt độ tháng cao nhất của trạm khí tượng Hà Nội, Huế là tháng 7, trạm Tp. Hồ Chí Minh là tháng 4.
- Nguyên nhân:

Tp. Hồ Chí Minh nằm gần xích đạo, trong năm có hai lần Mặt Trời lên thiên đỉnh thời gian với thời gian cách xa nhau. Tháng 4 ở Tp. Hồ Chí Minh có nhiệt độ cao

nhất độ cao nhất vì lúc đó mặt trời qua thiên đỉnh với thời gian gần nhau. Tháng 7 ở Huế, Hà Nội có nhiệt độ cao nhất vì lúc này có góc chiếu sáng mặt trời lớn.

(trang 115 SGK Địa Lí 8): - Dựa vào bảng 32.1, em hãy cho biết mùa bão nước ta diễn biến như thế nào?

Trả lời:

- Mùa bão nước ta bắt đầu từ tháng 6 và kết thúc vào tháng 11.
- Mùa bão ở nước ta chậm dần từ Bắc vào Nam.

(trang 115 SGK Địa Lí 8): - Những nông sản nhiệt đới nào ở nước ta có giá trị xuất khẩu với số lượng ngày càng lớn trên thị trường?

Trả lời:

Lúa gạo, cà phê, cao su, hồ tiêu, điều...

(trang 116 SGK Địa Lí 8): - Em hãy nêu một số câu ca dao, tục ngữ phản ánh khí hậu- thời tiết nước ta?

Trả lời:

- Én bay thấp, mưa ngập bờ ao, én bay cao, mưa tào lại tạnh.
- Đêm tháng năm chưa nằm đã sáng, ngày tháng mười chưa cười đã tối.

Giải bài tập SGK Bài 32 Địa 8 trang 116

Bài 1 (trang 116 SGK Địa Lí 8): 1. Nước ta có mấy mùa khí hậu? Nêu đặc trưng khí hậu của từng mùa?

Lời giải:

- Nước ta có hai mùa khí hậu: mùa gió đông bắc và mùa gió tây nam.
- Đặc trưng khí hậu của từng mùa:

+ Mùa gió đông bắc từ tháng 11 đến tháng 4 tạo nên mùa hạ nóng ẩm có mưa phùn ở miền Bắc và khô nóng kéo dài ở Miền Nam.

+ Mùa gió tây nam từ tháng 5 đến tháng 10 tạo nên mùa hạ nóng ẩm có mưa to, gió lớn và dông bão, diễn ra phổ biến trên cả nước.

Bài 2 (trang 116 SGK Địa Lí 8): Trong mùa gió đông bắc, thời tiết và khí hậu Bắc Bộ, Trung Bộ và Nam Bộ có giống nhau không? Vì sao?

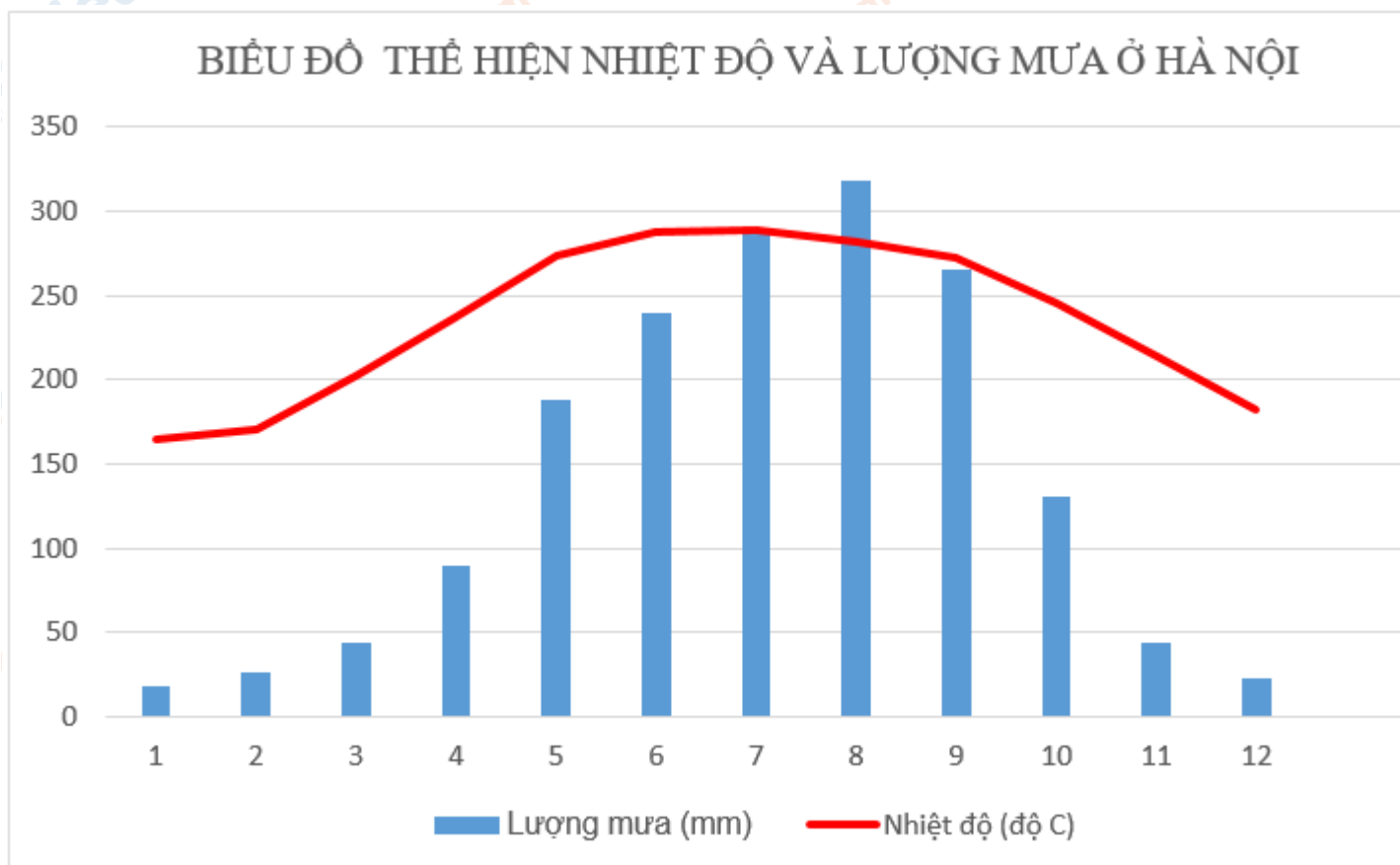
Lời giải:

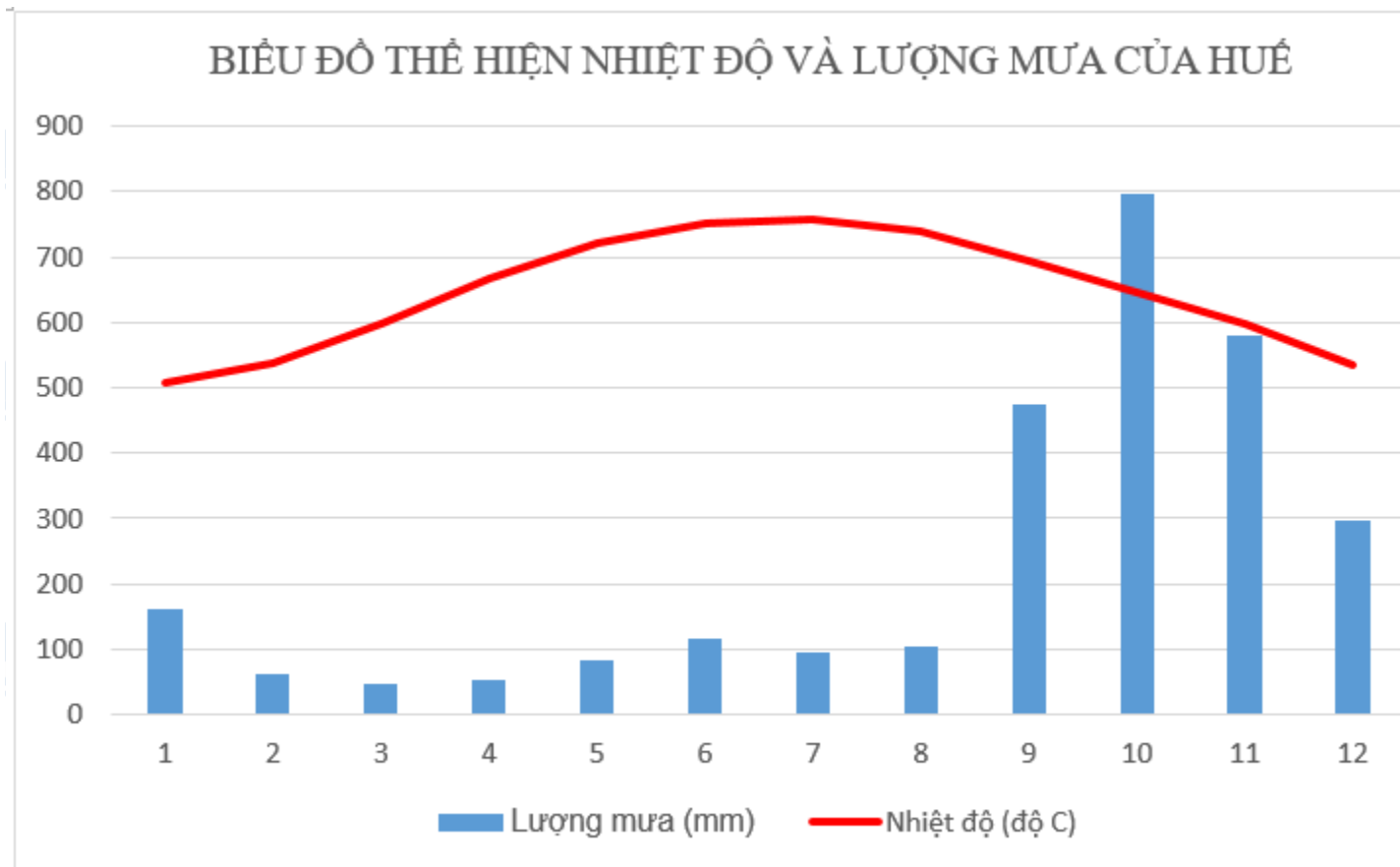
Không giống nhau: miền Bắc chịu ảnh hưởng trực tiếp của mùa đông bắc tạo nên mùa đông lạnh, có mưa phùn. Từ Đà Nẵng trở vào, gió Tín Phong bán cầu Bắc thổi theo hướng đông bắc chiếm ưu thế, gây mưa lớn cho vùng duyên hải Trung Bộ và là nguyên nhân chính tạo nên mùa khô hạn ở Nam Bộ và Tây Nguyên.

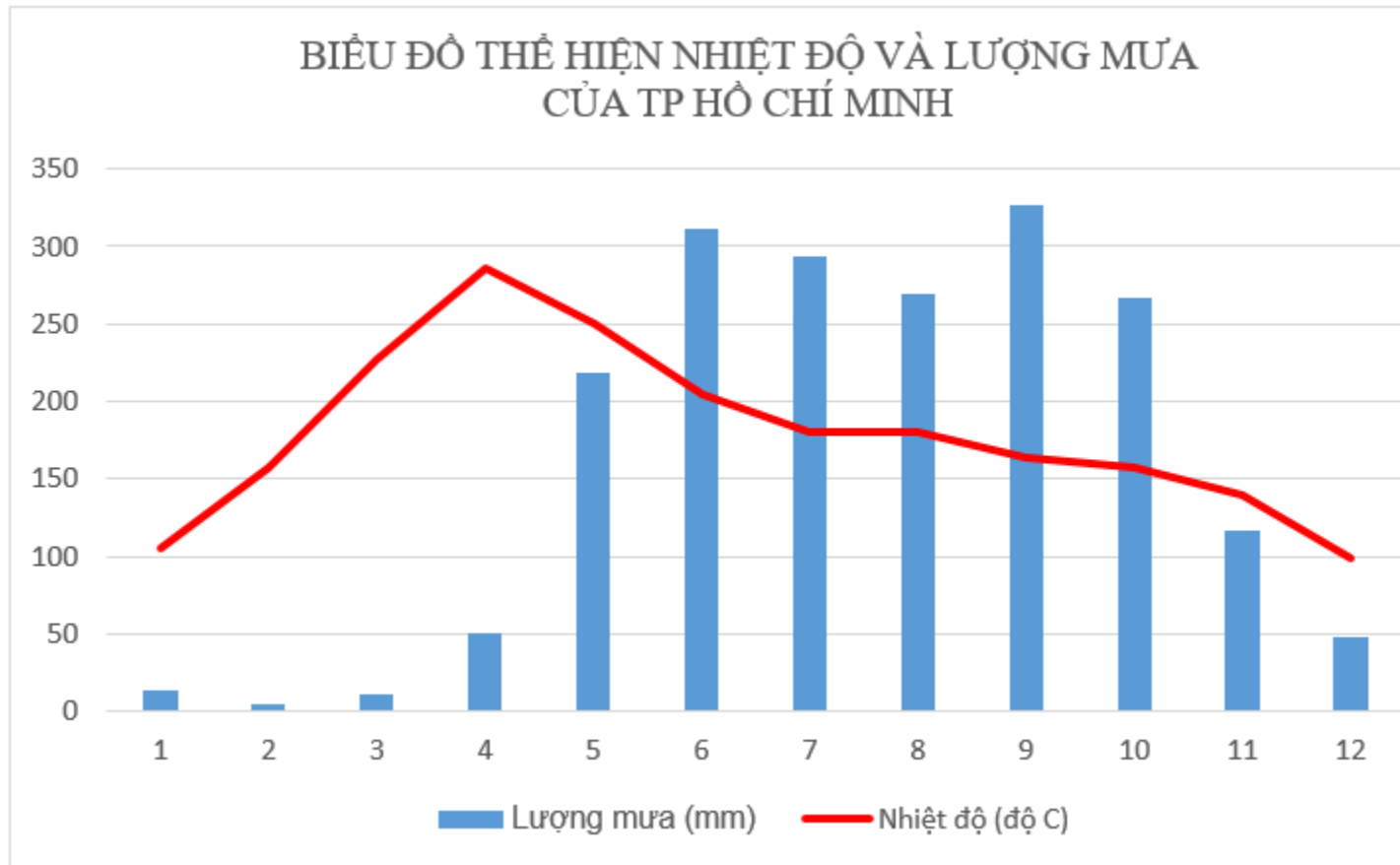
Bài 3 (trang 116 SGK Địa Lí 8): Vẽ biểu đồ nhiệt độ và lượng mưa ở Hà Nội, Huế và Tp. Hồ Chí Minh (theo số liệu bảng 31.1). Nhận xét về sự khác nhau của các trạm khí tượng đó?

Lời giải:

- Vẽ biểu đồ:







- Nhận xét:

+ Trạm Hà Nội: nhiệt độ trung bình năm là 23,5oC; nhiệt độ trung bình tháng cao nhất là 28,9oC (tháng 7); nhiệt độ trung bình tháng thấp nhất là 16,4oC(tháng 1). Tổng lượng mưa của trạm là 1676,2 mm; lượng mưa trung bình tháng cao nhất là 318mm (tháng 8); lượng mưa trung bình tháng thấp nhất là 18,6mm (tháng 1), các tháng mùa mưa: 5, 6, 7, 8, 9, 10.

+ Trạm Huế: nhiệt độ trung bình năm 25,2oC, nhiệt độ trung bình tháng cao nhất là 29,4oC (tháng 7); nhiệt độ trung bình tháng thấp nhất là 20oC (tháng 1). Tổng lượng mưa của trạm 2867,7mm; lượng mưa trung bình tháng cao nhất là 795,6mm (tháng 10), lượng mưa trung bình tháng thấp nhất là 47,1 mm (tháng 3); các tháng mùa mưa: 9, 10,11, 12.

+ Trạm Tp. Hồ Chí Minh: nhiệt độ trung bình năm 27,1oC, nhiệt độ trung bình tháng cao nhất là 28,9oC (tháng 4); nhiệt độ trung bình tháng thấp nhất là 25,7oC (tháng 12). Tổng lượng mưa của trạm là 1931mm, lượng mưa trung bình tháng cao nhất là 327mm (tháng 9); lượng mưa trung bình tháng thấp nhất là 4,1mm (tháng 2); các tháng mùa mưa: 5, 6, 7, 8, 9, 10.

*Lý thuyết Địa Lý lớp 8 Bài 32***1. Mùa gió đông bắc từ tháng 11 đến tháng 4 (mùa đông)**

- Thời gian: từ tháng 11 đến tháng 4
- Gió: gió mùa đông bắc xen kẽ những đợt gió mùa đông nam.
- Phạm vi: từ dãy Bạch mã trở ra bắc.
- Đặc điểm thời tiết:
 - + Đầu mùa: lạnh khô.
 - + Cuối mùa: lạnh ẩm, có mưa phùn.
- Tây Nguyên và Nam bộ có thời tiết nóng khô, ổn định suốt mùa.
- Riêng ở duyên hải Trung Bộ có mưa lớn vào các tháng cuối năm.

2. Mùa gió tây nam từ tháng 5 đến tháng 10 (mùa hạ)



Các mùa gió ở Việt Nam

- Thời gian: từ tháng 5 đến tháng 10.
- Gió: gió thịnh hành trong mùa này có hướng tây nam xen kẽ là gió Tín phong ở nửa cầu bắc thổi theo hướng đông nam.
- Phạm vi: Toàn quốc.
- Đặc điểm thời tiết:
 - + Nhiệt độ cao trên toàn quốc và đạt trên 25°C ở vùng thấp.
 - + Lượng mưa lớn tập trung khoảng 80% lượng mưa của cả nước.
- Vào đầu mùa hạ khu vực Tây Bắc, miền Trung có gió tây khô nóng hoạt động.
- Các kiểu thời tiết đặc biệt trong mùa này là gió tây, mưa gâu và bão,...

3. Những thuận lợi và khó khăn do khí hậu mang lại

a) Thuận lợi

- Thuận lợi cho sinh vật phát triển quanh năm.
- Là cơ sở phát triển nền nông nghiệp nhiệt đới, hình thành các vùng chuyên canh.
- Các hoạt động sản xuất diễn ra quanh năm.

b) Khó khăn

- Nhiều thiên tai: Bão, lũ lụt, hạn hán,...
- Thời tiết diễn biến phức tạp.

CLICK NGAY vào **TẢI VỀ** dưới đây để download giải bài tập Địa lý **Bài 32: Các mùa khí hậu và thời tiết ở nước ta SGK lớp 8** hay nhất file word, pdf hoàn toàn miễn phí.