

Giải bài 1 trang 59 VBT Toán lớp 4 Tập 1**Tính:**

$$\begin{array}{r} \times 13724 \\ \quad 3 \\ \hline \dots\dots\dots \end{array}$$

$$\begin{array}{r} \times 28503 \\ \quad 7 \\ \hline \dots\dots\dots \end{array}$$

$$\begin{array}{r} \times 39405 \\ \quad 6 \\ \hline \dots\dots\dots \end{array}$$

Lời giải:

$$\begin{array}{r} \times 13724 \\ \quad 3 \\ \hline 41172 \end{array}$$

$$\begin{array}{r} \times 28503 \\ \quad 7 \\ \hline 199521 \end{array}$$

$$\begin{array}{r} \times 39405 \\ \quad 6 \\ \hline 236430 \end{array}$$

Giải bài 2 trang 59 VBT Toán lớp 4 Tập 1**Tính:**

a) $9341 \times 3 - 12537$

b) $43415 + 2537 \times 5$

c) $453 \times 7 + 12673$

d) $82375 - 4975 \times 9$

Lời giải:

a) $9341 \times 3 - 12537 = 28023 - 12537$
 $= 15486$

b) $43415 + 2537 \times 5 = 43415 + 12685$
 $= 56100$

c) $453 \times 7 + 12673 = 3171 + 12673$

$$= 15844$$

$$d) 82375 - 49759 = 82375 - 44775$$

$$= 37600$$

Giải bài 3 trang 59 VBT Toán lớp 4 Tập 1

Vẽ tiếp để có:

a) Một hình vuông




b) Một hình chữ nhật




Lời giải:

a) Một hình vuông



b) Một hình chữ nhật

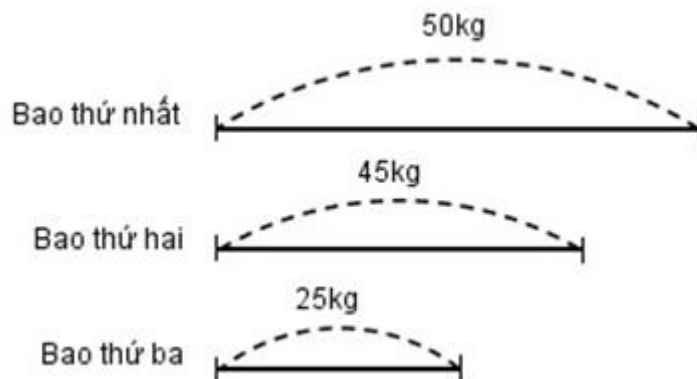


Giải bài 4 trang 59 VBT Toán lớp 4 Tập 1

Có 3 bao gạo. Bao thứ nhất nặng 5 yến, bao thứ hai cân nặng 45 kg, bao thứ ba cân nặng 25 kg.
Hỏi trung bình mỗi bao gạo cân nặng bao nhiêu kg?

Lời giải:

Tóm tắt:



Bài giải:

$$5 \text{ yến} = 50 \text{ kg}$$

Cả 3 bao cân nặng là:

$$50 + 45 + 25 = 120 \text{ (kg)}$$

Trung bình mỗi bao gạo cân nặng là:

$$120 : 3 = 40 \text{ (kg)}$$

Đáp số : 40 kg