

Giải bài 1 trang 54 VBT Toán lớp 4 Tập 1

- a) Vẽ hình vuông ABCD có cạnh 4 cm.
b) Tính chu vi hình vuông ABCD


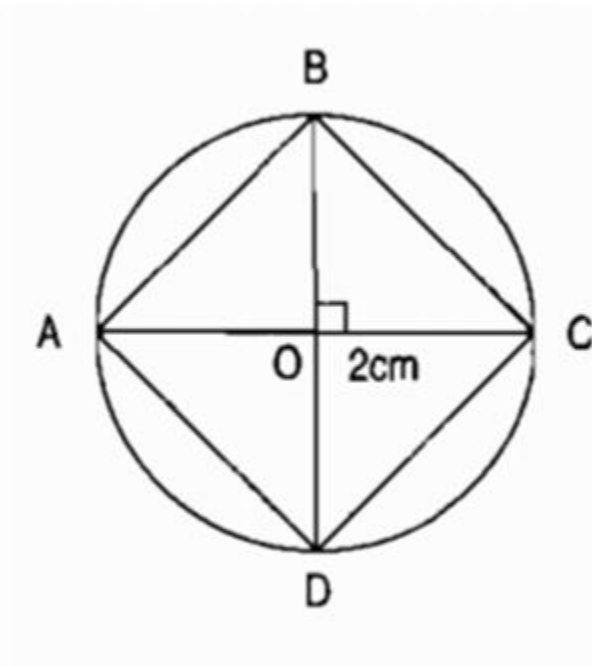
Lời giải:

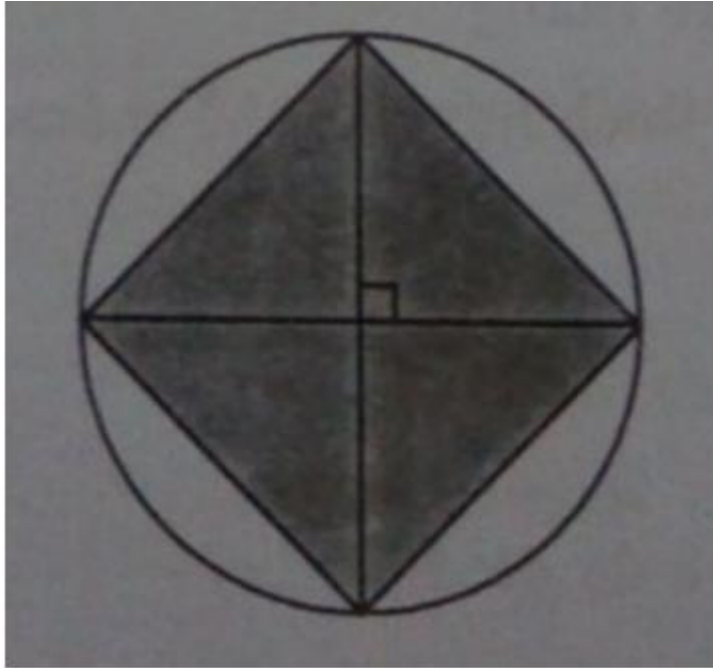
Chu vi hình vuông ABCD là:

$$BC \times 4 = 4 \times 4 = 16$$

Giải bài 2 trang 54 VBT Toán lớp 4 Tập 1

Vẽ theo mẫu và tô màu hình vuông:

**Lời giải:**



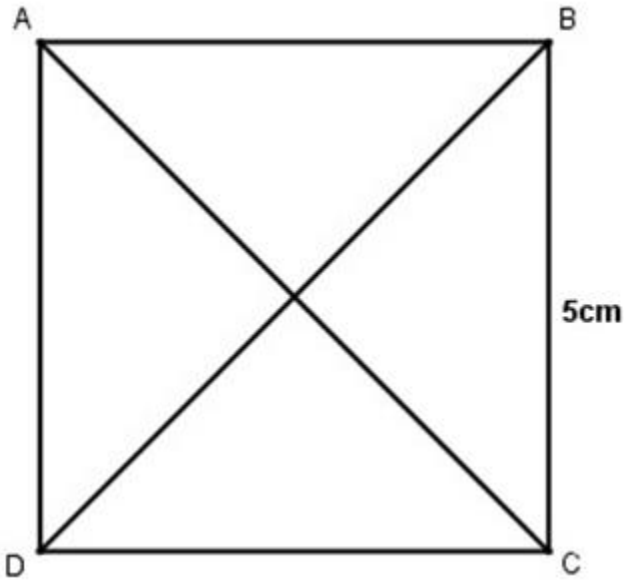
Giải bài 3 trang 54 VBT Toán lớp 4 Tập 1

- a) Vẽ hình vuông ABCD có cạnh 5cm. Nối đỉnh A với đỉnh C, đỉnh B với đỉnh D.
 b) Kiểm tra rồi viết (Đ) đúng, (S) sai vào ô trống

- Hai đường chéo AC và BD vuông góc với nhau	Đ
- Hai đường chéo AC và BD không vuông góc với nhau	S
- Hai đường chéo AC và BD bằng nhau	Đ
- Hai đường chéo AC và BD không bằng nhau	S

Lời giải:

- a) Vẽ hình vuông ABCD có cạnh 5cm. Nối đỉnh A với đỉnh C, đỉnh B với đỉnh D.



b) Kiểm tra rồi viết (Đ) đúng, (S) sai vào ô trống

- Hai đường chéo AC và BD vuông góc với nhau	Đ
- Hai đường chéo AC và BD không vuông góc với nhau	S
- Hai đường chéo AC và BD bằng nhau	Đ
- Hai đường chéo AC và BD không bằng nhau	S